

# BAHASA INDONESIA

## Sekolah Menengah Pertama

1. **Bacalah paragraf berikut!**

Dalam kehidupan sehari-hari bergantung pada sarana komunikasi. Kegiatan apapun yang dilakukan manusia pasti menggunakan sarana komunikasi. Sarana komunikasi yang digunakan manusia ada yang sederhana maupun yang modern. Kebudayaan manusia tidak bisa maju seperti sekarang ini tanpa adanya sarana komunikasi.

Gagasan utama paragraf tersebut adalah ....

- A. ketergantungan manusia pada sarana komunikasi
- B. sarana komunikasi untuk manusia
- C. sarana komunikasi bagi pertukaran kebudayaan
- D. meningkatkan sarana komunikasi modern

**Bacalah kutipan berikut, kemudian kerjakan soal nomor 2 dan 3!**

**Teks berita 1**

Selasa, (26/10) hujan deras mengakibatkan sejumlah perumahan di Kota Tangerang terendam banjir. Banjir itu ketinggiannya bervariasi, mulai 20 cm hingga 1,5 meter. Jalan Raya Hasyim Ashari, Ciledug yang merupakan jalan penghubung Tangerang dengan Jakarta, akibat banjir terputus sejak dini hari kemarin.

**Teks berita 2**

Banjir selain memutuskan arus transportasi juga merendam ratusan rumah di Kompleks Ciledug Indah I dan Ciledug Indah II. Sejak semalam, turun hujan mengakibatkan Kali Angke meluap. Air luapan itu kemudian menyebabkan banjir di Ciledug, Tangerang.

2. Kesamaan informasi teks berita tersebut adalah ....

- A. waktu banjir
- B. korban banjir
- C. wilayah banjir
- D. penyebab banjir

3. Perbedaan penyajian kutipan kedua berita tersebut adalah ....

- A. teks berita I diawali dengan *kapan* teks berita II diawali *apa*
- B. teks berita I diawali dengan *apa* teks berita II diawali *bagaimana*
- C. teks berita I diawali dengan *bagaimana* teks berita diawali *di mana*
- D. teks berita I diawali dengan *di mana* teks berita diawali *mengapa*

**Bacalah paragraf berikut dengan saksama, kemudian kerjakan soal nomor 4 dan 5!**

B.J. Habibie, lahir tanggal 25 Juni 1936 di Pare-Pare, Sulawesi Selatan. Kegiatannya mengerjakan sesuatu dan gemar membaca. Habibie dan putra-putra Indonesia yang bekerja di Industri Pesawat Terbang Nusantara (IPTN) menciptakan CN-235 dan N-250. B.J Habibie antara lain mendapat kehormatan dari Lembaga Penerbangan Angkasa Luar, Jerman Barat tahun 1983.

4. Keistimewaan tokoh sesuai dengan isi biografi tersebut adalah ....

- A. pencipta pesawat terbang CN-235 dan N-250
- B. bekerja di Industri Pesawat Terbang Nusantara (IPTN)
- C. pegawai Lembaga Penerbangan dan Angkasa Luar, Jerman Barat
- D. terlahir di Pare-Pare, Sulawesi Selatan

5. Sifat yang baik untuk diteladani dari tokoh tersebut adalah ....
- mengerjakan sesuatu bersama-sama dan gemar menulis
  - mengerjakan sesuatu dan gemar membaca
  - tidak berbuat apa-apa tetapi gemar berbicara
  - gemar berbicara dan mengerjakan sesuatu dengan teman

6. **Perhatikan iklan berikut!**

(1) Salah satu sumber belajar adalah Buku Sekolah Elektronik (BSE) yang telah mendapat rekomendasi dari Badan Standar Nasional Pendidikan (BSNP). (2) Cara mudah dan murah untuk mendapatkannya adalah bahwa Anda bisa mengunduh di salah satu *web* dengan membuka *google* lalu ketik Buku Siswa Elektronik. (3) Pilih buku yang Anda inginkan. (4) Anda tidak perlu mengeluarkan banyak uang, cukup *download* dan *print*, selesai.

Kalimat fakta pada iklan tersebut ditandai nomor ....

- (1)
- (2)
- (3)
- (4)

7. **Perhatikan iklan berikut!**

Hemat listrik perilaku bijak! (1)  
 Matikan lampu di siang hari! (2)  
 Nyalakan lampu seperlunya! (3)  
 Gunakan listrik dengan hemat (4)

Maksud isi kalimat (3) dari iklan tersebut adalah ....

- diajak menggunakan listrik dengan bijak
- dianjurkan menyalakan lampu yang diperlukan saja
- dianjurkan lampu hanya dihidupkan pada malam hari
- dianjurkan selalu berusaha menghemat pemakaian listrik

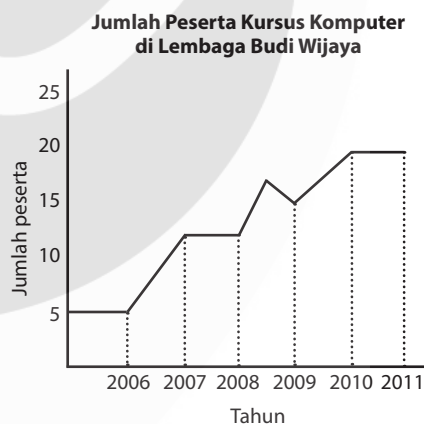
8. **Bacalah paragraf berikut!**

Keluarga menjadi wahana utama pewarisan peradaban dan budaya. Dalam keluarga dibentuk dan dipraktikkan nilai dasar hubungan antarmanusia. Selain itu juga di keluarga dipraktikkan kesalingpahaman hak dan kewajiban sebagai anggota kelompok. Dengan demikian, keluarga bukan hanya objek, tetapi mitra atau subjek program pembangunan bangsa.

Simpulan isi paragraf tersebut adalah ....

- keluarga merupakan tempat utama mewariskan adab dan budaya
- keluarga menanamkan nilai dasar hubungan antarmanusia
- keluarga kurang berperan bagi pembangunan bangsa
- manusia sebagai anggota keluarga wajib membangun bangsa

9. **Perhatikan grafik berikut!**



Penjelasan isi grafik tersebut adalah ....

- jumlah peserta pada tahun 2009 – 2010 turun
- jumlah peserta pada tahun 2006 – 2007 naik
- jumlah peserta pada tahun 2007 – 2008 turun
- jumlah peserta pada tahun 2008 – 2009 tetap

10. Perhatikan tabel berikut!

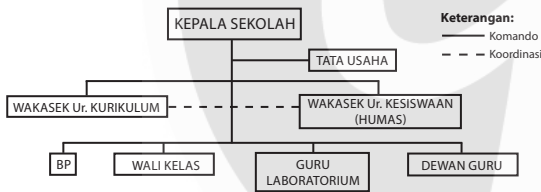
**Harga Minyak Goreng**

Tanggal	Harga per Liter
25 Juli 2011	Rp10.000
27 Agustus 2011	Rp11.000
29 Agustus 2011	Rp11.500
30 Oktober 2011	Rp12.000

Simpulan isi tabel tersebut adalah ....

- A. pada bulan Agustus harga minyak goreng tidak mengalami kenaikan
- B. dari bulan Juli sampai dengan Oktober 2011 harga minyak goreng naik
- C. pada bulan September 2011 harga minyak goreng tetap
- D. bulan Oktober 2011 harga minyak sangat stabil

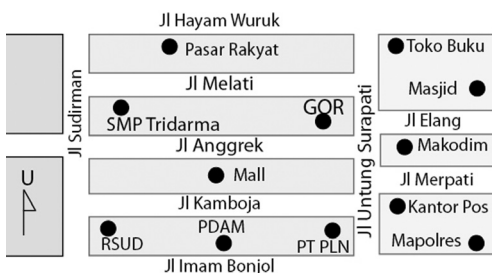
11. Perhatikan bagan berikut!



Pernyataan yang sesuai dengan isi bagan tersebut adalah ....

- A. Wakasek Ur. Kurikulum dan Wakasek Ur. Kesiswaan (Humas) saling berkoordinasi
- B. Kepala Sekolah hanya membawahi Tata Usaha, Wakasek Ur. Kurikulum dan Wakasek Ur. Kesiswaan
- C. dalam melaksanakan tugas, antardewan tidak perlu berkoordinasi
- D. dalam melaksanakan kegiatan, dewan berkoordinasi dengan Tata Usaha

12. Perhatikan denah berikut!



Jalan paling dekat dilalui karyawan dari RSUD yang akan ke masjid adalah ....

- A. dari RSUD menuju Jalan Anggrek menyeberang ke Jalan Melati berbelok ke Jalan Kamboja
- B. dari RSUD menuju Jalan Imam Bonjol berbelok ke Jalan Sudirman dan menuju masjid
- C. dari RSUD menuju Jalan Sudirman dilanjutkan ke Jalan Imam Bonjol dan Jalan Anggrek
- D. dari RSUD menuju Jalan Kamboja, melalui Jalan Untung Serapati, dan berbelok ke Jalan Elang

**Bacalah kutipan puisi berikut dengan saksama, kemudian kerjakan soal nomor 13 dan 14!**

- (1) Dalam terik matahari esok hari
- (2) Ku masih terduduk di sini
- (3) Bak seenggok sampah
- (4) Tertiup angin kemarau yang membakar jiwa
- (5) Tergores luka hingga berdarah-darah
- (6) Ingin ku menjerit sekuat tenaga
- (7) Namun mulut terbekap oleh pisau kedudukan

13. Tema puisi tersebut adalah ....

- A. kesanggupan menahan angin
- B. kepasrahan menjalani kehidupan
- C. keperkasaan menantang bahaya
- D. kesepian menghalau kedudukan

14. Larik bermajas pada puisi tersebut adalah ....

- A. (1) dan (2)
- B. (2) dan (5)
- C. (3) dan (4)
- D. (5) dan (6)

15. Bacalah kedua kutipan puisi berikut!

Puisi I	Puisi II
Hutan Hijau subur Menyelimuti gunung dan bukit Sumber kehidupan	Hutanku tak hijau lagi Gundul, gersang kerontang Tangan-tangan tuan menebang Meski dilarang

Perbedaan pesan kedua puisi di atas adalah ....

	Puisi I	Puisi II
A.	Tebangi hutan!	Jangan menghijaukan hutan!
B.	Gunduli hutan!	Cegah penghijauan hutan!
C.	Telantarkan hutan!	Cegah pelestarian hutan!
D.	Peliharalah hutan!	Jangan rusak hutan!

**Bacalah kutipan cerpen berikut dengan saksama, kemudian kerjakan soal nomor 16 s.d. 18!**

- (1) "Bagaimana kalau aku yang membawakan tamu, Dik?" tanyaku kepada Sutiono.
  - (2) "Terima kasih, Mas! Lebih baik Mas yang membantu nenek, saya naik duluan dengan tas dan kardus ini," jawabnya cepat.
  - (3) "Baik," jawabku sambil mendekati nenek itu. Aku belum sempat bertanya lagi, tiba tiba terdengar lokomotif yang membawa gerbongku tiba.
  - (4) "Gerbong pertama, Dik!" teriakku kepada Sutiono yang berjalan cepat.
16. Latar tempat pada kutipan cerpen tersebut adalah ....
- A. stasiun kereta api
  - B. terminal bus
  - C. bandara pesawat terbang
  - D. pelabuhan kapal laut
17. Bukti kalau tokoh "aku" suka menolong terdapat pada kalimat nomor ....
- A. (4)
  - B. (3)
  - C. (2)
  - D. (1)
18. Watak tokoh aku digambarkan melalui ....
- A. penjelasan langsung oleh penulis
  - B. dialog dengan tokoh lain
  - C. pelukisan tindakan
  - D. diceritakan tokoh lain

**19. Bacalah kutipan cerita berikut!**

Doni mengamati mereka bermain dengan hampir tidak bersuara. Setelah permainan akan berakhir Pak Muin menanyakan, "Yang ini bagaimana?" Dengan suara hampir tak keluar, Midun menjawab, "Itu kuda jalannya el." Setelah Midun selesai menggerakkan caturnya Pak Muin bertanya lagi, "Yang ini?" "I... itu skak." Suara Midun meninggi akhirnya. "Alamak, saya kalah," kata Midun, sambil mengemas caturnya lalu memasukkannya ke kotaknya. "Itulah kamu, jangan berlagak," kata Doni. Dia tahun lalu juara catur di kecamatan.

Amanat cerita tersebut adalah ....

- A. jangan melawan orang tua kalau main catur
- B. jangan mengajak orang tua main catur
- C. jangan lengah kalau melawan orang tua
- D. jangan meremehkan orang

**20. Bacalah kutipan cerita berikut!**

Ia bercita-cita menjadi dokter. Karena itu matematika dan IPA selalu ditekuninya. Untuk dua pelajaran ini nilainya selalu di atas rata-rata. Di sisi lain selalu terngiang di telinganya anjuran bapaknya, "Arman, nanti kamu jadi guru saja, mendidik anak-anak di kampung yang masih banyak kekurangan guru yang bermutu."

Hari-harinya dilalui dengan kebimbangan. Apakah ia mau mengikuti anjuran bapaknya atau membulatkan tekadnya menjadi dokter.

Konflik yang terdapat dalam cerita tersebut adalah ....

- A. tokoh seorang anak yang cerdas
- B. menjadi guru di sebuah kampung
- C. tokoh bercita-cita menjadi dokter
- D. pergolakan batin tokoh

21. Bacalah kedua kutipan novel berikut!

Novel I	Novel II
<p>Penduduk di kampung Ulak Karang di daerah Padang mempunyai mata pencaharian berkebun kelapa dan menangkap ikan. Salah seorang di antara penduduk itu terdapat laki-laki yang tubuhnya pendek. Hidung pesek, mata sipit. Kepalanya besar lehernya pendek. Tulangrahangnya menjulur keluar pada mukanya yang lebar. Usianya kira-kira 45 tahun tubuhnya yang demikian itu sering orang menyebutnya si Cebol. Gayanya sebagai Mak Cik. Si Cebol mempunyai anak gadis cukup cantik Patimah namanya.</p>	<p>Suria adalah seorang penyanyi yang menjabat sebagai Menteri di Kota Sumedang. Sewaktu kecil ia sangat dimanja oleh Haji Zakaria, ayahnya. Itu sebabnya sifat dan tabiatnya selalu tinggi hati, dan menganggap rendah orang lain. Setelah ia menikah dengan Zubaedah, anak tunggal dari Haji Hasbullah yang kaya raya tiada juga sifatnya berubah.</p>

Perbedaan karakteristik kedua kutipan novel tersebut adalah ....

- novel I menggunakan alur maju  
novel II menggunakan alur mundur
- novel I kuat menggambarkan fisik  
novel II menggambarkan sifat
- novel I sudut pandang orang pertama  
novel II sudut pandang orang ketiga
- novel I watak tokoh diuraikan dari orang lain  
novel II watak tokoh diuraikan oleh pengarangnya

**Bacalah kutipan naskah drama berikut dengan saksama, kemudian kerjakan soal nomor 22 dan 23!**

*Duduk berdampingan di warung dekat halte bus.*

Rudi : "Dia memerlukan kamu."

Rano: "Tapi lebih bahagia berada di dekatmu."  
*(kemudian minum es kelapa muda)*

Rudi : "Itu hanya tampaknya. Hanya seolah-olah."

*(menggigit pisang gorengan)*

Rano: "Mungkin dia menginginkan kita berdua."

Rudi : "Tidak! Aku rela, tetapi jangan sekali-kali kau tinggalkan dia."  
*(berdiri membayar es kelapa muda dan pisang goreng)*

*Keduanya saling pandang lalu tertawa dan meninggalkan tempat itu.*

22. Suasana yang tergambar pada kutipan tersebut adalah ....

- sedih
- haru
- tegang
- akrab

23. Latar tempat kutipan naskah drama tersebut adalah ....

- restoran
- rumah makan
- warung jalanan
- kafe di supermarket

24. Perhatikan ilustrasi berikut!

Jumat pagi, Pak Rino baru saja membagikan hasil ulangan harian pelajaran bahasa Indonesia. Nadya yang sudah belajar sungguh-sungguh mendapat nilai yang sempurna. Akan tetapi, Lusi sahabatnya malah sebaliknya. Lusi kelihatannya sangat kecewa. Melihat hal itu, Nadya berusaha menghibur dan kelihatannya berhasil.

Penulisan catatan harian Nadya sesuai dengan ilustrasi tersebut adalah ....

- Hari ini, aku senang sekali karena nilai ulangan bahasa Indonesiaku bagus. Lusi, sahabatku mendapat nilai buruk. Aku berusaha menghiburnya. Untungnya dia mau mendengarku.
- Aku mendapatkan nilai ulangan yang bagus sekali hari ini. Aku telah belajar habis-habisan malam sebelumnya. Pak Rino dan Lusi, temanku sangat bangga karenanya.
- Pak Rino, guru bahasa Indonesiaku sangat bangga, karena aku mendapatkan nilai yang sempurna. Aku sangat senang. Lusi, sahabatku langsung memberiku ucapan selamat dan memberi semangat kepadaku.

- D. Lusi, sahabatku, langsung marah-marah kepadaku saat aku menerima hasil ulangan hari ini. Ia kesal karena nilainya tidak berbeda jauh dariku. Ia kurang puas dengan penilaian dari Pak Rino, guru kami.

25. **Bacalah ilustrasi berikut!**

Hari itu, ayahmu akan pergi ke Manado. Ketika itu seluruh anggota keluarga tidak ada di rumah. Ibu sedang di pasar, sedangkan anak-anak masih di sekolah. Ayahmu menitipkan kunci rumah kepada tetangga. Sesuai kebiasaan keluarga, jika salah satu anggota keluarga pergi dan tidak ada yang menunggu rumah, mereka cukup menulis pesan.

Isi pesan singkat sesuai ilustrasi tersebut adalah ....

- A. Ayah berangkat ke Manado, kunci rumah akan ayah titipkan.  
B. Kunci rumah ayah titipkan ke tetangga, jika ayah berangkat ke Manado.  
C. Ayah mau berangkat, ibu tidak ada di rumah, kunci rumah ayah titip kepada tetangga anak.  
D. Ayah ke Manado, tidak ada orang di rumah, kunci rumah ayah titipkan kepada tetangga.
26. **Perhatikan kalimat-kalimat berikut!**
- (1) Kota Yogyakarta ini terletak di selatan Pulau Jawa.  
(2) Liburan telah tiba, saatnya mengistirahatkan fisik dan batin dengan berwisata.  
(3) Tempat ini menjadi tujuan wisata favorit pada pencari pernak pernik dan kuliner.  
(4) Selain pusat wisatanya kota ini juga terkenal dengan sebutan kota pelajar.  
(5) Yogyakarta adalah kota tujuan wisata yang cocok saat ini.

Kalimat-kalimat tersebut dapat disusun menjadi paragraf padu dengan susunan ....

- A. (2), (5), (3), (1), (4)  
B. (2), (1), (4), (3), (5)  
C. (1), (2), (3), (4), (5)  
D. (5), (4), (2), (1), (3)

27. **Bacalah ilustrasi berikut!**

Wakil kepala sekolah bagian kesiswaan mengatakan, selesai Ujian Nasional siswa-siswi kelas IX akan berkreasi ke Teluk Mak Jantuk/Sintak Island. Siswa yang berminat supaya mengisi formulir yang ada pada wali kelas masing-masing. Setelah diisi, formulir diserahkan kepada Pak Mansyur beserta biaya sebesar Rp60.000 paling lambat tanggal 3 April 2011.

Isi pengumuman yang tepat adalah ....

- A. Siswa kelas IX yang akan berkreasi ke Teluk Mak Jantuk/Sinka Island diharapkan mengambil formulir pada wali kelas. Setelah diisi, formulir diserahkan kepada Pak Mansyur beserta biaya transportasi sebesar Rp60.000. Penyerahan formulir paling lambat tanggal 3 April 2012.  
B. Siswa-siswi kelas IX yang akan berekreasi ke Teluk Mak Jantuk supaya segera isi formulir, daftarkan diri, dan serahkan biaya transportasi Rp60.000 kepada Pak Mansyur secepatnya.  
C. Kita akan berkreasi ke Teluk Mak Jantuk/Sinka Island. Daftarkan diri Anda dengan menyerahkan formulir yang telah diisi beserta biaya transportasi Rp60.000 kepada Pak Mansyur.  
D. Teluk Mak Jantuk/Sinka Island? Siapa takut? Ke situ kita berekreasi. Daftarkan diri Anda sekarang juga. Isi formulir, serahkan beserta biaya transportasi Rp60.000 kepada Pak Mansyur.

28. **Perhatikan ilustrasi berikut!**

Sebuah buku dengan bahasa sederhana, enak dibaca, kalimatnya lugas penuh dengan muatan cerita yang menggugah. Sarat dengan hikmah pengalaman mengajar. Tidak terdapat gambar.

Paragraf resensi yang tepat sesuai dengan ilustrasi tersebut adalah ....

- A. Buku ini dituturkan dengan bahasa yang sangat sederhana, sehingga enak dibaca dan mudah dipahami oleh siapa saja. Buku ini penuh dengan cerita yang menggugah. Walaupun tidak dilengkapi

dengan gambar, tetapi di dalamnya sarat dengan hikmah dari pengalaman mengajar di sekolah.

- B. Semua buku bahasanya sederhana, enak dibaca, kalimatnya lugas penuh dengan muatan cerita yang menggugah. Sarat dengan hikmah pengalaman mengajar.
- C. Buku bacaan anak-anak saja yang bahasanya sederhana enak dibaca, kalimatnya lugas penuh dengan muatan cerita yang menggugah. Sarat dengan hikmah pengalaman.
- D. Hanya buku di perpustakaan yang bahasanya sederhana, lugas, cerita menggugah, sarat hikmah. Walaupun buku-buku tersebut tidak dilengkapi gambar.

29. **Bacalah kutipan surat pribadi berikut!**

Anita yang terkasih,

[...] Aku dan keluarga juga sehat selalu di sini. Aku ingat akan masa-masa indah persahabatan kita. Kuharap surat ini sebagai penyambung komunikasi kita, ya.

Kuingin kamu mau membalas suratku ini.

Yuli

Kalimat pembuka surat yang tepat adalah ....

- A. Kuharap kamu saat ini baik-baik saja.
- B. Kumohon kamu sudah lebih besar sekarang.
- C. Kuyakin saat surat ini datang kamu masih di sekolah.
- D. Kukira kita sudah lama tidak berkirim surat, ya.

30. **Bacalah kutipan surat berikut!**

Yth. Orang tua/wali siswa  
Kelas VII, VII, dan IX SMP Negeri Pamona Selatan  
Di Pamona Selatan

Dengan hormat,

Kami informasikan beberapa kegiatan sekolah selama bulan Ramadhan tahun 2011.

- (1) Tanggal 31 Juli dzikir bersama di halaman sekolah.

- (2) Tanggal 1 s.d. 3 Agustus 2011 pesantren kilat bagi siswa. Bagi siswa nonmuslim melaksanakan kegiatan sesuai agamanya.
- (3) Tanggal 5 Agustus 2011 buka bersama di sekolah.

[...]

Kalimat penutup surat untuk melengkapi bagian rumpang dalam surat dinas tersebut adalah ....

- A. Mohon Bapak/Ibu, orang tua/wali siswa memahami seluruh isi dan kegiatannya terima kasih.
- B. Demikian informasi ini kami sampaikan. Atas kerja sama yang baik, kami ucapkan terima kasih.
- C. Demikian pemberitahuan kami. Semoga orang tua murid paham isinya.
- D. Mohon menjadikan perhatian bersama-sama terima kasih.

31. **Bacalah kutipan surat pembaca berikut!**

Alumni SMP Citra Nusantara sering berkunjung di sekolah saat proses belajar mengajar berlangsung. Sebagai orang tua siswa saya sangat khawatir dengan kondisi ini. Kehadiran para alumni tersebut tentu sangat mengganggu para siswa yang sedang belajar. [...]

Kalimat yang tepat untuk melengkapi kutipan surat tersebut adalah ....

- A. Pihak sekolah mohon segera mencari solusiterbaikterhadapwaktuberkunjung para alumni pada jam-jam sekolah.
- B. Pihak sekolah membuat larangan para alumni yang berkunjung di sekolah pada jam-jam pelajaran.
- C. Para alumni dilarang masuk ke halaman sekolah saat proses belajar-mengajar berlangsung.
- D. Para alumni dihibau kesadarannya tidak perlu berkunjung ke sekolah saat pelajaran.

32. **Bacalah kutipan bacaan berikut!**

Sejumlah rumah sakit yang menggunakan kata tambahan internasional pada namanya wajib melepaskan embel-embel tersebut.

Peraturan yang mewajibkan hal itu berlaku mulai Agustus 2010.

Persoalan nama itu penting untuk menghindari kesesatan interpretasi di kalangan pasien. Padahal kelangsungan hidup mereka bergantung pada rumah sakit.

Rangkuman bacaan tersebut yang tepat adalah ....

- A. Kewajiban melepaskan kata internasional pada nama rumah sakit dimaksudkan untuk menghindari kesesatan interpretasi oleh pasien.
- B. Sejumlah rumah sakit yang menggunakan kata tambahan internasional wajib melepaskan embel-embel tersebut.
- C. Persoalan nama itu penting untuk menghindari kesesatan interpretasi di kalangan pasien rumah sakit berlabel internasional.
- D. Pelepasan kata internasional pada sejumlah rumah sakit penting karena kelangsungan hidup pasien ada pada rumah sakit.

**33. Perhatikan ilustrasi berikut!**

Tanggal 31 Juli 2011 warga Kota Semarang menyemarakkan acara Dugderan pukul 06.00. Acara pawai budaya anak TK sampai SMP diputuskan di Simpang Lima. Pukul 13.00 pawai kendaraan hias dari Balai Kota ke Masjid Kauman dan berakhir di Masjid Agung, Jawa Tengah. Acara tersebut dipimpin langsung oleh Walikota Semarang. Kegiatan ini mengawali bulan Ramadhan.

Paragraf berita yang tepat dari ilustrasi tersebut adalah ....

- A. Semarang, 31 Juli 2011 Dugderan dilaksanakan mulai pukul 06.00. Acara itu untuk mengawali bulan Ramadhan tahun ini dipimpin langsung oleh Walikota Semarang. Kegiatan ini diisi dengan pawai budaya menuju Balai Kota dari Masjid Kauman dan berakhir di Masjid Agung, Jawa Tengah.

- B. Acara budaya Dugderan di Semarang dilaksanakan pada tanggal 31 Juli 2011. Kegiatan yang mengawali bulan Ramadhan dipimpin langsung oleh Walikota Semarang. Dugderan tahun ini diisi dengan pawai budaya.

- C. Semarang (31/7) walikota Semarang memimpin langsung acara budaya Dugderan. Kegiatan budaya ini diisi dengan pawai budaya dari TK hingga masyarakat umum. Kegiatan dimulai pukul 06.00 dan secara resmi dibuka pukul 13.00.

- D. Semarang (31/7) Dugderan mengawali bulan Ramadhan dilaksanakan mulai pukul 06.00, dengan acara pawai budaya siswa TK, SD, dan SMP yang dipusatkan di Simpang Lima. Kegiatan ini dilaksanakan pukul 13.00 yang dipimpin langsung oleh Walikota Semarang. Kegiatan ini diisi dengan pawai kendaraan hias dari Balai Kota ke Masjid Kauman dan berakhir di Masjid Agung, Jawa Tengah.

**34. Bacalah ilustrasi berikut!**

Untuk membudayakan gemar membaca, sekolah mengadakan lomba membuat sinopsis buku fiksi dan membuat rangkuman buku nonfiksi. Agar memacu motivasi peserta, panitia membuat slogan.

Slogan yang tepat sesuai ilustrasi adalah ....

- A. Membaca untuk mengisi waktu.
- B. Membaca itu sangat penting.
- C. Pengetahuan diperoleh dari membaca.
- D. Sinopsis dilombakan membaca dibudayakan.

**35. Bacalah ilustrasi berikut!**

Pak Andi menawarkan hunian nyaman dengan harga terjangkau. Luas bangunan 120 m<sup>2</sup> dan luas tanah 150 m<sup>2</sup>, siap huni. Bagi peminat silakan datang ke BTN Janedinding Blok A8 Palangga Gowa atau hubungi nomor telepon 0411 845046.

Iklan baris yang sesuai dengan ilustrasi tersebut adalah ....

- A. Jual Rumah BTN Janedinging Blok A8 Palangga LB120.LT150 Siap huni, hrg damai, silakan hubungi Pak Andi.
- B. Jual Rmh di BTN Janedinging, Hrg damai. Alamat Blok A8 Palangga Kb. Gowa. Luas Bangunan 120 Luas tanah 150. Berminat hubungi 0411-845046.
- C. Jual Rmh di BTN Janedinging. Hrg damai. Alamat Blok A8 Palangga Kab. Gowa, Luas Bangunan 120. Luas tanah 150, yang berminat hubungi, 0411-845046.
- D. Jual Rmh BTN Janedinging Blok A8 Palangga Gowa. LB/LT 120/150 Siap huni. Hrg damai. Hub 0411-845046.

36. **Bacalah kalimat-kalimat berikut!**

Petunjuk membuat mainan terjun payung.

- (1) Gabungkan ujung benang, kemudian kaitkan batu atau boneka.
- (2) Ikatkan benang sepanjang 30 cm ke semua lubang pada plastik.
- (3) Buatlah lingkaran pada plastik sampai buku.
- (4) Lemparkan ke udara, tampaklah orang terjun.
- (5) Gunting plastik sesuai pola, kemudian beri lima lubang untuk benang pada pinggirnya.

Urutan yang tepat adalah ....

- A. (3), (2), (5), (4), (1)
- B. (3), (1), (4), (2), (5)
- C. (3), (5), (2), (1), (4)
- D. (3), (2), (5), (1), (4)

37. **Perhatikan petunjuk berikut!**

Petunjuk membuat kue kering kacang isi coklat.

- (1) [...]
- (2) Tambahkan tepung terigu dan kacang, aduk rata kemudian sisihkan.
- (3) Campur susu kental manis coklat bersama coklat bubuk dan garam.
- (4) Ambil sejumput adonan kemudian isi dengan adonan isi.
- (5) Bentuklah menjadi bola (ukuran sesuai selera).
- (6) Lakukan sampai adonan habis.

(7) [...]

(8) Panggang di oven sampai matang.

Kalimat yang tepat untuk melengkapi petunjuk tersebut adalah ....

- A. (1) Masukkan 3 sendok makan susu kental.
- (7) Kemudian oles permukaan adonan dengan kuning telur.
- B. (1) Kupas kacang yang sudah disangrai.
- (7) Masukkan 3 sendok makan susu kental.
- C. (1) Kocok telur hingga mengembang.
- (7) Olesi permukaannya dengan susu kental.
- D. (1) Kocok mentega bersama susu kental manis dan telur.
- (7) Olesi permukaannya dengan kuning telur.

38. **Bacalah kutipan teks pidato berikut!**

Para bapak dan para ibu yang saya hormati!

Lingkungan sekolah kita memang subur, tetapi kesuburan itu perlu dilestarikan. Bukan hanya untuk kita saat ini, tetapi juga penting untuk generasi yang akan datang. Sebagai generasi muda, mari kita lestarikan lingkungan dengan penghijauan.

Kalimat sapaan yang tepat untuk mengganti sapaan pada teks pidato tersebut adalah ....

- A. Ibu, dan para Bapak-bapak yang saya hormati.
- B. Rekan-rekan seperjuangan yang saya hormati.
- C. Peserta yang dirahmati Tuhan Yang Maha Esa.
- D. Teman-teman yang saya cintai.

39. **Bacalah ilustrasi berikut!**

Acara perpisahan dan pelepasan siswa SMP Harapan Jaya dilaksanakan di aula sekolah. Untuk mengawali kegiatan tersebut atas nama ketua penyelenggaraan memberikan sambutan.

Paragraf pembuka teks pidato yang sesuai ilustrasi tersebut adalah ....

- A. Pertama-tama marilah kita panjatkan puji syukur ke hadirat Tuhan Yang Maha Esa. Atas berkah dan rahmat-Nya, kita bisa berkumpul di ruang yang membahagiakan ini.
- B. Puji syukur senantiasa kita sampaikan ke hadirat Tuhan Yang Maha Esa. Atas rahmat, taufik dan hidayah-Nya, kita dapat berkumpul di ruang ini dalam keadaan sehat wal afiat.
- C. Kami panjatkan puji dan syukur ke hadirat Tuhan Yang Maha Esa. Atas taufik dan Hidayah-Nya kita dapat menyelenggarakan kegiatan yang semeriah ini.
- D. Kami atas nama panitia mengucapkan terima kasih yang tak terhingga pada hadirin. Atas bantuan doa dan dukungan dana acara perpisahan siswa dapat terlaksana.

40. **Perhatikan ilustrasi berikut!**

Tema: Dampak *handphone* terhadap prestasi belajar siswa SMP.

Rumusan masalah karya ilmiah yang sesuai dengan tema tersebut adalah ....

- A. Bagaimanakah dampak *handphone* terhadap prestasi siswa SMP?
- B. Apa penyebab menurunnya prestasi belajar siswa SMP dewasa ini?
- C. Mengapa penggunaan *handphone* yang tidak terkendali menurunkan prestasi siswa?
- D. Pemanfaatan *handphone* yang seperti apakah yang dapat meningkatkan siswa berprestasi?

41. **Bacalah simpulan karya ilmiah berikut!**

Buku merupakan sumber ilmu bagi manusia. Dengan buku, kita akan mendapat tambahan ilmu pengetahuan, pengalaman, wawasan, dan hiburan. Oleh sebab itu, kegiatan membaca harus kita mulai sejak dini. Orang yang gemar membaca akan memperoleh sesuatu yang berharga dalam hidupnya.

Saran yang baik berdasarkan simpulan karya ilmiah tersebut adalah ....

- A. Sebaiknya, kita perlu memperbanyak kegiatan membaca buku.
- B. Seharusnya orang tua kita dulu menanamkan kegemaran membaca kita sejak kita masih kecil.
- C. Sebaiknya kita membeli buku sebanyak-banyaknya karena buku merupakan sumber ilmu.
- D. Kegemaran membaca buku merupakan kegiatan yang dilakukan oleh orang-orang cerdas.

42. **Cermati kalimat berikut!**

Semua tugas-tugas kami selesaikan sebelum waktu yang ditentukan.

Perbaikan kalimat tersebut yang tepat adalah ....

- A. Tugas kami semua sebelum waktu yang ditentukan.
- B. Tugas-tugas kami selesai sebelum waktunya.
- C. Tugas-tugas kami semua selesai sebelum waktunya.
- D. Tugas-tugas kami selesaikan sebelum waktu yang ditentukan.

43. **Cermatilah penulisan kalimat berikut!**

Tubagus Chasan Sochib, ayahanda gubernur Banten ratu Atut Chosyiah, meninggal dunia di rumah sakit Sari Asih, Serang.

Perbaikan penulisan yang tepat kalimat tersebut adalah ....

- A. Tubagus Chasan Sochib, Ayahanda Gubernur Banten Ratu Atut Chosyiah, meninggal dunia di rumah sakit Sari Asih, Serang.
- B. Tubagus Chasan Sochib, ayahanda gubernur Banten, Ratu Atut Chosyiah, meninggal dunia di rumah sakit Sari Asih, Serang.
- C. Tubagus Chasan Sochib, ayahanda Gubernur Banten, Ratu Atut Chosyiah, meninggal dunia di Rumah Sakit Sari Asih, Serang.
- D. Tubagus Chasan Sochib, ayahanda Gubernur Banten, ratu Atut Chosyiah, meninggal dunia di Rumah Sakit Sari Asih, Serang.

44. **Cermatilah kalimat berikut!**

Di dalam lemari itu terdapat tiga benda gelas piring dan nampan.

Penggunaan tanda baca yang tepat pada kalimat tersebut adalah ....

- A. Di dalam lemari itu terdapat tiga benda: gelas, piring, dan nampan.
- B. Di dalam lemari itu terdapat tiga benda, gelas, piring, dan nampan.
- C. Di dalam lemari itu terdapat tiga benda gelas, piring, dan nampan.
- D. Di dalam lemari itu terdapat tiga: benda gelas, piring, dan nampan.

45. **Perhatikan kutipan pantun berikut!**

Hendak sekolah makan ketupat  
Makan di bawah pohon randu  
[...]  
[...]

Agar menjadi pantun yang baik, larik yang tepat untuk melengkapinya adalah ....

- A. Janganlah, engkau bermalas-malas  
Pasti akan menyesal nanti
- B. Jika kamu giat belajar  
Cita-citamu pasti kan tercapai
- C. Belajarlah engkau dengan giat  
Supaya dapat juara satu
- D. Jangan sia-siakan waktu muda  
Menyesal di kemudian hari

46. **Bacalah kutipan puisi berikut!**

Angin senja langkah ramah  
Merintis tembang ke padang rohani  
Tempat lahir sajak-sajakku  
Burung-burung yang tengah [...] (1)  
Mengerami rahasia pantai lalu, kulihat  
kemesraan  
Ikan-ikan dengan insang [...] (2)  
Mengecup bibir pantai berpasir.

Kata yang tepat untuk melengkapi puisi tersebut adalah ....

- A. berterbangan; berlarian
- B. berhinggap; kemerah-merahan
- C. bergelayutan; kehujan-hujan
- D. berkicau; kemiring-miringan

47. **Bacalah kutipan puisi berikut!**

**Bougenville di batas senja**

[...]

Masa merona warna  
Disiram jingga  
Bougenville di batas senja  
Tertunduk terkurung lesu  
Lunglai lelah lepas

Larik bermajas yang tepat untuk melengkapi puisi tersebut adalah ....

- A. Warna pudar karena surya
- B. Tampak warna-warni
- C. Kumbang pun tak hinggap pula
- D. Mengikat warna menawan pesona

48. **Perhatikan naskah drama berikut!**

- (1) Lala : "Ada apa ya Pak saya dipanggil ke ruang, Bapak?"  
(*mengetuk pintu*)
- (2) Walikelas : "Kamu, apa benar nunggu 3 bulan?" (*memandang Lala*)
- (3) Lala : "Iya, Pak memang saya belum membayar."  
(*menunduk lesu*)
- (4) Walikelas : "Kenapa?"

Perbaikan petunjuk lakuan dialog (1) pada kutipan naskah drama adalah ....

- A. (*mengetuk pintu tiga kali*)
- B. (*duduk memunggungi walikelas*)
- C. (*meminta izin duduk di samping walikelas*)
- D. (*masuk dan berdiri di dekat walikelas*)

49. **Bacalah kutipan naskah drama berikut dengan saksama!**

Irene : "Sudah berkali-kali saya peringatkan jangan berteman dengan dia!"

Veby : "Ya, tapi masalahnya apa Mbak? Apa karena dia anak Bi Onah, pembantu kita?"

Irene : (*muka sinis*) "Itu salah satunya, tetapi masih banyak yang lainnya."

Veby : "Apa bedanya sih, Mbak dengan kita?"

Irene : (*cepat menyahut*) "Ooo, ya jelas beda dong Veby!"

Veby : “Terserah Mbak, yang jelas Veby tidak mempermasalahkan perbedaan itu!”  
[...]

Irene : “Veby, Veby, mau ke mana kamu?”

Petunjuk lakuan yang tepat untuk melengkapi kutipan naskah drama tersebut adalah ....

- A. *(pergi meninggalkan Irene)*
- B. *(sudah di samping Irene)*
- C. *(bangkit mendekati Irene)*
- D. *(berjalan menghampiri Irene)*

50. **Baca kutipan drama berikut!**

Ida Ayu : “Apa yang sedang kamu pikirkan, Nisa?”

Cut Nisa : [...] (1)

Ida Ayu : “Kamu jangan berbohong, Nis. Dari tatapan matamu terlihat kamu sedang memikirkan sesuatu.”

Cut Nisa : [...] (2)

Ida Ayu : “O, itu masalahmu.”

Pernyataan yang tepat untuk melengkapi naskah drama tersebut adalah ....


- A. (1) Aku sedang memikirkan tugasku yang belum selesai-selesai.  
(2) Betul. Aku tidak berbohong.
- B. (1) Ada yang aneh pada diri Pak Goris.  
(2) Tepat, apa yang kamu lakukan.
- C. (1) Aku memang mengalami sedikit masalah, Da.  
(2) Aku bingung, Da. Mengapa akhir-akhir ini aku sering dimarahi Pak Goris?
- D. (1) Tidak ada, Da.  
(2) Yah, aku cuma sedang memikirkan rencanaku besok pagi. Apa yang perlu aku kerjakan lebih dulu?

# KUNCI JAWABAN

.....



- |       |       |       |       |       |
|-------|-------|-------|-------|-------|
| 1. B  | 11. A | 21. B | 31. A | 41. A |
| 2. C  | 12. D | 22. D | 32. A | 42. D |
| 3. A  | 13. B | 23. C | 33. D | 43. C |
| 4. A  | 14. C | 24. A | 34. D | 44. A |
| 5. B  | 15. D | 25. D | 35. D | 45. C |
| 6. A  | 16. A | 26. A | 36. C | 46. B |
| 7. B  | 17. D | 27. A | 37. D | 47. D |
| 8. A  | 18. B | 28. A | 38. B | 48. D |
| 9. B  | 19. D | 29. A | 39. B | 49. A |
| 10. B | 20. B | 30. B | 40. A | 50. D |



# BAHASA INDONESIA

## Sekolah Menengah Pertama

1. **Perhatikan kutipan puisi berikut!**

**IBU KARTINIKU**

*Bayang jiwa senyum Ibu Kartini  
Ada kulihat pada mama  
Yang mengharap, mendorong,  
dan mendoakan aku  
Agar citaku yang tinggi tercapai  
Oleh tanganku tangan wanita  
Yang tegar, kokoh, tapi lemah  
Bagiku, mama adalah juga Kartini*

Tema puisi tersebut adalah ....

- A. kekaguman pada Kartini
- B. kekaguman pada Ibu
- C. perjuangan seorang wanita
- D. perjuangan seorang anak

*Di serentang waktu  
Akan kuukir di pualam kalbu*

**Puisi 2**

*Tuhan,  
bibirku yang gemetar  
menyebut-Mu  
ucapkan syukur  
tiada habis-habisnya  
terlimpah kenikmatan  
kukecap kasih sayang-Mu  
dengan segala cinta  
kureguk kasih-Mu  
kureguk sayang-Mu*

Perbedaan amanat kedua puisi tersebut adalah ....

2. **Perhatikan puisi berikut!**

*Laut mendadak ramai  
Deburan ombak terseret angin (1)  
Ke tengah samudra itu (2)  
Buih putih di tepi pantai (3)  
Menambah indah suasana (4)*

Larik bermajas pada puisi tersebut bernomor

....

- A. (1)                                      C. (3)
- B. (2)                                      D. (4)

	Puisi 1	Puisi 2
A.	Berbaktilah kepada guru	Bersyukurlah atas nikmat Tuhan
B.	Berpamitanlah jika hendak pergi	Sebutlah nama Tuhanmu
C.	Cintailah bapak dan ibu kita	Cintailah Tuhanmu
D.	Ucapkan maaf jika akan bepergian	Bersujudlah

3. **Bacalah kedua puisi berikut!**

**Puisi 1**

*Di akhir suatu masa ini  
Teriring doa puji syukur pada Illahi  
Perkenankan kami mohon diri kepada-Mu  
Yang tercinta bapak dan ibu guruku  
Dengan gemuruh haru  
Maaf kami mohonkan,  
Terima kasih kami ucapkan  
Serangkai wejang dan harapanmu*

4. **Perhatikan kutipan cerita berikut!**

Bibirku tak sanggup lagi untuk berbicara sepele kata pun. Langsung kunon-aktifkan hp ku. Dan kulempar jauh dariku. Aku benar-benar tidak pernah menduga bahwa dia akan pindah. Kabar ini sungguh membuatku kehilangan tulang-tulang rangka yang menopang tubuhku. Badanku terasa sangat lemah, dan aku hanya bisa terduduk lemas sambil menggigit guling yang ada di genggamanku.

Latar kutipan cerpen tersebut adalah ....

- A. tempat duduk
- B. tengah rumah
- C. kamar tidur
- D. kursi beranda

5. **Bacalah dengan saksama kutipan cerpen berikut!**

(1) Dari semua nama yang terpahat di batang randu, cuma Ayub yang masih setia pada kampung ini. (2) Yang lainnya telah pergi menyabung nasib ke kota, ke pulau seberang, bahkan ke negeri orang. Ayub hidup dari mengurus sawah dan ladang warisan orangtua. (3) Katanya, meski sempat diserang hama wereng, panen dua bulan lalu cukup lumayan. Hasilnya di belakang rumah jadi empang. (4) Dia pelihara ikan mas dan gurame untuk menambah penghasilan.

Bukti bahwa Ayub memiliki watak setia adalah .....

- A. (1)
- B. (2)
- C. (3)
- D. (4)

6. **Perhatikan kutipan cerpen berikut!**

"Perhatikan di ruang Tulip V sangat agresif, suster. Saskia namanya, suster harus hati-hati!" bisik Dokter Fandi.

Suster Nani segera mendekati pasien yang dimaksud. Pasien tersebut sedang tidur pulas karena pengaruh obat. Sore harinya, setelah Dokter Ridwan memeriksa pasien-pasiennya, ia bercerita tentang pasien tersebut.

"Aduh, tanganku dicengkeram kencang sekali oleh pasien di ruang Tulip V ketika aku memeriksanya. Matanya melotot tajam padaku. Dia benar-benar garang."

Cara pengarang menggambarkan watak tokoh Saskia dalam kutipan cerpen tersebut adalah ....

- A. dialog antartokoh
- B. tingkah laku tokoh
- C. diceritakan oleh pengarang
- D. diceritakan tokoh lain

7. **Perhatikan kutipan cerita anak berikut!**

Semalam Tirta tidak bisa tidur karena memikirkan kebohongannya dengan dua temannya yaitu Dina dan Livi. Mereka berdua selalu percaya padanya. Keesokan harinya ia bermaksud meminta maaf kepada keduanya. "Hai Din, Liv" sapa Tirta. "Hai Tir!" Jawab mereka serempak. "Hem, teman-teman aku mau minta maaf selama ini telah membohongi kalian. Aku takut kalau aku bukan anak orang kaya seperti kalian, kalian tidak akan mau berteman denganku. Sebenarnya ayahku hanya seorang pegawai kantor biasa dan ibuku hanya ibu rumah tangga."

Amanat kutipan cerita tersebut adalah ....

- A. Janganlah suka membeda-bedakan teman!
- B. Janganlah sombong meskipun kaya!
- C. Berpura-puralah menjadi anak orang kaya!
- D. Sebaiknya bersikap jujur dan apa adanya!

8. **Bacalah kutipan cerita berikut!**

"Siapa yang jadi, kita akan ambil menantu kita?" tanya istrinya. Bimbang hatiku karena pada waktu itu kurang yang akan dipilih. Itulah sekarang yang kupikir-pikir." Sahut Baginda Diatas, begitulah disebut orang gelar kepala kampung itu. "Kurang yang akan dipilih?" tanya istrinya. "Negeri Sipirok sebesar ini berapa ratus anak gadis di Luhak ini, sedang yang akan dicari hanya seorang juga."

Konflik kutipan cerita tersebut adalah ....

- A. mencari seorang gadis yang hilang
- B. memikirkan seorang suami pilihan
- C. menentukan pilihan calon menantu
- D. memutuskan segera melangsungkan pernikahan

9. **Bacalah kutipan novel berikut!**

Tetapi anak-anak yang tinggal ini, bagaimanakah halnya kelak? Sekecil itu, udah tak beribu lagi. "Ayahnya bukankah masih ada? Masakan tiada dipedulikannya anak-anaknya?" jawab Fatimah, istrinya.

"Ayahnya?" tanya Ahmad Maulana. Sambil memandang istrinya dengan merengut. "Uh, masa kan ia mau menanggung beban itu! Bukankah telah menjadi adat di sini, anak pulang ke mamak. Orang bangsawan sebagai Sutan hamzah pula, kan suka menyelenggarakan anaknya; sedangkan dirinya sendiri tak terurus olehnya.

(mamak: paman)

Adat yang terdapat dalam kutipan novel tersebut adalah ....

- A. ayah yang menelantarkan anaknya
- B. anak adalah tanggung jawab ibunya
- C. beban ayah ditanggung istrinya
- D. anak pulang kepada mamak

10. **Bacalah kedua kutipan novel berikut!**

**Kutipan Novel I**

"Salahku juga!" kata-kata itu bergema lagi seolah-olah suara hatinya.

"Mengapa sekarang aku begitu mudah naik darah?" Ya, setiap kali aku habis bertengkar dengan suamiku, pasti aku ditimpa oleh perasaan sesal yang mendalam, pasti aku mengaku bahwa aku terlalu lekas marah, terlalu keras mengayun tangan atau menghamburkan kutuk.

**Kutipan Novel II**

Astaga, siapa orang ini? Tampang mereka seperti orang-orang kriminal. Namun, hak mereka sama dengan penumpang lain yang masuk taksiku. Aku tak perlu tahu urusan mereka. Barangkali juga tidak berhak tahu, meskipun banyak juga yang aku tahu sebagai sopir taksi.

Perbedaan tema antara kedua kutipan novel tersebut adalah ....

	Kutipan Novel I	Kutipan Novel II
A.	keluarga	kriminal
B.	keluarga	sosial
C.	pertengkaran	kriminal
D.	pertengkaran	sosial

11. **Perhatikan kutipan naskah drama berikut!**

Doni : Hai Adi, kenapa kamu tidak ikut pelajaran olahraga?

Adi : Kenapa kamu terlalu mau tahu urusanku! Aku mau olahraga atau tidak, kamu tidak perlu bertanya-tanya! (*berbicara dengan gayanya yang sinis*).

Rima : (*Dengan nada yang keras*) Pasti kamu yang mengambil dompet Sita!

Adi : Hei, jangan sembarangan menuduh, ya! (*marah*)

Doni : Ya, pasti kamu yang mengambilnya!

Adi : Sekali lagi kuperingatkan kalian, jangan menuduh tanpa bukti! (*sambil menunjuk muka Doni*)

Doni : Buktinya hanya kamu sendiri di kelas ini saat kami semua olahraga! (*nada keras*)

Adi : (*mendekat memegang bahu Doni*) Hei, aku memang nakal, tapi aku tidak pernah mencuri. Jaga mulutmu, ya!

Suasana dalam drama tersebut adalah ....

- A. gelisah
- B. tegang
- C. panik
- D. kesal

12. **Bacalah kutipan naskah drama berikut!**

Meski saat itu sangat terik, namun teman-teman Ani tetap datang.

Yuni dan Hani : (*memberi salam bersama*)

Ibu : (*datang dari dapur*) Teman-teman Ani, ya?

Yuni : Iya, Bu. Kami teman-teman Ani."

Ibu : Mari, masuk! Silakan duduk dulu! Ibu panggilkah Ani. Ani...!

Ibu : Itu teman-teman kamu sudah datang.

Ani : Hai! Yuk, langsung saja kita mulai.

Yuni dan Hani : Ayo!

Mereka pun bersama-sama menuju ruang belajar Ani.

Latar kutipan naskah drama tersebut adalah ....

- A. di ruang tamu, sore hari
- B. di rumah, siang hari
- C. di ruang belajar, siang hari
- D. di rumah, sore hari

13. **Perhatikan bacaan berikut!**

Hutan merupakan anugerah Tuhan yang harus dijaga. Hutan sangat penting bagi kehidupan manusia. Hutan sangat menyimpan banyak air. Hutan juga membantu sirkulasi dan metabolisme. Namun, kenyataannya banyak hutan yang rusak karena manusia, tanpa mau bertanggung jawab. Pembabatan liar dan penebangan pohon tanpa disertai dengan penanaman kembali merupakan contoh nyata tersebut.

Gagasan utama paragraf tersebut adalah ....

- A. hutan banyak menyimpan banyak air
- B. banyak hutan yang rusak oleh manusia
- C. anugerah Tuhan yang harus dijaga
- D. kasus pembabatan liar dan penebangan pohon

14. **Perhatikan kutipan kedua teks berita berikut!**

**Teks Berita I**

Buruknya kondisi udara dapat memicu masalah pada jantung. Hasil studi para ilmuwan dari China sebagai buktinya. Studi itu dilakukan dengan melibatkan sebagian besar masyarakat Beijing selama dan sesudah Olimpiade Beijing 2008 silam.

**Teks Berita II**

Tingginya polusi udara yang menyergap kota-kota besar, selayaknya sudah menjadi perhatian serius bagi semua orang. Jenis karbon monoksida ini akan memberikan dampak tak baik bagi kesehatan.

Persamaan isi dari kedua kutipan berita tersebut adalah ....

- A. polusi udara merupakan masalah bersama
- B. dampak polusi udara terhadap jantung
- C. polusi udara di Beijing setelah olimpiade
- D. dampak polusi udara bagi kesehatan

15. **Bacalah dua kutipan berita berikut!**

**Teks Berita I**

Dinas Pertanian dan Peternakan Kabupaten Cilacap, Jawa Tengah, membatasi ruang

gerak penggembala itik guna meredam penularan virus avian influenza yang marak di Jawa Tengah. Salah satu wujudnya adalah melarang penggembala itik dari luar Cilacap masuk ke wilayah itu.

**Teks Berita II**

Dua bulan terakhir, di Cilacap tercatat 2.000 itik mati mendadak. Sejauh ini, instansi terkait, mengintensifkan penyemprotan disinfektan ke ladang-ladang milik peternak. Sementara Dinas Peternakan dan Perikanan Purbalingga menggelar sosialisasi kepada masyarakat terutama peternak ayam dan itik untuk meningkatkan ketahanan hayati di lingkungan kandang ternak

Perbedaan penyajian kedua teks tersebut adalah ....

	<b>Teks Berita I</b>	<b>Teks Berita II</b>
A.	Diawali dengan unsur berita kapan	Diawali dengan unsur berita di mana
B.	Diawali dengan unsur berita siapa	Diawali dengan unsur berita kapan
C.	Diawali dengan unsur berita di mana	Diawali dengan unsur berita apa
D.	Diawali dengan unsur berita siapa	Diawali dengan unsur berita bagaimana

16. **Bacalah kutipan biografi tokoh berikut!**

Rio Haryanto adalah pembalap yang menjanjikan untuk membawa nama Indonesia ke dunia Internasional. Dalam kejuaraan formula Asia tahun 2008, ia menempati urutan pertama kategori Asia dan urutan ketiga kategori Internasional. Rio kini terjun ke kejuaraan balap mobil Formula BMW Pacific. Ia dinobatkan sebagai Duta Nasional Antinarkoba pada peringatan Hari Antinarkoba.

Keistimewaan tokoh tersebut adalah ....

- A. pebalap yang menjanjikan nama baik Indonesia

- B. pebalap mobil Formula BMW Pacific
- C. pebalap yang menempati urutan pertama pada tahun 2008
- D. pebalap yang dinobatkan sebagai duta nasional antinarkoba

17. **Bacalah kutipan biografi tokoh berikut!**

Sejak kecil, Dewi Sartika sudah menunjukkan bakat pendidik dan kegigihan untuk meraih kemajuan. Hal ini didorong pula oleh pamannya, Bupati Martanegara yang memiliki keinginan yang sama. Adat yang mengekang kaum wanita pada waktu itu membuat pamannya mengalami kesulitan dan khawatir. Namun, karena kegigihan semangatnya, akhirnya Dewi Sartika bisa meyakinkan pamannya dan diizinkan mendirikan sekolah untuk perempuan.

Hal yang patut diteladani pada tokoh tersebut adalah ....

- A. menunjukkan bakat mendidik
- B. semangat yang gigih meraih cita-cita
- C. mudah khawatir saat mengalami kesulitan
- D. berusaha meyakinkan pamannya untuk maju

18. **Bacalah iklan berikut!**

- (1) Anda tak perlu mengurus pembayaran
- (2) Kami membayar langsung biayanya ke lebih dari 400 rumah sakit di Indonesia
- (3) Cukup hubungi hotline kami untuk menghilangkan kerepotan Anda. Anda pun bisa fokus menjalani perawatan dan memulihkan diri.
- (4) Hub. 081298799916

Penjelasan isi kalimat (2) pada iklan tersebut adalah ....

- A. Diimbau agar tetap menjalani perawatan secara intensif agar tetap sehat.
- B. Jika kita sakit tidak perlu repot-repot membayar sendiri ke rumah sakit, cukup hubungi hotline.
- C. Kitamendapatkan pembayaran langsung ke 400 rumah sakit di Indonesia.
- D. Pelayanan rumah sakit di Indonesia sangat bagus karena melayani pembayaran secara langsung.

19. **Perhatikan kutipan iklan tersebut!**

Pelelangan terbatas

Jasa Bank Pengumpulan Tol

PT Jasa Marga pengembang dan operator jalan tol terbesar di Indonesia mengundang Bank Umum Nasional yang berminat dan memenuhi syarat untuk mengikuti proses pelelangan terbatas kerjaan jasa bank pengumpulan tol. Untuk persyaratan serta informasi lebih lanjut dapat diakses di website kami [www.jasamarga.com](http://www.jasamarga.com).

Maksud iklan tersebut adalah ....

- A. PT Jasa Marga mengundang Bank Umum Nasional untuk menjadi bank pengumpulan tol.
- B. PT Jasa Marga mengundang Bank Umum Nasional mengadakan lelang terbatas pengumpulan tol.
- C. PT Jasa Marga mengundang Bank Umum Nasional untuk mengikuti lelang pekerjaan jasa bank pengumpulan tol.
- D. PT Jasa Marga dan Bank Umum Nasional mengadakan lelang terbatas pekerjaan jasa bank pengumpulan tol.

20. **Bacalah ilustrasi iklan berikut!**

- (1) Kualitas hidup seseorang ditentukan oleh ketersediaan dan kecukupan nutrisi.
- (2) Nutrisi otak sangat penting dan perlu diwaspadai kecukupan asupannya.
- (3) Nutrilax mengandung: DHA, Folic Acid (Asam Folat).
- (4) Nutrilax memberikan Anda solusi lengkap guna memenuhi kebutuhan nutrisi.
- (5) Produk tersebut dapat dibeli di apotek.

Kalimat fakta dalam iklan tersebut bernomor

....

- A. 1 dan 2
- B. 2 dan 4
- C. 3 dan 5
- D. 4 dan 2

21. **Perhatikan paragraf berikut!**

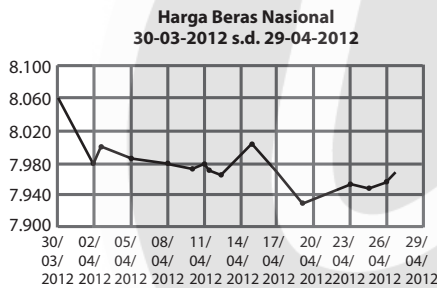
Manfaat hutan bagi kehidupan manusia secara langsung maupun tidak langsung sangat banyak dan beragam. Hutan sebagai sumber kayu dan hasil hutan lainnya yang memberikan manfaat ekonomi. Secara tidak langsung hutan akan memberikan pengaruh

pada kehidupan di hilirnya. Selain itu, hutan juga sebagai pelindung terhadap air. Dengan adanya air terjun struktur tanah menjadi gembur dan air hujan terserap masuk ke dalam tanah.

Simpulan isi paragraf tersebut adalah ....

- A. Manfaat hutan bagi kehidupan manusia sebagai pelindung.
- B. Hutan tidak saja sebagai sumber kayu, tetapi sebagai pelindung air juga.
- C. Hutan memiliki manfaat banyak bagi perekonomian dan penggembur tanah.
- D. Manfaat hutan sangat banyak bagi kehidupan manusia.

**22. Perhatikan grafik berikut!**



Penjelasan yang sesuai dengan isi grafik tersebut adalah ....

- A. Harga beras nasional 30 Maret 2012 s.d. 29 April 2012 tidak stabil.
- B. Harga beras nasional pada tanggal 30 Maret 2012 mencapai Rp8.060.
- C. Harga beras nasional 30 Maret 2012 s.d 29 April mengalami penurunan.
- D. Harga beras nasional antara 2 April dan 17 April 2012 sama.

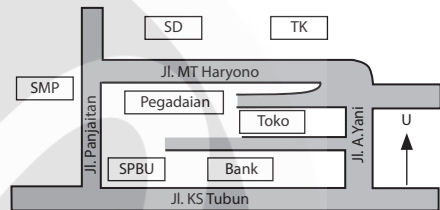
**23. Perhatikan tabel berikut!**

Jenis Jajanan di Kantin SMP Shifa					
No.	Jenis Jajanan	Kelas			Jumlah
		7	8	9	
1.	Nasi goreng	20	30	40	90
2.	Gado-gado	5	10	15	30
3.	Bakso	25	35	30	90
4.	Kebab	35	25	5	65
	Jumlah	85	100	90	

Simpulan isi yang sesuai dengan tabel tersebut adalah ....

- A. Peminat jenis jajanan di kantin SMP Syifa beragam.
- B. Siswa kelas 8 yang jajan lebih sedikit daripada siswa kelas 9.
- C. Gado-gado adalah jajanan yang paling disukai siswa.
- D. Bakso adalah jajanan yang paling banyak terjual.

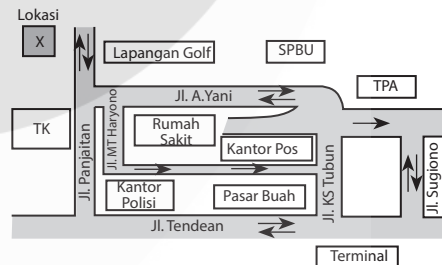
**24. Perhatikan denah berikut!**



Letak bank berdasarkan denah tersebut adalah ....

- A. sebelah utara toko, Jalan MT. Haryono
- B. sebelah timur SPBU, Jalan KS Tubun
- C. seberang SMP, Jalan Panjaitan
- D. seberang pegadaian, Jalan A. Yani

**25. Perhatikan denah berikut!**



Arah perjalanan yang paling efektif dari lokasi menuju terminal adalah ....

- A. dari lokasi masuk ke Jl. A. Yani, ke Jl. Sugiono, ke Jl. Tendea sampai terminal
- B. dari lokasi masuk ke Jl. Panjaitan, ke Jl. Tendea terus sampai ke terminal
- C. dari lokasi masuk ke Jl. MT Haryono, ke Jl. KS. Tubun, Jl. Sugiono masuk Jl. Tendea
- D. dari jalan Panjaitan ke Jl. KS. Tubun, ke Jl. Sugiono, ke terminal

26. **Bacalah ilustrasi berikut dengan saksama!**

Pada hari Rabu, 25 November 2009, kamu ditunjuk menjadi pembaca puisi dalam peringatan Hari Guru. Kamu dapat melaksanakan dengan baik dan mendapat pujian dari teman-temanmu serta guru-gurumu.

Catatan buku harian yang paling sesuai dengan ilustrasi tersebut adalah ....

- A. Rabu, 25 November 2009. Hari ini aku senang sekali. Pagi ini aku ditunjuk menjadi pembaca puisi dalam peringatan Hari Guru. Aku dapat melaksanakan dengan baik. Teman-teman dan guru-guru memuji kemampuanku.
- B. Rabu, 25 November 2009. Alangkah senang hati Amir pada hari Senin ini. Pagi ini Amir ditunjuk menjadi pembaca puisi dalam peringatan Hari Guru. Amir dapat melaksanakannya dengan baik. Teman-teman dan guru-guru memuji kemampuannya.
- C. Rabu, 25 November 2009. Hari ini dia senang sekali. Dia ditunjuk menjadi pembaca puisi. Ia dapat melaksanakannya dengan baik. Guru-guru dan teman-teman memuji kemampuannya.
- D. Rabu, 25 November 2009. Alangkah senangnya hari ini. Ita ditunjuk menjadi salah satu petugas upacara. Ita dapat melaksanakannya dengan baik. Guru-guru memuji kemampuanku.

27. **Cermatilah ilustrasi berikut!**

Kebersihan kelas sangat mendukung program belajar mengajar karena kelas yang bersih akan membuat siswa nyaman. Oleh karena itu, siswa harus benar-benar menjaga kebersihan kelas

Slogan yang sesuai dengan ilustrasi tersebut adalah ....

- A. Lingkungan bersih menyebabkan hidup bahagia.
- B. Bersihkan lingkunganku, senang keluargaku.
- C. Kebersihan mohon selalu dijaga bersama.
- D. Kelas bersih, belajar nyaman.

28. **Cermatilah ilustrasi berikut!**

Ditawarkan sebuah rumah dengan tipe 45, fasilitas yang tersedia 2 kamar tidur, garasi mobil, listrik 900 watt, dan air PAM. Harga bisa dinegosiasikan. Yang berminat segera hubungi 081332665566.

Iklan baris yang sesuai dengan ilustrasi tersebut adalah ....

- A. Dijual rumah tipe 45, listrik, PAM, garasi, kamar 2, harga nego, hubungi 081332665566.
- B. Dijual rumah T45, fas 2 KT, garasi, listrik 900 w, PAM, nego, hub 081332665566.
- C. Kami menjual rumah T45, listrik dan air PAM, 2KM, garasi, nego ke 081332665566.
- D. Kami jual rumah fasilitas lengkap rumah T45, listrik dan air PAM, 2KM, garasi, nego ke 081332665566.

29. **Cermatilah ilustrasi berikut!**

Kepala SMP Tunas Bangsa memberikan sambutan pada upacara bendera hari Senin. Upacara tersebut merupakan hari pertama masuk sekolah di semester genap. Dalam pidato tersebut kepala sekolah mengajak siswa memanfaatkan waktu.

Isi pidato yang sesuai dengan ilustrasi tersebut adalah ....

- A. Anak-anak kelas IX yang saya banggakan. Hari ini pertama kalian masuk semester genap. Untuk itu, manfaatkan waktu kalian untuk mempersiapkan diri menghadapi ujian.
- B. Puji syukur kita panjatkan kepada Tuhan Yang Maha Kuasa. Pada hari ini kita dapat bertemu kembali di hari pertama masuk semester genap.
- C. Demikian pidato saya, mudah-mudahan apa yang saya sampaikan dapat kalian cerna dengan baik, karena keberhasilan ditentukan dari semangat belajar kalian.
- D. Harapan saya kalian manfaatkan buku-buku yang ada untuk persiapan ujian. Semoga kalian berhasil dengan gemilang.

30. **Perhatikan kutipan teks pidato berikut!**

Saudara-saudara sekalian, ada satu persoalan yang ingin saya sampaikan tentang budaya hidup bersih. Kita perlu bersama-sama menciptakan budaya bersih. Dengan demikian, budaya bersih menjadi milik kita.

Perbaiki sapaan pada kutipan dalam teks pidato tersebut adalah ....

- A. Bapak-bapak dan ibu sekalian yang tercinta.
- B. Para generasi muda sekalian yang terhormat,
- C. Hadirin yang saya hormati,
- D. Semuanya yang saya hormati,

31. **Bacalah kesimpulan karya ilmiah berikut!**

Berdasarkan uraian tersebut dapat disimpulkan bahwa kunyit memiliki banyak manfaat dan dapat digunakan untuk obat-obatan tradisional.

Saran yang tepat berdasarkan simpulan tersebut adalah ....

- A. Setiap orang harus menanam kunyit di rumah.
- B. Masyarakat perlu membudidayakan tanaman kunyit.
- C. Masyarakat agar selalu mengobati penyakit dengan menggunakan kunyit.
- D. Mulai sekarang para petani lebih baik menanam tanaman obat.

32. **Bacalah kutipan surat resmi berikut!**

ORGANISASI SISWA INTRA SEKOLAH  
SMP PENERBANGAN

Jalan Adi Sucipto 12, telepon (0274) 531841  
YOGYAKARTA

Nomor : 009/OSIS/SMP/2010

25 April 2010

Perihal : Undangan

[...]

Dengan hormat,

Dengan ini kami mengundang Bapak untuk membuka kegiatan kemah bersama SMP Penerbangan yang akan dilaksanakan pada:

hari, tanggal : Senin, 3 Mei 2010

pukul : 13.00 WIB

tempat : Halaman SMP Penerbangan

Bagian yang tepat untuk melengkapi surat undangan tersebut adalah ....

- A. Yth. Bapak dan Ibu Guru SMP Penerbangan di Yogyakarta
- B. Kepada Yth. Kepala TU SMP Penerbangan Yogyakarta di Yogyakarta
- C. Yth. Kepala SMP Penerbangan Yogyakarta di Yogyakarta
- D. Yth. Bapak Kepala SMP Penerbangan Yogyakarta di Yogyakarta

33. **Perhatikan data buku berikut!**

Buku berjudul 'Pengantar Novel Indonesia' dikarang oleh Jakob Sumardjo, diterbitkan di Jakarta oleh PT Karya Unipress pada tahun 1983.

Penulisan daftar pustaka yang tepat berdasarkan data buku tersebut adalah ....

- A. Jakop, sumardjo, 1983. Pengantar Novel Indonesia. Jakarta: Karya Unipress.
- B. Jakop, sumardjo, 1983. Pengantar Novel Indonesia. Karya Unipress: Jakarta.
- C. Sumardjo, Jakob. 1983. Pengantar Novel Indonesia. Jakarta: Karya Unipress.
- D. Sumardjo, Jakob. 1983. Pengantar Novel Indonesia. Karya Unipress: Jakarta.

34. **Perhatikan kalimat berikut!**

Pada saat banjir yang telah lalu, mereka telah menerima bantuan sembako.

Perbaiki kalimat tersebut yang tepat adalah ....

- A. Saat banjir yang lalu, mereka menerima bantuan sembako.
- B. Saat banjir yang telah lalu, mereka juga menerima bantuan sembako.
- C. Pada banjir lalu, mereka juga menerima bantuan sembako.

- D. Pada banjir yang telah lalu, mereka juga menerima bantuan sembako.

35. **Perhatikan kalimat berikut!**

Kami senang karena selama ini belum pernah ada bantuan alat sekolah ungkap Sumiran Kepala Dusun Ngompro.

Penggunaan tanda baca yang tepat pada kalimat tersebut adalah ...

- A. Kami senang karena selama ini belum pernah ada bantuan alat sekolah, ungkap Sumiran, Kepala Dusun Ngompro.  
B. "Kami senang karena selama ini belum pernah ada bantuan alat sekolah, ungkap Sumiran, Kepala Dusun Ngompro".  
C. "Kami senang karena selama ini belum pernah ada bantuan alat sekolah". Ungkap Sumiran, Kepala Dusun Ngompro  
D. "Kami senang karena selama ini belum pernah ada bantuan alat sekolah," ungkap Sumiran, Kepala Dusun Ngompro.

36. **Perhatikan kalimat berikut!**

Film laskar Pelangi yang diadaptasi dari novel dengan judul sama melakukan syuting perdana di Pulau Belitung.

Perbaikan penulisan huruf kapital pada kalimat tersebut adalah ...

- A. Film Laskar Pelangi yang diadaptasikan dari novel dengan judul sama melakukan syuting perdana di Pulau Belitung.  
B. Film laskar Pelangi yang diadaptasikan dari Novel dengan judul sama melakukan syuting perdana di Pulau Belitung.  
C. Film laskar Pelangi yang diadaptasikan dari novel dengan Judul sama melakukan syuting perdana di Pulau Belitung.  
D. Film laskar Pelangi yang diadaptasikan dari novel dengan judul sama melakukan syuting Perdana di Pulau Belitung.

37. **Perhatikan kutipan pantun berikut!**

*Pergi berlayar ke tanah Jawa  
Lalu mendarat di Priangan*

- [...] (1)  
[...] (2)

Larik yang tepat untuk melengkapi pantun tersebut adalah ....

- A. Kalau memang boleh-boleh saja (1)  
Mohon dijawab pertanyaan saya (2)  
B. Kalau Abang boleh bertanya (1)  
Adik manis siapa gerangan (2)  
C. Kalau Abang ingin tahu (1)  
Seruni Dewi itulah nama saya (2)  
D. Harap Abang maafkan Adik (1)  
Sebab adik sudah ada yang punya (2)

38. **Perhatikan petunjuk berikut!**

*Petunjuk memasak pisang goreng gurih (tanpa tepung):*

- (1) Kupas pisang dengan pisau!  
(2) Iris tipis-tipis (sesuai selera!)  
(3) Taruh garam secukupnya, ratakan!  
(4) [...]  
(5) Letakkan wajan di atas kompor!  
(6) Tuangkan minyak goreng ke dalam wajan!  
(7) Panaskan!  
(8) [...]  
(9) Goreng sampai kuning kecoklatan!  
(10) Angkat kemudian sajikan!

Untuk melengkapi kalimat yang rumpang pada petunjuk tersebut yang tepat adalah ....

- A. (4) Masukkan pisang ke dalam wajan  
(8) Nyalakan kompor  
B. (4) Nyalakan kompor  
(8) Masukkan pisang ke dalam wajan  
C. (4) Cuci pisang sampai bersih  
(8) Matikan kompor  
D. (4) Masukkan pisang ke dalam wajan  
(8) Cuci pisang sampai bersih

39. **Perhatikan petunjuk berikut!**

*Petunjuk menyalakan televisi:*

- (1) Tekan tombol nomor *remote control!*  
(2) Tekan tombol *main power!*  
(3) Indikator *power* atau *standby* akan berwarna merah!  
(4) Hubungkan kabel daya listrik pesawat TV ke stop kontak!  
(5) Selamat menonton!

Urutan petunjuk menyalakan televisi yang tepat adalah ....

- A. 4, 2, 3, 1, 5                      C. 5, 3, 1, 2, 4  
B. 1, 4, 2, 3, 5                      D. 2, 3, 1, 5, 4

40. **Perhatikan kutipan puisi berikut!**

**Arus**

*Siapa mengirim bau arus itu*

*Bertahun-tahun aku rindu lautmu*

[...]

*Membenamkan amis keringat para nelayan*

*Rindu isyarat*

Larik bermajas untuk melengkapi kutipan puisi tersebut agar bermakna utuh adalah ....

- A. Rindu ombak memecah karang  
B. Kampungku yang jauh di dusun  
C. Rindu suara alam yang memekak  
D. Jerih payah penambang pasir

41. **Perhatikan kutipan naskah berikut!**

Widya : "Ran, kamu liat buku novel Kakak?"

Rani : [...](2)

Widya : "Buku novel yang Kakak beli seminggu yang lalu. Kan waktu itu belinya sama kamu."

Rani : "Oh, yang itu. Kakak lupa ya, kan Kakak pinjamkan ke Rita."

Widya : [...](5)

Dialog yang tepat untuk melengkapi kutipan naskah drama tersebut adalah ....

- A. 2. Rani : Buku novel yang mana, Kak?  
5. Widya : Astaga, Kakak lupa.  
B. 2. Rani : Mungkin Kakak lupa meletakkannya.  
5. Widya : Tidak mungkin. Baru kemarin Kakak membacanya.  
C. 2. Rani : Itu, di meja belajarku.  
5. Widya : Mengapa kamu pinjamkan?  
D. 2. Rani : Buku novel?  
5. Widya : Syukurlah kalau begitu.

42. **Perhatikan topik karya ilmiah berikut!**

*Tema karya ilmiah:*

Peran pelajar dalam menciptakan lingkungan yang bersih.

Rumusan masalah karya ilmiah sesuai tema tersebut adalah ....

- A. Di mana pelajar berperan dalam menjaga kebersihan lingkungan?  
B. Bagaimana peran pelajar dalam menciptakan lingkungan yang bersih?  
C. Berapa pelajar yang dapat berperan dalam menjaga kebersihan?  
D. Mengapa pelajar harus ikut berperan dalam menciptakan kebersihan?

43. **Cermati ilustrasi berikut!**

Heru berkunjung ke rumah Doni. Ia bermaksud mengajak Doni mengerjakan tugas sekolah di rumah Anggara besok. Namun, saat itu Doni sedang pergi ke rumah pamannya.

Pesan singkat yang sesuai dengan ilustrasi tersebut adalah ....

- A. Don, besok kita mengerjakan tugas sekolah di rumah Anggara.  
B. Her, besok kita mengerjakan tugas sekolah. Kutunggu di sekolah.  
C. Anggara, besok kami mengerjakan tugas sekolah di rumahmu. Tunggu kami!  
D. Don, pulang sekolah kita ke rumah paman untuk mengerjakan tugas sekolah.

44. **Bacalah kalimat laporan berikut!**

- (1) Masalah kesehatan lingkungan yang sering dialami di Desa Sungai Rambutan adalah pembuangan sampah, kotoran hewan, dan air bersih.  
(2) Hal ini, karena tidak adanya tempat khusus pembuangan sampah, sehingga warga membuang sampah di kali.  
(3) Untuk menanggulangi masalah tersebut, mahasiswa USRI yang sedang KKN, mengajak warga membangun tempat sampah umum.  
(4) Pembangunan sampah merupakan masalah utama yang dihadapi warga desa tersebut.  
(5) Tujuan pembangunan tempat sampah tersebut untuk membiasakan masyarakat peduli kesehatan dan kebersihan lingkungan.

Susunan kalimat laporan tersebut yang tepat adalah ....

- A. 2-5-3-1-4  
B. 2-3-1-5-4  
C. 1-4-2-3-5  
D. 1-3-2-4-5

45. **Cermatilah ilustrasi berikut!**

SMP Negeri 2 Adimulyo akan mengadakan lomba berpidato pada tanggal 2 Mei 2013. Lomba tersebut diselenggarakan dalam rangka memperingati hari Pendidikan Nasional. Siswa yang berminat mengikuti lomba tersebut harus mendaftar pada guru bahasa Indonesia masing-masing paling lambat tanggal 30 April 2013.

Pengumuman yang tepat sesuai dengan ilustrasi tersebut adalah ....

- A. Dalam rangka memperingati hari pendidikan Nasional tanggal 2 Mei 2013, para siswa diharuskan mendaftarkan diri kepada guru bahasa Indonesia masing-masing untuk mengikuti lomba berpidato.  
B. Lomba berpidato akan dilaksanakan dalam rangka hari Pendidikan Nasional. Oleh karena itu, para siswa diharapkan segera mendaftar kepada guru bahasa Indonesia masing-masing.  
C. Dalam rangka memperingati hari Pendidikan Nasional tanggal 2 Mei 2013, SMP Negeri 2 Adimulyo akan mengadakan lomba berpidato. Pendaftaran peserta lomba paling lambat tanggal 30 April 2013 kepada guru bahasa Indonesia masing-masing.  
D. SMP Negeri 2 Adimulyo mengadakan lomba berpidato pada tanggal 30 April 2013. Peserta lomba adalah siswa yang ditunjuk oleh guru bahasa Indonesiannya masing-masing. Tema lomba adalah peringatan hari Pendidikan Nasional.

46. **Perhatikan data buku berikut!**

Judul buku : Riwayat Nabi Daud (Raja adil bijaksana, Nabi yang mulia)  
Pengarang : Ismail Pamungkas  
Penerbit : PT Remaja Rosdakarya Bandung

Keunggulan : Penggunaan bahasa mudah dipahami

Kelemahan : Banyak salah dalam penulisan kata

Paragraf resensi yang tepat berdasarkan data buku tersebut adalah ....

- A. Isi buku bercerita tentang keadlian dan kebijaksanaan Nabi Daud menjadi raja sudah kehendak Tuhan.  
B. Bahasa yang digunakan dalam buku ini dapat dipahami dan komunikatif. Tetapi pembaca terganggu karena banyak kata yang tercetak salah.  
C. Selain menarik, kelebihan buku ini juga dilengkapi dengan gambar yang mendukung isi cerita sehingga mudah dimengerti. Walaupun demikian buku ini harus dilengkapi dengan kata-kata baku.  
D. Kekurangan cerita terletak pada kisahnya yang terlalu singkat sehingga ceritanya kurang lengkap. Bahasa mudah dipahami karena banyak menggunakan kalimat tunggal.

47. **Cermati ilustrasi berikut!**

Nini merasa prihatin melihat orang-orang yang tinggal di pemukiman kumuh yang melakukan MCK di kali yang sangat sudah tercemar. Ia berusaha membantu masyarakat yang tinggal di perumahan kumuh tersebut dengan membuatkan mereka toilet umum. Namun, impiannya belum jadi kenyataan. Dana yang ia kumpulkan belum seberapa. Belum mencukupi sekedar untuk bisa membeli semen lima sak pun belum bisa. Akhirnya, Nini berinisiatif untuk menyurati teman-temannya ketika di SMA delapan tahun yang lalu untuk menggalang bantuan.

Isi surat pribadi yang sesuai dengan ilustrasi tersebut adalah ....

- A. Hai, Teman, aku minta kalian mau menyumbang seikhlasnya untuk membangun mereka perkampungan khusus. Aku bermaksud membantu masyarakat kumuh yang dekat sekitarku. Bisa kalian bayangkan mereka yang

tinggal di pinggir kali yang melintas di depan rumahku, anak-anak kecil, para muda dan gadis-gadis dan tetua-tetua semuanya melakukan MCK di kali yang memang udah kumuh sejak dulu.

- B. Hai, Teman, aku bermaksud akan membantu masyarakat kumuh yang dekat di sekitarku. Bisa kalian bayangkan mereka yang tinggal di pinggir kali yang melintas di depan rumahku, para muda dan gadis-gadis dan tetua-tetua semuanya melakukan MCK di kali yang memang sudah kumuh sejak dulu. Aku minta kalian mau menyumbang seikhlasnya untuk kubangunkan mereka toilet umum.
- C. Hai, Teman, aku bermaksud membangun sebuah rumah untuk membantu masyarakat kumuh yang dekat di sekitarku. Bisa kalian bayangkan, mereka yang tinggal di pinggir kali yang melintas di depan rumahku, anak-anak, para muda, gadis-gadis, dan tetua-tetua semuanya, melakukan MCK di kali yang memang sudah kumuh sejak dulu. Aku minta kalian mau menyumbang seikhlasnya.
- D. Hai, Teman, bisa kalian bayangkan mereka yang tinggal di pinggir kali yang melintas di depan rumahku, anak-anak kecil, para muda dan gadis-gadis dan tetua-tetua semuanya melakukan MCK di kali yang memang udah kumuh sejak dulu. Aku mau minta kalian mau menyumbang seikhlas untuk kubangunkan mereka rumah lengkap dengan toilet umum.

48. **Cermati ilustrasi berikut!**

Ibu Anita merasa kecewa terhadap polisi yang berjaga di sepanjang jalur lalu lintas. Kekecewaan itu disebabkan polisi tersebut membiarkan pengendara motor yang tidak menaati rambu-rambu lalu lintas. Ibu Ani pun menulis surat pembaca.

Surat pembaca yang tepat sesuai ilustrasi tersebut adalah ....

- A. Setiap pagi saya selalu lewat jalan raya yang ada polisi penjaga lalu lintas. Saya

heran para polisi menindak pengendara yang tidak melanggar aturan berlalu lintas, bagaimana ini pak polisi?

- B. Pak Polisi yang saya hormati, agar terciptanya tertib berlalu lintas di sepanjang jalan raya hendaknya menindak tegas para pengendara motor yang melanggar rambu-rambu lalu lintas. Ketegasan sangat kami butuhkan demi terciptanya kedisiplinan berlalu lintas.
- C. Saya kecewa sekali, banyak polisi yang membiarkan pengendara yang tidak patuh berlalu lintas seperti; tidak ada SIM/STNK, Pak Polisi harus tegas.
- D. Bapak Polisi yang terhormat, mohon untuk menindak orang-orang yang tidak berhelm standar. Berilah hukuman yang pantas bagi mereka agar tidak lagi mengulangi pelanggaran tersebut demi tertibnya berlalu lintas.

49. **Bacalah teks berikut!**

Ayam kampung termasuk hewan ternak yang perlu mendapat perhatian. Perhatian tersebut adalah dalam hal pemeliharaan. Pemeliharaan yang perlu mendapat perhatian adalah kandang, makanan, kebersihan, obat-obatan, pengelolaan usaha, dan pemilihan bibit yang baik.

Untuk mendapatkan hasil yang sebanyak-banyaknya, penanganannya harus sungguh-sungguh. Pekerjaan pertama adalah mempersiapkan kandang. Kemudian peralatan dan makanan disediakan. Bila kandang peralatan dan makanan serta minuman sudah siap, pemilihan bibit yang unggul. Kesehatan harus diperhatikan bagi ayam yang dipelihara. Untuk mempertinggi daya tahan tubuh dari penyakit, diperlukan pula obat-obatan.

Rangkuman yang tepat isi teks tersebut adalah ....

- A. Perhatian sungguh-sungguh terhadap ternak ayam kampung bisa mendapatkan hasil yang maksimal
- B. Pemeliharaan dan pemasaran juga menentukan keberhasilan ternak ayam kampung.

- C. Sungguh sangat rumit, memelihara ayam kampung bila untuk mendapatkan hasil yang maksimal.
- D. Memelihara ayam kampung tidak mudah karena perlu memperhatikan banyak hal.

50. **Cermati ilustrasi berikut!**

Kebakaran ini terjadi lagi, menimpa beberapa rumah di Kosambi Timur. Kerugian mencapai ratusan juta dan tiga korban terjebak api, tidak dapat diselamatkan. Penyebab kebakaran diduga tabung gas meledak. Peristiwa itu terjadi, Jumat, 31 Agustus 2012, pukul 14.15.

Teks berita sesuai dengan ilustrasi tersebut adalah ....

- A. Jumat, 31 Agustus 2012, musibah kebakaran terjadi lagi, seolah tiada henti, kebakaran selalu terjadi. Perlu kerjasama dari warga setempat untuk menjaga lingkungan masing-masing supaya tidak terjadi kebakaran.
- B. Tepat pukul 14.15 tanggal 31 Agustus 2012. Musibah kebakaran hampir terjadi lagi. Beruntung saat tabung gas meledak, pemilik warung langsung berusaha memadamkannya. Beruntung pula tidak ada korban jiwa dan harta.
- C. Jumat, 31 Agustus 2012, pukul 14.15 telah terjadi kebakaran. Lokasinya di Kosambi Timur. Kerugian ditaksir ratusan juta dan ada korban yang terjebak api sehingga tidak bisa diselamatkan. Diduga penyebab kebakaran berupa tabung gas meledak, tetapi sedang dalam penyelidikan aparat kepolisian.
- D. Jumat, 31 Agustus 2012, tepatnya pukul 14.15. karena keteledoran warga setempat terjadi lagi musibah kebakaran. Penyebab sementara adalah korsleting listrik. Peristiwa itu tidak memakan korban jiwa dan harta. Aparat kepolisian dan petugas pemadam kebakaran, sangat cekatan untuk memadamkan api tersebut.

# KUNCI JAWABAN

---



- |       |       |       |       |       |
|-------|-------|-------|-------|-------|
| 1. B  | 11. B | 21. D | 31. B | 41. A |
| 2. A  | 12. B | 22. A | 32. C | 42. B |
| 3. A  | 13. C | 23. A | 33. C | 43. A |
| 4. C  | 14. D | 24. B | 34. A | 44. C |
| 5. B  | 15. B | 25. B | 35. D | 45. C |
| 6. D  | 16. D | 26. A | 36. A | 46. B |
| 7. D  | 17. B | 27. D | 37. B | 47. B |
| 8. C  | 18. D | 28. B | 38. B | 48. B |
| 9. D  | 19. C | 29. A | 39. A | 49. D |
| 10. C | 20. C | 30. C | 40. A | 50. C |



# BAHASA INDONESIA

## Sekolah Menengah Pertama

### 1. Bacalah paragraf berikut!

Sebentar lagi musim penghujan akan segera tiba. Sejumlah persiapan pun dilakukan Pemerintah Provinsi DKI Jakarta untuk mengantisipasi masalah banjir yang kerap menjadi langganan kala musim penghujan datang. Selain melakukan normalisasi waduk, Pemrov DKI pun mulai melakukan simulasi terkait penyaluran logistik kepada warga saat banjir. Pemrov DKI mempelajari berdasarkan hasil evaluasi dari musibah banjir yang terjadi awal tahun sebelumnya.

Gagasan utama paragraf tersebut adalah ....

- Pemprov DKI mempelajari evaluasi banjir
- persiapan Pemerintah provinsi DKI Jakarta
- Pemprov DKI langganan banjir setiap tahun
- antisipasi Pemprov DKI terhadap banjir

### 2. Bacalah paragraf berikut!

- Obesitas yang mewabah di Amerika Serikat mulai menjangkiti Indonesia.
- Tanpa kenal batasan kelas sosial jumlah obesitas terus meningkat.
- Masalah yang disekat-sekat sebagai penyakit gaya hidup ini.
- Penyebab utamanya adalah pola makan yang tidak teratur.

Kalimat utama paragraf tersebut terdapat pada kalimat nomor ....

- |        |        |
|--------|--------|
| A. (1) | C. (3) |
| B. (2) | D. (4) |

### 3. Bacalah dua kutipan berita berikut!

#### Teks I

Kasat Lalu lintas Polres Bogor menghimbau kepada pengunjung, yang hendak berkunjung ke Puncak menjelang tahun baru agar berada di tempat tujuan sebelum pukul 13.00. Hal itu berkaitan dengan rencana penutupan jalur menuju Puncak sejak pukul 13.00. Imbauan itu, sebelumnya sudah disosialisasikan ke sejumlah hotel, penginapan, dan warga setempat.

#### Teks II

Guna menghindari kemacetan di jalur Puncak, Polisi sudah menyediakan jalur alternatif. Kasat Lalu lintas Polres Bogor mengharapkan para pelancong dengan tujuan Puncak agar mengusahakan tiba di tujuan sebelum pukul 13.00 WIB. Ini berkaitan dengan rencana pemberlakuan arus lalu lintas satu jalur.

Kesamaan informasi kedua teks berita tersebut adalah ....

- imbau Kasat Lalu Lintas agar wisatawan datang ke Puncak
- imbau Kasat Lalu Lintas kepada pengendara roda dua dan roda empat
- imbau Kasat Lalu Lintas rencana penutupan jalur Puncak sore hari
- imbau Kasat Lalu Lintas agar pengunjung Puncak tiba sebelum pukul 13.00

### 4. Bacalah teks berita berikut!

#### Berita I

Musim kemarau pada tahun ini mengalami pergeseran atau kemunduran. Untuk wilayah Sumatera, Sulawesi, dan sebagian Bali musim

kemarau diperkirakan baru akan dimulai Pada sepuluh hari pertama bulan Juli (Juli-I). Sementara untuk wilayah datangnya musim kemarau bervariasi, mulai dari dasarian ketiga Juni hingga dasarian ke dua Juli. Sementara musim kemarau di wilayah Maluku akan dimulai dasarian kedua Juli.

### Berita II

Kecamatan Tangan-Tangan Kabupaten Aceh Barat Daya (Abdaya) saat ini tengah mengalami krisis air bersih. Hal ini terjadi karena musim kemarau yang melanda daerah tersebut dalam beberapa bulan terakhir. Krisis air bersih ini membuat warga yang berada di seputar Pantai Cermin, Ujung Padang, Gampong Paya lebih memprioritaskan untuk keperluan memasak dan minum saja. "Air hanya untuk kebutuhan memasak dan minum," ungkap salah seorang warga, Inur pada *The Globe Journal*, Selasa (08/10/2013).

Perbedaan penyajian teks kedua kutipan diawali dengan ....

	Berita I	Berita II
A.	apa	di mana
B.	apa	siapa
C.	kapan	bagaimana
D.	siapa	kapan

### 5. Bacalah kutipan biografi berikut!

Amir Hamzah memulai kepenyairannya pada usia yang masih belia. Ketika ia masih duduk di bangku AMS, puisi-puisinya telah dimuat Majalah *Timbul* dan *Panji Pustaka*. Amir Hamzah terus menulis hingga ia menjadi mahasiswa di Sekolah Hakim Tinggi Jakarta. Amir Hamzah mendapat julukan Raja Penyair Pujangga Baru oleh H.B. Yasin. Masih menurut H.B. Yasin, Amir Hamzah adalah penyair yang sangat produktif.

Keistimewaan tokoh pada kutipan biografi tersebut adalah ....

- memulai kepenyairannya pada usia muda
- puisinya telah dimuat di majalah *Timbul*
- duduk di bangku AMS
- mendapat julukan Raja Penyair Pujangga Baru

### 6. Bacalah kutipan biografi berikut!

Bung Hatta sangat aktif melaksanakan tugasnya sebagai bendahara di suatu perkumpulan pemuda Sumatera di Padang, yang bernama, Jong Sumatranen Bond. Tetapi, selain aktif dalam pergerakan daerah, ia juga memikirkan penderitaan rakyat akibat penjajahan.

Hal yang dapat diteladani dari kutipan biografi Bung Hatta adalah ....

- aktif di organisasi daerah dan melaksanakan tugas negara dengan baik
- organisasi yang diikuti adalah Jong Sumatranen Bond
- selalu memikirkan penderitaan rakyat
- aktif berorganisasi dan memikirkan rakyatnya yang menderita

### 7. Perhatikan kalimat iklan berikut!

- Ikutilah lomba penulisan karya ilmiah tingkat SMP tahun 2013.
- Karya ilmiah membuka wawasan pengetahuan dan keilmuan kita.
- Karya ilmiah membidik prestasi siswa dalam ketrampilan menulis.

Penjelasan kalimat nomor (3) pada iklan tersebut adalah ....

- prestasi siswa hanya dapat diperoleh melalui lomba karya ilmiah
- melalui kegiatan membaca dan menulis prestasi lomba karya ilmiah dapat dicapai
- lomba penulisan karya ilmiah dapat meningkatkan prestasi siswa melalui keterampilan menulis
- keterampilan menulis siswa SMP sejalan dengan prestasi siswa dalam lomba karya ilmiah

### 8. Perhatikan iklan berikut!

---

Pakailah helm yang berstandar  
Lengkapi kelengkapan kendaraan bermotor!  
Nyalakan lampu pada siang dan malam hari!

---

Maksud iklan tersebut adalah ....

- A. mengajak menggunakan motor
- B. mengajak tertib berlalu lintas
- C. mengajak menaati peraturan berkendara
- D. mengajak kenyamanan di jalan raya

- C. Cokelat memiliki peran mencegah pertumbuhan jerawat.
- D. Responden mengalami pertumbuhan jerawat yang kian memburuk.

9. Perhatikan iklan berikut!

**Ikuti Lomba  
Penulisan Artikel**

- (1) Kegiatan Ramadhan 3 hari 3 malam
- (2) Caranya
  - ✓ Tonton terus video Tausiyah Ramadhan yang menarik di televisi Anda
  - ✓ Buat artikel/tulisan yang baik mengenai intisari dari Tausiyah yang terdapat dalam video tersebut
- (3) Pengumuman pemenang Tgl 31 Agustus 2012
- (4) Pemenang akan mendapatkan hadiah uang tunai dan hadiah menarik lainnya

Kalimat fakta dalam iklan tersebut ditandai nomor ....

- A. (1) dan (2)
- B. (2) dan (3)
- C. (2) dan (4)
- D. (1) dan (3)

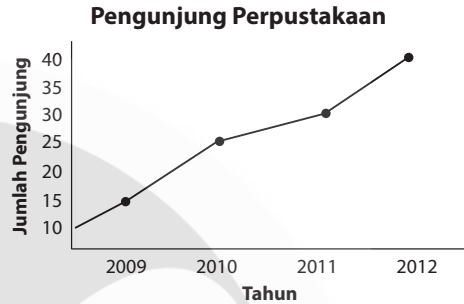
10. Bacalah kutipan biografi berikut!

Cokelat yang sering menjadi primadona untuk memulihkan rasa stress ternyata dapat mencegah pertumbuhan jerawat yang sedang diderita oleh seseorang. Sebuah penelitian yang dilakukan oleh mahasiswa kedokteran di *University of Miami School of Medicine* berhasil menemukan cokelat memiliki peran mencegah pertumbuhan jerawat. Responden dalam penelitian tersebut terdiri atas sepuluh pria berusia 18 hingga 35 tahun. Mereka diminta memakan cokelat murni sebanyak tiga hingga empat ons. Setelah itu mereka harus diet selama seminggu. Selama proses diet inilah ditemukan hormon jerawat yang kian hari kian memburuk.

Simpulan isi paragraf tersebut adalah ....

- A. Cokelat baik untuk memulihkan rasa stres.
- B. Cokelat diteliti oleh mahasiswa kedokteran di University of Miami.

11. Perhatikan grafik berikut!



Simpulan isi grafik pengunjung perpustakaan tersebut adalah ....

- A. Tahun 2009 ada 20 orang yang berkunjung ke perpustakaan.
- B. Setiap tahun pengunjung perpustakaan selalu meningkat.
- C. Pengunjung perpustakaan yang paling rendah pada tahun 2012.
- D. Setiap tahun pengunjung perpustakaan tidak ada peningkatan.

12. Cermati tabel berikut!

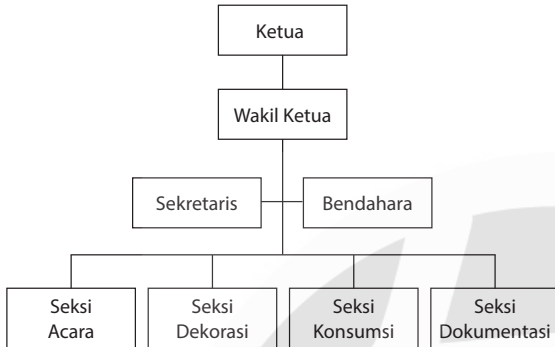
Jumlah lulusan SMP Swasta Kec.Cakung Yang diterima di SMA Negeri			
Nama Sekolah	Tahun 2011	Tahun 2012	Tahun 2013
SMP Bunda	30	45	60
SMP Permata	31	30	65
SMP Harapan	34	34	64
SMP Sinar	33	31	69

Pernyataan yang paling sesuai dengan isi tabel tersebut adalah ....

- A. Siswa SMP Bunda yang diterima di SMA Negeri selalu meningkat setiap tahun.
- B. Siswa SMP Harapan yang diterima di SMA Negeri mengalami penurunan.
- C. Siswa SMP Permata yang terbanyak diterima di SMA Negeri pada tahun 2011.
- D. Siswa SMP Sinar yang paling sedikit diterima di SMA Negeri pada tahun 2013.

13. Perhatikan bagan berikut!

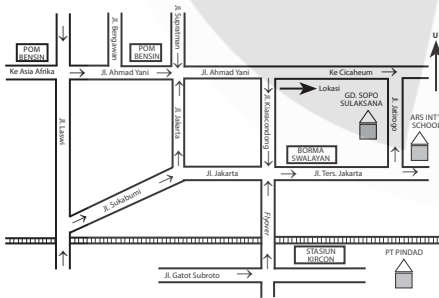
**Panitia Perpisahan Siswa Kelas IX  
SMP Harapan Tahun 2013/2014**



Pertanyaan yang sesuai dengan isi bagan tersebut adalah ....

- Berapa jumlah seksi dalam acara perpisahan?
- Kapan acara perpisahan siswa kelas IX tersebut akan dilakukan?
- Mengapa dalam kepanitiaan tersebut tidak ada seksi penerima tamu?
- Di mana acara perpisahan siswa kelas IX tersebut akan dilaksanakan?

14. Cermati denah berikut!



Perjalanan yang efektif dari Stasiun Kereta Api Kircon menuju lokasi gedung Sopo Sulaksana adalah ....

- Dari St. Kereta Api Kircon naik flyover, turun kemudian belok kiri ke Jl. Jakarta langsung ke Jl. Ahmad Yani.
- Dari St. Kereta Api Kircon melalui flyover, belok kanan Jl. Ters. Jakarta, lalu belok kiri arah utara, Jl. Jatirogo.
- Dari St. Kereta Api Kircon masuk Jl. Ahmad Yani belok Cicaheum terus Jl. Jatirogo.

- Dari St. Kereta Api Kircon masuk Jl. Jakarta lurus Jl. Sukabumi belok kanan Jl. Laswi langsung ke Jl. Jatirogo.

15. Bacalah puisi berikut!

*Terdengar suara ombak  
Berhembus angin, mendingin  
Di tengah pantai  
Kapal berlayar  
Berlayar langit membiru  
Pasir putih membenamkan di pantai*

Tema puisi tersebut adalah ....

- keindahan alam
- keindahan gunung
- keindahan lingkungan
- keindahan pantai

16. Bacalah kutipan puisi berikut!

**Tanah Kelahiran**

*Antara gundukan pohon pina  
Tembang menggema  
Burangrang - Tangkuban Perahu  
Jamrut di pucuk-pucuk*

Citraan pada larik ke-2 puisi tersebut adalah ....

- penglihatan
- pendengaran
- penciuman
- perasa

17. Bacalah kutipan puisi berikut!

- Lintah merayap melalui urat*
- Menelan darah seribu liter*
- Manusia tengadah dalam kematian*
- Kembali kepada-Nya*

Majas pada puisi tersebut terdapat pada larik ke ....

- (1)
- (2)
- (3)
- (4)

18. Bacalah kutipan cerpen berikut!

Sulung memelukku. "Papa, lebaran nanti tidak ada eyang. Pasti tidak enak ya, Pa. Eyang baik ya, Pa. Dia suka memanjakan kita dengan memasak ketupat komplet, sup buntut."

Bungsu menimpali, "Kita bangga ya, Pa. Eyang itu kan tetap cantik sampai tua. Eyang kan turunan putri raja. Jadi pasti cantik ya, Pa."

Penggambaran watak tokoh Eyang pada kutipan cerpen tersebut adalah ....

- A. tindakan tokoh
- B. dialog antartokoh
- C. diceritakan langsung
- D. diceritakan tokoh lain

19. **Bacalah kutipan cerpen berikut!**

- (1) Dahulu ketika istriku mulai menempati rumah kontrakan, ia membersihkan kamar, menaruh barang-barang di tempatnya.
- (2) Ada tempat tersendiri bagi tiap benda, pakaian, meja, kursi, beras, bumbu, dan ada juga tempat sampah.
- (3) Samurai ada di lemari.
- (4) Tempat samurai di dinding diganti hiasan batik yang sempurna bagusnya.
- (5) Aku kagum dengan kepandaiannya
- (6) Baru kali inilah aku tahu, bahwa di dinding lebih pantas ditaruh hiasan daripada sebuah samurai.

Bukti bahwa tokoh istriku memiliki watak rajin terdapat pada nomor ....

- A. (1)    C. (3)
- B. (2)    D. (4)

20. **Bacalah kutipan cerpen berikut!**

Hari bergulir ke Magrib. Si nenek yang renta itu masih saja di tempat semula, nyaris tak beranjak, memunguti dedaunan yang selalu saja berguguran di halaman masjid. Tubuh tuanya kusut basah oleh keringat. Napasnya terengah-engah. Ketika pemuda desa itu tak bisa berbuat lain kecuali menyapanya.

Latar pada kutipan cerpen tersebut adalah ....

- A. siang hari di depan masjid
- B. pagi hari di halaman masjid
- C. malam hari di sebelah masjid
- D. petang hari di halaman masjid

21. **Bacalah kutipan cerpen berikut!**

Setiap saat anak-anak selalu bermain di lapangan. Anak laki-laki bermain sepak bola, anak perempuan bermain lompat tali. Semua tampak gembira kecuali Tuning. Ia hanya memerhatikan kami bermain dari balik pohon besar.

“Kenapa Tuning tidak kita ajak main?” usulku.

Isna langsung melotot, “Apa kamu mau ketularan kutu rambutnya? Belum ingusnya yang menjijikkan itu,” tambah Heppy. Teman-teman ramai komentar, semua menjelek-jelekan Tuning. Sejak itu, aku tidak berani usul lagi untuk mengajak Tuning bermain bersama.

Konflik pada cerita anak tersebut adalah ....

- A. tokoh aku dijauhi teman-temannya
- B. tokoh aku malu bermain dengan Tuning
- C. dikucilkannya Tuning oleh teman-temannya
- D. teman-temannya membenci Tuning karena penyakitkan

22. **Bacalah kutipan cerpen berikut!**

Novel I
Siti Nurbaya menangis menghadapi kenyataan bahwa dirinya yang cantik dan muda belia harus menikah dengan Datuk Maringgih yang tua bangka dan berkulit kasar seperti kulit katak. Lebih sedih lagi ketika ia teringat Samsul Bahri, kekasihnya yang sedang sekolah di stovia, Jakarta. Sungguh berat memang, namun demi keselamatan dan kebahagiaan ayahandanya ia mau mengorbankan kehormatannya.
Novel II
Aku tetap diminta mengisi ruangan budaya tari. Pada hari-hari tertentu aku memesan becak tetangga untuk membawaku ke kota, ke salah satu sekolah tari yang dipimpin oleh seorang guru tari muda yang ku kenal baik. Atau kadang-kadang mengatur sikap tari Jawa yang kuketahui untuk tidak kehilangan kekuatan urat-urat lutut dan pinggul.

Perbedaan latar pada kedua kutipan novel tersebut adalah ....

	Novel I	Novel II
A.	etika	sikap sopan santun
B.	adat istiadat	mempertahankan budaya
C.	tatakrama	keyakinan
D.	kawin paksa	cara berpikir

23. Bacalah kutipan cerpen berikut!

Novel I
Pukul sembilan pagi si pencari nafkah tak ada di rumah lagi. Masing-masing sudah ada di tempat kerjanya. Amtenar kantor dan pegawai toko sudah bersingsing lengan baju melakukan kewajibannya. Tukang angkat telah memulai mandi keringat memikul barang-barang dari suatu tempat ke tempat lain. Tak peduli berat. Tak indahkan panas.
Novel II
<p>"Takut? Apa yang engkau takutkan?" tanya-nya lembut.</p> <p>"Salim takut tidur sendiri dalam gelap," jawab anak-anak itu.</p> <p>"Kalau pakai lampu engkau takut juga?" tanya-nya kemudian. Salim menggelengkan kepalanya. Guru Isa berdiri, dan memutar-kan knop listrik.</p> <p>"Nah", katanya. "Sekarang terang, engkau tidak takut lagi. Tidurlah."</p>

Perbedaan ciri penggunaan bahasa kedua cuplikan novel terlihat pada ....

	Novel I	Novel II
A.	menggunakan ungkapan klise	menggunakan bahasa percakapan sehari-hari
B.	bahasa percakapan sehari-hari	menggunakan ungkapan klise
C.	menggunakan bahasa berkias	menggunakan bahasa petatah-petatih

D.	menggunakan bahasa percakapan	menggunakan bahasa berkias
----	-------------------------------	----------------------------

24. Bacalah kutipan cerpen berikut!

Ayah : Kau sepertinya tidak suka melihat ayah di sini, Dam. (1)

Adam: Ya. Aku tidak suka. Kecuali Ayah bilang pada Zuz dan Qon, bahwa cerita-cerita itu bohong. (2)

Ayah : (*menggeleng*) Aku tidak bohong! (3)

Adam: Kalau begitu Ayah tahu risikonya, Ayah harus pergi dari sini. (4)

Taani : Dam! (*Taani berseru kencang, sambil menangis*) Jangan lakukan, aku mohon jangan lakukan itu. Itu ayah, Dam. Ayah kau! Yang menggendong kau saat bayi , itu ayah, Dam. (5)

Ayah : Baik.... Baiklah. (*Ayah berdiri, matanya redup*) (6)

Taani : Jangan pergi! (*berlari menahan lengan ayah*) Aku mohon, Ayah jangan pergi. (7)

Ayah : Ayah tidak ke mana-mana, bukan? (*tertawa kecil*) Kau dan anak-anak bebas mengunjungiku kapan saja di sini (*menunjuk kuburan*). (8)

Taani : Apa? Ayah mau tinggal di sini? (9)

Bukti latar kutipan drama di kuburan ditunjukkan dengan nomor ....

- A. (1) dan (3)                      C. (6) dan (7)  
B. (4) dan (5)                      D. (8) dan (9)

25. Bacalah kutipan drama berikut!

Perempuan tua : "Ayahmu tidak kelihatan sehari-hari ini, Satilawati".

Satilawati : "Ayah mengurung saja sehari-hari ini di kamarnya. Mengarang, apa lagi".

Perempuan tua : "Banyakkah ia mendapat duit dengan karangan itu?"

Satilawati : (*menunjuk ke belakangnya*) "Rumah itu buktinya".

Perempuan tua : "Memang ia seorang yang rajin".

Satilawati : "Tapi sejak mata orang Indonesia terbuka untuk kesusastaan baru, ia tercecet".

Perempuan tua : "Maksudmu, karangannya tidak disukai orang lagi?"

Satilawati : "Hanya oleh kawan-kawannya yang sezaman dengan dia dan oleh orang-orang yang tiada mempunyai perjuangan hidup lagi".

Konflik pada kutipan drama tersebut adalah ....

- A. frustasi karena karyanya tidak baik
- B. perbedaan pendapat tentang perjuangan
- C. pertentangan seorang ayah dengan anaknya
- D. perbedaan pandangan kedua orang tentang karangan

26. **Bacalah ilustrasi berikut!**

Andri merasa senang karena timnya berhasil memenangkan pertandingan takraw antar-sekolah. Andri gembira, ia mengungkapkan perasaannya dalam buku harian.

Catatan buku harian Andri sesuai ilustrasi tersebut adalah ....

- A. Hasilnya telah terlihat, tim takraw sekolahku menang. Semua ini karena kerja sama semua pihak.
- B. Hari ini, tim takrawku menang. Aku gembira sekali. Usahaku dan teman-teman tidak sia-sia. Terima kasih Tuhan!
- C. Ternyata kemenangan yang ditunggu-tunggu datang juga. Tim takraw sekolahnya berhasil menjadi juara.
- D. Sesungguhnya, peristiwa yang sangat berarti dalam hidupnya terjadi. Tim takraw sekolahnya berhasil menjadi juara.

27. **Bacalah dengan saksama ilustrasi berikut!**

Direktur Bank Amarta meminta kepala satpam menghadapnya untuk dimintai keterangan berkaitan dengan peristiwa

pencurian di bank tersebut. Kepala satpam diminta menjelaskan kronologi peristiwa itu secara lisan.

Isi pesan singkat yang tepat berdasarkan ilustrasi tersebut adalah ....

- A. Jelaskan kronologi peristiwa pencurian itu di hadapan saya secepatnya.
- B. Segera menghadap saya dan jelaskan kronologi pencurian itu secara lisan.
- C. Secepatnya harap menghadap satpam dan jelaskan kronologi pencurian itu.
- D. Kami diminta Saudara membuat penjelasan tentang kronologi pencurian itu cepat.

28. **Cermati kalimat-kalimat berikut!**

- (1) Karyawan yang hadir dalam apel pagi ini 760 orang.
- (2) Apel pagi di lingkungan dinas pendidikan akan segera dimulai.
- (3) Persentase kehadiran sebanyak 90,5%.
- (4) Jumlah karyawan dinas pendidikan sebanyak 840 orang.
- (5) Karyawan yang tidak hadir sebanyak 80 orang.

Susunan kalimat tersebut agar menjadi paragraf laporan yang padu adalah ....

- A. (2) – (5) – (4) – (3) – (1)
- B. (2) – (4) – (1) – (5) – (3)
- C. (5) – (1) – (3) – (4) – (2)
- D. (5) – (4) – (2) – (1) – (3)

29. **Bacalah ilustrasi berikut!**

Setiap hari Jum'at pagi, pada minggu ke-4 di sekolah biasa dilaksanakan operasi bersih disekitar lingkungan sekolah. Sehubungan hari itu akan dilaksanakan UTS, kegiatan itu untuk sementara tidak dilaksanakan.

Isi pengumuman sesuai dengan ilustrasi tersebut adalah ....

- A. Ditujukan kepada semua siswa-siswa bahwa kegiatan Jum'at bersih ditunda pelaksanaannya karena UTS.
- B. Ditujukan kepada semua siswa bahwa kegiatan Jum'at bersih minggu ini tidak dilaksanakan karena ada kegiatan UTS.

- C. Semua siswa yang mau melaksanakan kegiatan Jum'at bersih tidak perlu melaksanakan kegiatan UTS.
- D. Semua siswa yang ikut kegiatan Jum'at bersih minggu ini harap datang setelah kegiatan UTS.

30. **Cermati data buku berikut!**

Judul : Menulis kreatif!  
 Penulis : Haris Efendi Thahar  
 Penerbit : UND Press  
 Tebal : 219  
 Keunggulan : Buku ini menyajikan kiat-kiat menulis bagi pemula. Bahasanya familiar.  
 Kelemahan : Lem kertas kurang kuat sehingga mudah lepas.

Paragraf resensi yang sesuai dengan data tersebut adalah ....

- A. Haris Efendi Thahar menulis buku yang berjudul menulis kreatif dengan tebal 219. Buku ini menyajikan kiat-kiat menulis bagi pemula dengan rinci. Bahasanya sulit dipahami dan lem kertasnya sangat kuat.
- B. Buku setebal 219 halaman yang ditulis oleh Haris Efendi Thahar ini mengemukakan kiat-kiat menulis bagi pemula. Bahasanya familiar mudah dipahami. Sayangnya lem kertas kurang kuat sehingga mudah lepas.
- C. Menulis kreatif karya Haris Efendi Thahar memberikan informasi tentang kiat-kiat menulis kreatif buku ini layak dimiliki bagi pemula dalam menulis.
- D. Haris Efendi Thahar penulis buku menulis kreatif memberikan informasi tentang kiat-kiat menulis kreatif. Buku setebal 219 halaman ini layak dimiliki oleh pemula dalam menulis, karena bahasanya enak dibaca. Sayangnya buku ini mahal harganya.

31. **Bacalah ilustrasi berikut!**

Tahun ajaran baru Tanti pindah sekolah ke Yogyakarta. Ia menulis surat untuk sahabatnya Mitha di Surabaya. Ia ingin menceritakan keadaan di sekolah.

Bagian pembuka yang sesuai dengan ilustrasi tersebut adalah....

- A. Bagaimana keadaanmu saat ini Tanti? Semoga selalu dalam lindungan Tuhan Yang Maha Esa.
- B. Halo, Tanti, apa kabar? Aku di Surabaya dalam keadaan sehat walafiat.
- C. Saya tutup dulu cerita kita ya, nanti disambung lagi! Semoga kita dapat berjumpa di lain waktu.
- D. Hai Mitha, bagaimana keadaanmu? Saya berharap kamu dan keluargamu dalam keadaan sehat.

32. **Bacalah kutipan surat berikut!**

Yth. Kepala SMP Negeri 5 Bandung di Bandung

Dengan hormat,  
 Dengan ini kami mengundang Bapak untuk membuka acara Pentas Kreasi Lima yang akan dilaksanakan pada  
 hari, tanggal : Sabtu, 11 Mei 2013  
 pukul : 08.00WIB  
 tempat : Halaman SMPN 5 Bandung

Demikian undangan ini kami sampaikan. [...]

Kalimat yang tepat untuk melengkapi surat tersebut adalah....

- A. Kami mengucapkan terima kasih atas perhatian Bapak pada acara ini.
- B. Kami mengucapkan terima kasih atas kesediaan Bapak membuka acara nanti.
- C. Atas segala perhatian dan kehadirannya kami sampaikan banyak terima kasih.
- D. Kami berharap Bapak dapat membantu kegiatan ini supaya berjalan lancar

33. **Bacalah ilustrasi berikut!**

Tumpukan sampah yang menggunung disudut Stasiun Kereta Api Gondangdia menimbulkan bau busuk, sehingga warga setempat dan penumpang kereta api harus menahan napas setiap kali melewati tempat itu.

Surat pembaca yang sesuai dengan ilustrasi tersebut adalah ....

- A. Saya, salah satu penumpang kereta api yang setiap hari lewat di Stasiun Gondangdia sangat risih melihat tumpukan sampah yang menggunung di sudut stasiun. Padahal di situ jalan untuk umum. Penumpang kereta menahan nafas setiap melewati jalan itu, karena bau sampah yang sangat menyengat. Saya mohon kepada pihak terkait untuk memindahkan sampah itu.
- B. Saya, salah satu warga Gondangdia sangat risih melihat tumpukan sampah yang menggunung di sudut stasiun Gondangdia. Sampah yang menggunung sehari-hari menimbulkan bau busuk yang sangat menyengat sehingga kami dan penumpang kereta api harus menahan nafas setiap melewati tempat tersebut. Mohon kepada pihak terkait segera menangani masalah tersebut.
- C. Saya, warga Gondangdia menyarankan agar pembuangan sampah di sudut Stasiun Gondangdia jangan sampai menggunung. Alangkah baiknya kalau setiap hari ada truk yang mengambil sampah itu. Kalau tidak ada pembuangan sampah disitu, warga akan membuang sampah di sembarang tempat, lingkungan menjadi kotor, Saya setuju ada pembuangan sampah sementara di sudut stasiun.
- D. Saya, warga setempat dan penumpang kereta api merasa risih melihat tumpukan sampah yang menggunung di sudut Stasiun Gondangdia. Mengapa pemerintah menggunakan tempat itu sebagai pembuangan sampah sementara? Sampah yang menggunung itu menimbulkan bau yang menyengat karena truk sampah tiga hari sekali baru datang.

34. **Bacalah teks berikut!**

Pulau Bawean mewakili terumbu karang terbaik di Indonesia, terutama di Pulau Gili, sehingga ideal untuk dikembangkan sebagai tujuan wisata.

Peneliti terumbu karang dan dosen, Jainul Hidayah, mengatakan, terumbu karang di Pulau Gili Bawean paling subur. Hamparan terumbu karangnya memiliki potensi dikembangkan untuk menarik wisatawan ke Pulau Bawean yang berjarak 144 kilometer dari Gresik Jawa Timur.

Rangkuman bacaan tersebut adalah ....

- A. Terumbu karang terbaik terdapat di Pulau Bawean selain subur juga punya potensi untuk menarik wisatawan ke pulau tersebut.
- B. Pulau Bawean yang berjarak 144 kilometer dari Gresik Jawa Timur mempunyai potensi untuk dikembangkan.
- C. Indonesia mempunyai terumbu karang terbaik di Pulau Bawean yang bisa dikembangkan oleh peneliti untuk menarik wisatawan.
- D. Peneliti menyatakan bahwa terumbu karang di Gresik Jawa Timur mempunyai potensi dikembangkan objek wisata di Indonesia.

35. **Perhatikan fakta-fakta berikut!**

- (1) Peristiwa kecelakaan lalu lintas terjadi di Jalan Raya Bogor.
- (2) Sebuah bus pariwisata mengangkut penumpang.
- (3) Peristiwa itu mengakibatkan arus lalu lintas menjadi macet.
- (4) Tidak ada korban jiwa dalam peristiwa itu.

Teks berita yang tepat berdasarkan fakta-fakta tersebut adalah ....

- A. Peristiwa itu mengakibatkan arus lalu lintas menjadi macet. Hal itu disebabkan sebuah kecelakaan bus yang mengangkut penumpang. Peristiwanya terjadi di Jalan Raya Bogor, jumlah korban luka-luka 4 orang dan meninggal 2 orang.
- B. Telah terjadi kecelakaan beruntun di Jalan Raya Bogor. Penyebabnya karena pengemudi mengantuk. Korban yang meninggal di tempat 4 orang dan luka-luka orang.

- C. Sebuah bus penumpang mengalami kecelakaan di Jalan Raya Bogor. Di duga penyebabnya rem blong dan supirnya mengantuk. Beruntung tidak terdapat korban jiwa. Peristiwa itu sedang ditangani aparat keamanan.
- D. Peristiwa kecelakaan lalu lintas terjadi di Jalan Raya bogor. Kecelakaan menimpa sebuah bus pariwisata. Peristiwa tersebut mengakibatkan arus lalu lintas menjadi macet. Beruntung tidak ada korban jiwa dalam kecelakaan itu.

36. **Bacalah ilustrasi berikut!**

Untuk meningkatkan perhatian dan kesadaran siswa dalam memelihara kebersihan taman sekolah, pengurus OSIS mengadakan lomba karikatur yang akan diikuti oleh setiap perwakilan kelas VII, VIII, IX. Agar dapat memacu motivasi peserta, panitia membuat slogan.

Slogan yang tepat sesuai ilustrasi tersebut adalah ....

- Mari berlomba karikatur.
- Gambar karikatur, siapa takut?
- Taman kita, taman bersama.
- Karikaturmu, cerminan perilakumu.

37. **Bacalah ilustrasi berikut!**

Karena desakan kebutuhan, Bapak Nyoto akan menjual sebuah mobil tahun 2006 yang berwarna hijau metalik. Mobil tersebut ditawarkan 140 juta, tetapi masih bisa ditawar. Penjualan dilakukan melalui iklan baris dikoran. Peminat harap menghubungi Bapak Nyoto, telepon (024)8751514.

Iklan baris yang tepat berdasarkan ilustrasi tersebut adalah ....

- Dijual segera Mobil harga 140 juta warna hijau, bodi mulus dijamin puas dapat menghubungi Bapak Nyoto. telepon (024) 8751514
- Jual cp BU Mobil thn 2006, warna hijau met. Bodi mls, 140 jt nego. Hubungi Bapak Nyoto. telepon (024) 8751514
- Akan dijual segera Mobil th'06 bodi mls, warna hijau mtl 140jt bks milik wnt hub Nyoto. telepon (024) 8751514

- D. Akan dijual dengan segera Mobil 2006, bodi sangat mulus dan dijamin puas masih bisa ditawar, warna hijau metalik pegangan wanita, Hubungi Bapak Nyoto. telepon (024)8751514

38. **Bacalah petunjuk berikut!**

*Cara menolong korban yang digigit kucing:*

- Bersihkan luka dengan air atau kapas yang dibasahi.
- Balutlah dengan kain kassa agar tidak masuk kuman.
- Berilah antiseptik agar luka tidak terinfeksi.
- Bawalah penderita ke dokter terdekat.

Urutan yang tepat cara menolong korban yang digigit kucing adalah ....

- (1) – (2) – (3) – (4)
- (1) – (3) – (2) – (4)
- (3) – (1) – (4) – (2)
- (4) – (2) – (1) – (3)

39. **Bacalah petunjuk berikut!**

*Petunjuk membuat jamu jerawat:*

- Kupaslah kulit kunyit dan temulawak putih.
- Cucilah semua bahan tersebut.
- Rebuslah semua bahan dengan 3 gelas air.
- [...]
- Kecilkan apinya hingga air tinggal setengah gelas.
- [...]

Kalimat yang paling tepat untuk mengisi bagian yang rumpang adalah ....

- (4) Tambahkan gula atau madu sebagai pemanis  
(6) Tunggulah beberapa saat hingga air rebusan habis
- (4) Tambahkan gula atau madu sebagai pemanis  
(6) Tunggulah hingga mendidih
- (4) Tunggulah hingga mendidih  
(6) Tambahkan gula atau madu sebagai pemanis
- (4) Tunggulah hingga mendidih  
(6) Tunggulah beberapa saat hingga air rebusan habis

40. **Bacalah ilustrasi berikut!**

Hari Anti Korupsi akan diperingati di SMP Mekar Sari. Pembina OSIS akan menyampaikan pidato dengan tema *Perlunya Mena-namkan Karakter Anti Korupsi pada seluruh siswa.*

Kalimat pembuka pidato yang sesuai dengan ilustrasi tersebut adalah ....

- A. Semakin hari korupsi semakin merajalela, sudah saatnya kita sebagai anak bangsa menyadari dampak dari korupsi.
- B. Halo semuanya, apa kabar, sehat-sehat semuanya. Marilah kita menanamkan karakter anti korupsi pada diri masing-masing.
- C. Setahu saya Hari Anti Korupsi harus diperingati oleh seluruh warga negara. Kita harus bertekad untuk memberantas korupsi sampai ke akar-akarnya.
- D. Puji syukur senantiasa kita sampaikan kepada Tuhan Yang Maha Kuasa, sebab atas izin-Nyalah kita dapat berkumpul untuk mengikuti peringatan Hari Anti Korupsi.

41. **Perhatikan kutipan teks pidato berikut!**

Saya mengucapkan selamat dan terima kasih atas kehadiran teman-teman dalam kegiatan pameran seni dan kreativitas dalam rangka menyambut adik-adik siswa kelas tujuh yang baru [...]. Apabila dalam penyelenggaraan kegiatan ini banyak kekurangan, panitia mohon maaf.

Kalimat yang tepat untuk melengkapi teks pidato yang rumpang adalah ....

- A. Akhirnya kami atas nama panitia mengucapkan selamat mengunjungi pameran seni dan kreativitas ini.
- B. Puji syukur senantiasa kita panjatkan ke hadirat Tuhan yang telah memberikan kesehatan sehingga bisa menyelenggarakan kegiatan ini.
- C. Demikian sambutan dari saya selaku panitia, semoga pameran seni dan kreativitas siswa ini bermanfaat bagi semua.
- D. Pameran buku ini merupakan agenda tahunan osis dalam rangka memotivasi para siswa agar gemar membaca.

42. **Bacalah tema karya ilmiah berikut!**

Tema: Meningkatkan prestasi belajar siswa dengan membaca bersama

Rumusan masalah yang tepat sesuai tema tersebut adalah ....

- A. Siapa sajakah yang prestasi belajarnya meningkat?
- B. Kapan kita dapat meningkatkan prestasi belajar membaca?
- C. Bagaimana upaya meningkatkan prestasi belajar dengan membaca bersama?
- D. Apakah dengan belajar dapat meningkatkan prestasi membaca bersama?

43. **Bacalah simpulan karya ilmiah berikut!**

Lingkungan pergaulan dapat mengubah kepribadian para remaja. Remaja dengan lingkungan pergaulan yang baik dapat menimbulkan kepribadian yang lebih baik daripada remaja dengan lingkungan pergaulan yang kurang bagus. Peran orang tua, guru, teman, dan masyarakat berupa teladan dan nasihat sangatlah dibutuhkan untuk menghadapi masalah dalam pergaulan remaja.

Saran yang tepat berdasarkan simpulan tersebut adalah ....

- A. Kepada para remaja hendaklah selalu berhati-hati pada zaman sekarang.
- B. Orangtua dan masyarakat sebaiknya memberi teladan dan nasihat kepada remaja.
- C. Kepada para remaja agar tidak mudah terjebak dan terpengaruh dalam pergaulan.
- D. Remaja harus bergaul dengan teman sekolah yang dapat memberi nasihat.

44. **Perhatikan data buku berikut!**

Data buku:

- (1) Buku berjudul Pengantar Novel Indonesia karangan Jakob Sumardjo diterbitkan oleh Penerbit Karya Unipress pada tahun 1983 di Jakarta.

- (2) Buku berjudul *Anak Perawan di Sarang Penyamun* karangan Sutan Takdir Alisyahbana diterbitkan pada tahun 1992 di Jakarta oleh Penerbit Dian Rakyat.

Penulisan daftar pustaka berdasarkan kedua data buku tersebut yang tepat adalah ....

- A. Sumardjo, Jakob. *Pengantar Novel Indonesia*. Jakarta: Karya Unipress. 1983.  
Alisyahbana, Sutan Takdir. *Anak perawan di Sarang Penyamun*. Jakarta: Dian Rakyat. 1992.
- B. Jakob Sumardjo. 1983. *Pengantar Novel Indonesia*. Jakarta: Karya Unipress.  
Sutan Takdir Alisyahbana. 1992. *Anak perawan di Sarang Penyamun*. Jakarta: Dian Rakyat.
- C. Alisyahbana, Sutan Takdir. *Anak perawan di Sarang Penyamun*. Jakarta: Dian Rakyat, Sumardjo, Jakob. 1983. *Pengantar Novel Indonesia*. Jakarta: Karya Unipress.
- D. Alisyahbana, Sutan Takdir. *Anak perawan di Sarang Penyamun*. Jakarta: Dian Rakyat, Sumardjo, Jakob. *Pengantar Novel Indonesia*. 1983. Jakarta: Karya Unipress.

45. **Perhatikan kalimat berikut!**

Kami selalu sarapan pagi agar supaya tidak sakit perut ketika berolahraga.

Perbaiki kalimat tidak efektif tersebut yang tepat adalah ....

- A. Kami selalu sarapan pagi agar tidak sakit perut ketika berolahraga.
- B. Kami selalu sarapan pagi supaya tidak sakit perut ketika berolahraga.
- C. Ketika berolahraga kami selalu sarapan agar tidak sakit perut.
- D. Kami selalu sarapan agar tidak sakit perut ketika berolahraga.

46. **Perhatikan kalimat berikut!**

Budi sering disebut pahlawan. Dia sendiri tidak tahu sebabnya.

Penggunaan tanda baca yang tepat pada kalimat tersebut adalah ....

- A. Budi, sering disebut "pahlawan"; Dia sendiri tidak tahu sebabnya.
- B. Budi, sering disebut "pahlawan" Dia sendiri tidak tahu sebabnya.
- C. Budi, sering disebut "pahlawan", dia sendiri tidak tahu sebabnya.
- D. Budi, sering disebut pahlawan, Dia sendiri tidak tahu sebabnya.

47. **Perhatikan kalimat berikut!**

Kalian harus *berkaitan* orang yang bersangkutan bila ingin mengetahui *perdebatannya* lebih jelas lagi.

Penggunaan kata yang tepat untuk mengganti kata bercetak miring pada kalimat tersebut adalah ....

- A. bersambung, perbincangan
- B. menghubungi, persoalannya
- C. bertalian, pembahasannya
- D. menghampiri, perselisihannya

48. **Bacalah kutipan pantun berikut!**

[...] (1)

[...] (2)

Pergi pagi pulang petang  
Membawa beras upah menumbuk

Larik yang tepat untuk melengkapi pantun tersebut adalah ....

- A. Jawi hitam tidak bertanduk (1)  
Memakan rumput di atas munggu (2)
- B. Rakit ditetas dengan kapak (1)  
Hanyutkan dari Pulau Kukus (2)
- C. Awan berkisar di gunung tinggi (1)  
Nyala pelita ditaruh minyak (2)
- D. Dari petani pulang ke Padang (1)  
Membawa unggas bergombak gaul (2)

49. **Bacalah kutipan puisi berikut!**

Bertudung langit selalu biru  
Tempat cahaya selalu benderang  
Tempat udara selalu bersih  
Tempat angin selalu nikmat  
[...]

Larik bermajas untuk melengkapi bagian rumpang puisi tersebut adalah ....

- A. Tempat menari si burung camar.
- B. Di tempat sepi, di mana hanya.
- C. Di sana kuingin berkubur.
- D. Di pundakmu wahai ibuku.

50. **Bacalah kutipan drama berikut!**

Ida Ayu : “Apa yang sedang kamu pikirkan, Nisa?”

Cut Nisa : [...] (1)

Ida Ayu : “Kamu jangan berbohong, Nis. Dari tatapan matamu terlihat kamu sedang memikirkan sesuatu”.

Cut Nisa : [...] (2)

Ida Ayu : “O, itu masalahmu”.

Pernyataan yang tepat untuk melengkapi naskah drama tersebut adalah ....


- A. (1) Aku sedang memikirkan tugasku yang belum selesai-selesai.  
(2) Betul. Aku tidak bohong.
- B. (1) Ada yang aneh pada diri Pak Goris.  
(2) Tepat, apa yang kamu katakan.
- C. (1) Aku memang mengalami sedikit masalah Da!  
(2) Aku bingung, Da. Mengapa akhir-akhir ini aku sering dimarahi Pak Goris?
- D. (1) Tidak ada, Da.  
(2) Yah, aku Cuma sedang memikirkan rencanaku besok pagi. Apa yang perlu aku kerjakan lebih dulu?

# KUNCI JAWABAN

---



1. D    11. B    21. C    31. D    41. C
2. A    12. A    22. B    32. B    42. C
3. D    13. A    23. A    33. B    43. B
4. A    14. B    24. D    34. A    44. C
5. D    15. D    25. D    35. D    45. D
6. D    16. B    26. B    36. D    46. C
7. C    17. B    27. B    37. B    47. B
8. C    18. B    28. B    38. B    48. D
9. D    19. A    29. B    39. C    49. A
10. C    20. D    30. B    40. B    50. D



# BAHASA INDONESIA

## Sekolah Menengah Pertama

1. **Bacalah paragraf berikut!**

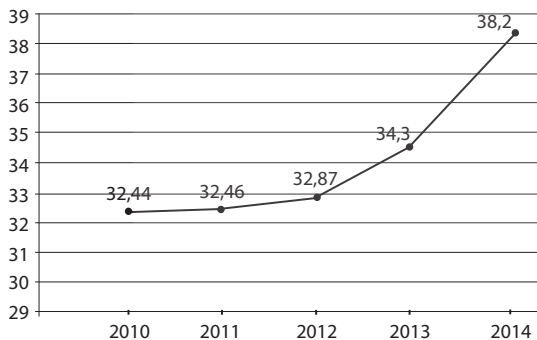
Keluarga menjadi wahana utama pewarisan peradaban dan budaya. Dalam keluarga dibentuk dan dipraktikkan nilai dasar hubungan antarmanusia. Selain itu, dalam keluarga dipraktikkan kesalingpahaman hak dan kewajiban sesama sebagai anggota kelompok. Dengan demikian, keluarga bukan hanya objek, melainkan juga mitra atau subjek program pembangunan bangsa.

Simpulan isi paragraf di atas adalah ....

- A. Keluarga merupakan tempat utama mewariskan adab dan budaya.
- B. Keluarga menanamkan nilai dasar hubungan antarmanusia.
- C. Keluarga kurang berperan bagi pembangunan bangsa.
- D. Manusia sebagai anggota keluarga wajib membangun bangsa.

2. **Perhatikan grafik berikut!**

**PRODUKSI BERAS**  
(dalam juta ton)



Simpulan isi grafik tersebut adalah ....

- A. Peningkatan produksi beras tertinggi terjadi tahun 2014.
- B. Pada 2010 produksi beras berjumlah 32,7 juta ton.

- C. Tahun 2012 produksi meningkat 0,01 juta ton dari tahun 2010.
- D. Produksi beras dari tahun ke tahun meningkat.

3. **Perhatikan tabel berikut!**

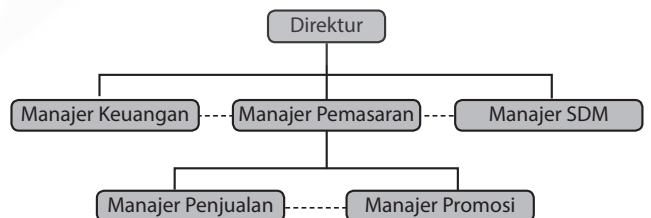
**Tabel Kunjungan Wisatawan Asing  
Candi Borobudur Tahun 2012-2014**

Tahun	Asia	Amerika	Australia	Eropa	Afrika
2012	20.002	20.219	30.122	10.034	10.889
2013	20.394	20.235	30.200	10.675	10.234
2014	21.234	20.998	31.022	10.985	9.876

Pernyataan yang sesuai dengan tabel tersebut adalah ....

- A. Wisatawan dari Asia paling banyak berkunjung ke Candi Borobudur dari tahun ke tahun.
- B. Wisatawan dari Australia paling banyak berkunjung ke Candi Borobudur dari tahun ke tahun.
- C. Wisatawan dari Eropa paling banyak berkunjung ke Candi Borobudur dari tahun ke tahun.
- D. Wisatawan dari Amerika paling banyak berkunjung ke Candi Borobudur dari tahun ke tahun.

4. **Perhatikan bagan berikut!**



Keterangan:

- = Garis komando
- = Garis koordinasi

Pertanyaan yang jawabannya terdapat pada bagian tersebut adalah ....

- A. Mengapakah kedudukan manajer perusahaan sejajar dengan bagian penjualan?
- B. Kepada siapakah bagian promosi bertanggung jawab langsung?
- C. Bagaimana cara direktur menyampaikan laporan perusahaan?
- D. Berapakah gaji para manajer perusahaan tersebut?

5. **Bacalah paragraf berikut!**

Di kawasan Gunung Kidul ekosistem masih terjaga. Di daerah itu sungai di bawah tanah airnya melimpah. Di gua dan sekitar sungai masih dihuni sekelompok kelelawar dan fitoplankton. Fitoplankton itu menjadi makanan ikan sehingga ikan berkembang biak dengan baik. Hewan-hewan melata atau reptil, seperti ular, kadal, dan tokek masih berkeliaran. Burung-burung kecil berkicau, musang berlari-larian, ayam berkokok, dan berbagai serangga hidup saling memengaruhi.

Gagasan utama paragraf tersebut adalah ....

- A. salah satu gua di Gunung Kidul
- B. penghuni gua di Gunung Kidul
- C. tempat ekosistem yang masih terjaga
- D. sungai bawah tanah

6. **Bacalah paragraf berikut!**

(1) Masyarakat Jawa memiliki dua model adaptasi ketika migrasi. (2) Pertama, mereka mempertahankan tradisi dan budayanya. (3) Kedua, mereka bertransformasi dengan budaya baru. (4) Saat masyarakat Jawa migrasi ke Semenanjung Malaka, Suriname, dan Serawak sebagai buruh di perkebunan karet yang heterogen tahun 1990-an, orang Jawa tetap menggunakan simbol budaya Jawa, seperti nama dan bahasa.

Kalimat utama paragraf tersebut adalah nomor ....

- A. 4
- B. 3
- C. 2
- D. 1

7. **Bacalah dua kutipan teks berita berikut!**

**Teks Berita 1**

Salah satu cara yang diterapkan di Indonesia untuk menekan angka kematian akibat rokok adalah larangan merokok di tempat umum. Perokok tidak boleh menyalakan rokoknya di sebelah orang yang tidak merokok (perokok pasif), terlebih di sekitar anak-anak.

**Teks Berita 2**

Dalam lima tahun ini, larangan merokok di tempat umum makin populer dan dapat dikatakan cukup berhasil. Bukti yang menunjukkan bahaya bagi perokok pasif semakin mendorong Pemerintah Inggris untuk menerapkan berbagai larangan.

Persamaan informasi kedua teks berita tersebut adalah ....

- A. larangan merokok di tempat umum
- B. bahaya asap rokok bagi perokok pasif
- C. bahaya merokok di tempat umum
- D. larangan merokok di depan anak-anak

8. **Bacalah dua kutipan teks berita berikut!**

**Teks Berita 1**

Pada Senin (25/8) pagi warga rela mengantre berjam-jam di SPBU. Warga mulai mengantre meski saat itu SPBU masih tutup. Dengan membawa jeriken, warga membeli BBM untuk mengoperasikan mesin.

**Teks Berita 2**

Langkanya bahan bakar minyak (BBM) jenis premium menjadi penyebab banyak warga memilih naik angkot untuk berpergian. Sialnya, tidak semua angkot beroperasi karena tidak kebagian jatah Premium. Banyak SPBU kehabisan stok bensin.

Perbedaan penyajian teks kedua kutipan berita tersebut diawali dengan ....

	<b>Teks Berita 1</b>	<b>Teks Berita 2</b>
A.	apa	kapan
B.	siapa	bagaimana
C.	kapan	apa
D.	bagaimana	mengapa

9. **Bacalah kutipan biografi tokoh berikut!**

Selain ulet sebagai seorang wartawan muda, Ki Hajar Dewantara juga aktif dalam organisasi sosial dan politik. Pada 1908, ia aktif di seksi propaganda Boedi Oetomo untuk menyosialisasikan dan menggugah kesadaran masyarakat Indonesia mengenai pentingnya persatuan dan kesatuan dalam berbangsa dan bernegara.

Kemudian, bersama Douwes Dekker (Dr. Danudirdja Setiabudi) dan Dr. Cipto Mangoenkoesoemo, ia mendirikan Indische Partij (partai pertama beraliran nasionalisme Indonesia) pada tanggal 25 Desember 1912 yang bertujuan mencapai Indonesia merdeka.

Keistimewaan tokoh dalam kutipan biografi tersebut adalah ....

- A. memilih menjadi wartawan sebagai jalan hidupnya
- B. hidupnya diwarnai perjuangan dan pengabdian
- C. pendiri partai politik pertama beraliran nasionalisme
- D. aktif di seksi propaganda Boedi Oetomo

10. **Bacalah kutipan biografi berikut!**

Pada masa kecil dan remaja, SBY, Susilo Bambang Yudhoyono, presiden keenam Republik Indonesia, menyenangi kesenian. Ia sempat menekuni seni lukis, teater, band, dan wayang orang. Ia pun rajin menulis puisi dan cerpen yang sempat dikirimkannya ke majalah anak-anak. Ia pun menyukai olahraga, seperti bola voli dan bela diri. Bela diri sendiri hingga saat ini masih rutin dilakukannya.

(*Ensiklopedia Anak Nasional*, PT Dlatu Pamungkas, 2005, hlm 10)

Hal yang dapat diteladani dari tokoh tersebut adalah ....

- A. sambil bekerja menjadi presiden bisa sambil bermain wayang dan teater
- B. senang berolahraga dan bermain teater suatu perpaduan yang bagus
- C. belajar seni dan olahraga tidak perlu tuntas, yang penting dapat diikuti

- D. ketekunan belajar berbagai seni dan olahraga pada masa kecil dan remaja

11. **Bacalah iklan berikut!**

- (1) Bahasa Korea itu MUDAH dan MURAH.
- (2) Hanya Rp700 ribu sampai bisa.
- (3) Tersedia tiga level.
- (4) Untuk semua level, gratis pengulangan.
- (5) Lokasi di Jalan Waru Doyong.

Penjelasan kalimat (4) iklan tersebut adalah ....

- A. untuk ketiga level belajarnya diulang-ulang
- B. hanya untuk ketiga yang boleh diulang
- C. bila mengulang, pada semua level tidak dikenai biaya
- D. pada level ketiga gratis untuk mengulang belajar

12. **Bacalah iklan berikut!**

*Stop TV kabel ilegal!*

*Pastikan Anda memiliki TV berbayar yang resmi untuk memberikan tayangan kesayangan keunggulan keluarga Anda*

Maksud iklan tersebut adalah ....

- A. ajakan berhenti menonton televisi berbayar
- B. ajakan menonton televisi yang memiliki saluran berbayar yang resmi
- C. ajakan membayar televisi yang kita tonton setiap hari atau berhenti menonton
- D. ajakan menonton tayangan televisi unggulan dari televisi kabel ilegal

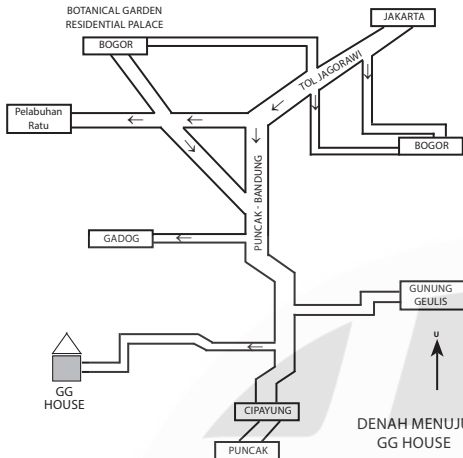
13. **Perhatikan iklan berikut!**

- (1) Telah tersedia buku *Anak Pintar Membaca dan Menulis*.
- (2) Solusi buat anak Anda yang bermasalah dengan membaca.
- (3) Anda bisa dapatkan secara mudah dan cepat.
- (4) Toko Buku Amanda akan membantu Anda.

Pernyataan berupa fakta pada teks iklan tersebut adalah ....

- A. 1
- B. 2
- C. 3
- D. 4

14. Perhatikan denah berikut!



Arah yang paling efektif dari Jakarta menuju ke GG House adalah ....

- A. jalan tol → Bogor → Pelabuhan Ratu → Puncak – Bandung → lokasi
- B. jalan tol Jagorawi → Puncak – Bandung → lokasi
- C. jalan tol Jagorawi → Bogor → Puncak – Bandung → lokasi
- D. jalan tol Jagorawi → Puncak – Bandung → Cipayung → lokasi

15. Bacalah kutipan cerita anak berikut!

“Ayah bukan tak mampu membelikanmu motor!” kataku, “Tetapi, untuk apa? Kamu ke sekolah masih bisa bersama ayah.”

Reno membisu.

“Lagi pula kamu kan belum cukup umur mengendarai motor,” lanjutku.

Konflik dalam kutipan cerita anak tersebut adalah ....

- A. Ayah tak mampu membeli motor.
- B. Reno tidak suka mengendarai motor.
- C. Ayah tidak setuju Reno dibelikan motor.
- D. Reno belum cukup umur saat itu.

16. Bacalah dua kutipan novel berikut!

**Novel 1**

Kawan-kawan Kadirun waktu masih kanak-kanak dahulu, lebih kurang ada sepuluh orang yang hadir di sana. Mereka itu mengerti apa maksud Kadirun berkata begitu. Semuanya terkenang akan kejadian semasa mereka

masih kecil itu, ketika mengembalikan kerbau ke hutan. Karena itu tidak tertahan lagi perut mereka itu hendak tertawa. Kesudahannya lepas jika mereka tertawa gelak-gelak mengenangkan perbuatan masa lalu.

**Novel 2**

Tuti yang tertua antara dua saudara itu, telah dua puluh lima tahun usianya, sedangkan adiknya Maria baru dua puluh tahun. Mereka adalah anak Raden Wiraatmadja, bekas wedana di daerah Banten, yang pada ketika itu hidup dengan pensiunannya di Jakarta bersama-sama kedua anaknya itu. Maria masih murid H.B.S. Carpentier Alting Stiehting kelas penghabisan dan Tuti menjadi guru di sekolah H.I.S. Arjuna di Petojo.

Perbedaan latar sosial pada kedua kutipan novel tersebut adalah ....

	Novel 1	Novel 2
A.	kehidupannya sangat sederhana	kehidupannya sangat mewah
B.	kehidupan perkotaan	kehidupan di pedesaan
C.	tokoh berasal dari kalangan biasa	tokoh berasal dari kalangan bangsawan
D.	berlatar sosial ningrat	berlatar sosial pedesaan

17. Bacalah dua kutipan novel berikut!

**Novel 1**

Isi rumah dan pakaiannya yang ditinggalkan si Mina sehelai demi sehelai pindah ke rumah gadai.

Apabila Bertes tidak mabuk dan pikirannya tenang, terasalah olehnya kemiskinan yang dideritanya itu. Ia pun menyesal dan menyalahkan si Inem, seorang perempuan yang sering membantahnya.

**Novel 2**

Pangeran Purbaya bersama dua istri dan seorang anaknya telah bersembunyi di dalam suatu jurang yang tidak berapa dalamnya.

Dengan sangat duka cita, ia duduk termenung di atas sehelai permadani yang kecil. Sebuah pelita kecil yang terletak di sudut memberi cahaya yang samar-samar.

Perbedaan penggunaan bahasa dua kutipan novel tersebut adalah ....

	Novel 1	Novel 2
A.	banyak kata kias	banyak kata tegas
B.	penggunaan "-nya" berlebihan	penggunaan "yang" berlebihan
C.	kalimat pendek dan sederhana	kalimat panjang dan kompleks
D.	kalimatnya berbelit-belit	kalimatnya mudah dipahami

18. **Bacalah kutipan naskah drama berikut!**

Olive : "Ta, serius kamu nggak ikut wisata?"

Meta : "Hmmm ... ngomong apa sih kamu? Ya ikut lah." (*tak acuh*)

Olive : "Halah ... nggak usah bohong deh, aku denger kok kamu membatalkan!" (*nada tinggi*)

Luna : "Kamu salah dengar kali?" (*berusaha menengahi*)

Olive : "Ta, sebaiknya kamu terus terang biar semuanya jelas!" (*mendekati Meta*)

Satria : "Hei sudah diam semua. Kita putuskan Meta tetap ikut, lagi pula bangku mobilnya juga cukup."

Konflik kutipan naskah drama tersebut adalah ....

- saat Olive bertanya kepada Meta tentang wisata
- saat Satria meleraikan pertengkaran Olive dengan Meta
- Meta dan Luna mengenai kepergian Meta dalam wisata
- Olive dan Meta tentang kejelasan keikutsertaan wisata

19. **Bacalah puisi berikut!**

*Peluh mengucur membanjiri kelopak wajah yang menghitam*

*Di tengah deru asap-asap jalanan,*

*Wangi aspal yang terus menerpa,*

*Wahai kau kuli jalanan, kerja kerasmu telah direguk*

*Oleh ganasnya pengguna jalan*

Tema puisi tersebut adalah ....

- keberanian kerja kuli jalanan
- polusi di jalanan beraspal

- kesia-siaan kerja keras pekerja jalanan
- ganasnya pengguna jalan di tengah debu asap jalanan

20. **Perhatikan kutipan puisi berikut!**

- Detak jarum jam*
- Bersatu dalam degup jantungku*
- Seiring desahnya*
- dan dentang lonceng penghabisan*
- Mengawali datangnya Dua Ribu Empat Belas*

Larik 1 dan 4 puisi tersebut menggunakan citraan ....

- perasaan
- perabaan
- penglihatan
- pendengaran

21. **Bacalah kutipan puisi berikut!**

- Kasih ...*
- Sejenak aku ingin bersandar di bahu*
- Menikmati cantiknya rembulan*
- Memandang cahaya kerlip bintang*

Larik bermajas dalam puisi tersebut ditandai nomor ....

- 1
- 2
- 3
- 4

22. **Bacalah kutipan cerpen berikut!**

Ia segera masuk dan menubruk ibunya yang mengatur meja makan. Resti hampir menangis.

"Resti, kamu kenapa? tanya ibu dengan keheranan. "Mana Mas Robi?" Resti memandangi ibunya. "Mas Robi? Resti nggak tahu Bu."

"Iya, tadi ibu khawatir karena kamu belum pernah naik bus sendirian, jadi ibu telepon Mas Robi minta menjemputmu."

"Ah Ibu, Resti kan sudah besar, mestinya ibu tidak seperti itu," tukas Resti.

Cara pengarang menggambarkan watak tokoh ibu melalui ....

- diceritakan oleh pengarang
- tingkah laku tokoh ibu
- dialog antartokoh
- diceritakan tokoh lain

23. **Bacalah kutipan cerpen berikut!**

(1) Setiap pagi Diana duduk di kursi rodanya menghadap ke sebuah meja. (2) Di atas meja ada mesin tik. (3) Dia tidak pernah kecil hati meskipun karya-karyanya sering dikembalikan oleh media massa. (4) Dia memiliki semangat besar meskipun kedua kakinya patah akibat kecelakaan sepeda motor.

Bukti watak tokoh Diana “gigih” terdapat pada kalimat nomor ....

- A. 1                      C. 3  
B. 2                      D. 4

24. **Bacalah kutipan naskah drama berikut!**

Meski saat itu sangat terik, teman-teman Ani tetap datang.

Yuni dan Hani : *(memberi salam bersama)*

Ibu : *(datang dari dapur)* Teman-teman Ani, ya?

Yuni : Iya, Bu. Kami teman-teman Ani.

Ibu : Mari, masuk! Silakan duduk dulu! Ibu panggilkan Ani. Ani ... itu teman-teman kamu sudah datang.

Ani : Hai! Yuk langsung saja kita mulai.

Yuni dan Hani : Ayo!

Mereka pun bersama-sama menuju ruang belajar Ani.

Latar kutipan naskah drama tersebut adalah ....

- A. di ruang tamu, sore hari  
B. di rumah, siang hari  
C. di ruang belajar, siang hari  
D. di rumah, sore hari

25. **Bacalah kutipan cerita berikut!**

Tatkala matahari sudah condong ke barat, Said meminta diri pada sahabatnya untuk pulang. Tidak lupa Said mengundangnya makan di rumahnya besok siang. Ia memberikan secarik kertas kepada temannya. “Pergilah kau ke ibu kota, berikan kertas ini kepada tentara yang kau temui di sana. Ia akan mengantarkanmu ke rumahku.”

Latar waktu dan tempat pada kutipan cerita tersebut adalah ....

- A. siang hari di rumah sahabat  
B. siang hari di istana Said  
C. sore hari di rumah sahabat  
D. malam hari di istana Said

26. **Perhatikan fakta-fakta berita berikut!**

- (1) KRL Depok—Jakarta Kota terlambat  
(2) Penertiban penumpang KA  
(3) Penumpang tidak tertib  
(4) Diberi sanksi

Berita yang sesuai dengan fakta-fakta tersebut adalah ....

- A. Perjalanan kereta api listrik jurusan Depok-Jakarta Kota terhambat. Hal itu disebabkan adanya penertiban penumpang KA oleh petugas. Ada penumpang yang tidak tertib, tidak memiliki tiket. Mereka diberi sanksi administrasi dan denda.  
B. Kereta api listrik Depok Jakarta Kota mengalami keterlambatan. Beberapa penumpang kereta api banyak yang duduk di atap kereta. Mereka dikenai sanksi tidak boleh melanjutkan perjalanan.  
C. Beberapa penumpang KRL jurusan Depok-Jakarta Kota terpaksa diturunkan. Mereka menilai atap kereta banyak penumpang yang terpaksa disidang di tempat. Oleh karena itu, perjalanan kereta jadi terhambat.  
D. KRL Depok Jakarta Kota tidak bisa melanjutkan perjalanan. Hal itu disebabkan banyaknya penumpang tidak tertib dengan tidak membeli tiket. Mereka akhirnya diberi sanksi tidak boleh melanjutkan perjalanan.

27. **Bacalah ilustrasi berikut!**

Wali kelas mengimbau kepada seluruh siswa jangan membuang sampah sembarangan, terutama di laci meja agar laci meja tidak menjadi sarang nyamuk DBD.

Slogan yang tepat sesuai ilustrasi tersebut adalah ....

- A. Kelas berseri, nyamuk pergi
- B. Kebersihan kelas adalah kewajiban siswa
- C. Kebersihan kelas tanggung jawab bersama
- D. Membuang sampah sembarangan, penyakit datang menyerang

28. **Bacalah ilustrasi berikut!**

SD yang baru dibuka membutuhkan dua orang wanita sebagai staf tata usaha dengan pendidikan minimal SMK, bisa mengoperasikan komputer, berkelakuan baik dan sopan. Pelamar diharapkan langsung datang membawa surat lamaran ke Jalan NN No.19A, Tangerang.

Iklan baris yang sesuai dengan ilustrasi tersebut adalah ....

- A. Dibutuhkan 2 staf TU untuk SD, Pend SMK, wnt, Opr Komp, sopan Imrn lgs Jl.nn no 19A, Tangerang.
- B. Dibutuhkan 2 staf TU u/ SD, pend SMK, wnt, pnglrmn, sopan Imrn lgs Jl.NN no 19A, Tangerang.
- C. Dibutuhkan 2 staf TU SD, Pend SMK, wnt, bs komp, sopan, Imrn lgs Jl.NN no 19A, Tangerang.
- D. Dibutuhkan 2 staf TU untuk SD pend SMK, wnt, terampil, sopan, Imrn lgs Jl.NN no 19A, Tangerang.

29. **Bacalah petunjuk berikut!**

*Cara menolong korban luka karena terjatuh:*

- (1) Bersihkan luka dengan air atau kapas yang dibasahi.
- (2) Balutlah dengan kain kassa agar tidak terinfeksi.
- (3) Berilah antiseptik agar luka tidak terinfeksi kuman.
- (4) Bawalah korban ke dokter terdekat.

Urutan yang tepat cara menolong korban karena jatuh adalah ....

- A. (1), (2), (4), (3)      C. (3), (1), (4), (2)
- B. (1), (3), (2), (4)      D. (4), (2), (1), (3)

30. **Cermati petunjuk menghilangkan rasa sakit karena tertusuk duri berikut!**

- (1) Ambillah sebatang sereh kemudian memarkan sedikit.

(2) [...]

(3) Lalu bakar sampai panas.

(4) [...]

(5) Ulangi beberapa kali hingga sakit hilang dan duri tersebut akan keluar dengan sendirinya.

Kalimat yang tepat untuk melengkapi petunjuk tersebut adalah ....

- A. (2) Celupkan batang sereh ke dalam minyak kelapa sebelum dibakar!  
(4) Dinginkan batang sereh sejenak sebelum digunakan!
- B. (2) Bersihkan kaki agar duri yang masuk mudah dideteksi!  
(4) Tempelkan sereh yang cukup panas tadi pada bagian kaki yang tertusuk duri!
- C. (2) Sereh yang cukup panas ditempelkan pada kaki yang sakit!  
(4) Celupkan batang sereh ke dalam minyak kelapa!
- D. (2) Celupkan batang sereh ke dalam minyak kelapa!  
(4) Tempelkan sereh yang cukup panas tadi pada bagian kaki yang tertusuk duri!

31. **Cermati ilustrasi berikut!**

Salah satu keluargamu mendapat musibah kebakaran dan berharap kamu bisa membantunya. Sementara kamu sendiri hidupnya pas-pasan, berbeda dengan temanmu yang serba berkecukupan dan sangat dermawan. Kamu ingin berkirim surat untuk meminta uluran bantuan temanmu.

Isi surat pribadi yang tepat berdasarkan ilustrasi tersebut adalah ....

- A. Sahabatku, sekarang ini aku mendapat musibah kebakaran. Aku berharap dirimu bisa membantuku.
- B. Sahabatku, salah satu keluargaku terkena musibah kebakaran, dan ia minta bantuanku. Kamu tahu *kan* aku sendiri hidup pas-pasan. Kalau tidak keberatan kiranya dirimu mau meringankan beban saudaraku.

- C. Sahabatku, hidupmu serba berkecukupan. Aku minta tolong padamu untuk membantu saudaraku yang terkena musibah kebakaran.
- D. Sahabatku yang baik, kali ini aku benar-benar butuh bantuanmu. Keluargaku terkena musibah, besar harapanku dirimu bersedia untuk membantu.

32. **Bacalah ilustrasi berikut!**

Jumat, 12 September 2014 pagi, Anggi bertengkar dengan Kiki masalah sampah. Kiki menuduh Anggi membuang sampah di kelasnya. Anggi berusaha menjelaskan bahwa sampah tersebut sudah ada sebelum dia datang.

Untunglah Pak Ridwan lewat di kelasnya dan melerainya. Akhirnya hati Anggi lega mendengar keputusan Pak Ridwan bahwa bukan Anggi pelakunya.

Catatan buku harian yang sesuai dengan ilustrasi tersebut adalah ....

- A. Jumat, 12 September 2014, hari yang paling menyebalkan karena pertengkaranku dengan Kiki, penyebabnya sampah. Padahal, akulah memang pelakunya. Untung Pak Ridwan membelaku.
- B. Jumat pagi itu terjadi pertengkaran antara Kiki dan aku karena sampah. Kikilah yang malas menyapu, tapi aku dituduhnya. Untung Pak Ridwan membelaku, kemudian aku disuruh membantu Kiki menyapu.
- C. Jumat, 12 September 2014 pagi, tadi Kiki menuduhku menyampah di kelas, padahal bukan aku pelakunya. Ketika kami bertengkar, Pak Ridwan melerainya dan mendengar penjelasanku. Pak Ridwan mengatakan aku tidak bersalah. Aku lega rasanya.
- D. Pada Jumat pagi itu di sekolah aku bertengkar dengan Kiki karena sampah. Dia menuduhku tidak mau menyapu, padahal Kikilah yang seharusnya menyapu. Untung Pak Ridwan datang dan menyuruh Kiki menyapunya sampai bersih.

33. **Cermati ilustrasi berikut!**

SMP Pusponegoro Bojongsari mempunyai lahan yang luas. Namun, lahan tersebut dibiarkan gersang, tidak ditanami apa-apa. Untuk itu, Rusdi meminta kepada sekolah untuk menghijaukan lahan tersebut.

Surat pembaca yang sesuai dengan ilustrasi tersebut adalah ....

- A. Kami sangat beruntung bersekolah yang mempunyai lahan bermain yang luas. Sehingga waktu istirahat kami tidak keluar lingkungan sekolah.
- B. Fasilitas sekolah kami cukup lengkap. Taman, lahan bermain, dan jumlah kelas sangat memadai. Sayangnya, itu semua tidak terpelihara dengan baik.
- C. Sebenarnya lahan sekolah kami cukup luas. Namun, kami merasakan kegersangan dan panas. Mohon kepada Bapak, lahan yang luas itu ditanami pepohonan agar tampak hijau dan sejuk.
- D. Mungkin di kabupaten ini, sekolah kamilah yang mempunyai lahan begitu luas. Lahan tersebut dapat dimanfaatkan untuk praktik anak-anak, misalnya, menanam tumbuhan/pohon tertentu.

34. **Bacalah teks bacaan berikut!**

Jus alpukat sangat bagus untuk dikonsumsi setiap hari. Terlebih bagi Anda yang bergolongan darah A, zat kandungannya dapat mendorong suasana basa di dalam tubuh. Jus ini mengandung lemak tak jenuh yang mudah dicerna oleh tubuh.

Ada dampak positif lemak alpukat bagi tubuh. Pertama, dapat menurunkan kadar kolesterol darah (LDL). Kedua, mencegah terjadinya penyakit jantung, kanker, stroke, dan darah tinggi.

Rangkuman isi bacaan tersebut yang tepat adalah ....

- A. Jus mengandung lemak tak jenuh dan mudah diserap tubuh.
- B. Dampak positif jus dapat menurunkan LDL, stroke, dan darah tinggi.
- C. Jus alpukat sangat bagus dikonsumsi karena berdampak positif bagi tubuh.

- D. Jus alpukat mengandung vitamin dan mudah diserap tubuh.

35. **Bacalah ilustrasi berikut!**

Kepala sekolah memberikan mandat kepada wakilnya untuk melaksanakan kegiatan kerja bakti dalam rangka persiapan ujian nasional. Wakil kepala sekolah menugaskan para wali kelas untuk menginformasikan hal tersebut kepada para peserta didiknya.

Pesan singkat wakil kepala sekolah kepada wali kelas adalah ....

- A. Kepala sekolah menugasi para wali kelas agar melaksanakan kerja bakti dalam rangka menghadapi ujian nasional.
- B. Para wali kelas harap segera menginformasikan kepada peserta didik tentang kerja bakti dalam rangka menghadapi ujian nasional.
- C. Kepala sekolah mengharapkan semua peserta didik berpartisipasi untuk kerja bakti dalam rangka menghadapi ujian nasional.
- D. Wali kelas mengumpulkan seluruh peserta didik untuk diberi tahu tentang kerja bakti dalam rangka menghadapi ujian nasional.

36. **Perhatikan kalimat-kalimat berikut!**

- (1) Dalam rangka memperingati Hari Bumi, OSIS SMP Ikhlas mengadakan kegiatan tidak membolehkan kendaraan bermotor memasuki lingkungan sekolah.
- (2) Akhirnya semua penghuni sekolah mau berkerja sama dan mematuhi aturan yang dibuat oleh OSIS SMP Ikhlas.
- (3) SMP Ikhlas membuat aturan bahwa semua kendaraan guru, karyawan, dan tamu tidak boleh masuk lingkungan sekolah mulai pukul 06.00 s.d. pukul 15.00 khusus pada hari itu.
- (4) Pada awalnya, banyak guru dan karyawan yang protes atas aturan tersebut.
- (5) OSIS menjanjikan bahwa kendaraan yang ditempatkan di luar sekolah akan dijaga oleh satpam dan pengurus OSIS.

Urutan yang tepat agar kalimat-kalimat tersebut menjadi laporan yang padu adalah ....

- A. (2), (1), (3), (4), (5)
- B. (1), (3), (4), (5), (2)
- C. (1), (4), (5), (3), (2)
- D. (3), (1), (5), (2), (4)

37. **Bacalah ilustrasi kegiatan sekolah berikut!**

SMP Tunas Mulia akan mengadakan kegiatan MOPDB tahun pelajaran 2014/2015 pada tanggal 14, 15, dan 16 Juli 2014 dengan melibatkan pengurus OSIS. Untuk itu, ketua OSIS menuliskan pengumuman kepada pengurus agar mengadakan rapat persiapan pada Senin, 7 Juli 2014 di ruang OSIS pukul 14.00 WIB.

Isi pengumuman yang tepat berdasarkan ilustrasi tersebut adalah ....

- A. Untuk persiapan kegiatan MOPDB tahun pelajaran 2014/2015, seluruh pengurus OSIS SMP Tunas Mulia diharapkan berkumpul pada  
hari, tanggal : Senin, 7 Juli 2014  
waktu : pukul 14.00 WIB  
tempat : ruang OSIS
- B. Untuk mengadakan persiapan kegiatan MOPDB tahun pelajaran 2014/2015, maka seluruh pengurus OSIS SMP Tunas Mulia diharapkan berkumpul pada  
hari, tanggal : Senin, 7 Juli 2014  
waktu : pukul 14.00 WIB  
tempat : ruang OSIS  
acara : rapat persiapan kegiatan MOPDB
- C. Dalam rangka mengikuti kegiatan MOPDB pada Senin, 7 Juli 2014, maka seluruh pengurus OSIS SMP Tunas Mulia diharapkan berkumpul pada  
hari, tanggal : Senin, 7 Juli 2014  
waktu : pukul 14.00 WIB  
tempat : ruang OSIS  
acara : rapat persiapan kegiatan MOPDB
- D. OSIS mengadakan rapat persiapan kegiatan MOPDB tanggal 14, 15, dan 16 Juli 2014, maka seluruh pengurus OSIS

SMP Tunas Mulia diharapkan berkumpul pada  
hari, tanggal : Senin, 7 Juli 2014  
waktu : pukul 14.00 WIB  
tempat : ruang OSIS

38. **Bacalah data buku berikut!**

Judul : Indahnya Keragaman  
Penulis : Bambang Qomaruzzaman  
Penerbit : Simbiosis Rekatama Media,  
Bandung  
Cetakan : Pertama, 2001  
Keunggulan : - Menggunakan bahasa yang komunikatif  
- Isi buku menarik  
Kelemahan : Banyak menggunakan bahasa daerah

Paragraf resensi yang sesuai dengan data buku tersebut adalah ....

- A. Buku ini memang indah contoh yang dikemukakan. Namun, sayang buku ini banyak menggunakan bahasa daerah sehingga kurang mendapat tanggapan dari masyarakat.
- B. Penulis seorang pemerhati masalah sosial ini menulis tentang keragaman yang ada di Indonesia. Dia mengemukakan persoalan dengan santai walaupun banyak menggunakan bahasa daerah.
- C. Buku dengan judul yang memikat ini ditulis dengan gayanya yang kuat dan uraian yang mendalam dengan menggunakan bahasa yang komunikatif. Walaupun banyak menggunakan bahasa daerah, isi buku ini tetap menarik.
- D. Penulis buku ini adalah penulis yang konsisten terhadap masalah sosial yang ada di masyarakat. Persoalan yang dikemukakan selalu dibahas tuntas walaupun pengaruh bahasa daerah masih ada dalam buku ini.

39. **Bacalah kutipan surat dinas berikut!**

Dengan ini kami menundang Bapak untuk membuka kegiatan seminar sehari bersama siswa yang akan dilaksanakan pada

hari, tanggal : Sabtu, 18 September 2014  
waktu : pukul 08.00 s.d. selesai  
tempat : aula SMP Kita Bersama  
(...)

Kalimat yang tepat untuk melengkapi surat tersebut adalah ....

- A. Atas kehadirannya dalam kegiatan tersebut disampaikan terima kasih.
- B. Atas kehadirannya tepat waktu kami ucapkan terima kasih.
- C. Atas kehadiran dan perkenan Bapak untuk hadir, diucapkan terima kasih.
- D. Atas kesediaan Bapak membuka kegiatan seminar tersebut, saya sampaikan terima kasih.

40. **Bacalah kalimat berikut!**

Kalian harus mengaitkan orang yang bersangkutan bila ingin mengetahui perdebatannya lebih jelas lagi.

Penggunaan kata yang tepat untuk mengganti kata yang bergaris bawah pada kalimat tersebut adalah ....

- A. bersambung, perbincangannya
- B. menghubungi, persoalannya
- C. bertalian, pembahasannya
- D. menghampiri, perselisihannya

41. **Perhatikan pantun berikut!**

*Menulis surat di malam hari  
[...]*

*Menangis adik seorang diri  
Menanti ibu tak kunjung pulang*

Larik yang tepat untuk melengkapi pantun tersebut adalah ....

- A. Menulis sendiri di atas meja
- B. Malam gelap hitam pekat
- C. Memakai lampu setengah terang
- D. Memakai kertas berwarna-warna

42. **Bacalah puisi berikut!**

**Situ Gintung**

*kala itu, riak air bergemuruh  
[...]*

*malam menjelang fajar  
datang begitu cepat, menjerat nyawa*

*beribu orang terbujur kaku  
mengharap Illahi tanpa firasat*

Larik bermajas untuk melengkapi larik tersebut adalah ....

- A. mengalir deras
- B. mengusik kesunyian malam
- C. lewati aliran sungai malam itu
- D. mengalir tenang di tengah malam

43. **Perhatikan kutipan naskah drama berikut!**

Sinta : "Ti, tentu kamu sudah lelah. Mari saya bantu bawa kue-kue daganganmu."

Santi : (*menoleh ke Sinta*) "Benar Sin. Saya sudah lelah."

Sinta : [...]

Santi : "Terima kasih, Sin. Kamu memang sahabatku yang baik hati."

Dialog yang tepat untuk melengkapi kutipan naskah drama tersebut adalah ....

- A. Bagaimana cara membawanya?
- B. Bagaimana bila kita tenteng bersama?
- C. Bagaimana kalau isinya kita bagi dua saja?
- D. Bagaimana kalau isinya kita titipkan saja?

44. **Bacalah kutipan naskah drama berikut!**

Susan telah lama merantau di negeri orang. Ia telah 11 tahun tidak bertemu Dini, teman SMP-nya. Ketika pulang ke kampung, Susan menaiki mobil lewat depan rumah Dini. Saat itu Dini sedang menyapu halaman. Mobil Susan berhenti persis di depan rumah Dini.

Susan : Hai Dini! (*keluar dari mobil, berlari, dan berteriak*)

Dini : Anda siapa? [...]

Susan : Aku Susan teman lamamu waktu SMP dulu! (*sambil memegang kedua pundak Dini*)

Dini : Oo... ya ya ya. Susan ... Susan, telah lama sekali kita tak jumpa ya. Kamu tambah cantik.

Petunjuklaku yang tepat untuk melengkapi kutipan naskah drama tersebut adalah ....

- A. tetap menyapu, tidak peduli dengan panggilan
- B. meletakkan sapu, menatap Susan dengan penuh penasaran

C. memegang sapu, melihat, dan kembali menyapu

D. melempar sapu, mendekati mobil, memegang

45. **Bacalah ilustrasi berikut!**

Ketua panitia syukuran siswa kelas IX menyampaikan sambutan pada acara syukuran siswa kelas IX yang telah mengikuti ujian nasional tahun pelajaran 2013/2014.

Pembuka pidato yang tepat sesuai ilustrasi tersebut adalah ....

- A. Puji syukur kepada Tuhan YME karena saya dapat mengikuti syukuran kelas IX tahun pelajaran 2013/2014. Semoga Allah SWT memberkati kita semua.
- B. Kami bersyukur kepada Tuhan YME, acara ini dapat berjalan dengan baik. Semoga seluruh siswa mendapat kenangan yang indah selama di SMP tercinta.
- C. Puji syukur kami panjatkan kepada Tuhan YME, berkat rahmat-Nyalah kita dapat hadir dalam acara syukuran kelas IX tahun ajaran 2013/2014 di tempat yang berkesan ini.
- D. Kami bersyukur dapat melaksanakan ujian nasional dengan baik dan lancar. Semoga seluruh siswa mendapatkan nilai ujian nasional yang memuaskan.

46. **Perhatikan teks pidato berikut!**

Teman-temanku,  
Narkoba senantiasa mengancam kita. Banyak teman kita yang menjadi korbannya dan sekarang sedang menjalani rehabilitasi. Kita perlu memberi dukungan moral bagi mereka. [...]

Kalimat yang tepat untuk melengkapi teks pidato tersebut adalah ....

- A. Untuk itu, jangan pedulikan narkoba kalau tidak mau terjerumus lebih jauh.
- B. Marilah kita doakan para pecandu narkoba mendapatkan hukuman yang setimpal.
- C. Maka dari itu, jangan bimbang untuk terus-menerus memberantas pecandu narkoba.
- D. Marilah kita bersama-sama perangi narkoba sehingga kita bisa terhindar darinya.

47. **Bacalah tema karya ilmiah berikut!**

Tema: Meningkatkan gemar membaca siswa dengan membaca novel

Rumusan masalah yang tepat sesuai tema karya ilmiah tersebut adalah ....

- A. Siapa yang gemar membacanya meningkat dengan membaca novel?
- B. Bisakah gemar membaca siswa ditingkatkan dengan membaca novel?
- C. Bagaimanakah meningkatkan gemar membaca siswa dengan membaca novel?
- D. Apakah dengan membaca novel dapat meningkatkan gemar membaca buku?

48. **Bacalah simpulan karya ilmiah berikut!**

Berdasarkan hasil pengamatan, banyak ditemukan peserta didik membuang sampah sembarangan. Oleh karena itu, dapat disimpulkan bahwa tingkat kepedulian peserta didik terhadap kebersihan sangat rendah.

Saran yang tepat berdasarkan simpulan karya ilmiah tersebut adalah ....

- A. Agar kebersihan sekolah tetap terjaga, kepedulian peserta didik perlu ditingkatkan, terutama masalah kebersihan.
- B. Lingkungan sekolah yang nyaman dan bersih dapat membuat peserta didik belajar dengan nyaman.
- C. Sudah seharusnya petugas piket ditingkatkan dan dibuat jadwal piket tiap kelas.
- D. Kebersihan sekolah tidak hanya dilakukan oleh peserta didik, tetapi semua warga sekolah juga wajib menjaganya.

49. **Bacalah kalimat berikut!**

Semua peserta lomba, agar segera masuk ke ruang seleksi karena pelaksanaan lomba segera akan dimulai.

Perbaiki kalimat tersebut agar efektif, kata yang dihilangkan adalah ....

- A. semua, lomba, masuk
- B. segera, ke, akan
- C. semua, agar, akan
- D. peserta, lomba, agar

50. **Perhatikan kalimat berikut!**

Drs, Jaya M,Si, baru membeli rumah seharga Rp250.000.000

Perbaiki tanda baca kalimat tersebut yang tepat adalah ....

- A. Drs. Jaya, M.Si. baru membeli rumah seharga Rp250.000.000,00.
- B. Drs, Jaya, M,Si, baru membeli rumah seharga Rp250.000,00.
- C. Drs. Jaya M,Si, baru membeli rumah seharga Rp.250.000.000,-.
- D. Drs, Jaya M,Si, baru membeli rumah seharga Rp.250.000.000,-.

# KUNCI JAWABAN

---



1. A    11. C    21. C    31. B    41. C
2. D    12. B    22. C    32. C    42. B
3. B    13. A    23. C    33. C    43. B
4. B    14. B    24. -    34. C    44. B
5. C    15. C    25. C    35. B    45. C
6. D    16. C    26. A    36. B    46. D
7. A    17. D    27. A    37. A    47. C
8. C    18. A    28. C    38. C    48. A
9. C    19. A    29. B    39. D    49. C
10. D    20. D    30. D    40. B    50. A



# BAHASA INDONESIA

## Sekolah Menengah Pertama

1. Perekonomian Indonesia telah mengalami perubahan yang cukup besar. Struktur ekonomi yang dulu lebih banyak di bidang primer telah semakin merata ke sektor sekunder, industri manufaktur, dan jasa. Produk yang dihasilkan pun semakin beragam dari yang sangat sederhana sampai ke produk canggih. Kita sering mendengar bahwa perekonomian Indonesia tumbuh secara mengesankan.

(Sumber: [smpn9depok.files.wordpress.com](http://smpn9depok.files.wordpress.com))

Gagasan utama dari paragraf tersebut adalah ....

- A. pertumbuhan perekonomian Indonesia
  - B. semakin meratanya perekonomian Indonesia
  - C. keberagaman produk Indonesia
  - D. perekonomian Indonesia mengesankan
2. Keluarga kami hidup sederhana. Pakaian yang kami kenakan tidak ada yang berharga mahal. Lauk-pauk untuk makan sehari-hari pun hanya sekedar memenuhi kriteria gizi. Bila kami mengalami kejenuhan dalam bekerja, kami berkreasi dengan menciptakan permainan sendiri.

(Sumber: [zulmasrifiles.blogspot.com](http://zulmasrifiles.blogspot.com))

Gagasan utama paragraf tersebut adalah ....

- A. keluarga yang hidup sederhana
  - B. pakaian yang tidak mahal
  - C. lauk-pauk untuk makan sehari-hari
  - D. berkreasi dengan menciptakan permainan sendiri
3. **Perhatikan kedua berita di bawah ini!**

### Berita I

Indonesia meraih kemenangan 3-2 atas Korea Selatan dalam laga terakhir penyisihan

Grup G Kualifikasi Piala Asia U-19 di Stadion Gelora Bung Karno, Senayan, Jakarta, Sabtu 12 Oktober 2013. Evan Dimas jadi pahlawan Garuda Jaya lewat *hatrick* yang dibikinya dalam laga krusial tersebut.

(Sumber: [bola.kompas.com](http://bola.kompas.com))

### Berita II

*Hatrick* Evan Dimas memastikan hasil pertandingan Timnas Indonesia vs Korsel berakhir dengan skor 3-2 dalam lanjutan kualifikasi Piala Asia AFC U19 Grup G. Bermain di bawah guyuran hujan pada Sabtu, 12 Oktober 2013 di Gelora Bung Karno, Timnas U19 merebut tiket ke putaran final dengan status sangat bergengsi: Juara Grup!

(Sumber: [www.rmol.co](http://www.rmol.co))

Persamaan isi berita tersebut adalah ....

- A. Garuda Indonesia menang 3-2 atas Korea Selatan dalam laga terakhir penyisihan Grup G Kualifikasi Piala Asia U-19 yang digelar di Stadion Gelora Senayan Jakarta.
- B. Kemenangan Indonesia dalam laga sepak bola dalam Piala Asia U-19 bermain di bawah guyuran hujan pada hari Sabtu, 12 Oktober 2013 di Gelora Bung Karno Senayan Jakarta.
- C. Timnas Indonesia menang atas Korsel dengan skor 3-2 dalam lanjutan kualifikasi Piala Asia AFC U-19 Grup G lewat *hatrick* Evan Dimas pada pertandingan 12 Oktober 2013.
- D. Timnas U-19 merebut tiket ke putaran final dengan status sangat bergengsi: Juara Grup! Dalam kualifikasi Piala U-19 di Stadion Gelora Bung Karno, Senayan, Jakarta.

4. **Perhatikan kedua berita di bawah ini!**

**Teks 1**

Sebanyak 30 nelayan asal Kabupaten Indramayu, Jawa Barat, dikabarkan hilang di perairan Laut Jawa. Mereka merupakan awak dua kapal penangkapan ikan Sarijadi I dan Sarijadi II, yang rusak dihempas ombak dan mengalami kebocoran di tengah lautan.

**Teks II**

Komandan Pangkalan Laut Tanjung Mas Semarang Kolonel (Laut) Jan Simamora, Selasa (2/1), mengatakan hingga pukul 20.30 korban tenggelamnya KM Senopati Nusantara yang belum ditemukan masih 416 orang. Korban selamat 200 orang dan yang meninggal 12 orang.

(Sumber: *fadileaa.blogspot.com*)

Kesamaan informasi yang dibahas dalam kedua teks tersebut adalah ....

- A. penyebab kecelakaan transportasi laut
- B. korban kecelakaan yang belum ditemukan
- C. cuaca buruk penyebab kecelakaan
- D. saat terjadinya kecelakaan di laut

5. **Cermatilah ilustrasi berikut!**

Ditawarkan sebuah rumah dengan tipe 72, fasilitas yang tersedia 2 kamar tidur, garasi mobil, listrik 1.300 watt, dan air PAM. Harga dapat dinegosiasikan. Bagi yang berminat segera hubungi nomor 0809899999.

Iklan baris yang sesuai dengan ilustrasi tersebut adalah ....

- A. Dijual rumah tipe 72, 1300 watt, garasi, 2 kamar, PAM, harga nego, hubungi 0809899999.
- B. Dijual rumah T72, fas 2 KT, garasi, listrik, 1300w, PAM, nego, hub 0809899999.
- C. Kami menawarkan rumah T72, 2KT, garasi, 1300w, PAM, nego, 0809899999.
- D. Ditawarkan rumah 72, 1300w, garasi, 2 kamar tidur, PAM, nego 0809899999.

**Cuplikan teks laporan berikut untuk menjawab soal nomor 6 dan 7.**

*Warga desa bula air, kecamatan bula, kabupaten seram bagian timur, provinsi maluku terpaksa menyeberangi sungai menggunakan rakit. Pasalnya, jembatan penghubung desa roboh sejak satu tahun lalu. Anak-anak pun terancam putus sekolah.*

Ayu Kilmau, warga Desa Bula Air mengatakan jika musim hujan, anak-anak Desa Bula Air terpaksa tidak berangkat ke sekolah lantaran arus sungai sangat deras. Mereka tak dapat menyeberangi sungai sebab rakit yang biasa mereka gunakan terbawa arus sungai. Selain itu, putusnya akses ini juga berdampak terhadap hasil pertanian. Warga tak dapat menjual hasil kebun karena tidak bisa menyeberangi sungai.

Warga Desa Bula Air berharap Pemerintah Kabupaten Seram Bagian Timur maupun Provinsi Maluku segera memperbaiki jembatan itu. Selain itu, warga juga berharap perusahaan yang mengeksplorasi minyak bumi tak jauh dari jembatan roboh itu juga memperbaiki jembatan.

(Sumber: *news.metrotvnews.com*)

- 6. Gagasan utama dari berita tersebut adalah ....
  - A. Jembatan yang roboh disebabkan oleh adanya perusahaan yang mengeksplorasi minyak bumi tak jauh dari jembatan tersebut.
  - B. Anak-anak sekolah yang terancam putus sekolah karena tidak bisa menyeberangi sungai yang menghubungkan desa mereka dengan sekolah.
  - C. Jembatan yang roboh sangat berpengaruh terhadap hasil pertanian.
  - D. Pemerintah Provinsi Maluku tidak segera memperbaiki jembatan tersebut padahal dengan robohnya jembatan tersebut sangat merugikan berbagai pihak.
- 7. Perbaikan struktur kalimat yang dicetak miring adalah ....
  - A. Warga Desa Bula Air, Kecamatan Bula, Kabupaten Seram Bagian Timur, Provinsi Maluku terpaksa menyeberangi sungai menggunakan rakit.
  - B. Warga Desa bula air, Kecamatan bula, Kabupaten seram bagian timur, Provinsi Maluku terpaksa menyeberangi sungai menggunakan rakit.

- C. Warga Desa Bula Air, kecamatan Bula, kabupaten seram bagian Timus, Provinsi Maluku terpaksa menyeberangi sungai menggunakan rakit.
- D. Warga Desa bula air, Kecamatan Bula, Kabupaten Seram bagian Timur, Provinsi Maluku terpaksa menyeberangi sungai menggunakan rakit.

8. **Perhatikan tabel berikut!**

Jumlah buku di perpustakaan SD Taruna

No.	Jenis	Judul	Eksemplar
1	Dongeng	32	24
2	Cerita Nabi	12	9
3	Fabel	36	54
4	Novel Remaja	10	5
Jumlah		90	92

Simpulan isi dari tabel tersebut adalah ....

- A. Novel remaja berjumlah 10 setiap judulnya.
- B. Buku dengan jumlah terbanyak adalah dongeng.
- C. Buku dengan ragam judul terbanyak adalah fabel.
- D. Jumlah jenis judul buku lebih banyak daripada jenis bukunya.

9. **Perhatikan kutipan puisi berikut!**

**Sahabat**

Kau bagaikan orang tua (1)  
 di waktu aku butuh nasihat (2)  
 kau bagaikan obat (3)  
 di waktu aku sakit (4)

(Sumber: [www.gen22.net](http://www.gen22.net))

Larik bermajas pada puisi tersebut terdapat pada nomor ....

- A. 1 dan 2
- B. 1 dan 3
- C. 3 dan 4
- D. 2 dan 4

10. **Perhatikan kutipan cerpen berikut!**

"Kir, kamu sudah lihat anak baru yang masuk kelas sebelah itu belum?" tanya Pipo.  
 "Yang mana, Pip?" Akira berpikir sebentar,

lalu menggelengkan kepalanya. "Aku tidak tahu, Pip," ujarnya lagi.

Pipo menggeram gemas, "Duh Akira, padahal anaknya cantik sekali, lho. Putih, memakai kawat gigi dan rambutnya dikuncir." Akira tertawa, "Oh, itu. Kalau itu aku tahu. Namanya Ayunda."

Cara pengarang menggambarkan watak tokoh Ayunda dalam kutipan cerpen tersebut adalah ....

- A. tingkah laku antartokoh
- B. dialog antartokoh
- C. diceritakan oleh si pengarang
- D. diceritakan tokoh lain

**Bacalah kutipan cerpen berikut untuk menjawab soal nomor 11 s.d. 13!**

Waktu bangun pagi-pagi Noerdin merasa badannya kurang enak. Sehari itu ia tidak bekerja dan panasnya amat tinggi. Malamnya makin bertambah juga panasnya, dan ia pun sudah igau-igauan. Lain tidak yang disebutnya ialah Rukmini juga. Besoknya adalah demamnya agak turun sedikit, tetapi bukan main rindunya hendak bertemu Rukmini. Dengan tidak malu lagi disuruhnya jemput Rukmini hari itu juga.

(Sumber: [academia.edu](http://academia.edu))

- 11. Tema dari kutipan cerpen di atas adalah ....
  - A. keluarga
  - B. persahabatan
  - C. percintaan
  - D. per seteruan
- 12. Sudut pandang pengarang yang digunakan dalam kutipan di atas adalah ....
  - A. orang pertama sebagai tokoh sampingan
  - B. orang kedua
  - C. orang ketiga pengamat
  - D. orang ketiga serba tahu
- 13. Watak dari tokoh Noerdin dalam kutipan cerpen di atas adalah ....
  - A. sopan
  - B. tabah
  - C. tidak malu
  - D. jujur
- 14. **Perhatikan kutipan naskah drama berikut!**  
 Adira : "Hei, Anisa! Apa kau melihat Karina sejak tadi?"

Nisa : "Loh, sejak keluar dari bioskop tadi dia kan bersama kamu?"

Adira : "Waduh, bagaimana ini, *handphone* nya juga tidak aktif! Mana sudah malam lagi!" (*panik*)

Nisa : "Kalau begitu kita ke satpam saja ya, kita cari dia melalui interkom."

Adira : "Nah, itu dia Karina, ternyata dia dari kamar mandi." (*lega*)

Suasana dalam drama tersebut adalah ....

- A. gelisah
- B. tegang
- C. panik
- D. kesal

15. Latar kutipan naskah tersebut adalah ....

- A. di mall, sore hari
- B. di dalam bioskop, malam hari
- C. di luar bioskop, sore hari
- D. di luar bioskop, malam hari

16. **Perhatikan kutipan naskah drama berikut!**

Sepulang sekolah, Adi menghampiri Jerry yang sedang makan di kantin.

Adi : "Jer, nanti sore jadi ya?"

Jerry : "Memangnya kita mau ke mana?"

Adi : "Kata kamu kita mau ke rumah Andrea? Kan Andrea sakit."

Jerry : "Iya, maaf aku lupa."

Adi : "Oke, baiklah, nanti sore aku ke rumahmu dulu ya, kujemput naik mobil papaku, rumah Andrea jauh soalnya."

Jerry : (*terdiam sesaat*) "Di, sebenarnya aku tidak bisa hari ini, karena Ibuku sedang dirawat di rumah sakit... aku titip salam untuk Andrea ya."

Konflik yang terdapat dalam naskah drama tersebut adalah ....

- A. konflik fisik
- B. konflik batin
- C. konflik antarkelompok
- D. konflik individu dengan kelompok

17. **Perhatikan kutipan cerita anak berikut!**

Tadi malam, Bunda membuatkan Ayun sebuah tas dari kain perca. Tas tersebut sangat unik dan bertuliskan nama Ayun. Sayangnya, Ayun kurang menyukai tas tersebut. Semalaman Ayun memikirkan

bagaimana cara memberitahu Ibunya bahwa Ayun menginginkan tas Barbie yang dipakai teman-temannya di sekolah.

Karena Ayun tidak tega meminta pada ibunya, kemudian dengan berat hati Ayun memakai tas buatan ibunya ke sekolah. Tak disangka, teman-temannya menyukai tas buatan ibunda Ayun. "Ayun, aku juga mau dibuatkan tas seperti ini!" ujar teman-temannya. Ayun tertawa lebar. "Maafkan Ayun, Ibu. Ayun suka sekali tas bikinan Ibu. Unik, tidak ada yang punya," pikirnya.

Amanat kutipan cerita tersebut adalah ....

- A. Janganlah meminta barang mahal kepada orangtua.
- B. Hargailah pemberian orangtua.
- C. Janganlah suka membantah orangtua.
- D. Berbuat baiklah kepada teman-teman.

18. **Bacalah kutipan percakapan berikut!**

Ibu Guru : "Anak-anak, jadi siapa yang mau bergabung menjadi anggota tim Cerdas Cermat?"

Anton : "Maria saja, Bu. Dia pintar dan cerdas!"

Dani : "Iya, Bu. Benar kata Anton, sebaiknya kita calonkan Maria saja."

Maria : "Terima kasih teman-teman, Bu. Saya mendaftar menjadi anggota tim Cerdas Cermat, ya."

Ibu Guru : "Baiklah, Maria, saya juga setuju denganteman-temanmu. Seluruh nilaimu bagus sekali. Kamu tulis namamu di form pendaftaran ini, ya."

Topik percakapan tersebut adalah ....

- A. kesehatan
- B. pendidikan
- C. pekerjaan
- D. kebutuhan

19. Tokoh utama dalam percakapan tersebut adalah ....

- A. Ibu Guru
- B. Anton
- C. Dani
- D. Maria

20.

### **Pengumuman**

Sehubungan dengan mewabahnya penyakit demam berdarah, kami beritahukan kepada

seluruh warga RT 01 RW 022 Desa Cisalak untuk ikut berpartisipasi dalam kerja bakti yang akan diselenggarakan pada hari/tanggal : Minggu, 29 Maret 2015 waktu : 07.00 WIB – selesai tempat : Lingkungan RT 01/RW 022 Desa Cisalak

[.....]

Cisalak, 25 Maret 2015

Hormat kami,  
Ketua RT 01

Jaja Purwaka

Kalimat efektif untuk melengkapi surat pengumuman tersebut adalah ....

- A. Seluruh warga mohon untuk membawa alat kebersihan sendiri-sendiri.
  - B. Seluruh warga diharapkan membawa alat kebersihan.
  - C. Kami mengimbau Anda semua untuk membawa alat kebersihan.
  - D. Kami mengimbau Bapak/Ibu semua dapat membawa alat kebersihan.
21. Di bawah ini pengumuman perseorangan, *kecuali* ....
- A. Dijual cepat SPM Yamaha th 2014 Hub.587233/587244.
  - B. Telah ditemukan sebuah dompet, berisi KTP, SIM, STNK a.n Andara Kinanti.
  - C. Dibutuhkan karyawan untuk toko onderdil motor, syarat wanita minimal SMA.
  - D. Telah hilang STNK Piaggio a.n Karisa Sabina dan SIM Bilqis Sasikirana Jl Florida O3 46.

22. **Perhatikan data buku berikut!**

Buku berjudul 'Pengantar Kimia Tanah' dikarang oleh Syaiful Anwar, diterbitkan di Bogor oleh IPB Press pada tahun 2008.

Penulisan daftar pustaka yang tepat berdasarkan data buku tersebut adalah ....

- A. Syaiful, Anwar, 2008. Pengantar Kimia Tanah. Bogor: IPB Press.
- B. Syaiful, Anwar, 2008. Pengantar Kimia Tanah. IPB Press: Bogor.
- C. Anwar, Syaiful. 2008. *Pengantar Kimia Tanah*. Bogor: IPB Press.

D. Anwar, Syaiful. 2008. Pengantar Kimia Tanah. IPB Press: Bogor.

23. **Perhatikan data buku berikut!**

Judul buku : Budidaya Ikan Lele

Pengarang : Rachmatun Suyanto

Penerbit : PT Penebar Swadaya

Keunggulan : Penggunaan bahasa yang mudah dicerna

Kelemahan : Menggunakan teori yang sulit diikuti

Paragraf resensi yang tepat berdasarkan data buku tersebut adalah ....

- A. Isi buku memberitahu bagaimana cara berbudi daya lele dengan baik. Tulisan sudah cukup jelas namun banyak ejaan yang salah.
- B. Bahasa yang digunakan dalam buku ini dapat dipahami dan cenderung komunikatif, hanya saja dalam pembeberan teorinya sulit untuk dapat diikuti masyarakat awam.
- C. Kekurangan pada buku ini terletak pada tulisannya yang tidak tercetak dengan jelas, namun buku ini cukup mudah untuk dimengerti pembaca.
- D. Kelebihan dari buku ini adalah banyaknya penjelasan yang mudah dimengerti dan gambar gambar yang ditampilkan di dalam buku ini memberikan kesan segar.

24. **Bacalah surat berikut!**

Untuk teman-teman Kelas IX SMP Andalas.

Panitia perpisahan kelas IX mengharapakan teman-teman dalam acara rapat yang akan diselenggarakan pada

hari : [...]

waktu : Pukul 13.00 WIB

tempat : Ruang audiovisual

acara : Pembahasan rencana perpisahan kelas VI

Diharapkan teman-teman dapat hadir tepat waktu, terima kasih.

Kalimat yang tepat untuk melengkapi titik-titik dalam surat tersebut adalah ....

- A. Senin, 20 April 2015
- B. Senin. 20 April 2015

- C. Senin? 20 April 2015
- D. Senin: 20 April 2015

25. OSIS SMP Taruna akan mengadakan Pekan Olahraga. Ketua OSIS mengundang pengurus OSIS untuk rapat pembentukan panitia. Rapat tersebut akan dilaksanakan pada Jumat, 18 Maret 2015, pukul 14.00 di ruang OSIS.

Isi surat resmi yang sesuai dengan ilustrasi di atas adalah ....

- A. Kami mengharapkan kehadiran para pengurus OSIS SMP Taruna dalam rapat yang akan dilaksanakan pada hari, tanggal : Jumat, 18 Maret 2015 waktu : Pukul 08.00 tempat : Ruang OSIS acara : Persiapan Lomba
- B. Teman-teman pengurus OSIS SMP Taruna harap hadir dalam rapat yang akan dilaksanakan pada hari, tanggal : Jumat, 18 Maret 2015 waktu : Pukul 14.00 tempat : Ruang Rapat acara : Persiapan Bakti Sosial
- C. Kami mengharapkan kehadiran pengurus OSIS SMP Taruna dalam rapat yang akan dilaksanakan pada hari, tanggal : Jumat, 18 Maret 2015 waktu : Pukul 14.00 tempat : Ruang OSIS acara : Pembentukan Panitia Porseni
- D. Para pengurus OSIS Bangsa harap hadir dalam rapat yang akan dilaksanakan pada hari, tanggal : Jumat, 18 Maret 2009 waktu : Pukul 13.00 tempat : Ruang Media acara : Pembagian Kerja

26. Salah satu produk ekspor Indonesia baru-baru ini ditarik dari pasar negara tetangga dan dilarang impor kembali oleh negara tersebut karena mereka menyatakan bahwa produk tersebut menggunakan zat yang seharusnya digunakan untuk kosmetik, bukan makanan.

(Sumber: [safiraa43.blogspot.com](http://safiraa43.blogspot.com))

Tanggapan yang tepat untuk pernyataan tersebut adalah ....

- A. Indonesiaseharunyalebihmemerhatikan standar keamanan negara pengimpor.
- B. Indonesia seharusnya tidak menggunakan zat tersebut.
- C. Indonesia seharusnya tidak menggubris negara tersebut.
- D. Negara tersebut hanya iri kepada Indonesia.

**Bacalah teks di bawah ini dengan saksama!**

(1) Kereta Api Progo dari Yogyakarta ke Jakarta anjlok di Desa Lemah Abang, Cibitung, Jawa Barat. (2) Kecelakaan diduga disebabkan terlepasnya engsel dan as kereta sehingga roda kereta keluar jalur. (3) Tidak ada korban jiwa dalam peristiwa tersebut. (4) Mungkin karena kereta hanya diisi sekitar 50 penumpang. (5) Saat ditemui di lokasi kejadian, Kepala Humas PT Kereta Api Daerah Operasi VII Cikarang menuturkan, penyebab pasti kecelakaan ada beberapa kemungkinan, antara lain faktor sarana kereta, prasarana rel dan faktor teknis lainnya.

(Sumber: [zulmasrifiles.blogspot.com](http://zulmasrifiles.blogspot.com))

27. Pernyataan yang berupa fakta pada teks tersebut ditandai dengan nomor ....
- A. 2 dan 5
  - B. 2 dan 4
  - C. 1 dan 4
  - D. 1 dan 3
28. Kritik terhadap Kepala Humas PT Kereta Api pada bacaan tersebut adalah ....
- A. Faktor kesalahan manusia juga harus diselidiki.
  - B. Kita harus membantu masyarakat yang mengalami musibah.
  - C. Masyarakat harus hati-hati jika menggunakan jasa kereta api.
  - D. Kita harus waspada memilih alat transportasi sebelum bepergian.
29. **Perhatikan kalimat di bawah ini!**
- (1) Jakarta adalah ibukota Indonesia.
  - (2) Pemerintah mengalami kerugian sebesar 23 triliun tahun lalu.
  - (3) Komjen Andre merasa bahwa kasus tersebut hanyalah isu semata.

- (4) Pengunjuk rasa menduduki gedung DPR – MPR pada demo rabu kemarin.

Kalimat yang berisi pendapat pada teks tersebut terdapat pada nomor ....

- A. 1  
B. 2
- C. 3  
D. 4
30. Contoh kritikan yang sopan terhadap puisi karya teman adalah ....
- A. Kamu tidak cocok menjadi penyair, berhenti saja, ya.  
B. Puisimu sudah cukup bagus, tetapi ada sedikit yang perlu diperbaiki.  
C. Isi dari puisimu tidak jelas, isi dengan judulnya juga tidak sejalan, sama sekali tidak puitis.  
D. Kamu sama sekali tidak berbakat menjadi penyair.
31. **Bacalah kesimpulan karya ilmiah berikut!**  
Berdasarkan uraian tersebut dapat disimpulkan bahwa bahan organik mampu membuat tanaman menjadi lebih subur.

Saran yang tepat berdasarkan simpulan tersebut adalah ....

- A. Masyarakat agar selalu menggunakan bahan organik ketika bercocok tanam.  
B. Para petani diharapkan menambahkan bahan organik untuk tanamannya.  
C. Setiap orang harus bercocok tanam menggunakan bahan organik.  
D. Masyarakat perlu sadar akan pentingnya bahan organik.

32. **Cermatilah ilustrasi berikut!**

Pendidikan adalah hal yang sangat penting sebagai bekal di masa depan. Anak yang rajin belajar akan lebih banyak ide dan mudah mengerti tentang hal baru. Oleh, karena itu, belajarlh yang rajin supaya masa depan kalian cerah.

Slogan yang sesuai dengan ilustrasi tersebut adalah ....

- A. Belajar dengan girang, masa depan terang.  
B. Pendidikan nomor satu.  
C. Tetaplah belajar supaya hidupmu bahagia.

- D. Anak yang belajar dengan baik hidupnya cerah.

33. **Cara membuat nasi goreng pedas:**

- (1) Masukkan kecap. (Kecap yang bercampur dengan minyak panas akan lebih gurih)  
(2) Terlebih dahulu panaskan minyak goreng di dalam wajan.  
(3) Masukkan nasi putih, lalu aduk hingga merata.  
(4) Sajikan dengan bawang goreng, hias dengan mentimun.  
(5) Kemudian tumis bumbu yang telah dihaluskan dan tambahkan daun bawang, tumis hingga mengeluarkan bau harum.

Urutan kalimat yang tepat agar menjadi sebuah paragraf adalah ....

- A. 1 – 3 – 2 – 5 – 4  
B. 2 – 5 – 1 – 3 – 4  
C. 2 – 5 – 3 – 1 – 4  
D. 1 – 2 – 3 – 4 – 5

34. **Cermatilah ilustrasi berikut!**

Pada hari Senin Ibu Guru Nina melakukan pemilihan ketua kelas baru. Pada hari itu Anto lah yang terpilih menjadi ketua kelas berdasarkan pemungutan suara yang diselenggarakan Bu Nina di dalam kelas. Anto diberi waktu 10 menit untuk memberikan pidato di depan kelas.

Isi pidato Anto yang sesuai dengan ilustrasi tersebut adalah ....

- A. Teman-teman tersayang, terima kasih telah mempercayakan saya sebagai ketua kelas, sayangnya, saya tidak bisa menjadi ketua kelas karena saya sibuk.  
B. Puji syukur kita panjatkan ke hadirat Allah SWT. Pada hari ini kita dapat bertemu kembali di acara pemilihan ketua kelas.  
C. Demikian pidato saya, mudah-mudahan teman-teman tidak menyesal dengan pilihannya.  
D. Terima kasih untuk Bu Nina yang sudah memberikan saya kesempatan untuk berpidato, dan terima kasih untuk teman-teman yang telah mempercayakan posisi ini untuk saya.

35. **Perhatikan kutipan teks pidato berikut!**

Saudara-saudara sekalian, pada hari ini saya akan menyampaikan pentingnya menjaga kebersihan lingkungan. Hal yang paling mudah dalam menjaga kebersihan lingkungan adalah dengan tidak membuang sampah sembarangan. Dengan membuang sampah pada tempatnya, kita dapat mencegah banjir, dan menciptakan lingkungan yang senantiasa rapi dan indah.

Perbaiki sapaan pada kutipan dalam teks pidato tersebut adalah ....

- A. Bapak dan Ibu sekalian yang saya hormati
  - B. Para murid-murid yang saya banggakan
  - C. Hadirin yang terhormat
  - D. Para penonton sekalian
36. Jangan melakukan pekerjaan dengan ... supaya hasilnya dapat maksimal!
- Ungkapan yang cocok untuk melengkapi kalimat rumpang di atas adalah ....
- A. kecil hati
  - B. besar hati
  - C. berat hati
  - D. tinggi hati
37. Arti dari peribahasa "Menang jadi arang, kalah jadi abu" adalah ....
- A. kemenangan itu membanggakan
  - B. kekalahan itu lebih mulia
  - C. kekalahan mendatangkan kerugian
  - D. menang ataupun kalah sama-sama menderita

38. **Perhatikan kalimat berikut!**

Mahasiswi perguruan tinggi yang terkenal itu mendapatkan hadiah.

Perbaiki kalimat tersebut adalah ....

- A. Mahasiswi yang kuliah di perguruan tinggi yang terkenal itu mendapatkan hadiah.
- B. Mahasiswi yang terkenal di perguruan tinggi itu mendapatkan hadiah.
- C. Mahasiswi perguruan tinggi itu mendapatkan hadiah yang terkenal.
- D. Mahasiswi yang terkenal itu mendapatkan hadiah di perguruan tinggi.

39. **Perhatikan kalimat berikut!**

17 Agustus adalah Hari proklamasi Kemerdekaan Indonesia dimana pada hari tersebut bangsa Indonesia terbebas dari Penjajah.

Perbaiki penulisan huruf kapital pada kalimat tersebut adalah ....

- A. 17 agustus adalah hari proklamasi kemerdekaan Indonesia dimana pada hari tersebut bangsa Indonesia terbebas dari penjajah.
- B. 17 Agustus adalah Hari Proklamasi Kemerdekaan Indonesia dimana pada hari tersebut bangsa Indonesia terbebas dari penjajah.
- C. 17 Agustus adalah hari proklamasi kemerdekaan Indonesia dimana pada hari tersebut bangsa Indonesia terbebas dari penjajah.
- D. 17 Agustus adalah hari Proklamasi Kemerdekaan Indonesia dimana pada hari tersebut bangsa Indonesia terbebas dari Penjajah.

40. **Perhatikan kalimat berikut!**

Saya sangat senang jika ada anak muda yang belajar tentang sejarah Indonesia ujar nenek Sumirah.

Penggunaan tanda baca yang tepat pada kalimat tersebut adalah ....

- A. Saya sangat senang jika ada anak muda yang belajar tentang sejarah Indonesia, ujar nenek Sumirah.
  - B. "Saya sangat senang jika ada anak muda yang belajar tentang sejarah Indonesia". Ujar nenek Sumirah
  - C. "Saya sangat senang jika ada anak muda yang belajar tentang sejarah Indonesia," ujar Nenek Sumirah.
  - D. "Saya sangat senang jika ada anak muda yang belajar tentang sejarah Indonesia." Ujar nenek Sumirah.
41. Andi tidak pergi ke sekolah hari ini ... dia merawat ibunya yang sakit.

Kata hubung yang tepat adalah ....

- A. tetapi
- B. karena
- C. walaupun
- D. oleh karena itu

42. Ibu sedang memasak ayam  
Ayah memanggil ibu

Gabungan yang tepat dari kedua kalimat tersebut adalah ....

- A. Ibu sedang memasak ayam, dan ayah memanggil ibu.
- B. Ibu sedang memasak ayam karena ayah memanggil ibu.
- C. Ibu sedang memasak ayam ketika ayah memanggil ibu.
- D. Ibu sedang memasak ayam kalau ayah memanggil ibu.

43. Wah, indah sekali bunga melati itu!

Kata seru dalam kalimat di atas menyatakan rasa ....

- A. kagum
- B. kesal
- C. minta perhatian
- D. sakit

44. **Cermatilah kalimat berikut!**

Kepada para siswa siswi yang mengikuti lomba voli diharapkan mohon berkumpul di lapangan.

Kalimat tersebut akan menjadi efektif apabila dihilangkan kata ....

- A. siswa dan siswi
- B. kepada
- C. para
- D. diharapkan

45. **Perhatikan kutipan puisi berikut!**

**Mentari**

Hai mentari pagi  
Hari ini kau datang tampak cerah sekali  
Engkau datang tiap hari  
Untuk sumber energi pribumi  
Semua orang berlari pagi  
Untuk menyehatkan diri  
Tanpa kau, hai mentari  
Di seluruh bumi ini  
Akan mati tiada lagi

(Sumber: [s1pgsd.blogspot.com](http://s1pgsd.blogspot.com))

Tema puisi tersebut adalah ....

- A. kekaguman pada pagi hari
- B. kekaguman pada matahari
- C. sapaan kepada matahari
- D. sapaan kepada seisi bumi

46. **Perhatikan puisi berikut!**

**Mata Pisau**

Oleh: Sapardi Djoko Damono

Mata pisau itu tak berkejam menatapmu  
kau yang baru saja mengasahnya  
berfikir: ia tajam untuk mengiris apel  
yang tersedia di atas meja  
sehabis makan malam;  
ia berkilat ketika terbayang olehnya urat  
lehermu ...

Makna dari puisi tersebut adalah ....

- A. Janganlah sembarangan memegang benda tajam
- B. Segala sesuatu mempunyai dua makna seperti mata pisau
- C. Kata-kata yang kejam akan menyakiti seseorang, maka dari itu janganlah berbicara dengan kasar
- D. Sesuatu hal dapat digunakan untuk kebaikan namun juga bisa untuk hal negatif

47. **Perhatikan kutipan pantun berikut!**

*Pohon mangga pohon jati*

*Jatuh tumbang di tanah lapang*

....

....

Larik yang tepat untuk melengkapi pantun tersebut adalah ....

- A. Kalau kamu tidak suka hati  
Janganlah berkata kasar
- B. Kalau kamu marah padaku  
Mari kita berbaikan
- C. Kalau kamu dinasehati  
Janganlah suka membangkang
- D. Kalau kamu berteman denganku  
Kamu pasti akan senang

48. **Bacalah kutipan pantun di bawah ini!**

*Sambal pedas di Sawojajar (1)  
Beli ketupat nangkring di batu (2)  
Ingin cerdas ayo belajar (3)  
Biar dapat rangking satu (4)*

Dari puisi tersebut yang merupakan sampiran adalah lirik bernomor ....

- A. 1 dan 3                      C. 1 dan 2  
B. 2 dan 3                      D. 3 dan 4

49. Dari puisi tersebut yang merupakan isi adalah lirik bernomor ....

- A. 1 dan 3                      C. 1 dan 2  
B. 2 dan 3                      D. 3 dan 4

50. **Perhatikan dialog di bawah ini!**

Penyiar radio : "Apa lagu favoritmu sekarang?"  
Zaskia : "Wah, kalau aku sih suka dengan lagu yang temanya kasih sayang terhadap orang tua, Kak."

Penyiar radio : "Keren sekali, contohnya apa?"  
Zaskia : "Lagu Melly Goeslaw yang judulnya "Bunda" Kak. "Lagunya bagus sekali menceritakan bahwa bunda selalu ada di dalam hati kita sampai kapanpun."

Apa tema dialog di atas?


- A. Lagu favorit pendengar radio masa kini.  
B. Lagu Melly Goeslaw yang berjudul *Bunda*.  
C. Kasih sayang terhadap orang tua.  
D. Bunda selalu ada di dalam hati kita sampai kapanpun.

# KUNCI JAWABAN

---



- |       |       |       |       |       |
|-------|-------|-------|-------|-------|
| 1. A  | 11. C | 21. A | 31. A | 41. B |
| 2. A  | 12. D | 22. C | 32. D | 42. C |
| 3. C  | 13. C | 23. B | 33. C | 43. A |
| 4. B  | 14. C | 24. A | 34. D | 44. C |
| 5. B  | 15. D | 25. C | 35. C | 45. B |
| 6. B  | 16. B | 26. A | 36. C | 46. D |
| 7. A  | 17. B | 27. D | 37. D | 47. C |
| 8. C  | 18. B | 28. A | 38. A | 48. C |
| 9. B  | 19. D | 29. C | 39. B | 49. D |
| 10. B | 20. B | 30. B | 40. C | 50. A |



# MATEMATIKA

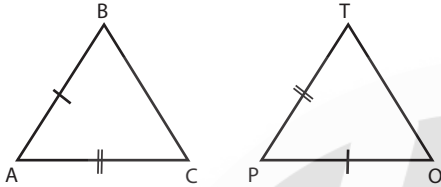
## Sekolah Menengah Pertama

- Hasil kali  $17 - (3 \times (-8))$  adalah ....
  - 49
  - 41
  - 7
  - 41
- Hasil kali dari  $1\frac{3}{4} : 2\frac{1}{4} + 1\frac{1}{3}$  adalah ....
  - $2\frac{1}{18}$
  - $2\frac{1}{9}$
  - $2\frac{2}{3}$
  - $3\frac{19}{36}$
- Uang adik berbanding uang kakak 3 : 5. Jika selisih uang keduanya Rp180.000, jumlah uang kakak dan adik adalah ....
  - Rp288.000
  - Rp300.000
  - Rp480.000
  - Rp720.000
- Hasil dari  $8^{\frac{5}{3}}$  adalah ...
  - 10
  - 25
  - 32
  - 64
- Hasil kali dari  $\sqrt{8} \times \sqrt{3}$  adalah ....
  - $2\sqrt{6}$
  - $2\sqrt{8}$
  - $3\sqrt{6}$
  - $4\sqrt{6}$
- Rudi menabung di bank sebesar Rp1.400.000. Bank memberi suku bunga tunggal sebesar 15% setahun. Saat diambil, tabungan Rudi sebesar Rp1.522.500, maka lama Rudi menabung adalah ....
  - 6 bulan
  - 7 bulan
  - 8 bulan
  - 9 bulan
- Dua suku berikutnya dari barisan 3, 4, 6, 9, ... adalah ....
  - 13, 18
  - 13, 17
  - 12, 26
  - 12, 15
- Suatu barisan aritmatika diketahui  $U_6 = 18$  dan  $U_{10} = 30$ . Jumlah 16 suku pertama dari barisan tersebut adalah ....
  - 896
  - 512
  - 448
  - 408
- Dalam setiap 20 menit amuba membelah diri menjadi dua. Jika mula-mula ada 50 amuba, selama dua jam banyaknya amuba adalah ....
  - 1.600
  - 2.000
  - 3.200
  - 6.400
- Faktor dari  $4x^2 - 36y^2$  adalah ....
  - $(2x + 6y)(2x - 6y)$
  - $(2x - 6y)(2x - 6y)$
  - $(4x - 6y)(x + 6y)$
  - $(4x + 6y)(x + 6y)$
- Himpunan penyelesaian dari  $-2x - 3 \geq -5x + 9$ , untuk x bilangan bulat adalah ....
  - $\{-3, -2, -1, 0, \dots\}$
  - $\{-1, 0, 1, 2, \dots\}$
  - $\{2, 3, 4, \dots\}$
  - $\{4, 5, 6, 7, \dots\}$
- Jumlah tiga bilangan ganjil berurutan adalah 45. Jumlah bilangan terbesar dan terkecil adalah ....
  - 26
  - 30
  - 34
  - 38
- Perhimpunan pengrajin beranggotakan 73 orang, 42 orang memproduksi anyaman rotan, dan 37 orang memproduksi anyaman rotan dan bambu. Banyak orang yang hanya memproduksi anyaman bambu adalah ....
  - 31 orang
  - 36 orang
  - 42 orang
  - 68 orang
- Suatu fungsi didefinisikan dengan rumus  $f(x) = mx + n$ . Jika  $f(0) = 4$  dan  $f(-1) = 1$ , nilai  $f(-3)$  adalah ....
  - 13
  - 5
  - 5
  - 13



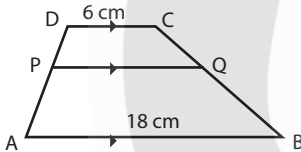
25. Persamaan garis melalui titik  $(2, -3)$  dan sejajar garis  $2x - 3y + 5 = 0$  adalah ....
- A.  $3x + 2y = 13$       C.  $2x + 3y = 13$   
 B.  $3x - 2y = 13$       D.  $2x - 3y = 13$

26. Perhatikan gambar!



- Segitiga ABC kongruen dengan segitiga POT. Pasangan sudut yang sama besar adalah ....
- A.  $\angle BAC = \angle POT$       C.  $\angle ABC = \angle POT$   
 B.  $\angle BAC = \angle PTO$       D.  $\angle ABC = \angle PTO$

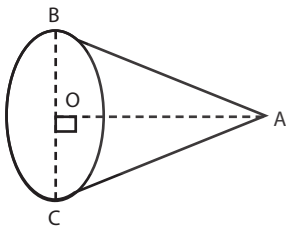
27. Perhatikan gambar!



- Jika  $DP : PA = 1 : 2$ , panjang PQ adalah ....
- A. 12 cm      C. 9 cm  
 B. 10 cm      D. 8 cm

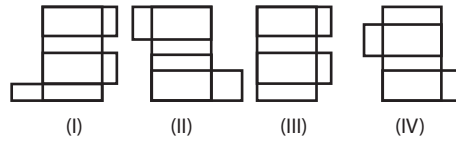
28. Sebuah tiang yang tingginya 2 m memiliki bayangan 150 cm. Pada saat yang sama bayangan sebuah pohon 12 m. Tinggi pohon tersebut adalah ....
- A. 8 m      C. 15 m  
 B. 9 m      D. 16 m

29. Perhatikan gambar kerucut!



- Garis AC adalah ....
- A. diameter      C. garis pelukis  
 B. jari-jari      D. garis tinggi

30. Perhatikan gambar di bawah!

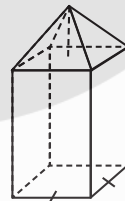


- Yang merupakan jaring-jaring balok adalah ....
- A. I dan II      C. III dan IV  
 B. II dan III      D. I dan IV

31. Tinggi sebuah kerucut 30 cm dan diameter alasnya 21 cm, dengan  $\pi = \frac{22}{7}$ . Volume kerucut itu adalah ....
- A.  $16.860 \text{ cm}^3$       C.  $6.930 \text{ cm}^3$   
 B.  $10.395 \text{ cm}^3$       D.  $3.465 \text{ cm}^3$

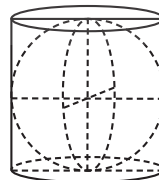
32. Volume bola terbesar yang dapat dimasukkan ke dalam dus berbentuk kubus dengan panjang rusuk 18 cm adalah ....
- A.  $1.296 \pi \text{ cm}^3$       C.  $468 \pi \text{ cm}^3$   
 B.  $972 \pi \text{ cm}^3$       D.  $324 \pi \text{ cm}^3$

33. Perhatikan bangun berikut yang terdiri dari balok dan limas! Diketahui balok berukuran  $6 \text{ cm} \times 6 \text{ cm} \times 12 \text{ cm}$ . Jika tinggi limas 4 cm, luas permukaan bangun adalah ....



- A.  $368 \text{ cm}^2$   
 B.  $384 \text{ cm}^2$   
 C.  $438 \text{ cm}^2$   
 D.  $440 \text{ cm}^2$

34. Gambar berikut adalah sebuah bola yang dimasukkan ke dalam tabung. Jika panjang jari-jari bola 5 cm, maka luas permukaan tabung adalah ....



- A.  $250 \pi \text{ cm}^2$   
 B.  $150 \pi \text{ cm}^2$   
 C.  $100 \pi \text{ cm}^2$   
 D.  $50 \pi \text{ cm}^2$

35. Dari dua belas kali ulangan matematika pada satu semester, Dania mendapat nilai 60, 55, 70, 65, 75, 70, 80, 70, 55, 75, 80, 85. Modus dari data tersebut adalah ....

- A. 70
- B. 75
- C. 80
- D. 85

36. Nilai rata-rata 24 siswa wanita adalah 70, sedangkan rata-rata 16 siswa pria 80. Nilai rata-rata keseluruhan adalah ....

- A. 74
- B. 75
- C. 76
- D. 78


37. Tabel di bawah ini adalah hasil ulangan matematika kelas 9A.

Nilai	4	5	6	7	8	9	10
Frekuensi	3	7	8	4	5	0	2

Banyak siswa yang mendapat nilai kurang dari 7 adalah ....

- A. 3 siswa
- B. 6 siswa
- C. 15 siswa
- D. 18 siswa

38. Diagram lingkaran berikut menunjukkan data mata pelajaran yang digemari siswa kelas IX. Jika banyak siswa 140 orang, banyak yang gemar matematika adalah ....



- A. 35 orang
- B. 42 orang
- C. 49 orang
- D. 65 orang

39. Sebuah dadu dilambungkan satu kali. Peluang muncul mata dadu faktor 6 adalah ....

- A.  $\frac{1}{6}$
- B.  $\frac{1}{2}$
- C.  $\frac{2}{3}$
- D.  $\frac{5}{6}$

40. Dalam sebuah kotak terdapat 4 bola kuning, 14 bola merah, dan 6 bola hijau. Sebuah bola diambil secara acak, maka peluang terambil bola berwarna kuning adalah ....

- A.  $\frac{1}{14}$
- B.  $\frac{1}{6}$
- C.  $\frac{1}{5}$
- D.  $\frac{1}{4}$

# KUNCI JAWABAN

---



- |       |       |       |       |
|-------|-------|-------|-------|
| 1. B  | 11. D | 21. B | 31. D |
| 2. B  | 12. B | 22. A | 32. B |
| 3. D  | 13. A | 23. B | 33. B |
| 4. C  | 14. B | 24. C | 34. B |
| 5. A  | 15. D | 25. D | 35. A |
| 6. B  | 16. B | 26. C | 36. A |
| 7. A  | 17. C | 27. B | 37. D |
| 8. D  | 18. A | 28. D | 38. C |
| 9. C  | 19. B | 29. C | 39. C |
| 10. A | 20. D | 30. D | 40. B |



# MATEMATIKA

## Sekolah Menengah Pertama

- Nilai dari  $2\frac{3}{4} - 3\frac{1}{3} : 2\frac{1}{2}$  adalah ....

A.  $1\frac{5}{12}$  C.  $2\frac{1}{12}$   
 B.  $1\frac{3}{4}$  D.  $2\frac{1}{7}$
- Perbandingan uang Ali dan Lia 4 : 3. Jumlah uang mereka Rp 560.000. Selisih uang Ali dan Lia adalah ....

A. Rp140.000 C. Rp100.000  
 B. Rp120.000 D. Rp80.000
- Hasil dari  $4^{-2} + 2^{-4}$  adalah ....

A.  $-\frac{1}{16}$  C.  $\frac{1}{16}$   
 B.  $-\frac{1}{8}$  D.  $\frac{1}{8}$
- Hasil dari  $2\sqrt{8} \times \sqrt{3}$  adalah ....

A.  $6\sqrt{2}$  C.  $4\sqrt{6}$   
 B.  $4\sqrt{5}$  D.  $8\sqrt{3}$
- Setelah 9 bulan uang tabungan Susi di koperasi berjumlah Rp3.815.000. Koperasi memberi jasa simpanan berupa bunga 12% per tahun. Tabungan awal Susi di koperasi adalah ....

A. Rp3.500.000 C. Rp3.600.000  
 B. Rp3.550.000 D. Rp3.650.000
- Suku ke-55 dari barisan 7, 15, 23, 31, 39, ... adalah ....

A. 496 C. 447  
 B. 488 D. 439
- Rumus suku ke-n dari barisan bilangan  $\frac{1}{2}, 1, 2, 4, 8, \dots$  adalah ....

A.  $2^{n+1}$  C.  $2^{n-1}$   
 B.  $2^n$  D.  $2^{n-2}$
- Suku ke-3 dan suku ke-7 barisan aritmetika adalah 36 dan 24. Jumlah 30 suku pertama adalah....

A. -1.350 C. -90  
 B. -675 D. -45
- Perhatikan pernyataan di bawah ini!

(i)  $12x^2 - 14x = 2x(6x - 7)$   
 (ii)  $6x^2 + x - 21 = (3x + 7)(2x - 3)$   
 (iii)  $2x^2 - 5x - 25 = (2x + 5)(x - 5)$   
 (iv)  $10x^2 - 41x + 27 = (2x - 9)(5x - 3)$

Pernyataan yang benar adalah ....

A. (i) dan (ii) C. (iii) dan (iv)  
 B. (ii) dan (iii) D. (i) dan (iii)
- Himpunan dari penyelesaian pertidaksamaan  $3x - 2 < 8x + 13$ , dengan x bilangan bulat adalah....

A.  $\{x|x < -3, x \text{ bilangan bulat}\}$   
 B.  $\{x|x > -3, x \text{ bilangan bulat}\}$   
 C.  $\{x|x < 3, x \text{ bilangan bulat}\}$   
 D.  $\{x|x > 3, x \text{ bilangan bulat}\}$
- Tiga bilangan genap berurutan jumlahnya 78. Jumlah bilangan terbesar dan terkecil adalah ....

A. 26 C. 52  
 B. 34 D. 54
- Diketahui:

$M = \{x|2 < x \leq 8, x \text{ bilangan prima}\}$  dan  
 $N = \{x|2 < x \leq 9, x \text{ bilangan genap}\}$   
 $M \cup N$  adalah ....

A.  $\{2, 3, 4, 5, 6, 7, 8, 9\}$   
 B.  $\{3, 4, 5, 6, 7, 8, 9\}$   
 C.  $\{2, 3, 4, 5, 6, 7, 8\}$   
 D.  $\{3, 4, 5, 6, 7, 8\}$

13. Diketahui :  $f(x) = mx + n$ . Jika  $f(-1) = 2$  dan  $f(2) = 11$ , nilai  $f(4)$  adalah ....
- A. 17                                  C. 37  
B. 28                                  D. 60

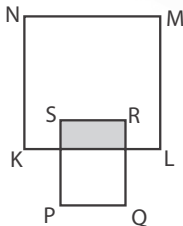
14. Persamaan garis yang melalui titik  $(2, 1)$  dan  $(3, 6)$  adalah ....
- A.  $5x - y = 9$                       C.  $x - 5y = -3$   
B.  $5x + y = 10$                     D.  $x + 5y = 7$

15. Gradien garis  $5y - 2x = 10$  adalah ....
- A.  $\frac{5}{2}$                                       C.  $-\frac{2}{5}$   
B.  $\frac{2}{5}$                                       D.  $-\frac{5}{2}$

16. Harga 2 kg apel dan 6 kg melon Rp46.000, sedangkan harga 4 kg apel dan 3 kg melon Rp47.000. Harga 5 kg apel dan 3 kg melon adalah ....
- A. Rp65.000                              C. Rp49.000  
B. Rp55.000                              D. Rp45.000

17. Jika belah ketupat ABCD dengan panjang diagonal  $AC = 48$  cm dan kelilingnya = 100 cm, luas belah ketupat ABCD adalah ....
- A.  $1.248 \text{ cm}^2$                           C.  $336 \text{ cm}^2$   
B.  $672 \text{ cm}^2$                             D.  $168 \text{ cm}^2$

18. Pada persegi KLMN dan persegi panjang PQRS, diketahui panjang  $PQ = 10$  cm,  $QR = 15$  cm,  $ML = 20$  cm, dan luas daerah yang diarsir  $67 \text{ cm}^2$ .



- A.  $416 \text{ cm}^2$                               C.  $476 \text{ cm}^2$   
B.  $467 \text{ cm}^2$                               D.  $487 \text{ cm}^2$

19. Lapangan upacara di sekolah berbentuk persegi panjang dengan ukuran  $26 \text{ m} \times 14 \text{ m}$ . Siswa melakukan pemanasan dengan berlari mengelilingi lapangan sebanyak tiga kali. Jarak tempuh siswa tersebut adalah ....
- A. 80 m                                      C. 200 m  
B. 160 m                                    D. 240 m

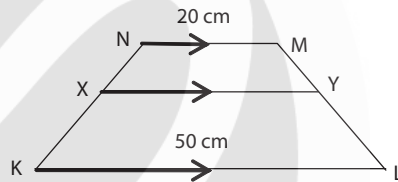
20. Segitiga ABC kongruen dengan segitiga PQR, besar  $\angle BAC = \angle PQR = 65^\circ$  dan  $\angle ABC = \angle QPR = 80^\circ$ . Sisi-sisi yang sama panjang adalah ....

- A.  $AB = PR$                               C.  $AB = PQ$   
B.  $AC = PQ$                               D.  $BC = QR$

21. Segitiga ABC yang panjang sisinya 6 cm, 8 cm, dan 10 cm sebangun dengan segitiga PQR yang panjang sisinya 15 cm, 20 cm, dan 25 cm. Perbandingan panjang sisi segitiga ABC dan segitiga PQR adalah ....

- A. 1 : 5                                        C. 5 : 2  
B. 2 : 5                                        D. 5 : 1

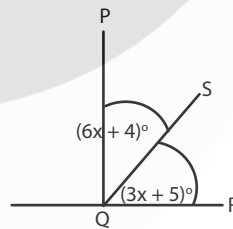
22. Perhatikan gambar!



Jika panjang  $LM = 30$  cm dan  $MY = 12$  cm, panjang  $XY$  adalah ....

- A. 30 cm                                      C. 35 cm  
B. 32 cm                                      D. 38 cm

23. Perhatikan gambar berikut!



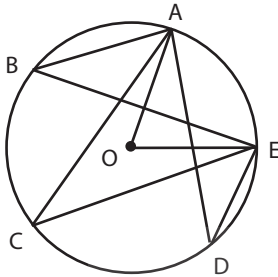
Besar penyiku  $\angle SQR$  adalah ....

- A.  $9^\circ$                                         C.  $48^\circ$   
B.  $32^\circ$                                       D.  $58^\circ$

24. Segitiga ABC siku-siku di A, ditarik garis k dari titik C ke titik tengah AB. Garis k dinamakan ....

- A. garis bagi  
B. garis berat  
C. garis tinggi  
D. garis sumbu

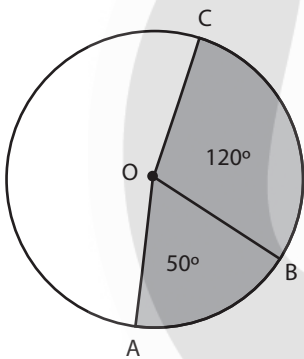
25. Perhatikan gambar!



Titik O adalah pusat lingkaran. Diketahui  $\angle ABE + \angle ACE + \angle ADE = 96^\circ$ . Besar  $\angle AOE$  adalah ....

- A.  $32^\circ$                       C.  $64^\circ$   
 B.  $48^\circ$                       D.  $84^\circ$

26. Perhatikan gambar di bawah ini!



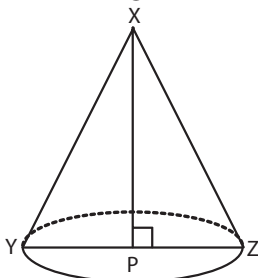
Jika luas juring  $AOB = 30 \text{ cm}^2$ , luas juring  $OBC$  adalah ....

- A.  $36 \text{ cm}^2$                       C.  $72 \text{ cm}^2$   
 B.  $60 \text{ cm}^2$                       D.  $78 \text{ cm}^2$

27. Dua lingkaran masing-masing berjari-jari 10 cm dan 6 cm. Jika jarak kedua titik pusat lingkaran 20 cm, panjang garis singgung persekutuan dalam kedua lingkaran tersebut adalah ....

- A. 4 cm                              C. 12 cm  
 B. 8 cm                              D. 16 cm

28. Perhatikan gambar kerucut berikut!



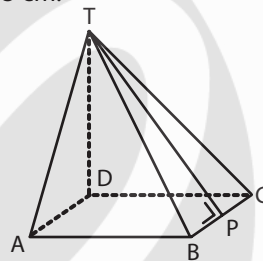
Ruas garis  $XP$  adalah ....

- A. jari-jari                      C. garis pelukis  
 B. diameter                      D. garis tinggi

29. Kawat sepanjang 12 meter akan dibuat kerangka balok yang berukuran panjang 27 cm, lebar 21 cm, dan tinggi 12 cm. Paling banyak kerangka balok yang dapat dibuat adalah ....

- A. 4 buah                              C. 6 buah  
 B. 5 buah                              D. 8 buah

30. Perhatikan limas  $TABCD$  alasnya berbentuk persegi. Keliling limas 72 cm, dan panjang  $TP = 15 \text{ cm}$ .



Volume limas tersebut adalah ....

- A.  $4.860 \text{ cm}^3$                       C.  $1.620 \text{ cm}^3$   
 B.  $3.888 \text{ cm}^3$                       D.  $1.296 \text{ cm}^3$

31. Sebuah kotak berbentuk kubus dengan panjang rusuk 12 cm. Volume bola terbesar yang dapat dimasukkan ke kubus tersebut adalah ....

- A.  $576\pi \text{ cm}^3$                       C.  $288\pi \text{ cm}^3$   
 B.  $384\pi \text{ cm}^3$                       D.  $196\pi \text{ cm}^3$

32. Diketahui panjang diagonal sisi sebuah kubus  $9\sqrt{2} \text{ cm}$ . Luas permukaan kubus adalah ....

- A.  $81 \text{ cm}^2$                               C.  $486 \text{ cm}^2$   
 B.  $162 \text{ cm}^2$                               D.  $729 \text{ cm}^2$

33. Sebuah tabung diameter alasnya 14 cm dan tingginya 18 cm ( $\pi = \frac{22}{7}$ ). Luas seluruh permukaan tabung adalah ....

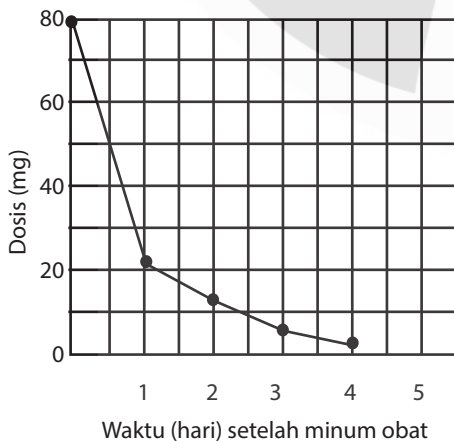
- A.  $1.100 \text{ cm}^2$   
 B.  $1.102 \text{ cm}^2$   
 C.  $1.104 \text{ cm}^2$   
 D.  $1.106 \text{ cm}^2$

34. Sebuah aula berbentuk balok dengan ukuran panjang 8 meter, lebar 6 meter, dan tinggi 5 meter. Dinding bagian dalamnya dicat dengan biaya Rp50.000 per meter persegi. Seluruh biaya pengecatan aula adalah ...
- Rp9.200.000
  - Rp7.000.000
  - Rp4.200.000
  - Rp3.500.000

35. Modus dari data 5, 6, 8, 5, 4, 5, 6, 7, 5, 4, 6, 5, 5 adalah ....
- 8
  - 6
  - 5
  - 3

36. Dari 40 siswa yang mengikuti ulangan matematika, 28 orang memperoleh nilai rata-rata 80 dan sisanya memperoleh nilai rata-rata 72. Rata-rata nilai ulangan seluruh kelas adalah ...
- 72,0
  - 75,6
  - 77,6
  - 78,0

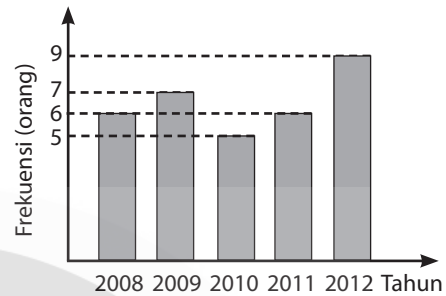
37. Parto minum 80 mg obat, untuk mengendalikan tekanan darahnya. Grafik berikut memperlihatkan banyaknya obat saat itu beserta banyaknya obat dalam darah Parto setelah satu, dua, tiga, dan empat hari.



Berapa banyak obat yang masih tetap aktif pada akhir hari pertama?

- 6 mg
- 12 mg
- 26 mg
- 32 mg

38. Diagram berikut menunjukkan data banyak peserta lomba menyanyi di suatu daerah.



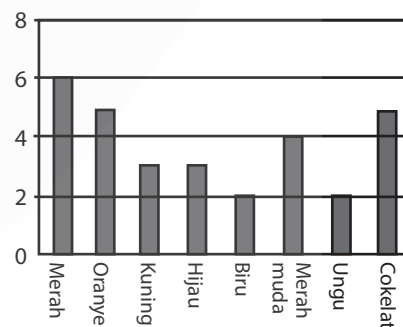
Jumlah peserta dalam tiga tahun terakhir adalah ....

- 18 orang
- 20 orang
- 24 orang
- 33 orang

39. Tiga keping uang logam dilempar bersama sama. Peluang munculnya ketiganya gambar adalah ....

- $\frac{1}{8}$
- $\frac{1}{3}$
- $\frac{3}{8}$
- $\frac{2}{3}$

40. Roni diperbolehkan mengambil satu permen dari sebuah kantong. Dia tidak dapat melihat warna permen tersebut. Banyaknya permen dengan masing-masing warna dalam kantong tersebut ditunjukkan dalam grafik berikut.



Berapakah peluang Roni mengambil sebuah permen warna merah?

- 10%
- 20%
- 25%
- 50%

# KUNCI JAWABAN

---



1. A    11. C    21. B    31. C
2. D    12. D    22. B    32. C
3. D    13. A    23. D    33. A
4. C    14. A    24. B    34. B
5. A    15. B    25. C    35. C
6. D    16. B    26. C    36. C
7. D    17. C    27. C    37. D
8. D    18. A    28. D    38. B
9. D    19. D    29. B    39. A
10. B    20. C    30. D    40. B



# MATEMATIKA

## Sekolah Menengah Pertama

- Anita memiliki pita sepanjang  $15\frac{1}{2}$  m, kemudian ia membeli pita sepanjang  $2\frac{2}{3}$  m, Anita menggunakan pita miliknya sepanjang  $9\frac{1}{4}$  m untuk membuat bunga. Panjang pita Anita yang tersisa sekarang adalah ....
  - $8\frac{5}{12}$  m
  - $8\frac{7}{12}$  m
  - $8\frac{8}{12}$  m
  - $8\frac{11}{12}$  m
- Sebuah lemari buku dapat menampung 36 buah buku dengan tebal buku 8 milimeter. Banyaknya buku yang dapat ditaruh di lemari tersebut jika tiap buku tebalnya 24 milimeter adalah ....
  - 108 buah
  - 24 buah
  - 12 buah
  - 10 buah
- Hasil dari  $125^{\frac{7}{12}}$  adalah ....
  - 5
  - 15
  - 25
  - 50
- Hasil dari  $\sqrt{60} : \sqrt{5}$  adalah ....
  - $5\sqrt{3}$
  - $5\sqrt{2}$
  - $3\sqrt{2}$
  - $2\sqrt{3}$
- Bentuk  $\frac{2}{\sqrt{3}}$  jika penyebutnya dirasionalkan menjadi ....
  - $\frac{2\sqrt{3}}{3}$
  - $\frac{3\sqrt{3}}{3}$
  - $\frac{\sqrt{2}}{3}$
  - $\frac{\sqrt{2}}{3}$
- Kakak menabung di bank sebesar Rp800.000 dengan suku bunga tunggal 9% setahun. Tabungan kakak saat diambil sebesar Rp920.000. Lama menabung adalah ....
  - 18 bulan
  - 20 bulan
  - 22 bulan
  - 24 bulan
- Diketahui suatu barisan aritmetika dengan  $U_2 = 6$  dan  $U_2 = 31$ . Suku ke-40 adalah ....
  - 206
  - 201
  - 200
  - 196
- Dari barisan aritmetika diketahui  $U_3 = 18$ . Jumlah 24 suku pertama adalah ....
  - 786
  - 1.248
  - 1.572
  - 3.144
- Seorang pegawai kecil menerima gaji tahun pertama sebesar Rp3.000.000. Setiap tahun gaji tersebut naik Rp500.000. Jumlah uang yang diterima pegawai tersebut selama sepuluh tahun adalah ....
  - Rp7.500.000
  - Rp8.000.000
  - Rp52.500.000
  - Rp55.000.000
- Perhatikan pemfaktoran berikut!
  - $15x^2y - 20xy^2 = 5xy(3x - 4y)$
  - $p^2 - 16 = (p - 4)(p - 4)$
  - $3a^2 + 8a = (3a - 1)(a + 3)$
 Pemfaktoran yang benar adalah ...
  - (i), (ii)
  - (i), (iii)
  - (ii), (iii)
  - (i), (ii), (iii)
- Diketahui persamaan  $3x + 6 = 5x + 20$ , maka nilai  $x + 12$  adalah ....
  - 7
  - 5
  - 5
  - 7

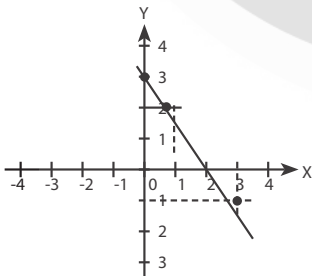
12. Suatu persegi panjang mempunyai ukuran panjang  $(3x + 4)$  cm dan lebar  $(2x + 3)$  cm. Jika keliling persegi panjang 44 cm, panjang dan lebarnya berturut-turut adalah ....
- 12 cm dan 10 cm
  - 13 cm dan 9 cm
  - 15 cm dan 7 cm
  - 16 cm dan 6 cm

13. Banyak himpunan bagian dari  $D = \{1, 3, 5, 7, 9, 11\}$  adalah ....
- 12
  - 36
  - 60
  - 64

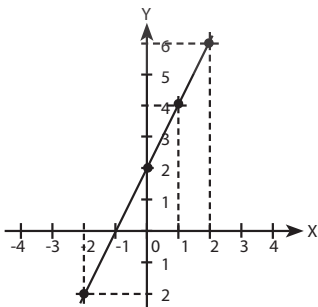
14. Ada 40 peserta yang ikut lomba. Lomba baca puisi diikuti oleh 23 orang, lomba baca puisi dan menulis cerpen diikuti 12 orang. Banyak peserta yang mengikuti lomba menulis cerpen adalah ....
- 12 orang
  - 28 orang
  - 29 orang
  - 35 orang

15. Diketahui rumus fungsi  $f$  adalah  $f(x) = 8 - 2x$ . Jika  $f(k) = -10$ , maka nilai  $k$  yang benar untuk fungsi tersebut adalah ....
- 9
  - 1
  - 1
  - 9

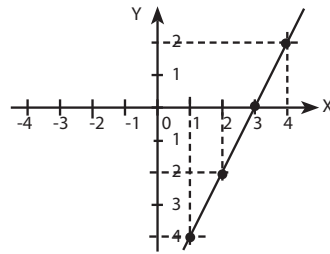
16. Grafik fungsi  $f(x) = 2x + 2$ , dengan  $x \in R$  adalah ....
- A.



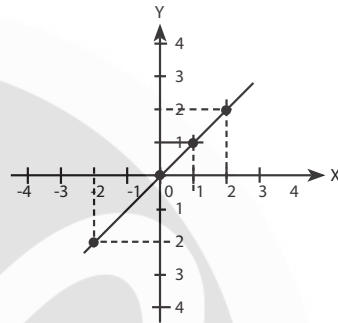
B.



C.



D.



17. Persamaan garis berikut yang tegak lurus dengan garis yang melalui titik  $(-1, 7)$  dan  $(0, 2)$  adalah ....

- $5x - y = -23$
- $x - 5y = 37$
- $x + 5y = -37$
- $5x + y = 11$

18. Titik  $A(10, p)$ , terletak pada garis yang melalui titik  $B(3, 1)$  dan  $C(-4, -13)$ . Nilai  $p$  adalah ....

- 35
- 15
- 5
- 25

19. Diketahui sistem persamaan  $x - 3y - 5 = 0$  dan  $2x - 5y = 9$ , nilai dari  $3x - 2y$  adalah ....

- 1
- 1
- 3
- 4

20. Diketahui harga 5 kg apel dan 3 kg jeruk Rp79.000, sedangkan harga 3 kg apel dan 2 kg jeruk Rp49.000. Harga 1 kg apel adalah ....

- Rp11.000
- Rp10.000
- Rp9.000
- Rp8.000

21. Perhatikan gambar kapal layar!



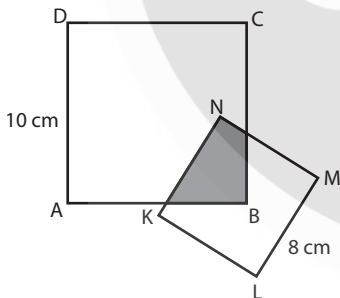
Sembilan puluh lima persen perdagangan dunia melalui sarana transportasi laut, dengan menggunakan sekitar 50.000 kapal tengker, kapal-kapal pengirim, dan pengangkut barang raksasa. Sebagai besar kapal-kapal ini menggunakan bahan bakar solar.

Para insinyur berencana untuk membangun tenagapendukung menggunakan angin untuk kapal-kapal tersebut. Usul mereka adalah dengan memasang layar berupa layang-layang ke kapal dan menggunakan tenaga angin untuk mengurangi pemakaian solar serta dampak solar terhadap lingkungan.

Dari hal tersebut, berapa kira-kira panjang tali layar dari layang-layang agar layar tersebut menarik kapal pada sudut  $45^\circ$  dan pada ketinggian vertikal 150 m, seperti yang diperhatikan pada gambar?

- A. 175 m                      C. 285 m  
B. 212 m                      D. 300 m

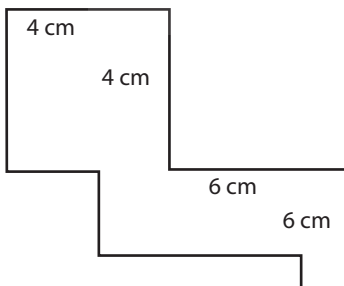
22. Perhatikan gambar persegi ABCD dan persegi KLMN!



Jika B adalah titik pusat simetri putar KLMN, luas daerah yang diarsir adalah ....

- A.  $16 \text{ cm}^2$                       C.  $32 \text{ cm}^2$   
B.  $25 \text{ cm}^2$                       D.  $50 \text{ cm}^2$

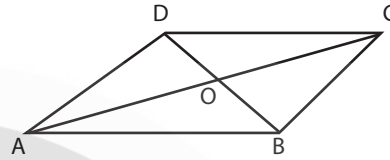
23. Perhatikan gambar!



Keliling bangun pada gambar tersebut adalah ....

- A. 40 cm                      C. 20 cm  
B. 26 cm                      D. 16 cm

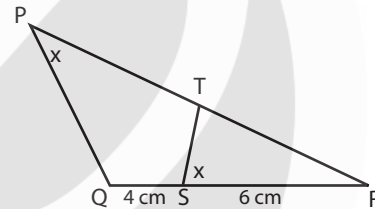
24. Pada gambar jajaran genjang di bawah!



Banyaknya pasangan segitiga yang kongruen adalah ....

- A. 4                                  C. 6  
B. 5                                  D. 7

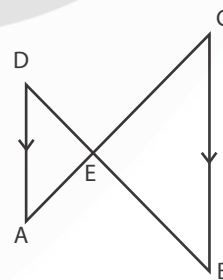
25. Pada gambar segitiga di bawah!



Jika panjang PR = 15 cm, panjang PT adalah ....

- A. 11,0 cm                      C. 7,5 cm  
B. 10,0 cm                      D. 6,4 cm

26. Pada gambar di bawah ini!



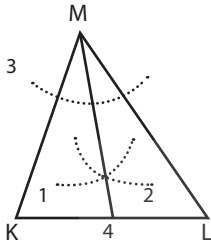
Perbandingan pada sisi yang benar adalah ....

- A.  $\frac{AE}{EC} = \frac{AD}{BC}$                       C.  $\frac{AD}{BC} = \frac{DE}{EC}$   
B.  $\frac{AE}{AC} = \frac{AD}{BC}$                       D.  $\frac{BC}{AD} = \frac{AC}{AE}$

27. Jumlah  $\angle A$  dan  $\angle B$  adalah  $180^\circ$ . Jika besar  $\angle A = (2x + 30)^\circ$  dan  $\angle B = (5x + 30)^\circ$ , maka besar  $\angle B$  adalah ....

- A.  $40^\circ$                       C.  $100^\circ$   
 B.  $70^\circ$                       D.  $110^\circ$

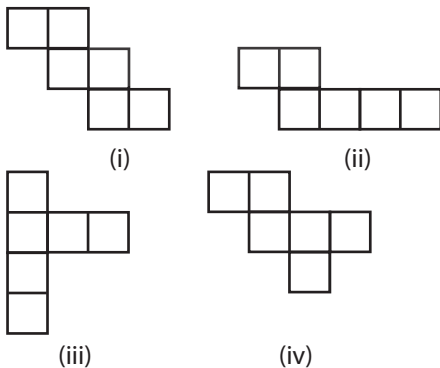
28. Perhatikan gambar berikut!



Urutan cara melukis garis pada gambar  $\Delta$  KLM yang benar adalah ....

- A. 4, 1, 2, 3                      C. 3, 1, 4, 2  
 B. 1, 3, 2, 4                      D. 3, 2, 1, 4
29. Diketahui jari-jari lingkaran sebuah lingkaran yang berpusat di titik O adalah 14 cm. Jika sudut pusat  $AOB = 72^\circ$ , panjang busur AB adalah ....
- A. 16,6 cm                      C. 17,6 cm  
 B. 16,8 cm                      D. 17,8 cm
30. Diketahui dua buah lingkaran masing-masing berjari-jari 8 cm dan 4 cm. Jika panjang garis singgung persekutuan dalam lingkaran 16 cm, jarak titik pusat kedua lingkaran tersebut adalah ....
- A. 20 cm                      C. 30 cm  
 B. 25 cm                      D. 36 cm
31. Banyaknya rusuk sisi prisma segi-6 beraturan berturut-turut adalah ....
- A. 8 dan 18                      C. 30 dan 8  
 B. 12 dan 8                      D. 12 dan 6

32. Perhatikan gambar rangkaian persegi di bawah ini!



Rangkaian yang merupakan jaring-jaring kubus adalah ....

- A. (i) dan (ii)                      C. (ii) dan (iii)  
 B. (i) dan (iv)                      D. (ii) dan (iv)

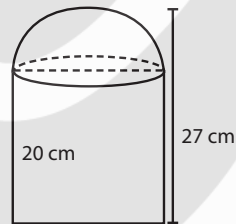
33. Alas sebuah prisma trapesium sama kaki mempunyai panjang sisi sejajar masing-masing 18 cm dan 12 cm, jarak kedua sisi sejajar 10 cm. Jika tinggi prisma 20 cm, volume prisma tersebut adalah ....

- A.  $6.000 \text{ cm}^3$                       C.  $2.000 \text{ cm}^3$   
 B.  $3.000 \text{ cm}^3$                       D.  $1.500 \text{ cm}^3$

34. Luas seluruh permukaan limas persegi yang keliling alasnya 48 cm dan tinggi 8 cm adalah ....

- A.  $336 \text{ cm}^2$                       C.  $384 \text{ cm}^2$   
 B.  $380 \text{ cm}^2$                       D.  $406 \text{ cm}^2$

35. Tempat sampah berbentuk tabung dan tutupnya berbentuk setengah bola seperti tampak pada gambar. Luas seluruh permukaan tempat sampah tersebut adalah ....



- A.  $1.034 \text{ cm}^2$                       C.  $1.342 \text{ cm}^2$   
 B.  $1.188 \text{ cm}^2$                       D.  $1.496 \text{ cm}^2$

36. Perhatikan data berikut!

10 5 6 7 6 9 5 7  
 8 6 7 5 8 6 9 4

Median dari data tersebut adalah ....

- A. 6                      C. 7  
 B. 6,5                      D. 7,5

37. Ada 25 murid dalam sebuah kelas. Tinggi rata-rata mereka adalah 130 cm. Bagaimana cara menghitung tinggi rata-rata tersebut?

- A. Jika ada seorang murid perempuan dengan tinggi 132 cm, pasti ada seorang murid perempuan dengan tinggi 128 cm.  
 B. Jika 23 orang dari murid perempuan tersebut tingginya masing-masing 130 cm dan satu orang tingginya 133 cm, satu orang lagi tingginya 127 cm.

- C. Jika Anda mengurutkan semua perempuan tersebut dari yang terpendek sampai ke yang tertinggi, yang di tengah pasti mempunyai tinggi 130 cm.
- D. Setengah dari perempuan di kelas pasti di bawah 130 cm dan setengahnya lagi pasti di atas 130 cm.

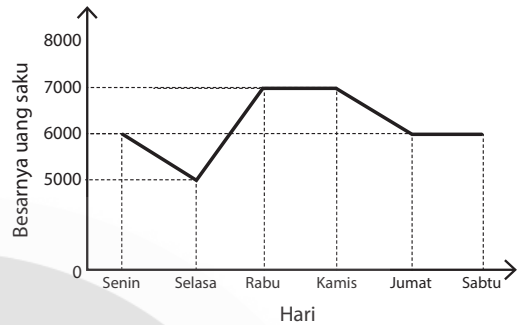
38. Hasil ulangan sekelompok siswa sebagai berikut.

<b>Nilai</b>	60	70	75	80	90	100
<b>Frekuensi</b>	3	6	7	8	4	2

Banyaknya siswa yang nilainya lebih dari rata-rata adalah ....

- A. 8 orang                      C. 16 orang  
B. 14 orang                    D. 21 orang

39. Diagram berikut menunjukkan besarnya uang saku seorang siswa dalam seminggu.



Kenaikan uang saku siswa terjadi pada hari

- ....  
A. Senin – Selasa              C. Rabu – Kamis  
B. Selasa – Rabu              D. Jumat – Sabtu

40. Dalam sebuah kantong terdapat 9 bola yang di beri nomor 1 sampai dengan 9. Jika diambil sebuah bola secara acak, peluang terambilnya bola bernomor kurang dari 5 adalah ....


- A.  $\frac{5}{9}$                               C.  $\frac{3}{9}$   
B.  $\frac{4}{9}$                               D.  $\frac{2}{9}$

# KUNCI JAWABAN

---



- |       |       |       |       |
|-------|-------|-------|-------|
| 1. D  | 11. B | 21. B | 31. C |
| 2. C  | 12. B | 22. A | 32. B |
| 3. C  | 13. D | 23. A | 33. B |
| 4. D  | 14. C | 24. A | 34. C |
| 5. A  | 15. A | 25. A | 35. C |
| 6. B  | 16. B | 26. A | 36. B |
| 7. D  | 17. B | 27. D | 37. B |
| 8. C  | 18. B | 28. D | 38. B |
| 9. C  | 19. D | 29. C | 39. B |
| 10. B | 20. A | 30. A | 40. B |



# MATEMATIKA

## Sekolah Menengah Pertama

1. Diketahui barisan bilangan: 3, 8, 13, 18, 23, .... Suku ke-32 adalah ....
  - A. 465
  - B. 168
  - C. 158
  - D. 153
2. Seutas tali dibagi menjadi enam bagian, sehingga panjang masing-masing bagian membentuk barisan geometri. Jika panjang tali terpendek 5 m dan tali terpanjang 160 m, panjang tali mula-mula adalah ....
  - A. 320 m
  - B. 315 m
  - C. 300 m
  - D. 275 m
3. Jumlah bilangan kelipatan 4 antara 200 dan 400 adalah ....
  - A. 9.504
  - B. 14.300
  - C. 14.604
  - D. 14.700
4. Amin menabung di bank sebesar Rp1.200.000 dengan suku bunga 9% per tahun. Agar tabungannya menjadi Rp1.236.000, lama ia menabung adalah ....
  - A. 2 bulan
  - B. 3 bulan
  - C. 4 bulan
  - D. 6 bulan
5. Hasil dari  $\sqrt{32} + 3\sqrt{18} - 2\sqrt{50}$  adalah ....
  - A.  $3\sqrt{2}$
  - B.  $2\sqrt{2}$
  - C.  $3\sqrt{3}$
  - D.  $2\sqrt{3}$
6. Hasil dari  $81^{\frac{1}{4}} \times 9^{\frac{3}{2}}$  adalah ....
  - A. 3
  - B. 9
  - C. 27
  - D. 81
7. Dalam kompetisi matematika, setiap jawaban yang benar diberi nilai 4, salah -2 dan tidak dijawab -1. Dari 40 soal yang diberikan, Rini berhasil menjawab benar 31 dan salah 6. Skor yang diperoleh Rini adalah ....
  - A. 112
  - B. 109
  - C. 107
  - D. 105
8. Perbandingan panjang dan lebar persegi panjang 8 : 5. Jika keliling persegi panjang itu 52 cm, luasnya adalah ....
  - A.  $160 \text{ cm}^2$
  - B.  $104 \text{ cm}^2$
  - C.  $78 \text{ cm}^2$
  - D.  $40 \text{ cm}^2$
9. Sebuah mobil menghabiskan 4 liter bensin untuk menempuh jarak 80 km. Banyak bensin yang diperlukan mobil itu untuk menempuh jarak 200 km adalah ....
  - A. 10 liter
  - B. 20 liter
  - C. 25 liter
  - D. 30 liter
10. Perhatikan pernyataan berikut!
  - I.  $4x^2 - 9 = (2x + 3)(2x - 3)$
  - II.  $2x^2 + x - 3 = (2x - 3)(x + 1)$
  - III.  $x^2 + x - 6 = (x + 3)(x - 2)$
  - IV.  $x^2 + 4x - 5 = (x - 5)(x + 1)$
 Pernyataan yang benar adalah ....
  - A. I dan II
  - B. II dan III
  - C. I dan III
  - D. II dan IV
11. Perhatikan himpunan pasangan berikut!
  - (1)  $\{(1, a), (2, b), (3, b)\}$
  - (2)  $\{(1, a), (1, b), (3, c)\}$
  - (3)  $\{(2, 4), (4, 8), (6, 12)\}$
  - (4)  $\{(2, 4), (2, 8), (6, 12)\}$
 Himpunan pasangan yang merupakan pemetaan adalah ....
  - A. 1 dan 2
  - B. 1 dan 3
  - C. 2 dan 3
  - D. 2 dan 4
12. Diketahui rumus fungsi  $f(x) = 5x - 4$ . Nilai  $f(2a + 3)$  adalah ....
  - A.  $10a - 5$
  - B.  $10a - 1$
  - C.  $10a + 11$
  - D.  $10a + 16$

13. Andi, Bardi, dan Caca bersama-sama membeli buku tulis dan pensil yang sejenis. Andi membeli 4 buku tulis dan 1 pensil seharga Rp14.000. Bardi membeli 6 buku tulis dan 2 pensil seharga Rp22.000. Jika Caca membeli 4 buku tulis dan 3 pensil, berapa rupiah ia harus membayar?

- A. Rp15.000                      C. Rp20.000  
B. Rp18.000                      D. Rp21.000

14. Penyelesaian dari  $\frac{2}{3}x - \frac{1}{2}y = 2$  dan  $\frac{1}{2}x - \frac{1}{4}y = 4$  adalah  $x = a$  dan  $y = b$ . Nilai  $a - 2b$  adalah ....

- A. -4                                  C. 2  
B. -2                                  D. 7

15. Himpunan penyelesaian dari  $2x - 3 \leq 21 + 4x$  dengan  $x$  bilangan bulat adalah ....

- A.  $\{-12, -11, -10, -9, \dots\}$   
B.  $\{-9, -8, -7, -9, \dots\}$   
C.  $\{\dots, -15, -14, -13, -12\}$   
D.  $\{\dots, -12, -11, -10, -9\}$

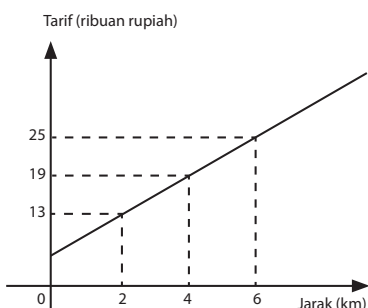
16. Fikri membeli 5 buku tulis di sebuah toko, ia membayar dengan uang Rp20.000 dan mendapatkan uang pengembalian Rp2.500. Jika harga 1 buku tulis tersebut  $x$  rupiah, model matematika yang benar adalah ....

- A.  $20.000 - 5x = 2.500$   
B.  $5x - 2.500 = 20.000$   
C.  $20.000 - (x + 5) = 2.500$   
D.  $x + 5 = 20.000 - 2.500$

17. Gradien garis  $3y - 6x = -8$  adalah ....

- A. 2                                      C.  $-\frac{1}{2}$   
B.  $\frac{1}{2}$                                       D. -2

18. Suatu perusahaan taksi memasang tarif seperti grafik berikut.



Alia pergi ke rumah nenek yang berjarak 22 kilometer dengan menggunakan taksi tersebut. Berapa harga taksi yang harus dibayar Alia? (dalam ribuan rupiah)

- A. 72                                      C. 74  
B. 73                                      D. 75

19. Dari 20 anak di suatu sanggar seni, terdapat 9 anak memilih drama, 15 anak memilih usik, dan 8 anak memilih drama dan musik. Banyak anak yang tidak memilih drama maupun musik adalah ....

- A. 1 anak                                  C. 7 anak  
B. 4 anak                                  D. 8 anak

20. Diketahui himpunan  $A = \{1, 2, 3, 4, 5\}$  dan  $B = \{1, 5, 7\}$ . Hasil  $A - B$  adalah ....

- A.  $\{7\}$                                       C.  $\{1, 5, 7\}$   
B.  $\{1, 5\}$                                   D.  $\{2, 3, 4\}$

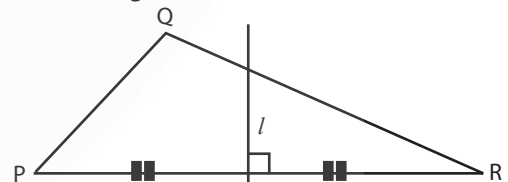
21. Panjang sebuah menara 15 m dan pada saat yang sama sebuah tiang pancang memiliki panjang bayangan 3 m. Jika tinggi tiang pancang 7 m, tinggi menara adalah ....

- A. 19 meter                                  C. 25 meter  
B. 22 meter                                  D. 35 meter

22. Besar penyiku sudut  $A = 35^\circ$ . Besar pelurus sudut  $A$  adalah ....

- A.  $145^\circ$                                   C.  $120^\circ$   
B.  $125^\circ$                                   D.  $105^\circ$

23. Perhatikan gambar di bawah!



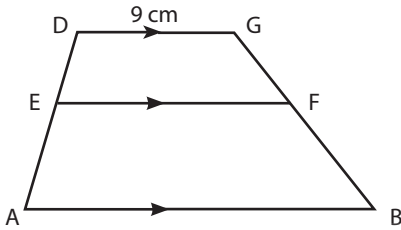
Garis  $l$  adalah ....

- A. garis tinggi                              C. garis berat  
B. garis bagi                                  D. garis sumbu

24. Sebuah taman berbentuk persegi panjang berukuran panjang 32 m dan lebar 24 m. Di sekeliling taman akan dipasang lampu dengan jarak antara lampu 4 m. Jumlah lampu yang diperlukan sebanyak ....

- A. 14 lampu                                  C. 52 lampu  
B. 28 lampu                                  D. 112 lampu

25. Perhatikan gambar!

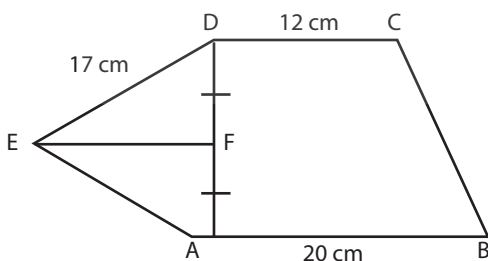


Trapezium ABFE sebangun dengan EFCD.  
Jika  $CF : FB = 3 : 4$ , panjang AB adalah ....

- A. 12 cm                      C. 16 cm  
B. 15 cm                      D. 18 cm
26. Diketahui  $\triangle DEF$  dan  $\triangle PQR$  sebangun, panjang  $DE = 9$  cm,  $EF = 12$ , dan  $DF = 6$  cm,  $PQ = 15$  cm,  $PR = 10$  cm dan  $QR = 20$  cm. Perbandingan sisi-sisi pada kedua segitiga tersebut adalah ....
- A. 3 : 4                      C. 4 : 5  
B. 3 : 5                      D. 9 : 10
27. Panjang garis singgung persekutuan dalam dua lingkaran 15 cm. Jika panjang jari-jari salah satu lingkaran 6 cm dan jarak kedua titik pusat lingkaran 17 cm, maka panjang jari-jari lingkaran lainnya adalah ....
- A. 2 cm                      C. 4 cm  
B. 3 cm                      D. 8 cm

28. Sebuah kapal berangkat dari pelabuhan ke arah utara sejauh 120 km, kemudian berbelok ke arah barat sejauh 160 km. Jarak terdekat kapal dari pelabuhan adalah ....
- A. 200 km                      C. 250 km  
B. 225 km                      D. 280 km

29. Perhatikan gambar!



Jika panjang  $AD = 16$  cm, luas ABCDE adalah ....

- A.  $496 \text{ cm}^2$                       C.  $316 \text{ cm}^2$   
B.  $376 \text{ cm}^2$                       D.  $188 \text{ cm}^2$

30. Sebuah kolam renang berbentuk persegi panjang berukuran panjang 15 m dan lebar 10 m. Di sekeliling kolam dibuat jalan dengan lebar 1 m dan dipasang keramik. Luas keramik yang diperlukan untuk jalan adalah ....

- A.  $25 \text{ cm}^2$                       C.  $50 \text{ cm}^2$   
B.  $26 \text{ cm}^2$                       D.  $54 \text{ cm}^2$

31. Sebuah benda berbentuk belahan bola dengan panjang diameter 12 cm. Volume benda tersebut adalah ....

- A.  $108 \pi \text{ cm}^3$                       C.  $216 \pi \text{ cm}^3$   
B.  $144 \pi \text{ cm}^3$                       D.  $288 \pi \text{ cm}^3$

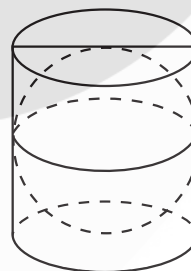
32. Sebuah kerucut dengan panjang diameter alasnya 7 cm dan tinggi 12 cm. Volume kerucut adalah ....

- A.  $132 \text{ cm}^3$                       C.  $176 \text{ cm}^3$   
B.  $154 \text{ cm}^3$                       D.  $198 \text{ cm}^3$

33. Sebuah prisma tegak, alas berbentuk belah ketupat dengan panjang diagonal 12 cm dan 16 cm. Jika tinggi prisma 25 cm, luas prisma adalah ....

- A.  $1.200 \text{ cm}^2$                       C.  $484 \text{ cm}^2$   
B.  $1.192 \text{ cm}^2$                       D.  $292 \text{ cm}^2$

34. Perhatikan gambar!



Jika luas permukaan bola  $150 \text{ cm}^2$ , luas seluruh permukaan tabung adalah ....

- A.  $160 \text{ cm}^2$                       C.  $200 \text{ cm}^2$   
B.  $175 \text{ cm}^2$                       D.  $225 \text{ cm}^2$

35. Banyak diagonal ruang balok adalah ....

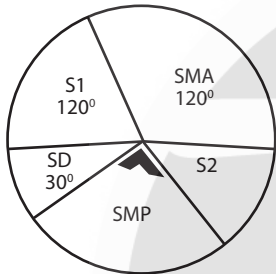
- A. 4                                  C. 8  
B. 6                                  D. 12

36. Joko ingin membuat model kerangka limas dengan alas persegi dengan bahan dari kawat. Jika kawat yang tersedia 10 m,

panjang rusuk alas limas 12 cm serta tinggi rusuk tegaknya 24 cm, kerangka limas yang dapat dibuat paling banyak adalah ....

- A. 6 buah                      C. 9 buah  
B. 8 buah                      D. 10 buah

37. Diagram berikut menunjukkan pendidikan orangtua siswa. Jika banyak orangtua siswa yang berpendidikan SMP 180 orang, banyak orangtua siswa yang berpendidikan Strata 2 (S2) adalah ....



- A. 40 orang                      C. 80 orang  
B. 60 orang                      D. 90 orang

38. Diberikan sekelompok data:

35, 30, 15, 20, 40, 20, 40, 35, 40.

Pernyataan yang benar adalah ....

- A. Modus = 35, yaitu data yang di tengah-tengah.  
B. Modus = 35, yaitu data yang terletak di tengah setelah diurutkan.  
C. Modus = 40, yaitu data paling akhir.  
D. Modus = 40, yaitu data yang memiliki frekuensi terbanyak.

39. Pada suatu kelas terdapat 12 orang laki-laki dan 18 orang siswa perempuan. Jika rata-rata umur siswa laki-laki 15 tahun dan rata-rata umur siswa perempuan 14 tahun, rata-rata umur seluruh siswa kelas tersebut adalah ....

- A. 14,4 tahun                      C. 14,6 tahun  
B. 14,5 tahun                      D. 14,7 tahun

40. Pada suatu acara dihadiri 60 orang, panitia menyediakan 15 hadiah yang akan diundi selama acara berlangsung. Peluang setiap orang mendapat hadiah adalah ....

- A. 0,15                              C. 0,35  
B. 0,25                              D. 0,50

# KUNCI JAWABAN

---



1. C    11. B    21. D    31. B
2. B    12. C    22. A    32. B
3. D    13. B    23. D    33. B
4. C    14. B    24. B    34. D
5. A    15. A    25. C    35. A
6. D    16. A    26. B    36. A
7. B    17. A    27. A    37. C
8. D    18. B    28. A    38. D
9. A    19. B    29. B    39. A
10. C    20. D    30. B    40. B



# MATEMATIKA

## Sekolah Menengah Pertama

1. Nilai dari  $2\frac{1}{5} + 3\frac{1}{5} : 2\frac{1}{2}$  adalah ....
  - A.  $3\frac{25}{12}$
  - B.  $3\frac{25}{24}$
  - C.  $3\frac{12}{25}$
  - D.  $3\frac{1}{25}$
2. Jumlah uang Budi dan Doni adalah Rp420.000. Selisih uang mereka adalah Rp280.000, perbandingan uang Budi dan Doni adalah ....
  - A. 1 : 5
  - B. 1 : 7
  - C. 2 : 5
  - D. 7 : 9
3. Hasil dari  $8^2 + 2^6$  adalah ....
  - A. 16
  - B. 32
  - C. 64
  - D. 128
4. Hasil dari  $2\sqrt{6} \times \sqrt{3}$  adalah ....
  - A.  $6\sqrt{2}$
  - B.  $4\sqrt{5}$
  - C.  $4\sqrt{6}$
  - D.  $8\sqrt{3}$
5. Jumlah 20 suku pertama dari deret 2, 4, 6, 8, 10, ... adalah ....
  - A. 440
  - B. 430
  - C. 420
  - D. 410
6. Suku ke-10 dari barisan 3, 7, 11, 15 ... adalah ....
  - A. 25
  - B. 28
  - C. 35
  - D. 39
7. Suku ke-7 dari barisan bilangan 3, 6, 12, 24, ... adalah ....
  - A. 201
  - B. 192
  - C. 134
  - D. 256
8. Dalam setiap 30 menit amuba membelah diri menjadi dua. Jika mula-mula ada 10 amuba, selama 4 jam banyaknya amuba adalah ....
  - A. 1.280
  - B. 2.560
  - C. 5.120
  - D. 6.240
9. Faktor dari  $4x^2 - 2x - 2$  adalah ....
  - A.  $(2x + 2)(2x - 1)$
  - B.  $(2x - 1)(x - 2)$
  - C.  $(4x - 2)(x + 1)$
  - D.  $(2x + 1)(2x - 2)$
10. Himpunan dari penyelesaian pertidaksamaan  $5x - 3 < 2x + 3$ , dengan x bilangan bulat adalah ....
  - A.  $\{x|x < 2, x \text{ bilangan bulat}\}$
  - B.  $\{x|x > -2, x \text{ bilangan bulat}\}$
  - C.  $\{x|x < 3, x \text{ bilangan bulat}\}$
  - D.  $\{x|x > 3, x \text{ bilangan bulat}\}$
11. Tiga bilangan genap berurutan jumlahnya 84. Jumlah bilangan terbesar dan terkecil adalah ....
  - A. 30
  - B. 46
  - C. 42
  - D. 56
12. Tiga bilangan genap berurutan jumlahnya 66. Jumlah bilangan terbesar dan terkecil adalah ....
  - A. 36
  - B. 44
  - C. 32
  - D. 46
13. Diketahui  $f(x) = mx + n$ . Jika  $f(-3) = 5$  dan  $f(2) = 10$ , nilai  $f(4)$  adalah ....
  - A. 5
  - B. 8
  - C. 12
  - D. 14
14. Pekerja pabrik pakaian beranggotakan 80 orang, 47 orang memproduksi baju, dan 32 orang memproduksi baju dan celana. Banyak orang yang hanya memproduksi celana adalah ....
  - A. 31 orang
  - B. 32 orang
  - C. 33 orang
  - D. 34 orang

15. Gradien garis  $7y - x = 10$  adalah ....

- A.  $-\frac{1}{7}$                       C. 7  
 B.  $\frac{1}{7}$                          D. -7

16. Keliling suatu persegi panjang 132 cm. Jika panjangnya 2 cm lebih dari lebarnya, panjang persegi panjang tersebut adalah ....

- A. 22 cm                        C. 34 cm  
 B. 32 cm                        D. 36 cm

17. Jika belah ketupat ABCD dengan panjang diagonal  $AC = 6$  cm dan kelilingnya = 20 cm, luas belah ketupat ABCD adalah ....

- A.  $24 \text{ cm}^2$                       C.  $40 \text{ cm}^2$   
 B.  $12 \text{ cm}^2$                       D.  $44 \text{ cm}^2$

18. Harga 2 kg ketimun dan 3 kg kubis adalah Rp14.000. Di tempat yang sama, harga 3 kg ketimun dan 2 kg kubis adalah Rp13.500. harga ketimun dan harga kubis berturut-turut adalah ....

- A. Rp2.500 dan Rp3.000  
 B. Rp3000 dan Rp2.500  
 C. Rp3.500 dan Rp2.000  
 D. Rp2.000 dan Rp3.500

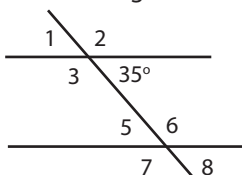
19. Sebuah kubus memiliki diagonal ruang  $3\sqrt{3}$  cm, maka kubus tersebut memiliki panjang ruas sebesar ....

- A.  $3\sqrt{2}$  cm                      C. 3 cm  
 B.  $3\sqrt{3}$  cm                      D.  $3\sqrt{5}$  cm

20. Dua buah bola akan dimasukkan ke dalam tabung yang memiliki jari-jari alas 2 cm, tinggi tabung tersebut adalah 8 cm. Jumlah volume bola maksimum yang dapat masuk ke dalam tabung adalah ....

- A.  $\frac{64}{3}\pi \text{ cm}^3$                       C.  $20\pi \text{ cm}^3$   
 B.  $\frac{65}{3}\pi \text{ cm}^3$                       D.  $30\pi \text{ cm}^3$

21. Perhatikan gambar berikut!



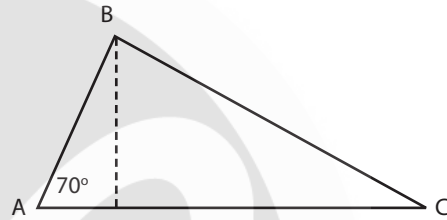
Jika diketahui besar sudut 4 adalah  $35^\circ$ , besar sudut 8 adalah ....

- A.  $145^\circ$                         C.  $90^\circ$   
 B.  $35^\circ$                          D.  $180^\circ$

22. Pada gambar nomor 21, besar sudut 6 adalah ....

- A.  $145^\circ$                         C.  $90^\circ$   
 B.  $35^\circ$                          D.  $180^\circ$

23. Perhatikan segitiga di bawah ini!



Jika  $\angle C + \angle B + \angle A = 180^\circ$  dan  $\angle C - \angle B = 10^\circ$ , besar  $\angle B$  dan  $\angle C$  berturut-turut adalah ....

- A.  $50^\circ$  dan  $60^\circ$                       C.  $60^\circ$  dan  $80^\circ$   
 B.  $60^\circ$  dan  $70^\circ$                       D.  $50^\circ$  dan  $70^\circ$

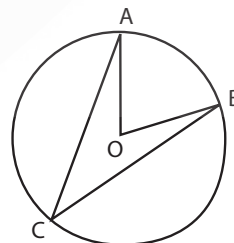
24. Pada gambar nomor 23, segitiga ABC ditarik garis dari titik B sehingga membagi garis AC menjadi dua sudut siku. Garis tersebut dinamakan ....

- A. garis bagi                        C. garis tinggi  
 B. garis berat                      D. garis sumbu

25. Dua lingkaran masing-masing berjari-jari 2 cm dan 1 cm. Jika jarak kedua titik pusat lingkaran 5 cm, panjang garis singgung persekutuan dalam kedua lingkaran tersebut adalah ....

- A. 4 cm                                C. 12 cm  
 B. 8 cm                                D. 16 cm

26.

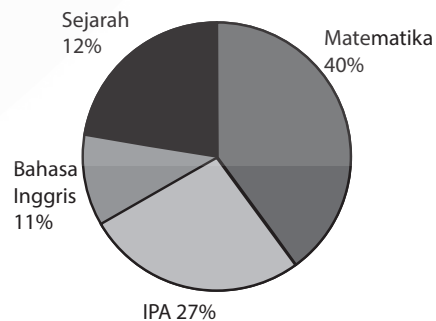


Pada gambar lingkaran di atas, besar sudut AOB adalah  $74^\circ$ , jumlah dari sudut AOB + sudut ACB adalah ....

- A.  $110^\circ$                       C.  $180^\circ$   
 B.  $111^\circ$                       D.  $190^\circ$
27. Sebuah kerucut memiliki tinggi 12 cm, dengan diameter lingkaran alas 14 cm. Volume kerucut tersebut adalah ....  
 A.  $516 \text{ cm}^3$                       C.  $456 \text{ cm}^3$   
 B.  $616 \text{ cm}^3$                       D.  $1026 \text{ cm}^3$
28. Sepanjang kawat sepanjang 253 cm akan dibuatkan kerangka kubus yang memiliki rusuk sepanjang 2 cm. Jumlah kubus paling banyak yang bisa dibuat adalah ....  
 A. 9 kubus                      C. 11 kubus  
 B. 10 kubus                      D. 12 kubus
29. Sebuah persegi panjang memiliki luas  $32 \text{ m}^2$ , jumlah panjang dan lebar persegi panjang tersebut adalah 12 m. Panjang persegi panjang tersebut adalah ....  
 A. 4 m                      C. 8 m  
 B. 6 m                      D. 10 m
30. Sebuah selang dengan luas penampang  $10 \text{ cm}^2$  mengisi air ke sebuah bak mandi dengan kecepatan pengisian  $10.000 \text{ cm}^3/\text{menit}$ . Jika bak berukuran  $100 \text{ cm} \times 50 \text{ cm} \times 200 \text{ cm}$ , waktu yang dibutuhkan agar bak tersebut penuh adalah ....  
 A. 10 menit                      C. 1.000 menit  
 B. 100 menit                      D. 10.000 menit
31. Bola A memiliki jari-jari 2 cm, bola B memiliki jari-jari 4 cm, perbandingan volume kedua bola adalah ....  
 A. 1 : 8                      C. 1 : 9  
 B. 2 : 9                      D. 2 : 7
32. Kamil ingin mengisi bak air dengan air, bak tersebut berbentuk tabung dengan luas alas  $100 \text{ cm}^2$  dengan kedalaman bak 200 cm. Jika harga air di tempat tersebut adalah Rp2.000 per  $100 \text{ cm}^3$ , maka harga yang dibayar Kamil agar bak terisi penuh adalah ....  
 A. Rp200.000                      C. Rp300.000  
 B. Rp250.000                      D. Rp400.000
33. Riri menuangkan air dari tabung yang memiliki luas alas  $120 \text{ cm}^2$  dengan panjang

tabung 30 cm ke dalam tempat yang berbentuk kubus dengan panjang rusuk 20 cm. Volume kubus yang tidak terisi oleh air adalah ....

- A.  $8.000 \text{ cm}^3$                       C.  $4.400 \text{ cm}^3$   
 B.  $3.600 \text{ cm}^3$                       D.  $2.300 \text{ cm}^3$
34. Volume dari limas segiempat dengan tinggi 2 cm dan luas alas  $30 \text{ cm}^2$  yang ditumpuk dengan balok setinggi 4 cm dengan luas alas yang sama adalah ....  
 A.  $120 \text{ cm}^3$                       C.  $160 \text{ cm}^3$   
 B.  $140 \text{ cm}^3$                       D.  $190 \text{ cm}^3$
35. Dari 12 kali ujian matematika, Kamil mendapat nilai sebagai berikut: 60, 70, 65, 65, 70, 80, 75, 70, 75, 80, 65, 90. Rata-rata nilai ujian matematika Kamil adalah ....  
 A. 72,08                      C. 77,01  
 B. 75,03                      D. 74,02
36. Pada 10 kali ujian Fisika, Arman berturut-turut memperoleh nilai 70, 80, 80, 85, 70, 90, 95, 85, 80, 90. Modus dari data tersebut adalah ....  
 A. 70                      C. 85  
 B. 80                      D. 90
37. Di kelas yang beranggotakan 40 orang, nilai rata-rata ujian Matematika adalah 70. Kemudian datang murid baru untuk mengikuti ujian, murid tersebut memperoleh nilai 80. Nilai rata-rata kelas yang baru adalah ....  
 A. 69,03                      C. 73,80  
 B. 70,24                      D. 77,91
38. Perhatikan diagram berikut!



Jika jumlah anggota kelas adalah 45 orang, yang gemar matematika adalah ....

- A. 12 orang                      C. 10 orang  
B. 5 orang                        D. 18 orang
39. Sebuah dadu dilambungkan satu kali. Peluang muncul mata dadu angka genap adalah ....
- A.  $\frac{1}{6}$                                 C.  $\frac{2}{3}$   
B.  $\frac{1}{2}$                                 D.  $\frac{5}{6}$
40. Dua keping uang logam dilempar bersama-sama, uang tersebut memiliki sisi bunga dan wajah. Peluang muncul bunga dan wajah adalah ....
- A.  $\frac{1}{8}$                                 C.  $\frac{1}{2}$   
B.  $\frac{1}{3}$                                 D.  $\frac{2}{3}$




# KUNCI JAWABAN

---



- |       |       |       |       |
|-------|-------|-------|-------|
| 1. C  | 11. D | 21. B | 31. A |
| 2. A  | 12. B | 22. A | 32. D |
| 3. D  | 13. C | 23. A | 33. C |
| 4. A  | 14. C | 24. C | 34. B |
| 5. C  | 15. B | 25. A | 35. A |
| 6. D  | 16. C | 26. B | 36. B |
| 7. B  | 17. A | 27. B | 37. B |
| 8. B  | 18. A | 28. B | 38. D |
| 9. D  | 19. C | 29. C | 39. B |
| 10. A | 20. A | 30. B | 40. C |



# BAHASA INGGRIS

## Sekolah Menengah Pertama

**The following text is for questions number 1 and 2.**

Dear Tara,  
Remember, we've had an appointment to go to swimming pool after school. I'll be waiting for you at home. After having lunch and taking a nap, prepare yourself to go. Don't forget to bring your swimsuit. We will go there by bicycle.

1. What should they do before going to swimming pool?
  - A. make an appointment and prepare everything
  - B. have lunch and bring a swimsuit
  - C. take a nap and ride a bicycle
  - D. have lunch and take a nap
2. When will they go to swimming pool?
  - A. in the morning
  - B. in the afternoon
  - C. in the evening
  - D. at night

**The following text is for questions number 3 and 4.**

Dear Fachri,  
When your name is called as the best student please step forward—for high five!  
You are the best. Congratulations!

Uncle Farhan

3. From the text we know that Fachri ....
  - A. gets a medal for the best student
  - B. is the best student at school
  - C. graduates from high school
  - D. got five for his test

4. "... please step forward ..."  
The underlined word means ....
  - A. come to the front
  - B. move back
  - C. one step to the left
  - D. stand in line

**The following text is for questions number 5 and 6**

*Please come and celebrate with us at a  
Surprise Graduation Party  
in honour of our Son's hard work and effort!*

*Matthew has gained a BA  
(Hons Graphic Design from Glasgow School of Art)*

*Join us on*

*Saturday March 25<sup>th</sup>, 2012 at 7.30 pm  
The Castle Rooms, Uddingston  
See you there!*

*Tony and Louis Gates*

*Please R.S.V.P by Monday March 13<sup>th</sup>, Proud Mum-Louise  
Gates Orchardlton Cottage, Main Street, Rothsay, Isle of  
Bute.*

5. Where is the party?
  - A. Matthew Orchardlton Cottage
  - B. Glasgow School of Art
  - C. Uddingston
  - D. The Castle Rooms
6. From the text we can say that ....
  - A. The party will be held in Orchardlton Cottage
  - B. Tony and Louise Gates are Matthew's parents
  - C. Matthew must work hard to pass the examination

- D. You should confirm to Matthew before coming to the party

**Read the following text to answer question number 7.**

**DUE TO MANY SHARP CORALS,  
THE VISITORS ARE PROHIBITED TO SWIM  
ALONG THIS AREA**

7. Where do we usually find the text?  
A. at the lake  
B. at the beach  
C. at the river bank  
D. at the swimming pool

**The following text is for questions number 8 to 10.**

**Announcement**

To: All Department Managers

There will be a meeting this afternoon, February 7<sup>th</sup>, 2012 at 01.00 pm in the meeting room. The meeting will discuss the customers' complaint. Since the topic is very important, presence is a must.

Please come on time and don't forget to bring documents needed.

Thank you  
Director

8. Why do all of the managers have to come to the meeting?  
A. the meeting will focus on the customer's document  
B. all of the managers must bring their own documents  
C. the topic of the meeting is very important  
D. the meeting will be conducted by costumers
9. "The meeting will discuss the customer's complaints."  
The underlined word means ....  
A. disturbances  
B. disapprovals  
C. disagreements  
D. dissatisfaction

10. The text tells us about the meeting of ....  
A. the customers and the director  
B. all department managers and the director  
C. the managers and the customers  
D. the manager and the director

**The following text is for questions number 11 and 12.**

**COLD BREAKER**

**LIKE YOU'LL NEVER FEEL ANY COLD**

Fast relief for:

- Congestion
- Runny nose
- Coughs
- Headache
- Fever

**100 tablets  
USP  
200 mg**

AVAILABLE IN EVERY STORE IN INDONESIA

11. Which of the following sickness cannot be relieved by this medicine?  
A. headache                      C. cancer  
B. coughs                         D. fever
12. What's the writer's purpose to write the text above?  
A. to inform the process of making Cold Breaker  
B. to persuade people to use the product  
C. to explain the ingredients of the product  
D. to describe the illness that can be cured

**The following text is for questions number 13 to 15.**

Dear Jean,

I would like to share my traveling experience. Last holiday, I went to India. If you like walking, Shimla is a great destination. It's located in Himachal. I went there with my family.

The most spectacular and beautiful landscape can be found there. Himachal is a traveler's paradise—lofty snow peaks, deep gorges, lush green valleys, fast flowing rivers, enchanting mountain lakes, flower-bedded meadows, and beautiful temples. Himachal is especially famous for snow. It is also a land of gods, goddesses, and saints.

We reached the hotel in the morning. We took some rest for a while and then headed for our destination. We visited many places. I can't tell you the detail one by one but I attached many photos.

If you want to visit Himachal, please tell me. I will be very happy to be your guide. Free. Just send the ticket to me.

Rachel

13. How are the meadows in Himachal?
  - A. lofty
  - B. beautiful
  - C. flowering
  - D. enchanting
14. What is the main idea of the second paragraph?
  - A. Himachal is famous for its snow
  - B. Himachal is a travelers' paradise
  - C. The hotel where the writer stayed
  - D. The best destination for traveling
15. The text generally talks about ....
  - A. the photos during the traveling
  - B. the writer's traveling experiences
  - C. the hotel where the writer stayed
  - D. the best destination for traveling

**The following text is for questions number 16 to 18.**

#### How to Stop Nose Bleeding

- (1) First, loosen the clothing around your neck
  - (2) Put a cotton pad in the bleeding forward
  - (3) Then sit down with your head leaning forward
  - (4) Squeeze your nose until it stops bleeding
  - (5) If your nose continues to bleed, call a doctor.
16. From the text we know that the last thing to do to stop the nose bleeding is ....
    - A. see a doctor for professional help
    - B. change the cotton pad in the nostril
    - C. lay down on the floor to stop bleeding
    - D. keep on squeezing the bleeding nostril
  17. From the text we are suggested that we should ....
    - A. not lean backward when have nose bleeding
    - B. call a doctor immediately in a case of nose bleeding

- C. squeeze your nose until it stops bleeding
- D. never put a cotton pad in a bleeding nostril

18. "... until it stops bleeding."  
The underlined word refers to ....
  - A. head
  - B. cloth
  - C. nose
  - D. cotton

**The following text is for questions number 19 to 21.**

I live in a village called Amed in Bali, about a two-hour drive from Kuta. It is a beach village and one of the best places for scuba diving in Bali. To reach my village, you will need a lot of energy because it is an exhausting trip. The road is curved and there are many ups and downs too. But as soon as you arrive in Amed, your efforts will be paid by the beauty of my village.

Unlike other places in Bali, Amed is calm and peaceful place. The bay, some sandy, others rocky appears to be lined with traditional fishing boats called *jukung*. From the top of the hill, people can enjoy the beautiful scenery. There are no factories or industries in Amed, so the water and the soil in my village are still clean and unpolluted. This is needed to produce salt by the people in the village.

19. What makes Amed different from another places in Bali?
  - A. Amed is a place for scuba diving
  - B. it needs a lot of energy to get there
  - C. Amed is a calm and peaceful place
  - D. Amed has many star rated hotels
20. Where can people enjoy the beautiful scenery in Amed?
  - A. from the top of the hill
  - B. from the top of the factory
  - C. from the beach of the village
  - D. from the roads of the village
21. "... because it is an exhausting trip."  
(paragraph 1)  
The underlined word has similar meaning to ....
  - A. tiring
  - B. exciting
  - C. confusing
  - D. challenging

**The following text is for questions number 22 to 24.**

The National Monument (or Monumen Nasional) is a 132 metres tower in the centre of Merdeka Square, Central Jakarta. It symbolizes the fight for Indonesia's independence. The monument consists of a 117,7 m obelisk on a 45 m square platform at a height of 17 m.

The towering monument symbolizes the philosophy of Lingga and Yoni. Lingga resembles rice pestle (*alu*) and Yoni resembles mortar rice (*lesung*), two important items in Indonesian Agricultural tradition.

The construction began in 1961 under the direction of President Sukarno and the monument was opened to the public in 1975. It is topped by a flame covered with gold foil. The monument and museum is open daily from 8.00 – 15.00 everyday throughout the week, except for the last Monday of the month the monument is closed.

22. "It symbolizes the fight ...." (Paragraph 1)  
The underlined word refers to ....  
A. the opening day    C. the monument  
B. the construction    D. the gold foil
23. What is the main idea of paragraph one?  
A. the obelisk itself is a clad with Italian marble  
B. the monument consists of a 117,7 m obelisk  
C. the national Monument is a 132 meter tower  
D. it symbolizes the fight for Indonesia's independence
24. The text mainly tells us about ....  
A. the construction of the National Monument  
B. the meaning of Lingga and Yoni  
C. the schedule of the visit  
D. the National Monument

**The following text is for questions number 25 to 27.**

I am used to traveling by air but only on one occasion I felt frightened. After taking off, we flew low over the city. It slowly went high to the sky.

But suddenly it turned round and flew back to the airport. An air-hostess told us to keep calm and to get off the plane quietly as soon as it landed. After we landed, the police searched the plane carefully. Everybody on board was worried and we grew curious about what was happening.

Later we learnt that there was a very important person on board. Earlier somebody told the police that there was a bomb on a plane. Fortunately, they didn't find a bomb and five hours later we were able to take off again.

25. Who searched the place carefully?  
A. the pilot                      C. The air-hostesses  
B. the police                    D. The passengers
26. Why did the plane fly back to the airport?  
A. the pilot was afraid of bombs  
B. the pilot forgot about something  
C. the passengers were frightened  
D. police suspected that there was a bomb in a plane
27. What is the main idea of paragraph three?  
A. the writer felt frightened  
B. the police searched the plane carefully  
C. somebody said that there was a bomb in a plane  
D. there was a very important person on board

**The following text is for questions number 28 to 30.**

Last summer when mum and dad weren't feeling well, Tom was taking his dog, Paddy, for a walk. Suddenly there was a rabbit running across the path they were taking. Paddy barked very loud and the scared rabbit ran into the bushes. Although Tom was trying hard to grip the collar, Paddy was running after the rabbit. That was the last time he saw Paddy.

He tried to look for him for days. Finally, five weeks later, when Tom was out for a coffee at Motorway Café, his parents called. They were having lunch when they heard a dog barked outside the house. They hurriedly went out and there was Paddy wagging his tail.

28. "That was the last time he saw Paddy."  
The word he refers to ....

- A. father
- B. Tom
- C. rabbit
- D. paddy

29. How did Paddy get lost?

- A. he was hungry and searched for a food
- B. he followed motorbike riders away
- C. he saw a rabbit and ran after it
- D. he felt bored and took a walk

30. The text generally talks about ....

- A. the coming back of the lost dog
- B. a long journey of the dog
- C. a holiday experience in Scotland
- D. the disappearance of a dog

**The following text is for questions number 31 to 34.**

Once a farmer owned a donkey and a lapdog. The donkey worked hard all day, hauling heavy loads. The lapdog stayed with his master all day, and lived in the house with him. He did not work, but was allowed to sit on the master's lap. The donkey grew jealous of the lapdog.

Perhaps if I behave like the dog, like wag my tail and jump on the master, the master will start loving me as much as he does to the dog. So the donkey decided to wait for his chance.

One day, when he was left unattended, the donkey broke his halter and ran into farmhouse kitchen. Then the farmer sat at table. The donkey rushed up to him and began wagging his tail vigorously, and knocked off all the china from the table. He then started jumping around and frolicking like a little dog and finally plonked himself down on the farmer's lap. The shocked farmer yelled for help. The farmhands came running in and dragged the donkey off to his stable, and gave him a beating he did not forget for the rest of his life.

31. What made the donkey jealous of the dog?

- A. the halter that he has to wear
- B. the beating that he has
- C. the farmer's care to the dog
- D. the chance to stay inside the house

32. What is the main idea of paragraph 3?

- A. the donkey wanted to be loved by its master
- B. the way the farmer treated the donkey
- C. the things done by the donkey to be loved
- D. the dog's habit is liked by the master

33. The best title for the text is ....

- A. The Farmer and His Dog
- B. The Donkey and the Lapdog
- C. The Farmer and the Donkey
- D. The Dog and its Master

34. What can we learn from the text?

- A. it is good to share things with others
- B. it is not good to help others
- C. it is not good to be envious to others
- D. it is good to keep your promise

**The following text is for questions number 35 to 38.**

Two frogs had lived in a village all their lives. They thought they would like to go and see the big city that was about ten miles away.

They talked about it for a long time and at last they set off to the city.

It was a hot day, and they soon began to feel tired. They had only gone a little way when one said to the other, "We must be nearly there. Can you see the city?"

"No," said the other frog, "but if I climb on your back I might be able to see it."

So he climbed up on the back of the other frog to see the city.

Now when the frog put up his head, his eyes could only see what was behind. And not what was in the front. So he saw the village they had just left.

"Can you see the city?" asked the frog who was below.

"Yes," answered the frog who had climbed up. "I can see it. It looks like our village."

Then the frogs thought that it was not worthwhile going any further. They went back and told the frogs in the village that they had seen the city, and it was just like theirs.

35. What did they feel on their way to find a big city?

- A. happy                      C. sad  
B. glad                         D. tired
36. Why did one of the frogs climb on the other's back?  
A. it felt tired  
B. it was a hot day  
C. it could not see the city  
D. it thought it was worthwhile
37. "... and at last they set off to see the city." (Paragraph 2)  
The underlined word means ....  
A. left                         C. decided  
B. gave up                    D. stopped
38. What is the moral value of the text?  
A. never do something useless with your friends  
B. never trust within a single opinion without other evidences  
C. we have to accept whatever information we receive  
D. we can always ask someone's opinions for anything
39. Which one creates jellyfish's light?  
A. white blood              C. chemical reaction  
B. nervous system         D. salt water
40. Based on the text, we know that ....  
A. they belong to invertebrate animals  
B. they have heads like other animals  
C. their brain helps them find the food  
D. they cannot live in fresh water
41. What is the text about?  
A. jellyfish  
B. kinds of all fish  
C. all invertebrate animals  
D. some kinds of sea animals
42. "Some jellyfish can glow in darkness by making their own light." (Paragraph 3)  
The word "glow" in the sentence means ....  
A. move                      C. appear  
B. produce                    D. shine

**The following text is for questions number 43 to 45.**

I recently visited the Cuban Islands ... (43) a two week break with my partner. I never ... (44) South America prior to this visit and was extremely excited at experiencing this new culture. Needless to say, I was not disappointed. I had heard that the Cuban ... (45) are traditionally extremely polite to strangers as a sign of respect, but never did I expect the treatment that I received.

**Read the text and answer questions 39 to 42.**

Jellyfish are not really fish. They are invertebrate animals. This means that unlike fish or people, they have no backbones. In fact, they have no bones at all.

Jellyfish have stomachs and mouths, but no heads. They have nervous systems for sensing the world around them, but no brains. They are made almost entirely of water, which is why you can look through them.

Some jellyfish can glow in the darkness by making their own light. The light is made by a chemical reaction inside a jellyfish. Scientists believe jellyfish glow for several reasons. For examples, they may glow to scare away predators or to attract animals they like to eat.

Most jellyfish live in salt water, apart from a few types that live in fresh water. Jellyfish are found in ocean and seas all over the world. They live in warm, tropical seas and in icy waters near the North and South poles.

43. A. for                         C. since  
B. from                        D. during
44. A. visit                      C. visited  
B. visits                      D. visiting
45. A. person                    C. children  
B. people                      D. spectator

**For questions 46 to 48 choose the correct words to complete the text.**

Yogyakarta is an artwork buyer's paradise a lot of well-known artist originated from this place. These ... (46) artists have influenced local

artisans in silver, leather, batik and other branches of craft.

Even wood, rattan and bamboo, can be ... (47) into very attractive craft items not only for home, but also used in international hotels. One can find these items ... (48) in several stores along Malioboro street, the main street of Yogyakarta.

46. A. common                      C. beautiful  
    B. famous                      D. unpopular
47. A. made                         C. brought  
    B. called                      D. bought
48. A. carefully                  C. slowly  
    B. readily                     D. easily

49. Arrange the words into a meaningful sentence.

Women – village – the – went – to –

1            2            3            4            5

remote – city – the

6            7            8

The correct arrangement is ....

- A. 3 – 6 – 4 – 1 – 2 – 5 – 8 – 7  
B. 3 – 6 – 5 – 2 – 1 – 4 – 8 – 7  
C. 3 – 6 – 2 – 1 – 4 – 5 – 8 – 7  
D. 3 – 6 – 2 – 4 – 1 – 8 – 7 – 5

50. Arrange these sentences into a meaningful recount text.

- (1) Thirty people died, all of them were British.  
(2) There were only two survivors, who managed to get out through a broken window.  
(3) There was a terrible accident on the motorway near Gondolfo last night.  
(4) Luckily the motorway was quiet and no other vehicle was involved in the crash.  
(5) The coach was owned by Gladway Tours London.  
(6) And the driver was in hurry.  
(7) A coach overturned and caught fire.  
(8) The coach left London two hours late.


- A. 3 – 7 – 1 – 5 – 4 – 2 – 6 – 8  
B. 3 – 7 – 1 – 5 – 2 – 4 – 8 – 6  
C. 3 – 7 – 5 – 2 – 1 – 6 – 8 – 4  
D. 3 – 7 – 5 – 8 – 6 – 4 – 2 – 1

# KUNCI JAWABAN

---



- |       |       |       |       |       |
|-------|-------|-------|-------|-------|
| 1. D  | 11. C | 21. A | 31. C | 41. A |
| 2. B  | 12. B | 22. C | 32. C | 42. D |
| 3. B  | 13. C | 23. C | 33. B | 43. D |
| 4. A  | 14. D | 24. D | 34. C | 44. C |
| 5. D  | 15. B | 25. B | 35. D | 45. B |
| 6. B  | 16. A | 26. D | 36. C | 46. B |
| 7. B  | 17. C | 27. D | 37. A | 47. A |
| 8. C  | 18. C | 28. B | 38. B | 48. D |
| 9. D  | 19. C | 29. C | 39. C | 49. C |
| 10. B | 20. A | 30. A | 40. A | 50. D |



# BAHASA INGGRIS

## Sekolah Menengah Pertama

- Arrange the following sentences into a good paragraph.
  - I was very happy when I realized I could ride motorcycle.
  - Nonetheless, I got nervous when I passed the narrow street.
  - I lost my control and fell to the ditch.
  - One day, my father bought an old motorcycle.
  - My father taught me how to ride the motorcycle.
  - My father was very patient and gave me directions.
  - In the beginning, everything ran well.
  - 7 - 3 - 1 - 5 - 2 - 6 - 4
  - 5 - 4 - 3 - 7 - 6 - 1 - 2
  - 1 - 2 - 3 - 5 - 4 - 7 - 6
  - 4 - 5 - 6 - 7 - 1 - 2 - 3
- From the text we know that ....
  - the laptop is as user friendly as the previous edition
  - the laptop has advanced function features
  - the battery can be used for 6 hours
  - the screen of the laptop is small

**For questions 4 to 6, choose the most suitable words to fill in the blanks.**

Samosir, approximately 50 km long and 15 km wide, is an island in Lake Toba and almost as big as Singapore. It is often described as the heart of Batak (4) ... . Samosir is a perfect place to relax and cool down. It is beautiful and scenic and very relaxing. Accommodation is extremely (5) ... but the food is rather expensive. The island is small enough to wander about or you can choose to lie in a hammock (6) ... .

**The following text is for questions 2 and 3.**

G570 4334DDU Laptop with large screen. The laptop also comes with a spatial experience of the screen and it has advanced function features that work efficiently. It is more user-friendly than ever. G570 433DDU 15.6-Inch Laptop Feature:

- 15.6-Inch Screen: Integrated Intel HD 3000 Graphics
- Windows 7 Home Premium 64-bit, 4 hours Battery Life
- 2.5 GHz Intel Core i5-2450M
- 4 GB DIMM, RAM
- 500 GB 5400 rpm Hard Drive

- Normally, this laptop can be used for ... hours.
  - two and half
  - four
  - seven
  - sixty four

- village
  - culture
  - hometown
  - costumes
- dear
  - easy
  - cheap
  - difficult
- completely
  - simply
  - easily
  - comfortably

**The following text is for questions 7 and 8.**

*My special day is coming  
I am 14 years old now.  
My parents are having a special party for me.  
Your smile and laugh we hope.  
So come to the smile, and it will be lots of fun  
The party will be held at three to five p.m*

*Sunday, December 22, 2013  
Nini's house  
45 Cibinong Street*

7. Why does Nini write the text?
- She wants her friend to be happy.
  - She hopes her friends to smile and laugh.
  - Her parents have a special party for her.
  - She wants her friends to come to her party.
8. What does the word "it" in the text refer to?
- Special day
  - Birthday
  - Party
  - House

**The following text is for questions number 9 to 13.**

Riding on a canal bus is an enjoyable and relaxed way of getting around Amsterdam canals and it takes you to pass all the city's top sights. You'll see many kinds of buildings, from historic ones to the city's narrowest houses. Canal bus boats also cruise along the most famous canals, bringing you to Amsterdam's major museums, such as Van Gogh Museum, the Rijks-Museum and the Anne Frank house.

On Board we provide a multilingual commentary. Our comfortable boats offer a frequent and regular service with 4 routes and stops, including 6 transfer points.

The stops are located near the museum, shopping district and tourist attractions. Your 24 hours ticket allows you to hop and off as often as you like.

9. What is the text about?
- Tourist resorts.
  - City boats.
  - Amsterdam canals.
  - Canal bus boats.
10. How many routes does the canal have?
- 24
  - 20
  - 6
  - 4
11. The passengers of the canal bus boat may hop and off as they like because it ....
- provides a multilingual commentary
  - sells tickets for 24 hours
  - has 4 routes and 20 stops.
  - has enjoyable regulation
12. What is paragraph two about?
- The schedule of canal bus boat.
  - The canal bus boat services.
  - The cost of canal bus.
  - Routes of the bus.
13. From the text we know that ....
- the canal bus boat offers only regular service
  - passengers can enjoy the beautiful museums as well
  - passengers are not permitted to hop and off as they like
  - the canal bus boat provides only a bilingual commentary

**The following text is for questions 14 and 17.**

In ancient times, the king placed a boulder on a roadway. Then he hid and watched to see if anyone would remove the huge rock. Some of the king's wealthiest merchants and courtiers came by and simply walked around it.

Many loudly blamed the king for not keeping the road s clear, but none did anything to get the big stone out of the way. Then a peasant came along carrying a load of vegetables. On approaching the boulder, the peasant laid down his burden and tried to move the stone to the side of the road. After lots of pushing and straining, he finally succeeded. As the peasant picked up his load of vegetables, he noticed a purse lying on the road where the boulder had been.

The purse contained a lot of gold coins and a note from the king indicating that the gold was for the person who removed the boulder from the roadway. The peasant learned what many others never understand.

14. Why did many people blame the king?
- He did not make good roads for them.
  - He loved to hide behind the rock.
  - He showed no care on their roads.
  - He did not keep the road clear.
15. What does the last paragraph tell us?
- The roads that people built with the king.
  - The person who liked keeping the roads well.

- C. The purpose of putting the boulder and purse.
  - D. The way the peasant removed the boulder on the road.
16. From the story, we know that ....
- A. many people liked the peasant
  - B. the peasant was a good man
  - C. the boulder was really small
  - D. the king was very stingy
17. What can we learn from the story?
- A. A problem may be a blessing in disguise.
  - B. There are so many problems in life.
  - C. An obstacle may make us stronger.
  - D. We have to avoid any problem in our life.

**This text is for the following questions 18 to 21.**

Charles Robert Darwin was an English scientist, who proposed and provided evidence for the scientific theory that all species have evolved through natural selection. This theory became widely accepted by the scientific community in the 1930s, and now become the basic of modern evolutionary theory.

Darwin developed his interest in natural history at Edinburgh University while studying first medicine, then theology. His five-year voyage on the Beagle established him as a geologist whose observations and theories supported Charles Lyell's uniformitarian ideas, and publication of his journal of the voyage made him famous as a popular author.

His study on the geographical distribution of wildlife that he collected during the voyage, resulting his theory of natural selection in 1838. Having seen other being attacked for similar ideas, he confined only to his closest friends and continued his research. In 1858, Alfred Russel Wallace sent him an essay describing a similar theory, causing the two to publish their early theories in a joint publication. In 1859, he published his famous book, the Origin of Species.

18. What initiated darwin's theory of natural selection?

- A. The researcher's discovery on the natural wildlife.
- B. The theory of natural selection that he had developed.
- C. The geographical distribution of wildlife he collected.
- D. His friend who continued his extensive research in 1838.

19. Darwin became a popular author because of ....
- A. his voyage's journal
  - B. the geographical distribution
  - C. a scientific community
  - D. his study in theology

20. The third paragraph is about ....
- A. Darwin's publications
  - B. Darwin's research on plants
  - C. the natural selection
  - D. Darwin's education

21. "..., he confided only to his closest friends ..." (paragraph 3)

The underlined word is similar in meaning with ....

- A. told a secret
- B. made a group
- C. did observation
- D. conducted a research

**The following text is for questions 22 and 23.**

Train	Departure (Semarang)	Arrival (Surabaya)
Eastern Sun	7.30 am	3.00 pm
Arya Triwangsa	9.30 pm	5.00 pm
Fajar Express	5.30 am	1.00 pm
Midnight Express	10.30 pm	6.00 am

22. Which train travels the earliest from Semarang?
- A. Eastern Sun
  - B. Arya Triwangsa
  - C. Midnight Express
  - D. Fajar Express

23. From the text, we can conclude that ....
- three trains leave in the morning
  - midnight express leaves at midnight
  - fajar express arrives in the morning
  - two trains arrive in the morning

**The following text is for questions 24 to 26.**

Dear Nancy,

We are having a great holiday here on the Gold Coast. Yesterday we went to the Movie World.

When we got up in the morning, it looked like rain. After a while the cloud disappeared and it became a sunny day. Then we decided to go to the Movie World.

The first ride I went on was Lethal Weapon. Next, I watch the Police Academy show. After that I had lunch because I was really hungry. Meanwhile, mum and Kelly queued for the Batman ride.

About one o'clock, we got a light shower of rain but it cleared up soon after. Then we went on all the other rides.

It was a top day. See you when you get back.

Love,

Sam

24. What does the text tell you about?
- The Gold Coast.
  - The Movie World.
  - Sam's holiday.
  - The shower of rain.
25. Where did Sam spend all his holiday with his family?
- In the Movie World.
  - On the Gold Coast.
  - In Lethal Weapon Ride.
  - At the Police Academy.
26. Why did they decide to go to the Movie World?
- They were really hungry.
  - It was a sunny day.
  - It was a rainy day.
  - They woke up early.

**The following text is for questions 27 to 30.**

One of the most interesting places to visit in Singapore is the Bird Park. It is located in the industrial area in Singapore, called Jurong. The Bird Park is about twelve kilometers from the centre of the city, and it is easy to get there by bus or by taxi.

It is one of the largest bird parks in the world. The birds are kept in large cages, and there are hundreds of beautiful birds from many different parts of the world, including penguins, parrots, eagles, and ostriches. There is a large lake in the park with a restaurant beside it. There is also a very large cage which you can walk in to get a closer look at the birds.

It takes about two hours to see all the birds. You can walk around the park or ride on a bus. The best time to visit the park is in the early morning or late afternoon, when it is cooler.

27. How far is the park from the city centre?
- |          |           |
|----------|-----------|
| A. 2 km  | C. 12 km  |
| B. 10 km | D. 100 km |
28. Why do many people like to visit the bird park late in the afternoon?
- They are busy working in the morning.
  - The weather is not hot in the afternoon.
  - The birds in the park are caged in the morning.
  - They live in many different parts of the world.
29. What is the main idea of the second paragraph?
- The most interesting place in Singapore is the Bird Park.
  - There is a restaurant next to a large lake in the park.
  - There are hundreds of very beautiful birds in the cages.
  - Singapore bird park is the largest bird park in the world.
30. "It is located in the industrial area in Singapore." (Paragraph 1)
- What does the underlined word mean?
- |             |              |
|-------------|--------------|
| A. situated | C. conducted |
| B. held     | D. performed |

The following text is for questions 31 to 34.

In the days when a soda float cost less, a 9 year old girl entered a coffee shop and sat at a table. A waiter put the menu in front of her.

"How much is a soda float?"

"One dollar," replied the waiter,

The little girl pulled her hand out of her cute little pink purse and studied a number of coins in it.

"How much is a bottle of soda?" she inquired.

Some people were now waiting for a table and the waiter was a bit impatient.

"75 cents," he said brusquely.

The little girl again counted the coins. "I'll have a bottle of soda," she said. The waiter brought the soda bottle, put the bill on the table and walked away. The girl finished the soda, paid the cashier and departed.

When the waiter returned, he began wiping down the table and then swallowed hard at what he saw. There, placed neatly beside the empty dish, were 25 cents – his tip.

31. Why did the waiter swallow hard?
- A. The girl didn't have enough money.
  - B. He drank a bottle of soda.
  - C. He drank a soda float.
  - D. The girl left tip for the waiter.
32. The main idea of the last paragraph?
- A. The girl cleaned the table patiently.
  - B. The girl left her tip for the waiter.
  - C. The waiter swallowed the soda hard.
  - D. The waiter left an empty dish.
33. What can we learn from the story?
- A. Never underestimate other people.
  - B. Surprises happen anywhere.
  - C. Be patient in serving other people.
  - D. Be kind to other people.
34. "... and studied a number of coins in it." (Paragraph 2)
- The underlined word refers to ....
- A. the menu
  - B. coffee shop
  - C. the purse
  - D. the girl's hand

The following text is for questions 35 to 38.

### Banana Bread Recipe

Ingredients:

- 3 or 4 ripe bananas, mashed
- 1/3 cup melted butter
- 1 cup sugar
- 1 egg, beaten
- 1 teaspoon vanilla
- 1 teaspoon baking soda
- Pinch of salt
- 1½ cups of all-purpose flour

Method:

Preheat the oven to 350°F (175°C). With a wooden spoon, mix butter with the mashed bananas in a large mixing bowl, add sugar, egg and vanilla. Sprinkle the baking soda and salt over the mixture and mix them. Add the flour, then mix it. Pour mixture into a buttered 4 × 8 inch loaf pan. Bake for 1 hour. Cool on rack then remove it from pan and slice to serve.

35. What should we do before we sprinkle the baking soda to the mashed bananas?
- A. Add flour and butter.
  - B. Sprinkle salt to the mixture.
  - C. Add sugar, egg and vanilla.
  - D. Pour the mixture into a loaf pan.
36. How much vanilla do we need to make Banana Bread?
- A. 1/3 cup
  - B. 1½ cup
  - C. 1 teaspoon
  - D. 3 teaspoon
37. "... mix butter into mashed bananas ..."
- The underlined word has similar meaning with ....
- A. crushed
  - B. damaged
  - C. ripen
  - D. failed
38. "... then remove it from the pan ..."
- The word "it" refers to ....
- A. mixture
  - B. flour
  - C. cake
  - D. rack

**The following text is for questions 39 to 42.**

Gardenia plants are popular for the strong sweet scent of their flowers. Gardenia is the national flower in Pakistan. In Japan and China, the flower is called Kuchinashi (Japanese) and Zhi zi (Chinese).

Gardenia plants are evergreen shrubs. Their small trees can grow to 1 – 5 meters tall. The leaves are 5 – 50 centimeters broad, dark green and glossy with a leathery texture. The flowers are in small groups, white, or pale yellow, with 5 – 12 lobes (petals) from 5 – 12 centimeters diameter. They usually bloom in mid-spring to mid summer. Many species have strong aroma.

To cultivate gardenia as a house plant is not easy. This species can be difficult to grow because it originated in warm humid tropical areas. It demands high humidity and bright (not direct) light to thrive. It flourishes in acidic soil with good drainage and thrives on 20°C – 23°C during the day and 15°C – 16°C in the evening. Potting soils developed specifically for gardenias are available. It grows no larger than 18 inches in height and width when grown indoor. In climates where it can be grown outdoors, it can reach the height of 6 feet. If water hits the flowers, they will turn brown.

39. How tall is a gardenia tree?
- A. 3 – 25 cm                      C. 5 – 50 cm  
B. 5 – 12 cm                      D. 1 – 5 m
40. What is the main idea of the last paragraph?
- A. It is easy to plant a gardenia tree.  
B. A gardenia plant needs high humidity.  
C. It's not easy to plant gardenia as a house plant.  
D. A good drainage is important for gardenia plant.
41. From the text we know that ....
- A. people don't like the strong scent of the flower  
B. gardenia is widespread in Asia  
C. the flower is easy to plant  
D. the flower is expensive

42. "... Because it originated in warm ..."  
(Paragraph 3, line 16)

The underlined word refers to ....

- A. the flower                      C. the soil  
B. the species                    D. the leaf

**The following text for questions 43 to 45.**

**Attention**

Due to the fact that the next two days are national holidays for Christmas and followed by the first semester holiday; all students are requested to study at home during those days starting on tomorrow. School will begin on January 5<sup>th</sup> 2014. Merry Christmas and Happy Holiday.

**Principal**

43. What does the text tell about?
- A. Christmas celebration.  
B. Studying at home.  
C. National holiday.  
D. School holiday.
44. Why does the principal make the announcement?
- A. To celebrate the Christmas with students.  
B. To let students know about national holiday.  
C. To inform the students about the holiday.  
D. To ask students to study at home.
45. "Due to the fact ... " (first line).
- The underlined phrase is similar in meaning to ....
- A. the result of  
B. scheduled of  
C. as a consequence of  
D. in view of

**For questions 46 to 48, choose the suitable words to fill in the blanks.**

Last night, two houses were damaged by a landslide. Fortunately, nobody was (46) ... but four people were injured. All of them were released from the hospital this morning. After they were treated by the (47) ... . A group of soldiers were

ordered to help local people fix the broken buildings. It was very hard to rebuild the houses (48) ... because they were seriously damaged. However, they promised to fix them in a month.

46. A. escaped                      C. killed  
    B. moved                      D. shot
47. A. teachers                    C. soldiers  
    B. villagers                    D. doctors
48. A. slowly                      C. neatly  
    B. quickly                    D. accurately

49. Arrange the sentences below into a correct paragraph.

- (1) We left our house at about 5 o'clock in the morning. We took a taxi to the railway station.
- (2) Finally our train came. All of us rushed to get on the train.
- (3) Last Lebaran, my family and I went hometown. We decided to take a train because it is more comfortable.
- (4) It took about 5 to 7 hours to get to our hometown. We enjoyed our journey.
- (5) We took the carriage no 3 according to our tickets.
- (6) But without any prior information, our train was late for about fifteen minutes, so we had to wait a bit longer.
- (7) After finding our seats we could sit comfortably.
- (8) We arrived at the station at six. Our train would leave at 6.40

- A. 3 - 8 - 6 - 4 - 5 - 1 - 2 - 7  
B. 3 - 4 - 5 - 8 - 1 - 2 - 6 - 7  
C. 3 - 1 - 8 - 6 - 2 - 5 - 7 - 4  
D. 3 - 5 - 4 - 2 - 7 - 8 - 1 - 6

50. This text is for the following question.

**CAUTION**

**ASBESTOS**

WASTE DISPOSAL SITE

DO NOT CREATE DUST

BREATHING ASBESTOS IS

HAZARDOUS TO YOUR HEALTH

What does the caution mean?


- A. It is hazardous if we create dust from the asbestos
- B. Asbestos can create dust when we dispose it.
- C. It is dangerous for our health to breath asbestos.
- D. Disposing asbestos is bad for our health.

# KUNCI JAWABAN

---



- |       |       |       |       |       |
|-------|-------|-------|-------|-------|
| 1. D  | 11. B | 21. A | 31. D | 41. B |
| 2. B  | 12. B | 22. D | 32. B | 42. B |
| 3. B  | 13. B | 23. D | 33. A | 43. D |
| 4. B  | 14. D | 24. C | 34. C | 44. C |
| 5. C  | 15. B | 25. B | 35. C | 45. C |
| 6. D  | 16. B | 26. B | 36. C | 46. C |
| 7. D  | 17. A | 27. C | 37. A | 47. D |
| 8. C  | 18. C | 28. B | 38. A | 48. D |
| 9. D  | 19. A | 29. D | 39. D | 49. C |
| 10. D | 20. C | 30. A | 40. C | 50. C |



# BAHASA INGGRIS

## Sekolah Menengah Pertama

1. **WARNING  
RECENT SHARK ATTACK  
BEACH IS CLOSED**
- The text tell us that ....
- swimming is prohibited in this beach
  - the beach is close due to shark attack.
  - there are a lot sharks around the beach
  - the beach is recently dangerous for sharks

**The following text is for questions 2 and 3.**

Hey Achmad,  
We are very happy to hear your success.  
We are proud of you.  
Here is a big hug for the winner of the Student's Speech Contest.  
May this become the beginning of your other successes.

Freddy and Cherryl

- What is the purpose of the text?
  - To discourage someone.
  - To show someone's success.
  - To identify someone's success.
  - To congratulate someone's success.
- How do Freddy and Cherryl compliment Achmad in the text?
  - A big hug for the winner.
  - We are very proud of you.
  - A beginning for your other success.
  - We are happy to hear your success.

**The following text is for question 4 to 7.**

From : Kartika Putri <[kp-29kartika@yahoo.com](mailto:kp-29kartika@yahoo.com)>  
To : Alviana <[alviana-nina102@smpbahagiaco.id](mailto:alviana-nina102@smpbahagiaco.id)>  
Sent : Monday, 3rd February 2014  
Subject : Mount Kelud

Hello Alviana,

I sent you this email to let you know that I'm enjoying a great vacation with my friends on Mount Kelud, Kediri. This is a very amazing place.

We went to Kediri by bus from school at 7 a.m and arrived there at 10.30 a.m. Before we reached to mountain, we had to stop at local bus station and changed into local transportation of the smaller car. The view was wonderful along our journey to the mountain. It took 15 minutes to reach the foot of mountain from the bus station.

There were a cave and more amazing sceneries. We walk around and took the pictures there. We also bought some durians and they were very delicious.

I hope you'll get here someday.

That's all for you now. Please pass my greeting to your parents. See you.

Love you,

Kartika Putri

- What does the text tell you?
  - Alviana's Journey to cave.
  - Missing a friend in a vacation.
  - Kartika's interesting experience.
  - Amazing sceneries in the mountain.
- How did the writer and friends explore the cave?
  - hire a local transportation
  - by bicycle
  - by bus
  - on foot
- Why did they go to Mount Kelud?
  - To observe the beautiful mountain.
  - To spend holiday at amazing place.

- C. To taste delicious durian.
- D. To take some pictures.

7. "This is a very amazing place" (line 3)  
The underlined word refers to ....
- A. the local transportation
  - B. the Mount Kelud
  - C. the bus station
  - D. the cave

**The following text is for questions 8 and 9.**

Linda, I need your help to handle the meeting of Book Fair committee because I can't come today. Please meet our principal and tell him that the meeting is scheduled at 9 a.m. After that, ask Reni, the master of ceremony to start on time. One more thing, don't forget to confirm about the snack and drink for the coffee break to Mrs. Wijaya. Thank you.

Wenda

8. What is Mrs. Wijaya's duty on the book fair day?
- A. To great the principal.
  - B. To be the Master of Ceremony.
  - C. To make preparation for the coffe break.
  - D. To handle the Book Fair committee meeting.
9. What is Wenda's purpose to send this message?
- A. To promote the Book Fair
  - B. To tell about the Book Fair.
  - C. To ask Linda to handle the meeting.
  - D. To remind Linda about the meeting.

**The following text is for questions 10 and 11.**

**A Burst of Nature**

NatraBurst™ is powerful food source consisting of wide variety of premium ingredients, which work together to provide a variety of health benefits. Each serving contains the equivalent of more than 6 vegetables and fruits, with ORAC value of 4000+. Additionaly, NatraBurst™ help support lean muscle mass with its concentration og hight quality protein.

- Increase energy
- Reduce appetite
- Promote Fat Loss
- Anti-Aging
- Promote Healthy Skin



BUY 2 GET 1 FOR FREE ON SELECTED STORE

10. What's the benefit of consuming NatraBurst?
- A. Increase appetite.
  - B. Decrease energy.
  - C. Promote fat loss.
  - D. Promote healthy hair.
11. The purpose of the text is ....
- A. to warn the reader the danger of the product
  - B. to describe the composition of the product
  - C. to persuade people to consume the product
  - D. to tell the reader how to use the product

**The following text is for questions 12 and 13.**

**Blog Training**

We're opening special classes for you, beginner blogger. With the guidance of our experts, you will learn how to make a blog well. The training will be held from Monday to Saturday, March 10-15, 2014. Registration is open from 08.00 am-04.00 pm.

If you are interested, please come to our office and get yourself registered.

IT TECH  
2204 Salemba Rd.  
Jakarta

12. How long will the blog training be about?
- A. a day
  - B. a year
  - C. a week
  - D. a month
13. "If you are interested, please come to ..."  
We can replace the underlined words with ....
- A. are bored
  - B. are confused
  - C. agree on it
  - D. like it

The following test is for question 14 to 16.

### Announcement

Tomorrow our school will celebrate "HARDIKNAS". There will be no lesson. However. We will hold a flag ceremony and also some contests. One of them is the contest of the best classroom. Decorate your classroom as creatively as possible. Some "Secret Jury" will score your class randomly. The observation will last for a week. All class leaders have to cooperate with their class teacher and their own classmates. Some other contests are stated on the announcement board. For more information, please read the announcement board. Thank you.

14. How long will the "Secret Jury" observe the classrooms?
- A. six days                      C. eight days  
B. five days                      D. seven days
15. What should the students do to create the best classroom?
- A. Observe other classrooms.  
B. Communicate with the secret jury.  
C. Meet the class teacher and their classmates.  
D. Decorate the classroom as creative as possible.
16. "One of them is contest of the best classroom" The underlined word refers to ....
- A. jury                              C. teachers  
B. contests                        D. classrooms

The following text is for questions 17 to 19.

SMP IBU PERTIWI  
A DAY TRIP TO CIBODAS BOTANICAL GARDEN  
PUNCAK

- 06.30 Assemble in the schoolyard  
07.00 Bus departs to Cibodas botanical Garden  
09.30 Arrive in Cibodas Botanical Garden  
09.45 Briefing by teachers and Botanical Garden Officer
- Overview of the program
  - Do's and don'ts during the program

- 10.00 Activities  
Grub A Hiking to the waterfall  
Grub B Games & Botany Tour
- 12.00 Prayer & Picnic Lunch
- 13.30 Activities  
Grub A Games & Botany Tour  
Grub B Hiking to the waterfall
- 16.30 Depart from Cibodas Botanical Garden
- 19.00 Arrive at school
17. What is the purpose of the text?
- A. To inform the day trip schedule to Cibodas.  
B. To encourage students to join the school activity.  
C. To announce the trip to Cibodas Botanical Garden.  
D. To give a clear description of the botanical garden.
18. What will the Botanical Garden officers do after giving the program overview?
- A. Having the picnic lunch.  
B. Hiking to the waterfall.  
C. Description the do's and don'ts.  
D. Playing games with the students.
19. "Assemble in the schoolyard" What is the synonym of the word "assemble" in the text?
- A. play                              C. gather  
B. enter                             D. follow

Read the text and answer questions 20 to 23.

- (1) Determine when to defrost your food in the refrigerator. Most items will usually defrost within up to 24 hours; however, large items such as frozen turkeys and chickens may take several days to defrost.
- (2) Verify that the temperature of your refrigerator is set to 4,44 degrees Celsius. Your food will take longer to defrost if the temperature of your refrigerator is several degrees lower.
- (3) Place your frozen food on a plate or dish to prevent leaks. Any juice that drips from your defrosted food may contaminate other foods in your refrigerator.

(4) *Prepare your food shortly after it has been defrosted.* Some food must be prepared and eaten immediately to prevent bacteria growth; however, you may freeze the food, as long as it is placed in the freezer within the time frame in which you should have eaten it.

20. What is the text about?
- A. The ways to refreeze food in a good way.
  - B. The ways to prevent bacteria growth in food.
  - C. Procedure on how to keep food in refrigerator.
  - D. The steps on how to defrost food in a refrigerator.

21. What should we do after the food has already been defrosted?
- A. Wait for several more hours.
  - B. Prepare and eat it immediately.
  - C. Lower the temperature on fridge.
  - D. Prevent the bacteria from growing on them.

22. "Place your frozen food ..." (number 3)  
The word frozen is closest in the meaning to the word ....
- A. instant
  - B. dried
  - C. fresh
  - D. iced

23. "... Prepare your food shortly after it has been defrosted."  
The underlined word refers to ....
- A. frozen food
  - B. the freezer
  - C. bacteria
  - D. juice

**The following text is for questions 24 to 26.**

Every year, there is an art programme in my school. It is conducted in the middle of the semester for two days. It is managed by OSIS. The programme involves all school member. There are two categories of the art performance: class and individual performances (only for third year students). They will perform drama, poetry reading, dance and choir.

First year students will perform dance. As there are 5 classes of the first graders. Each class will perform either a traditional dance or a modern dance based on the envelope they choose. The envelope contain

either yellow or green paper means the modern one. Every student gives support when their classmates perform on the stage.

The second year students will perform choirs. Each class has to sing two song. The first is chosen from the list provided by the committee while the second song is selected by the team.

The third year students will play drama. The theme is taken from the story "Maling Kundang". The students wear unique costume based on the charactes they play. Besides drama performance, there are also individual performances, which are for third year students who are interested in poetry reading. The poem may be self-written or taken from any books. Every student will be enthusiastic in watching the show.

24. When does the art programme take place?
- A. Every year.
  - B. Every two days.
  - C. At the end of the semester.
  - D. In the middle of the semester.

25. The writer's purpose of writing the text is ....
- A. to invite the readers to come to his school
  - B. to describe an art programme at his/her school
  - C. to describe a drama performance at his school
  - D. to show the students' talent in drama and dance

26. The third year students will perform ....
- A. dance and choir
  - B. poem and drama
  - C. drama and traditional dances
  - D. traditional dan modern dance

**The following text is for questions 27 to 30.**

I have a Hamster name Scruffy. I got him from a pet shop in the mall. I named him Scruffy, because he always scratched his cage.

Since the first time i got Scruffy, I have fallen in love with him. He is a nice hamster. I put a wheel on his cage. He loves to exercise with it. He often sleeps all day and runs on his wheel all night. That is the one I don't like. It makes me feel lonely when he sleeps all the time. But I can't do anything because I know that hamsters are nocturnal.

I spend my spare time with Scruffy. I talk about anything to him. I feel that he could understand me.

One day, I got confused because I lost my bicycle key. I tried to find it every where, but I couldn't find it. I got tired and sat on my bed. I talked to Scruffy. Suddenly he jumped back and forth many times. When I opened his cage he ran quickly under my bed and he came up bringing my bicycle key. I was very surprised. This made me feel sure that Scruffy understood my words.

27. The text mainly tells us about ...
  - A. an interesting moment with a pet hamster
  - B. an experience to take care of the pet
  - C. an exercise with a pet hamster
  - D. the tips to raise a hamster
28. What is the main idea of the last paragraph?
  - A. Scruffy was nocturnal.
  - B. Scruffy slept all the time.
  - C. the writer exercised Scruffy.
  - D. the hamster found the lost key.
29. Where did Scruffy find the key?
  - A. In the cage.
  - B. In the bicycle.
  - C. On the wheel.
  - D. Under the bed.
30. What does the writer do with Scruffy in his spare time?
  - A. Talks to him.
  - B. Exercises with him.
  - C. Sleeps together all day.
  - D. Gives him a bicycle ride.

**The following text is for questions 31 to 34.**

Long time ago, there was only the sun that brightened the earth. The sun shone brightly all the time. It did not set and there was no night. People work until they were too tired to work anymore.

One day, the Creator of the universe came to visit. He saw men working in the fields. He realized that the people had no sense of time because there were no days and night. He called the sun and asked it to set in the evening and rise again in the morning.

In the evening, the sun when down and it was dark. People did not understand what had happened or why it was dark. They were frightened and ran all over the place. One of them fell down. Some fell into ditches and hurt themselves. Nobody knew what to do. Finally their leader called out and asked people to take a rest.

People were happier. They did not work all the time. They had to stop when it got dark and they could see nothing. They got regular hours of the rest and felt much better. However there was one problem. Since they see nothing after sunset, they often fell down, banged against tree and knocked against people. They could not see where things were kept and therefore broke things easily. It became quite chaotic!

Then the Creator visited them once again and saw the condition. Finally he created the moon. It rose in the sky and shone softly at night. As a result, people could see, but the light did not hurt their eyes or stop them from sleeping. They live a happier life with the sun in the day and moon at night.

31. What is the story about?
  - A. The rise and set of the sun.
  - B. Why was the moon created.
  - C. How the people lived a long time ago.
  - D. God's creation of the sun to help human.
32. What did the Creator see after he asked the sun to set in evening?
  - A. The creator was proud of himself.
  - B. People were frightened and confused.
  - C. The leader asked the people to walk slowly.
  - D. People were very happy and live peacefully.
33. What is the main idea of the last paragraph?
  - A. People couldn't do any activity at night.
  - B. The creator created the moon for human.
  - C. People were happy and sad about the sun.
  - D. The moon rose in the sky and shone brightly.
34. What can we learn from the story?
  - A. Human is never satisfied.
  - B. Human need to work day and night.
  - C. A leader should fight for his people's right.
  - D. God knows what is the best for human being.

**The following text is for questions 35 to 39.**

The Songkran festival is celebrated in Thailand as the traditional New year's Day. It is celebrated from 13-15 April. It coincides with The New Year of many calendars of South and Southeast Asian countries. It is believed to have been adapted from the Sankranti Hindu festival. It is now observed nationwide even in the far south.

However, the most famous Songkran celebrations are still in the northern city of Chiang Mai, where it lasts for six days and even longer. It has also become a party for foreigners and an additional reason for tourists to visit Thailand. The most obvious celebration of Songkran is the throwing of water to other people. Thais roam the streets with the containers of water or water guns. In addition, many Thais will have small bowls of cheap beige coloured talc and mixed with water which is then smeared on the faces and bodies of random passersby as a blessing for the new year. City officials close off many sections of the street for the festival.

Besides the throwing of water, people celebrate Songkran by going to a wat (Buddhist monastery) to pray and give food to monks. They also cleanse Buddha images in the household shrines as well as Buddha images at monasteries by gently pouring water mixed with a Thai fragrance over them. It is believed that doing this will bring good luck and prosperity in the New Year. In many cities, such as Chiang Mai, the Buddha images from all of the city's important monasteries are paraded through the streets so that people can toss the water at them, ritually 'bathing' the images as they pass by.

35. The suitable title for the text above is ....

- A. new year celebration
- B. The Songkran Festival
- C. Sankranti Hindu Festival
- D. Southeast Asia's water festival

36. What is the main idea of paragraph 2?

- A. The celebration is longer than a week.
- B. People come to Thailand for the festival.
- C. People sell special talc for Songkran festival.
- D. The most famous Songkran Celebration is in Chiang Mai.

37. Where do people celebrate Songkran?

- A. in Southeast Asia
- B. in Chiang Mai
- C. in South Asia
- D. in Thailand

38. Why do they pour fragrant water over the Buddha images?

- A. Because they are in the party mood.
- B. Because the officials close the street.
- C. Because it will bring them good luck.
- D. Because the images need some cleansing.

39. The purpose of the text is ....

- A. to retell about an experience in Thailand
- B. to inform readers about the celebration
- C. to advertise a cultural event
- D. to entertain the readers

**For questions 40 to 42, complete the passage with the words provided.**

Last summer, I went to a nearby college as part of a school program. I (40) ... classes in chemistry and English. The classes were harder than my high school classes, but I worked hard and did them well. The students in my program stay in the same (41) ... . Time passes so (42) ... when you enjoy your time. Suddenly summer is over and I have to return home.

40. A. took C. found  
B. gave D. saw

41. A. canteen C. sport hall  
B. dormitory D. schoolyard

42. A. fast C. slowly  
B. well D. stable

**For questions 43 to 45, complete the passage with the words provided.**

**My Bedroom**

My bedroom is (43) ... . It's about four meters long and three meters wide. There is a bed across the door. A desk and a chair stand near the window. On the corner, stand three door wooden cupboards to (44) ... all my stuff and my clothes. On the centre of

the ceiling, a twenty-watt spiral lamp gives enough light for the entire of the room and functions as a reading lamp as well. I really thanked to my father who designed the room because I have enough space and I stay (45) ... in it.

43. A. fabulous                      C. hazardous  
B. spacious                        D. tremendous

44. A. keep                            C. move  
B. reach                            D. share

45. A. comfortably                C. clumsily  
B. awkwardly                    D. quietly

46. Arrange the following word into a correct sentence.

Since – my father – seriously ill – has been  
1                    2                    3                    4

– is – and – hospitalized – yesterday  
5                    6                    7                    8

- A. 1 – 2 – 4 – 7 – 6 – 3 – 5 – 8  
B. 2 – 5 – 3 – 6 – 4 – 7 – 1 – 8  
C. 4 – 3 – 2 – 5 – 6 – 7 – 8 – 1  
D. 8 – 2 – 4 – 7 – 6 – 3 – 1 – 5

47. Arrange the following words into a correct sentence.

High school – my friend – is wearing –  
1                    2                    3

the boy – who – a red cap – from – is  
4                    5                    6                    7                    8

- A. 2 – 7 – 1 – 8 – 6 – 5 – 4 – 3  
B. 5 – 3 – 2 – 7 – 1 – 4 – 6 – 8  
C. 1 – 2 – 7 – 5 – 4 – 6 – 8 – 3  
D. 4 – 5 – 3 – 6 – 8 – 2 – 7 – 1

48. Arrange the following words into a correct sentence.

The table – came – on – the students –  
1                    2                    3                    4

when – was – the teacher – sitting  
5                    6                    7                    8

- A. 4 – 8 – 3 – 1 – 5 – 7 – 6 – 2  
B. 4 – 6 – 8 – 3 – 1 – 5 – 7 – 2  
C. 5 – 6 – 4 – 8 – 3 – 1 – 7 – 2  
D. 5 – 6 – 7 – 8 – 3 – 1 – 4 – 2

49. Arrange the following sentences into a meaningful passage.

How to cook vegetable soup:

- (1) Pour the soup into bowls, sprinkle some chopped celeries.
- (2) Prepare the ingredients: potato, carrot, cauliflower and meatball, wash and cut them.
- (3) Boil some water in a pan.
- (4) Heat some cooking oil and saute a clove of garlic until it smells fragrant.
- (5) Wait for five to seven minutes, then turn off the stove.
- (6) Put the garlic and all of ingredients into the boiling water.

- A. 2 – 4 – 3 – 6 – 5 – 1  
B. 2 – 3 – 4 – 5 – 6 – 1  
C. 3 – 2 – 4 – 5 – 1 – 6  
D. 3 – 2 – 6 – 4 – 5 – 2

50. Arrange the following sentences into a meaningful passage.

- (1) First, plug in the power to the outlet.
- (2) When you finished washing select "DRAIN" to drain the water out.
- (3) Finally, put the clothes into the spin dryer.
- (4) Open the water tap and fill the wash tub with water.
- (5) Set the drain selector to "wash/rinse" position.
- (6) Put a decent amount of detergent together with the clothes into the tub.
- (7) Set the desired time.


- A. 1 – 4 – 3 – 6 – 5 – 7 – 2  
B. 1 – 3 – 6 – 5 – 4 – 7 – 2  
C. 1 – 3 – 4 – 6 – 5 – 7 – 2  
D. 1 – 6 – 5 – 4 – 7 – 2 – 3

# KUNCI JAWABAN

---



- |       |       |       |       |       |
|-------|-------|-------|-------|-------|
| 1. B  | 11. C | 21. B | 31. B | 41. B |
| 2. D  | 12. C | 22. D | 32. B | 42. A |
| 3. B  | 13. D | 23. A | 33. B | 43. B |
| 4. C  | 14. A | 24. A | 34. D | 44. A |
| 5. D  | 15. D | 25. B | 35. B | 45. A |
| 6. B  | 16. B | 26. B | 36. D | 46. B |
| 7. B  | 17. A | 27. A | 37. D | 47. A |
| 8. D  | 18. C | 28. D | 38. C | 48. B |
| 9. C  | 19. C | 29. D | 39. B | 49. B |
| 10. C | 20. D | 30. A | 40. A | 50. D |



# BAHASA INGGRIS

## Sekolah Menengah Pertama

**This text is for questions 1 to 3.**

I live in a small house. It has five rooms: there are two bedrooms, a living room, a bathroom, and a kitchen. Indeed, it is a small house; but I love it very much.

When the door is open, I can see the living room. There is only a set of three sofas, nothing else. I prefer reading a novel in this room.

My bedroom is in the left of the living room. There is a night table next to the bed, a radio tape and a computer. When I am tired of reading school books, I usually play online games, chat with my friends through Facebook and so on.

Next to my bedroom is my parents's. I love to sleep with my mom. The bed is large and comfortable. Besides, we can watch TV while we are laying on the bed. At times when my father works out of town, I sleep with my mom.

The last is the kitchen. I have everything I need when I get hungry. My mother kees snacks, fruit, and vegetable in the refrigerator. The smell of cakes or soups fills the whole house my mother cooks.

I love my home sweet home, the place that nurtures me a lot.

1. What does the text tell you about?
  - A. The writer's house.
  - B. The nurturing place.
  - C. The writer's hobby.
  - D. A comfortable bedroom.
  
2. Where can the writer play online games?
  - A. In the living room.
  - B. Next to the bedroom.
  - C. In the writer's bedroom.
  - D. In the parents' bedroom.

3. Which of the following statement is stated in the text?
  - A. Mother trains her to cook at weekends.
  - B. The writer sometimes sleeps with her mother.
  - C. The writer does her school work in the living room.
  - D. Reading adventure stories is comfortable in the writer's living room.

4. Arrange the words below into the correct sentence.

The plates - Adnan - the meal - was ordering -  
 1                      2                      3                      4                      5

when - broke - I  
 6                      7                      8

- A. 2 - 5 - 1 - 6 - 8 - 7 - 3 - 4
- B. 8 - 5 - 3 - 4 - 6 - 2 - 7 - 1
- C. 6 - 8 - 5 - 1 - 2 - 7 - 3 - 4
- D. 7 - 8 - 3 - 4 - 6 - 2 - 5 - 1

5. Arrange the words below into the correct sentence.

really - I - to go - too sick - want - to work  
 1                      2                      3                      4                      5                      6

- to drive - I am - but  
 7                      8                      9

- A. 2 - 1 - 5 - 7 - 9 - 8 - 4 - 3 - 6
- B. 2 - 5 - 3 - 6 - 9 - 8 - 1 - 4 - 7
- C. 2 - 5 - 7 - 1 - 9 - 8 - 4 - 6 - 3
- D. 2 - 1 - 5 - 3 - 6 - 9 - 8 - 4 - 7

This text is for questions 6 to 9.

### Giant Swallowtail

The Giant Swallowtail (*Papilio cresphontes*) is a wonderfully "exotic" looking butterfly. They are widely spread in various parts of North America, particularly in the south and the east. With a wingspan about 10-16 cm, it is the largest butterfly in Canada and the United States.

The body and wings are dark brown to black with yellow bands. There is a yellow 'eye' in each wing tail. The abdomen has bands of yellow along with the previously mentioned brown.

*Papilio crephontes* is mostly seen in deciduous forest that falling of its leaves annually and in citrus orchards where they are considered major pest.

Some animals defend themselves from predator by mimicry but the giant swallowtail wards off the predators by producing polymorphism liquid. They fly between May to August where there are two broods in the north and three in the south. Their main habitat is the mountain ranges in Jamaica. Swallowtail butterflies begin with eggs. When they are hatched, they grow into caterpillars before changing into chrysalis. Soon they will become adult butterflies.

6. What does the text tell us about?
  - A. The largest insect.
  - B. The form of butterfly.
  - C. The habitat of swallowtail.
  - D. The Giant *Papilio cresphontes*.
7. Why do giant swallowtails produce polymorphism liquid?
  - A. They are doing the mimicry.
  - B. They want to hatch the eggs.
  - C. They have changed into adult butterflies.
  - D. They prevent themselves from the predators.
8. What is the main idea of the second paragraph?
  - A. *Papilio cresphontes* is the largest butterfly in Canada and United States.
  - B. The *Papilio* has dark brown to black body and wings with yellow bands.
  - C. The type of butterfly is widely seen in deciduous forest and citrus orchard.

D. The swallowtail butterfly starts its life cycle from eggs, caterpillars, and chrysalis to adult.

9. Their main habitat is the mountain ranges in Jamaica. (Paragraph 3)

The underlined word is closest meaning to ...

- |          |          |
|----------|----------|
| A. major | C. small |
| B. minor | D. big   |

For questions 10 to 12, choose the correct word to complete the below.

Crabs live in oceans, in fresh water, and (10) ... land, particularly in tropical regions. They are generally covered with thick shells. They have a single pair of claws. Crabs vary in size, from a few millimetre wide (the pea crab) up to 4 meters (Japanese Spider Crab). About 850 species of crabs live in freshwater. They can live on land in tropical (11) ... semi tropical regions. Male crabs often have larger claws while the female have a broader, rounded abdomen. Crabs (12) ... walk sideways. However, there are also some crabs that walk forwards or backwards.

- |                    |            |
|--------------------|------------|
| 10. A. in          | C. at      |
| B. on              | D. up      |
| 11. A. so          | C. but     |
| B. and             | D. such    |
| 12. A. continually | C. usually |
| B. especially      | D. happily |

This text is for questions 13 to 16.

### Tulip

Tulips grew from 10 to 70 centimeters tall. They can even grow in the cold and snowy winter. They have 2 to 6 leaves. Some species can have up to 12 leaves. The stems have no leaves to a few leaves, with large species having some leaves and smaller species have one. Typically species have one flower per stem but a few species have up to four flowers. The colourful and attractive cup shaped flowers typically have three petals and three sepals which are mostly termed as tepals because they are nearly identical.

Although tulips are associated with Netherlands, commercial cultivation of the flower began in the Ottoman Empire. The word tulip is derived from Persian language *dulband* (turban).

Tulips are indigenous to mountainous areas with temperate climates. They grow well in climates with long cool springs and early summers, but are often grown as spring blooming annual plantings in warmer areas of the world. The bulbs are usually planted in late summer and fall, normally from 10 to 20 cm deep, depending on the type planted, in well-drained soils. In parts of the world that do not have long cool spring and early summers, the bulbs are planted and force the plants to produce one large bulb each year instead of many smaller non blooming ones. This can extend the usefulness of the plants in warmer areas a few years.

13. What country is usually associated with tulip?
 

A. Greece	C. Netherland
B. Persian	D. Ottoman Empire
  
14. What is the main idea of paragraph 1?
  - A. Tulips were commercially cultivated early in the ottoman Empire.
  - B. The flower has specific form and measure.
  - C. Tulips grow well in temperate climates.
  - D. People cultivate tulip to trade it.
  
15. "..., but are often grown as spring blooming annual planting."
 

The underlined word is closest meaning to ....

A. every day	C. every month
B. every week	D. every year
  
16. Why do people term the three sepals as tepals?
  - A. They are similar.
  - B. They are endless.
  - C. They have no colour.
  - D. Their positions are in the same place.

**The following text is for questions 17 to 20.**

### Crispy Hash Brown Recipe

*Ingredients:*

3 tbsp olive oil, canola oil or grape seed oil  
 1 lb russet baking potatoes, peeled and grated,  
 salt and pepper.

*Method:*

- (1) Heat 3 tbsp of oil in a large frying pan on medium heat.
  - (2) Squeeze out as much moisture as you can from the grated potatoes. It's easier to do this with potatoes ricer. If you don't have it, you can use paper towel to squeeze it.
  - (3) Add the grated potatoes on the hot frying pan, spread them out along the bottom of the pan. Sprinkle some salt and pepper on the potatoes. If they have been fried to golden brown, they are ready for a flip. Continue to cook until they are golden brown on the bottom. Put them on the serving plate. Serve for 4 people.
- 
17. What should we do first to make crispy hash brown?
    - A. Peel and grate the fried potatoes.
    - B. Heat the oil in the frying pan.
    - C. Squeeze the grated potatoes.
    - D. Sprinkle some salt and pepper.
  
  18. How many portions can we serve based on the recipe above?
 

A. three	C. five
B. four	D. six
  
  19. "Squeeze out as much moisture as you can.." (step 2)
 

The word "moisture" has the closest meaning to ....

A. water	C. splash
B. lotion	D. remain
  
  20. "If you don't have it, ...." (step 2)
 

What does the underlined word refer to?

A. frying pan	C. potatoes ricer
B. paper towel	D. serving plate

**This notice is for question 21.**

### No cycling on the footpath

21. What does the notice mean?
  - A. No one is allowed to ride bicycle on the path.
  - B. You are allowed to ride on your bicycle here.



**This text is for question 30 to 32.**

Bob Hail was happy to find out that he had broken his nose. Sound crazy? Well, Hail was happy that his nose had broken. He had the accident that could have killed him. In 1972, Hail was learning to skydive. When his turn came, he jumped from the plane just like the other students, but when he was already in the air, he didn't realize that he had no parachute. He didn't even have a backup chute. He dropped more than three thousand feet. He reached a speed of eighty miles an hour. Without a parachute, there would nothing to slow his fall. When he hit the ground, he landed on his face. Hail said he felt sure he died. But he didn't. He walked away from the crash with just broken nose. He also missed a few of his teeth.

30. The main idea of the paragraph is that ....
- A. Bob Hail fell 3.000 feet without a parachute and only suffered minor injuries
  - B. Bob Hail didn't realize he had no parachute until he'd already jumped
  - C. skydiving is a dangerous sport so Bob Hail doing it
  - D. Bob Hail broke his nose so he couldn't join another sport
31. From the text, we can conclude that Bob Hail is a ... man.
- A. lucky
  - B. distress
  - C. unfortunate
  - D. mysterious
32. What was Bob Hail doing in 1972?
- A. He missed his teeth.
  - B. He was learning to skydive.
  - C. He forgot using a parachute.
  - D. He was jumping from the plane.

**This text is for questions 33 and 34.**

NOT EASY TO FORGET YOU ALL

We know it well

Dear Seniors,

The day has come when we have to say goodbye to all our near and dear ones. This is a special day in your life and we'd like to make it even more special through this Farewell Party, which will be held on:

Date : Saturday, July 14, 2015

Time : 08.00 a.m.

Place : School hall

We take great pleasure in inviting you all.

Your beloved juniors

33. When will the party be held?
- A. On workdays.
  - B. On Saturday evening.
  - C. On July the fourteenth.
  - D. At eight in the evening.
34. From the text above, we know that ....
- A. the seniors would like to say goodbye soon
  - B. not all seniors are invited to farewell party
  - C. the caretakers of the farewell party are the juniors
  - D. it is a great pleasure for seniors to hold the farewell party

**This text is for questions 35 and 36.**

SINGAPORE TOUR

- Saturday : Leave Saremban, Negeri Sembilan at 10.00 a.m. by bus  
Arrive in Singapore at 3.00 p.m.  
Stay at the Central Circus Hotel
- Sunday : Visit the science centre and Jurong Bird Park
- Monday : Visit Haw Par Villa
- Tuesday : Visit Orchard Road, Chinatown, Little India  
And Changi Alley for Shopping
- Wednesday : Leave Singapore at 10.00 a.m. by bus  
Arrive at Seremban at 3.00 p.m.

35. Where can we go shopping?
- A. at Changi Alley
  - B. at Science Centre
  - C. at Jurong Bird Park
  - D. at Central Circus Hotel

36. "Stay at the Central Circus Hotel"

The underlined word is closest meaning to ....

- A. sleep over at another place
- B. live in for a while

- C. reserve a room
- D. book in

**This text is for questions 37 and 38.**

Putri, we're going to celebrate our success in the examination. Would you like to watch a film together at Studio 7 at 7.30 pm? I read there's a good film there. Let's meet at Grandy bookstore an hour before the film.

See you there.

Tika and Tara

37. What are they going to do at Studio 7?
- A. Buy books.
  - B. Watch a film.
  - C. Have a exam.
  - D. Attend the premiere.

38. "... success in the examination."

The underlined word is closest meaning to ....

- A. test
- B. contest
- C. interview
- D. experiment

**The text is for questions 39 and 40.**

**Gagak Travel Fair 2015**

3 days only. For 19-22 May 2015.

Travel time in Dec 2015.

Special Travel Fares to domestic & International Destinations.

Organized by : raja MICE.COM

Official Contractor : samudra

Official GDS : abacus

Broadband by : BIZNET

Info: www.GTF2015.com

Jeffrey, 08124405865

39. Why can travelers reserve the special fares only in three days?
- A. The domestic and international destinations are almost fully booked.
  - B. The travel packages available are only for December next year.
  - C. The lower price travel package is offered only in those days.
  - D. Gagak Travel Fair will be closed on 22 May.

40. From the text we know that ....
- A. the advertisement is published in the web by Jeffrey
  - B. the offering is for the holiday at the year-end next year
  - C. we can save up the cash if we take the offered tour package
  - D. people must have an internet connection to find out Gagak Travel Fair

**This text is for questions 41 to 43.**

Last holiday, I was in Mexico City with my Dad. It was a fascinating place and the people were friendly. The most amazing thing happened to me when I was looking for the Paseo de la Reforma. It is a street with beautiful trees, plants, and statues. I was nearly lost and studying my map when I saw a man with colourful and unusual clothes in front of the cathedral. So I asked him, "Can you tell me where the Paseo de la Reforma is?" he smiled and answered, "It is only two blocks away from here."

I thought I took the wrong street because I didn't find the Paseo de la Reforma. Just when I was thinking about going back to my hotel, the man appeared again and showed me the way. As I was walking down the street, I saw the statue of Cuauhtemoc, the last Aztec leader. I was going to take the photo of it when I realized something unusual. The statue looked exactly like man I saw in front of the cathedral! He was wearing the same clothes. Even his grin was smiliar. What do you think about this? Do you think I am crazy?

41. What is the main odea of paragraph 2?
- A. The man showed the way to the Paseo de la Reforma.
  - B. The man in front of the cathedral was like the statue.
  - C. Cuauhtemoc, the last Aztec leader, is still alive.
  - D. The writer had a strange experience.
42. Who was Cuauhtemoc?
- A. Paseo de la Reforma.
  - B. The last Aztec Leader.
  - C. Someone with a similar grin.
  - D. The man in fron of the cathedral.

43. Why did the writer think that he took the wrong street?
- Cuauhtemoc is the man's statue.
  - The man was the last Aztec Leader.
  - He didn't find the Paseo de la Reforma.
  - The statue looked exactly like the man who helped him.

**This text is for questions 44 to 46.**

**Audition Now On!**

Audition for the 2015 Singing Contest will be held on July 4 and 6 at the Fun Karaoke Box, 3<sup>rd</sup> floor, Times Shopping Complex, Kuala Lumpur, from 10.00 a.m. to 6.00 p.m. and on July 5 at Kid's Theatre Park, X'tra Shopping Complex from 10.00 a.m. 6.00 p.m.

Those who are interested are required to bring a passport-sized photograph.

44. Why will the candidates of the singing contest go to the fun karaoke box?
- They want to go shopping.
  - They will have the audition.
  - They are going to sing together.
  - They want to make a passport sized photograph.
45. When will the audition in the Kid's theatre park be held?
- 3<sup>rd</sup> of July
  - 4<sup>th</sup> of July
  - 5<sup>th</sup> of July
  - 6<sup>th</sup> of July
46. "Those who are interested are required to bring ...." (Paragraph 2)
- The underlined word is closest meaning to ....
- |         |         |
|---------|---------|
| A. will | C. may  |
| B. can  | D. must |

**This text is for questions 47 and 48.**

To : Inten@yahoo.co.id  
Cc :  
Subject : Plan to visit

Dear Inten,

How are you? What about Salsa, Aunt Susi and our grandparents? Hope you are all fine in Yogya, I'd like to tell you great news and I am so happy with that. Do you know why? Let me tell you then.

Father and mother have decided that we will visit you and grandparents during the next Lebaran holiday. We will leave five days before Lebaran day. We'll go by train since I can't go by bus because of my motion sickness.

I am sure we'll have a nice Lebaran day. I can't wait to go there.

See you soon.

Love,

Rafi

47. Rafi feels happy because he will ....
- visit Inten and her family in Yogya
  - decide to go by bus to Yogyakarta
  - leave for Yogya after Lebaran
  - go by train alone
48. From the text we know that ....
- Salsa will celebrate Lebaran with her cousin's family
  - Salsa and her parents will go to grandparents's house
  - Rafi and his family have booked airplane tickets
  - Rafi cannot celebrate Lebaran in his hometown
49. Arrange the following sentences into a correct paragraph.
- Boil some water.
  - Serve in hot in a bowl.
  - Put the mung bean into the boiling water.
  - Add the salt and the sugar.
  - Simmer for 30 minutes.
  - Let the mung bean become tender.
  - Wash the mung bean.
- |                              |
|------------------------------|
| A. 4 – 2 – 6 – 3 – 7 – 5 – 1 |
| B. 7 – 1 – 3 – 6 – 4 – 5 – 2 |
| C. 1 – 4 – 7 – 3 – 6 – 2 – 5 |
| D. 3 – 1 – 4 – 6 – 2 – 5 – 7 |

50. Arrange the following sentences into a good paragraph.

- (1) The place made me feel at home but I had to go home.
- (2) After that I went to Lamongan.
- (3) Then I went to Sidoarjo.
- (4) I visited the famous Jatim Park.
- (5) It had become famous for its mud.
- (6) Last summer, I got a fantastic holiday.
- (7) Next time, I would return to see more of them.
- (8) I went to the airport and I flew to Surabaya.

- A. 6-8-3-5-2-4-1-7
- B. 8-6-3-4-5-1-7-2
- C. 3-8-6-5-2-7-1-4
- D. 3-6-8-4-5-2-7-1



# KUNCI JAWABAN

---



- |       |       |       |       |       |
|-------|-------|-------|-------|-------|
| 1. A  | 11. B | 21. A | 31. A | 41. B |
| 2. C  | 12. C | 22. D | 32. B | 42. B |
| 3. B  | 13. C | 23. A | 33. C | 43. C |
| 4. B  | 14. B | 24. B | 34. C | 44. B |
| 5. D  | 15. D | 25. A | 35. A | 45. C |
| 6. D  | 16. A | 26. C | 36. B | 46. D |
| 7. D  | 17. B | 27. B | 37. B | 47. A |
| 8. B  | 18. B | 28. C | 38. A | 48. A |
| 9. A  | 19. A | 29. C | 39. C | 49. B |
| 10. B | 20. C | 30. A | 40. C | 50. A |



# BAHASA INGGRIS

## Sekolah Menengah Pertama

The following text is for questions number 1 to 3.

Dear Amira,

I'm so happy to hear that you passed the English test! Remember, I promised you if you could pass it, I will give you a special gift.

If you want to know about your special gift, you can come to my house this Sunday!

Congratulations my dear!

Love,

Aunt Clara

4. What does this sign mean?



- A. You should not breathe here.
- B. You should wear the vapor respirator everywhere.
- C. You shouldn't be here.
- D. You should wear the vapor respirator in this area.

1. What was that letter about?

- A. Aunt Clara passed the English test because Amira give her a gift.
- B. Amira promised to give her aunt a gift.
- C. Aunt Clara promised Amira to give her a gift because she passed the test.
- D. Amira didn't pass the test and her aunt give her a gift to cheer her up.

2. What is the relationship between Amira and Clara?

- A. Best friends.
- B. Amira is Clara's sister.
- C. Amira is Clara' niece.
- D. Clara is Amira's daughter.

3. "...if you could pass it..."

The underlined word refers to ....

- A. the gift
- B. english test
- C. aunt Clara's house
- D. the promise

5. Arrange the following sentences into a good paragraph!

- (1) Lucky me, the man couldn't reach us, and we could go home safely.
- (2) And the day goes dark before we could reach our home, and there was a man behind us, chasing us, running. "Where are you going to go, boys? You better come with me to my house, two little boys should not be outside when it's dark." His face is so scary, me and my friend paddle our bike faster.
- (3) I was once told by my mother not to play outside if the day goes dark. "It's dangerous," she said.
- (4) I don't have any choice beside following him to the town.
- (5) "It's gonna be fun!" he said to me as he paddle his bike further.
- (6) But one day, my friend asked me to go with him to town. The town is pretty far from my house, but he insisted we would go home before it's dark

- (7) That was the unforgettable scene. I don't want to go outside again when it's dark.
- 3 - 6 - 5 - 4 - 2 - 1 - 7
  - 1 - 2 - 4 - 3 - 6 - 7 - 5
  - 5 - 1 - 3 - 2 - 4 - 7 - 6
  - 7 - 6 - 5 - 4 - 3 - 2 - 1

Read the following text to answer question number 6.

**FOOD ALLERGY WARNING  
OUR FOOD MAY CONTAIN SEAFOOD**

6. Where do we usually find the text?
- At the restaurant.
  - At the beach.
  - At the river bank.
  - At the hotel.

The following text is for questions 7 and 8.

Plane	Departure (Jakarta)	Arrival (Balikpapan)
Kanaya Air	07.30 pm	09.30 pm
Herodes Air	04.00 am	06.00 am
Dedi Jaya Air	10.45 pm	01.10 am
Amarta Air	03.00 pm	05.00 pm

7. Which plane travels the earliest from Jakarta?
- Kanaya Air
  - Herodes Air
  - Dedi Jaya Air
  - Amarta Air
8. From the text, we can conclude that ....
- three planes leave in the morning
  - Herodes Air leaves at early dawn
  - three planes arrives in the morning
  - Dedi Jaya air arrives in the afternoon

The following text is for questions 9 to 12.

Long, long time ago, there lived a beautiful girl named Cinderella. Because her parents passed away, she lived with her step mother and step sister. Cinderella was very sad everyday because she had to do the house work alone.

One day, the king wanted to find the wife for his son. He invited all the beautiful girls to come. Cinderella was very sad because her step sister did not let her go. Her sister went to the palace without Cinderella.

Luckily, The Angel came and helped Cinderella danced with the prince. He felt in love with her; then he married her. They lived happily ever after.

9. With whom did Cinderella lived?
- Her father.
  - Her mother.
  - Her mother and sister.
  - Her step mother and step sister.
10. Cinderella could go to the palace because of the help from ....
- her mother
  - her step mother
  - the Angel
  - the prince
11. What story is this?
- recount
  - narrative
  - procedure
  - report
12. The communicative purpose is to ....
- entertain the readers
  - give the report
  - retell
  - tell the procedure

The following text is for questions 13 to 17.

Last month, Rahmat and his friend went to Ancol. They went to Ancol to see the Sea World.

They went at 9 a.m. from their house by taxi. On the way, they bought Aqua and snacks at Indomaret.

In Ancol, first they went to the Sea World. There were many kind of fish they saw. They were sometimes afraid of seeing big fish. At 4 o'clock, they went home.

The trip was tiring, but Rahmat and his friend enjoyed the trip very much.

13. Where did Rahmat's friend go last month?
- To Rahmat's house.
  - To school.
  - To Ancol .
  - To Indomaret.

14. What place did they visit in Ancol?  
 A. Gelanggang Samudra  
 B. Istana Boneka  
 C. Dunia Fantasi  
 D. Sea World

15. What kind of story is this?  
 A. recount                      C. description  
 B. narrative                    D. procedure

16. The last paragraph is ....  
 A. event                      C. reorientation  
 B. orientation                D. procedure

17. The communicative purpose is to ....  
 A. entertain  
 B. retell someone's story  
 C. describe someone  
 D. tell the procedure

**The following text is for questions number 18 to 21.**

**How to Cook Rice**

I make rice for almost every day. First, I put some water in a pot and then I put the pot on the fire. When it becomes hot, I put rice in the pot that contains the water. After that, I cook the rice over a medium fire for about 15 minutes. Finally, the rice is ready, and I serve it to my guests.

18. What is the purpose of the text?  
 A. To use the pot.  
 B. To breathe.  
 C. To help mother.  
 D. To know how to cook rice.
19. How many steps are there to cook the rice?  
 A. 2                              C. 4  
 B. 3                              D. 5
20. What kind of text is it?  
 A. procedure                    C. descriptive  
 B. narrative                    D. recount
21. The organization of the text is ....  
 A. materials, aim, steps  
 B. steps, aim, materials  
 C. aim, materials, steps  
 D. aim, steps, materials

**The following text is for questions number 22 to 24.**

**Identification:**

I have a pet. It is a dog, and I call it brownie.

**Description:**

Brownie is a Chinese breed. It is small, fluffy, and cute. It has got thick brown fur. When I cuddle it, the fur feels soft. Brownie doesn't like bones.

22. What kinds of text is it?  
 A. descriptive                C. recount  
 B. narrative                    D. procedure
23. The communicative purpose is to ....  
 A. tell something specifically  
 B. tell something in general  
 C. retell story  
 D. entertain the readers
24. Brownie is fluffy. The synonym of the underlined word is ....  
 A. harsh                      C. small  
 B. big                          D. soft

**The following text is for questions number 25 to 27**

*General classification:*

The largest meat-eating animal in the world is the brown bear that lives in Alaska, America. Brownie will keep away from people, but when it is angry, the brown bear can outfight a tiger, so don't ever try to wound the mother of the cub.

*Description:*

A grown brownie may be up to 10 feet tall. It weighs about 800 kilograms. When it was born, it weighs only about half kilo. The paw is very sharp so that it can kill if it hurts us.

25. What kind of text is this?  
 A. narrative                    C. report  
 B. descriptive                D. recount
26. The child of the bear is called ....  
 A. a brown bear              C. a cub  
 B. a brownie                  D. a paw

27. The first paragraph is ....
- general classification
  - description
  - description and classification
  - narration
28. The communicative purpose is ....
- retell the story
  - tell the procedure
  - describe something specifically
  - describe something in general

30. What can we learn from the text?
- You should not be clumsy.
  - You should be kind to other.
  - You should kick your leftover meat.
  - You should shot the buffalo.
31. What is the meaning of clumsy?
- smart
  - sloppy
  - diligent
  - awkward

**The following text is for questions number 29 to 32**

### The Bear and Rabbit

Once upon a time, there lived a bear and a rabbit. The rabbit is a good shot. In contrary, the bear is always clumsy and could not use the arrow.

One day, the bear called over the rabbit and asked the rabbit to take his bow and arrows.

The rabbit was fearing to arouse the bear's anger so he could not refuse it. He went with the bear and shot enough buffalo to satisfy the hungry family. Indeed he shot and killed so many that were lots of meats left after.

However the bear did not want the rabbit to get any of the meat. The rabbit could not even taste the meat. The poor rabbit would have to go home hungry after his hard day's work.

The bear was the father of five children. Fortunately, the youngest child was very kind to the rabbit. He was very hearty eater. The mother bear always gave him an extra large piece of meat but the youngest child did not eat it. He would take it outside with him and pretended to play ball with the meat. He kicked toward the rabbit's house. When he got close to the door he would give the meat with such a great kick. The meat would fly into the rabbit's house. In this way, the poor rabbit would get his meal.

29. "... he could not refuse it."
- What does the underlined word means?
- Killed so many buffalo.
  - Bear's will to take the bows and arrows.
  - Taste the meat.
  - The rabbit is hungry.

32. Why is the bear angry?
- Because he find himself smarter than rabbit.
  - Because he could not shot the rabbit.
  - Because his son wouldn't eat the meat he gave him.
  - Because he find himself clumsier than the rabbit.

**The following text is for question number 33 to 36.**

### Visiting Bali

There were so many places to see in Bali that my friend decided to join the tours to see as much as possible. My friend stayed in Kuta on arrival. He spent the first three days swimming and surfing on Kuta beach. He visited some tour agents and selected two tours. The first one was to Singaraja, the second was to Ubud. On the day of the tour, he was ready.

My friend and his group drove on through mountains. Singaraja is a city of about 90 thousands people. It is a busy but quiet town. The street are lined with trees and there are many old Dutch houses. Then they returned very late in the evening to Kuta.

The second tour to Ubud was a very different tour. It was not to see the scenery but to see the art and the craft of the island. The first stop was at Batubulan, a center of stone sculpture. There my friend watched young boys were carving away at big blocks of stone. The next stop was Celuk, a cente for silversmiths and goldsmiths. After that he stopped a little while for lunch at Sukawati and on to mass. Mass is a tourist center My friend

ten-day-stay ended very quickly beside his two tour, all his day was spent on the beach. He went sailing or surfing every day. He was quiet satisfied.

Read more: <http://freejustforu.blogspot.com/2014/02/pelajaran-bahasa-inggris-smp-monologue.html#ixzz3UiqfTXql>

33. What is the main idea of the paragraph above?
- A. Visiting a lot of places in Bali.
  - B. Playing in Ubud.
  - C. Surfboarding in Bali.
  - D. A stone sculpture in Batubulan.
34. Where does the writer's friend stayed at first?
- A. Kuta
  - B. Sukawati
  - C. Ubud
  - D. Batubulan
35. Where is the first stop of the second tour?
- A. Ubud
  - B. Batubulan
  - C. Celuk
  - D. Sukawato
36. How did the writer's friend feel after visiting Bali?
- A. not satisfied
  - B. happy
  - C. sad
  - D. disappointed

**The following text is for questions number 37 and 38.**

To: All my beloved friends and family

Please, come to my 9<sup>th</sup> birthday! And don't forget to bring your sincere present and don't forget to pray for God.

Place : McDonild

Attire : Casual Attire

Time : 09.00 p.m – 12.00 p.m

Date : 1<sup>st</sup> January 2013

Games : Clown, piñata, hides and seeks, egg bounce, and many more

I'm waiting for your coming! Come before 09.00 pm and wear your casual attire!

My sincere greeting,

Minnie

37. Where will Minnie's party be held?
- A. At Minnie's house
  - B. At McDonild
  - C. At the street
  - D. At the mall

38. What the "casual attire" means?
- A. clothes like tuxedo, dress
  - B. swimming suits
  - C. t-shirt, shorts, jeans
  - D. shirt, trousers, blazer

**The following text is for questions number 39 to 42.**

A lamb was grazing with a flock of sheep one day. She soon found some sweet grass at the edge of the field. Farther and farther she went, away from the others.

She was enjoying herself so much that she did not notice a wolf coming nearer to her. However, when it pounced on her, she was quick to start pleading, "Please, please don't eat me yet. My stomach is full of grass. If you wait a while, I will taste much better."

The wolf thought that was a good idea, so he sat down and waited.

After a while, the lamb said, "If you allow me to dance, the grass in my stomach will be digested faster." Again the wolf agreed. While the lamb was dancing, she had a new idea. She said, "Please take the bell from around my neck. If you ring it as hard as you can, I will be able to dance even faster."

The wolf took the bell and rang it as hard as he could. The shepherd heard the bell ringing and quickly sent his dogs to find the missing lamb. The barking dogs frightened the wolf away and saved the lamb's life.

39. Why didn't the wolf eat the lamb straight away?
- A. Because the wolf is not really hungry.
  - B. Because the lamb is too skinny.
  - C. Because the lamb told the wolf to wait.
  - D. because the wolf is tired.
40. Why did the lamb getting far away from the flock of sheep?
- A. Because the lamb want to play.
  - B. Because the lamb is being called by the wolf.
  - C. Because the lamb found some sweet grass.
  - D. Because the lamb lost.

41. Who saved the lamb from the wolf?

- A. The shepherd's dog
- B. The flock of sheep
- C. The shepherd
- D. Another lamb

42. What can we learn from the story?
- A. Don't be afraid of wolf.
  - B. Be smart and creative.
  - C. Don't eat some sweet grass.
  - D. Don't be afraid of dog.

**The following text is for questions number 43 to 45.**

A selfish fox once invited a stork to dinner at his home in a hollow tree. That evening, the stork flew to the fox's home and knocked on the door with her long beak. The fox opened the door and said, "Please come in and share my food."

The stork was invited to sit down at the table. She was very hungry and the food smelled delicious!

The fox served soup in shallow bowls and he licked up all his soup very quickly. However, the stork could not have any of it as the bowl was too shallow for her long beak. The poor stork just smiled politely and stayed hungry.

The selfish fox asked, "Stork, why haven't you taken your soup? Don't you like it?" The stork replied, "It was very kind of you to invite me for dinner. Tomorrow evening, please join me for dinner at my home."

The next day, when the fox arrived at the stork's home, he saw that they were also having soup for dinner. This time the soup was served in tall jugs. The stork drank the soup easily but the fox could not reach inside the tall jug. This time it was his turn to go hungry.

43. What can we learn from this text?
- A. A selfish act can backfire you.
  - B. It's good to share dinner with friends.
  - C. Don't eat dinner with a friend.
  - D. Don't befriend with a fox.
44. Why don't the stork eat the dinner?
- A. Because it's not hungry.
  - B. Because it doesn't like the fox.
  - C. Because the stork is polite.
  - D. Because the bowl is too shallow.

45. Why the fox is getting hungry eventually?
- A. Because of the stork's revenge.
  - B. Because the fox haven't eaten for days.
  - C. Because the fox doesn't like the food.
  - D. Because the fox is not hungry.

**The following text is for questions number 46 to 48**

Dear Mirjana,

I've been in Jakarta for two weeks and I love it, though it's so hot in here and the traffic jam is everywhere. You should come here and see it by yourself!

I went to Monas and I was stunned by the building, do you know Monas? The tall building with the golden chunk on top. I went to the top of the building by elevator. It wasn't too crowd, maybe because it's not a holiday season, that's why I feel comfortable wandering around the building.

And then I went to Planetarium. Mirjana, you will love it! Why? Because it is so beautiful, as if you're seeing the real space. And I bought you some souvenirs.

Then I went to Ancol, and I played in Dufan. I went to Dufan with uncle Ben but he was too old to play around so he was just sitting, waiting for me. You should see uncle Ben's face when I forced him to ride halilintar. It was so hilarious.

Mirjana, please come here soon. I've been missing you so much.

Oh, and Aunt Carrie says hi!

Love,  
Shei

46. Where was the first place Shei went?
- A. She went to Ancol.
  - B. She went to Monas.
  - C. She went to Planetarium.
  - D. She went to uncle Ben's house.
47. Why would Shei thought Mirjana will love Planetarium?
- A. Because the planetarium is so beautiful.
  - B. Because Mirjana doesn't like spaces.
  - C. Because Shei bought a souvenirs.
  - D. Because Shei loves it.

48. Why did uncle Ben sitting and waiting for Shei in Dufan?
- A. Because uncle Ben is afraid.
  - B. Because uncle Ben is too old.
  - C. Because Shei misses Mirjana.
  - D. Because uncle Ben doesn't like playing.
49. What is the meaning of "mashed"?
- A. cut
  - B. chopped
  - C. marinated
  - D. softened

**The following text is for questions number 49 and 50.**

**How to make banana pancake**

- (1) Mix flour, sugar, and salt in a bowl.
- (2) Add an egg.
- (3) Add a glass of oatmeal.
- (4) Add a mashed bananas.
- (5) Mix it evenly in the bowl.
- (6) Put it in teflon in a small fire.
- (7) Repeat this step until your pancake dough ran out.
- (8) Serve with your favorite ice cream.


50. What is the next step after adding a banana?
- A. Mix it evenly in the bowl.
  - B. Add an egg.
  - C. Put in teflon.
  - D. Serve.

# KUNCI JAWABAN

---



- |       |       |       |       |       |
|-------|-------|-------|-------|-------|
| 1. C  | 11. B | 21. C | 31. B | 41. A |
| 2. C  | 12. A | 22. A | 32. D | 42. B |
| 3. B  | 13. C | 23. A | 33. A | 43. A |
| 4. D  | 14. D | 24. D | 34. A | 44. D |
| 5. A  | 15. A | 25. C | 35. B | 45. A |
| 6. A  | 16. C | 26. C | 36. B | 46. B |
| 7. B  | 17. B | 27. A | 37. B | 47. A |
| 8. B  | 18. D | 28. D | 38. C | 48. B |
| 9. D  | 19. D | 29. B | 39. C | 49. D |
| 10. C | 20. A | 30. B | 40. C | 50. A |



# ILMU PENGETAHUAN ALAM

## Sekolah Menengah Pertama

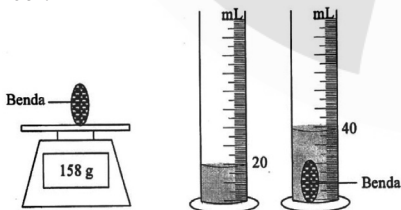
1. Perhatikan tabel berikut!

No.	Besaran	Satuan	Alat Ukur
(1)	Massa	gram	neraca
(2)	Suhu	kelvin	termometer
(3)	Waktu	sekon	stopwatch
(4)	Panjang	meter	speedometer

Besaran pokok, satuan dalam Sistem Internasional (SI), dan alat ukur yang sesuai ditunjukkan oleh nomor ....

- A. (1) dan (2)                      C. (2) dan (3)  
B. (1) dan (3)                      D. (3) dan (4)

2. Seorang siswa melakukan percobaan untuk menentukan jenis benda yang ditemukannya. Siswa tersebut mengukur massa dan volume dengan menggunakan alat seperti pada gambar.



Benda	Massa jenis ( $\text{kg/m}^3$ )
Aluminium	2.700
Besi	7.900
Tembaga	8.400
Perak	10.500

Berdasarkan hasil pengukuran massa dan volume benda, maka jenis benda tersebut sesuai tabel massa jenis di atas adalah ....

- A. aluminium                      C. tembaga  
B. besi                                D. perak

3. Perhatikan gambar!



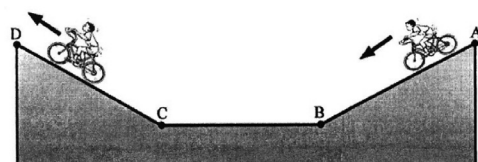
Tutup botol dari logam yang terlalu rapat dapat dibuka dengan mudah jika disiram dengan air panas. Hal ini dapat terjadi karena koefisien muai tutup botol ....

- A. lebih besar daripada koefisien muai tutup botol kaca  
B. lebih kecil daripada koefisien muai mulut botol kaca  
C. lebih besar daripada koefisien muai udara di dalam botol  
D. lebih kecil daripada koefisien muai udara di dalam botol

4. Aluminium bermassa 2 kg dengan suhu  $20^\circ\text{C}$  menerima kalor sebesar 180 kJ. Jika kalor jenis aluminium =  $900 \text{ J/kg}^\circ\text{C}$ , suhu akhir aluminium adalah ....

- A.  $70^\circ\text{C}$                               C.  $100^\circ\text{C}$   
B.  $80^\circ\text{C}$                               D.  $120^\circ\text{C}$

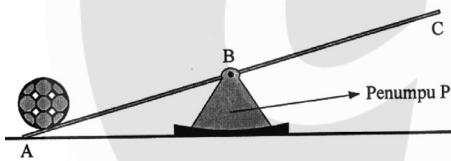
5. Seorang anak meluncur maju di jalan seperti pada gambar berikut tanpa mengayuh pedal sepedanya.



Jenis gerak lurus berubah beraturan (GLBB) yang terjadi pada sepeda ketika melalui lintasan ....

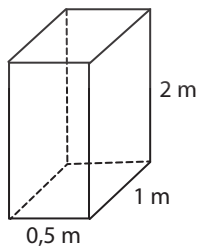
	A - B	C - D
A.	GLBB dipercepat	GLBB dipercepat
B.	GLBB diperlambat	GLBB dipercepat
C.	GLBB diperlambat	GLBB diperlambat
D.	GLBB dipercepat	GLBB diperlambat

6. Seorang pemain bola menendang bola bermassa 200 g dengan kecepatan 20 m/s, maka energi kinetik bola tersebut adalah ....
- A. 25 Joule                      C. 50 Joule  
B. 40 Joule                      D. 400 Joule
7. Perhatikan tuas seperti pada gambar berikut!



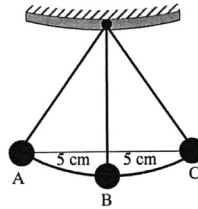
Penumpu P dapat digeser-geser sepanjang papan AC. Kuasa mempunyai nilai terbesar jika penumpu diletakkan ....

- A. tepat di titik B  
B. antara A dan B  
C. mendekati A  
D. mendekati C
8. Sebuah balok bermassa 24 kg berukuran seperti pada gambar ( $g = 10 \text{ m/s}^2$ ) diletakkan di atas tanah. Berapakah tekanan balok terhadap tanah?



- A.  $960 \text{ N/m}^2$                       C.  $360 \text{ N/m}^2$   
B.  $480 \text{ N/m}^2$                       D.  $240 \text{ N/m}^2$

9. Perhatikan gambar!

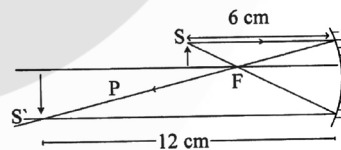


Bandul berayun dari A ke C dalam waktu 0,2 sekon. Frekuensi dan amplitudo ayunan bandul adalah ....

- A. 2,5 Hz dan 10 cm                      C. 0,4 Hz dan 10 cm  
B. 2,5 Hz dan 5 cm                      D. 0,4 Hz dan 5 cm

10. Jika seorang astronot memukul gendang di bulan, ia tidak dapat mendengar suara tersebut karena ....
- A. gravitasi di bulan sangat kecil  
B. di bulan tidak ada suara sebagai perantara bunyi  
C. angkasa luar terlalu luas, tidak ada pemantul bunyi  
D. suhu sangat dingin, gelombang bunyi membeku

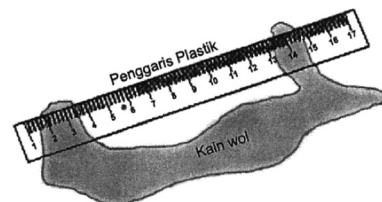
11. Gambar berikut menunjukkan pembentukan bayangan jika benda diletakkan 6 cm di depan cermin cekung.



Jika benda kemudian digeser dari posisi semula 1 cm menjauh dari cermin, jarak bayangan dari cermin adalah ....

- A. 2,5 cm                      C. 7,0 cm  
B. 4,0 cm                      D. 9,3 cm

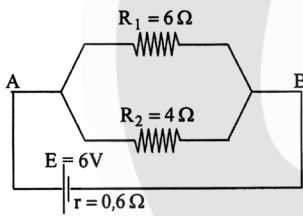
12. Perhatikan gambar penggaris plastik digosok dengan kain wol berikut!



Setelah penggaris digosok dengan kain wol, aliran elektron dan muatan yang terjadi pada penggaris adalah ....

	Aliran elektron	Penggaris plastik bermuatan
A.	dari penggaris plastik ke wol	(-)
B.	dari penggaris plastik ke wol	(+)
C.	dari wol ke penggaris plastik	(+)
D.	dari wol ke penggaris plastik	(-)

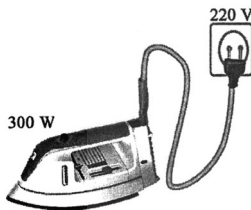
13. Perhatikan gambar rangkaian tertutup di bawah ini!



Besar kuat arus listrik total dalam rangkaian tersebut adalah ....

- A. 0,5 A                      C. 1,2 A  
B. 0,6 A                      D. 2,0 A

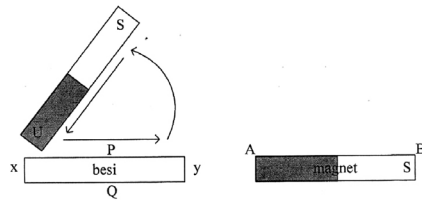
14. Perhatikan gambar alat listrik berikut!



Daya listrik alat yang tertulis pada gambar dan alat dipakai selama 30 menit, maka besar energi listrik yang digunakan adalah ....

- A. 396 kilojoule            C. 600 kilojoule  
B. 540 kilojoule            D. 900 kilojoule

15. Gambar berikut menunjukkan salah satu cara pembuatan magnet.

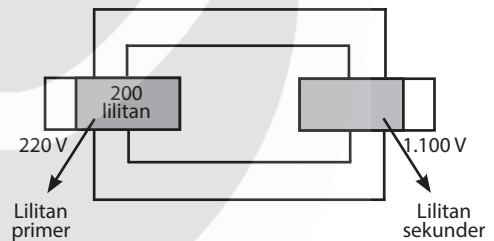


Setelah batang besi x y menjadi magnet, kemudian didekatkan dengan magnet batang AB.

Kutub x-y dan sifat magnetnya adalah ....

- A. x menjadi kutub selatan dan tolak menolak dengan B  
B. y menjadi kutub selatan dan tarik menarik dengan A  
C. x menjadi kutub utara dan tarik menarik dengan A  
D. y menjadi kutub utara dan tarik menarik dengan B

16. Perhatikan gambar trafo berikut!



Jumlah lilitan sekunder trafo tersebut adalah ....

- A. 550 lilitan                      C. 2.000 lilitan  
B. 1.000 lilitan                      D. 10.000 lilitan

17. Salah satu dampak negatif menipisnya lapisan ozon bagi kesehatan adalah ....

- A. terjadi wabah virus flu burung  
B. meningkatnya kasus kanker kulit  
C. meningkatnya penderita rakhtisis  
D. bertambahnya jumlah penderita malaria

18. Di antara zat berikut yang merupakan molekul senyawa adalah ....

- A. HCl                                  C. N<sub>2</sub>  
B. O<sub>3</sub>                                  D. Br<sub>2</sub>

19. Diketahui sifat-sifat zat dari hasil pengamatan beberapa zat:

- (1) Mudah dialiri listrik
- (2) Mempunyai kelenturan yang tinggi
- (3) Mudah berkarat
- (4) Mudah membusuk

Berdasarkan pernyataan di atas, yang termasuk sifat kimia adalah pasangan nomor ....

- A. (1) dan (2)
- B. (1) dan (3)
- C. (2) dan (3)
- D. (3) dan (4)

20. Data dari hasil percobaan:

- (1) kayu terbakar menjadi arang
- (2) sayur menjadi basi
- (3) air laut menjadi asin
- (4) besi berkarat

Perubahan kimia ditunjukkan oleh kelompok nomor ....

- A. 1, 2, dan 3
- B. 1, 2, dan 4
- C. 1, 3, dan 4
- D. 2, 3, dan 4

21. Pada kemasan minuman komposisinya terdiri atas asam sitrat, natrium siklamat, fruit punch, flavor, tartrazin, aspartam, dan natrium benzoat. Dari komposisi tersebut yang termasuk pengawet adalah ....

- A. asam sitrat dan natrium benzoat
- B. natrium benzoat dan aspartam
- C. aspartam dan natrium siklamat
- D. aspartam dan tartrazin

22. Dampak negatif dari penggunaan zat penenang (sedativa-hipnotika) mempunyai gejala awal ....

- A. nafsu makan bertambah
- B. denyut nadi menjadi teratur
- C. bicara dan tindakannya cepat
- D. daya pikir menurun

23. Perhatikan bagian yang ditunjuk tanda panah pada gambar berikut.



Salah satu ciri makhluk hidup yang ditunjukkan adalah ....

- A. peka terhadap rangsang
- B. memerlukan makan
- C. tumbuh dan berkembang
- D. berkembang biak

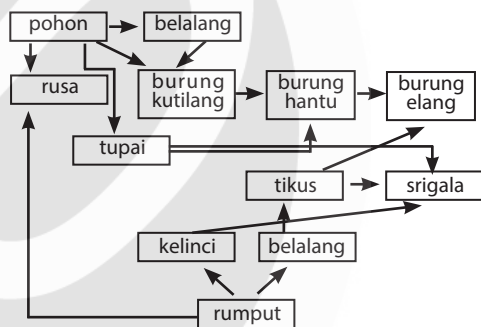
24. Perhatikan ciri-ciri tumbuhan berikut!

- (1) Bertulang daun sejajar
- (2) Bunga diserbuk oleh angin
- (3) Akarnya serabut

Berdasarkan ciri di atas, tumbuhan tersebut termasuk dalam kelompok ....

- A. dikotil
- B. monokotil
- C. lumut
- D. paku-pakuan

25. Perhatikan jaring-jaring makanan pada ekosistem hutan berikut!



Apabila populasi burung kutilang menurun akibat diburu, populasi yang meningkat adalah ....

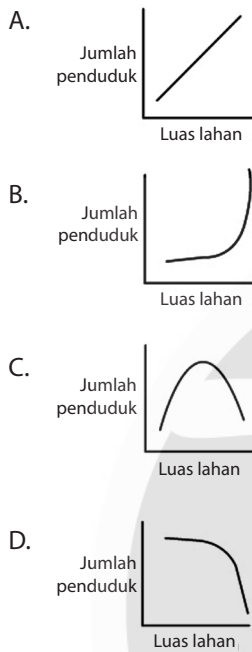
- A. burung elang
- B. tupai
- C. burung hantu
- D. belalang

26. Penggunaan pestisida dalam bidang pertanian jika tidak terkendali dapat mencemari lingkungan. Salah satu usaha untuk mencegah pencemaran tersebut adalah ....

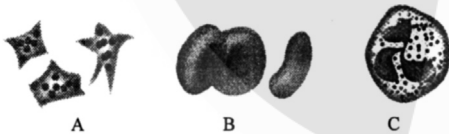
- A. melarang penggunaan pestisida
- B. membuat pestisida jenis baru
- C. mengganti pestisida dengan musuh alami
- D. menambah dosis dalam jangka waktu tertentu

27. Negara X merupakan negara agraris. Mata pencaharian utama penduduknya adalah bertani. Dalam beberapa tahun terakhir disadari bahwa pertumbuhan penduduk negara ini bertambah dengan pesat. Manakah

di antara grafik berikut yang menunjukkan hubungan antara jumlah penduduk dan luas lahan?



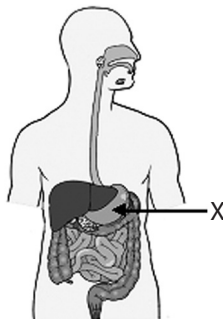
28. Sel darah memiliki bentuk dan fungsi yang berbeda-beda. Berikut adalah gambar tiga jenis sel darah.



Fungsi sel darah pada gambar A adalah ....

- A. membunuh kuman penyakit yang masuk ke dalam tubuh
- B. menjaga keseimbangan suhu tubuh
- C. mengangkut oksigen dari sari makanan ke dalam tubuh
- D. membantu proses pembekuan darah

29. Perhatikan gambar sistem pencernaan berikut!



Enzim yang dihasilkan organ X berfungsi untuk ....

- A. menetralkan suasana asam pada makanan
- B. mengubah lemak menjadi asam lemak
- C. membunuh kuman penyakit
- D. menguraikan molekul protein menjadi pepton

30. Di rongga hidung terdapat selaput lendir yang membantu proses ....

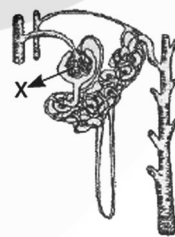
- A. pengambilan udara pernafasan
- B. penyaringan udara dari debu-debu
- C. pengeluaran udara pernafasan
- D. mendorong udara yang keluar

31. Persendian pada gambar memungkinkan adanya gerakan ....



- A. berputar
- B. satu arah
- C. segala arah
- D. dua arah

32. Perhatikan gambar bagian ginjal berikut!



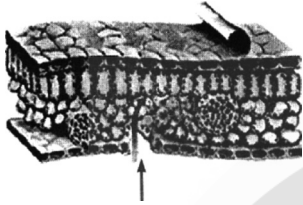
Proses yang terjadi pada bagian X adalah ....

- A. penambahan zat sisa
- B. penyaluran urine ke rongga ginjal
- C. penyerapan kembali zat yang tidak berguna
- D. penyaringan darah

33. Otak sebagai bagian dari sistem saraf pusat terdiri atas otak besar, otak kecil, dan otak tengah. Fungsi otak besar adalah pusat pengaturan ....

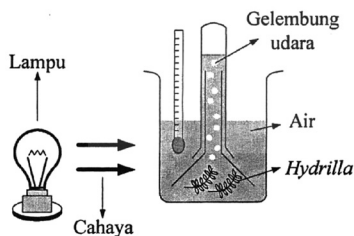
- A. semua kegiatan sadar
- B. gerakan refleks
- C. keseimbangan serta posisi tubuh
- D. tekanan, detak jantung, pernafasan

34. Perhatikan penampang daun berikut!



Bagian yang ditunjuk oleh tanda panah berfungsi untuk ....

- A. mencegah daun dari kehilangan air dan cahaya terlalu banyak
  - B. melindungi kloroplas agar proses pembuatan makanan berlangsung dengan baik
  - C. melancarkan keluar masuknya baik oksigen maupun karbon dioksida
  - D. tempat sel penunjang untuk melancarkan proses membuka menutup stomata
35. Respons tumbuhan lamtoro atau petai cina jika lingkungan berubah menjadi gelap adalah ....
- A. menutup daunnya
  - B. bunganya mekar
  - C. membuka lebar daunnya
  - D. memecahkan kulit bijinya
36. Percobaan pada gambar bertujuan untuk membuktikan bahwa fotosintesis menghasilkan ....



- A. uap air
- B. oksigen
- C. karbon dioksida
- D. zat hijau daun

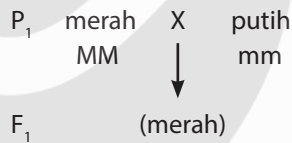
37. Dua pot tanaman cabai diletakkan di tempat yang berbeda. Pot tanaman 1 diletakkan di tempat terang dan pot tanaman 2 di tempat gelap. Tanaman cabai 1 tumbuh lebih pendek dari tanaman cabai 2. Faktor luar yang mempengaruhi pertumbuhan tanaman tersebut adalah ....

- A. gen
- B. cahaya
- C. hormon
- D. suhu

38. Cara adaptasi elang untuk memenuhi kebutuhan makanannya berupa daging dari hewan mangsa adalah ....

- A. memiliki sayap lebar dan kuat
- B. mampu terbang dengan ketinggian tertentu
- C. mempunyai paruh dan cakar yang kuat dan tajam
- D. memiliki mata yang mampu melihat jauh

39. Perhatikan bagan berikut!



Bila  $F_1$  disilangkan dengan sesamanya, perbandingan fenotip pada  $F_2$  adalah ....

- A. merah : merah muda : putih = 1 : 2 : 1
  - B. merah : putih : merah muda = 2 : 1 : 1
  - C. merah : putih = 3 : 1
  - D. merah : putih = 1 : 1
40. Bakteri yang berperan dalam pembuatan nata de coco adalah ....
- A. *Rhizopus* sp.
  - B. *Lactobacillus* sp.
  - C. *Acetobacter xylinum*
  - D. *Saccharomyces cerevisiae*

# KUNCI JAWABAN

---



1. C    11. D    21. A    31. B
2. B    12. D    22. D    32. D
3. A    13. D    23. C    33. A
4. D    14. B    24. B    34. C
5. D    15. B    25. D    35. A
6. B    16. B    26. C    36. B
7. D    17. B    27. B    37. B
8. B    18. A    28. D    38. C
9. B    19. D    29. B    39. C
10. B    20. B    30. B    40. C



# ILMU PENGETAHUAN ALAM

## Sekolah Menengah Pertama

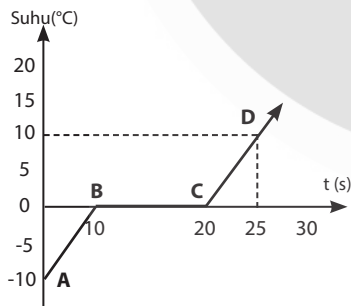
1. Perhatikan tabel di bawah!

No.	Besaran	Satuan
1	Volume	m <sup>3</sup>
2	Gaya	newton
3	Jumlah zat	mol
4	Massa Jenis	gram/cm <sup>3</sup>
5	Usaha	joule

Kelompok besaran turunan beserta satuannya menurut Sistem International (SI) ditunjukkan oleh nomor ....

- A. (1), (2), dan (4)      C. (2), (3), dan (4)  
B. (1), (2), dan (5)      D. (3), (4), dan (5)

2. Perhatikan grafik berikut!



Berdasarkan grafik di atas, banyaknya kalor yang dibutuhkan 3 kg es dalam proses dari A-B-C adalah .... (kalor jenis es = 2.100 J/kg °C, kalor lebur es = 330.000 J/kg)

- A. 630 kJ      C. 1.071 kJ  
B. 819 kJ      D. 3.276 kJ

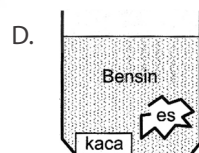
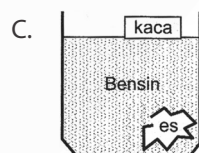
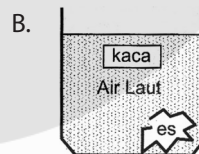
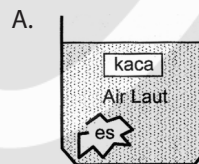
3. Suhu maksimum suatu daerah 68 °F. Jika suhu diukur dengan termometer Celcius, maka besar suhunya adalah ....

- A. 20 °C      C. 95 °C  
B. 86,5 °C      D. 117 °C

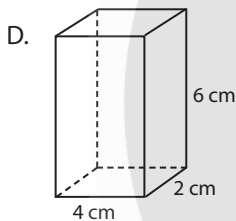
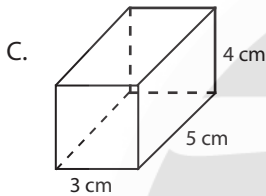
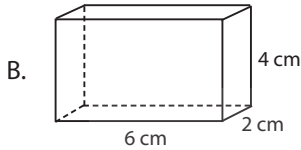
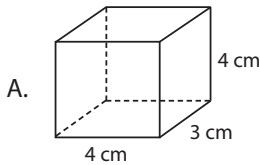
4. Perhatikan tabel beberapa zat berikut!

No.	Material	Massa Jenis (g/cm <sup>3</sup> )
1	Kaca	2,6
2	Air laut	1,15
3	Bensin	0,7
4	Es	0,9

Posisi yang benar jika zat padat dimasukkan ke dalam zat cair ditunjukkan oleh gambar ....



5. Jika balok-balok pada gambar mempunyai massa yang sama, maka balok yang memberikan tekanan paling besar terhadap lantai adalah ....



6. Sebuah benda beratnya 3.000 N akan dipindahkan ke suatu tempat yang memiliki ketinggian seperti pada gambar.



Berapagayang diperlukan untuk menaikkan benda tersebut sampai puncak?

- A. 500 N                      C. 3.000 N  
B. 1.000 N                  D. 9.000 N
7. Perhatikan gambar berikut!

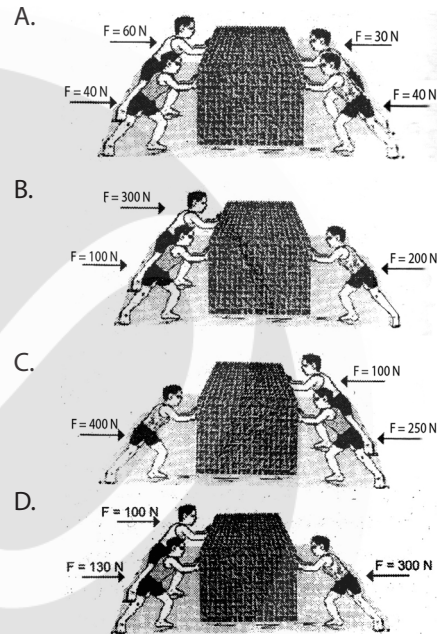


Kedua mobil melaju dengan di atas jalan raya dengan kecepatan mobil 1 = 20 m/s dan mobil 2 = 30 m/s. Massa mobil 1 = 300

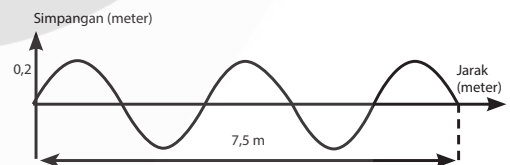
kg, massa mobil 2 = 200 kg. Perbandingan energi kinetik mobil 1 dan mobil 2 adalah ....

- A. 1 : 1                      C. 3 : 2  
B. 2 : 3                      D. 4 : 3

8. Sebuah peti didorong oleh beberapa orang seperti pada gambar. Peti yang memperoleh percepatan terbesar adalah ....



9. Perhatikan gelombang transversal yang terjadi pada tali seperti pada gambar berikut!



Jika gelombang merambat dengan kecepatan 30 m/s, frekuensi gelombang tersebut adalah ....

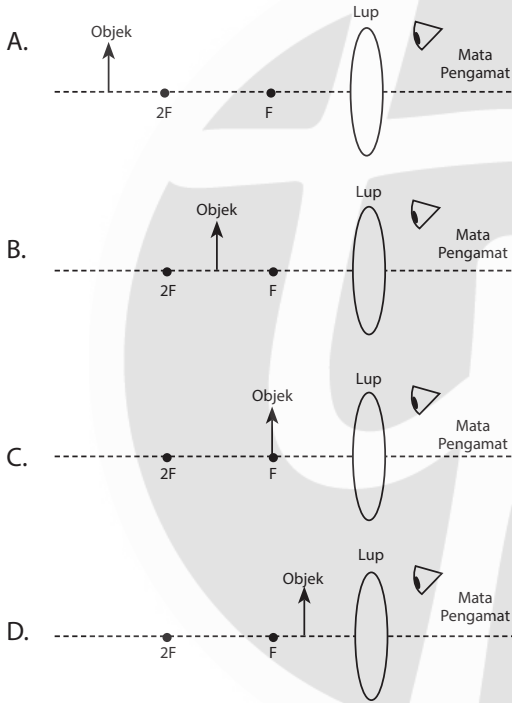
- A. 150 Hz                      C. 25 Hz  
B. 90 Hz                      D. 10 Hz

10. Di suatu lembah yang dalam di bumi, teriakan akan terdengar bergema karena bunyi dipantulkan kembali dari gunung-gunung yang mengelilinginya. Di lembah yang sama di bulan tidak akan terdengar gema karena ....

- A. gaya tarik gravitasi di bulan lebih kecil daripada di bumi

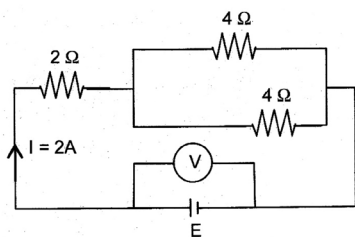
- B. suhu di bulan lebih rendah daripada di bumi
- C. di bulan tidak ada udara sebagai perantara bunyi untuk merambat
- D. gunung-gunung di bulan tidak dapat memantulkan bunyi

11. Apabila kita mengamati objek menggunakan lup dengan mata berakomodasi maksimum, maka posisi objek yang benar adalah ....



12. Sebuah kios tukang patri terdapat 2 lampu 20 watt, menyala 10 jam per hari, sebuah solder 220 watt digunakan rata-rata 5 jam per hari, dan sebuah TV 40 watt menyala selama 6 jam per hari. Berapa besar energi listrik yang digunakan selama satu bulan (30 hari)?  
 A. 104,40 kWh      C. 33,00 kWh  
 B. 52,20 kWh      D. 26,10 kWh

13. Perhatikan gambar rangkaian tertutup berikut!



Bila hambatan dalam sumber tegangan E diabaikan, maka besar tegangan adalah ....  
 A. 4 volt      C. 10 volt  
 B. 8 volt      D. 32 volt

14. Perhatikan gambar lima buah bola bermuatan listrik berikut!



Bola B dan E bermuatan listrik negatif (-). Ketika bola A didekatkan E terjadi tolak-menolak, A didekatkan dengan A tarik-menarik, dan C didekatkan dengan E tarik-menarik. Maka dapat disimpulkan bahwa muatan bola ....  
 A. A = negatif (-), C dan D = positif (+)  
 B. A = positif (+), C dan D = negatif (-)  
 C. A dan C negatif (-), D = positif (+)  
 D. A dan D = negatif (-), D = negatif (-)

15. Perhatikan pernyataan-pernyataan berikut!  
 (1) Merupakan planet luar  
 (2) Memiliki cincin di sekelilingnya  
 (3) Planet terbesar dalam tata surya  
 (4) Memiliki dua satelit, yaitu Deimos dan Phobos

Dari pernyataan diatas, yang termasuk ciri-ciri planet Saturnus adalah ....  
 A. (1) dan (2)      C. (2) dan (3)  
 B. (1) dan (4)      D. (3) dan (4)

16. Perhatikan tabel data dari dua transformator berikut!


	$N_p$	$N_s$	$V_p$	$V_s$
Transformator P	5.000 lilitan	2.500 lilitan	100 V	50 V
Transformator Q	250 lilitan	4.500 lilitan	50 V	150 V

Berdasarkan data diatas dapat disimpulkan bahwa ....

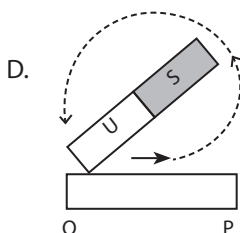
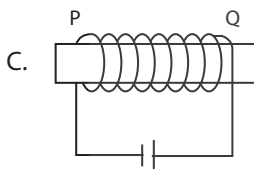
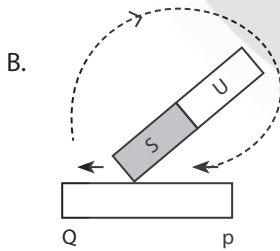
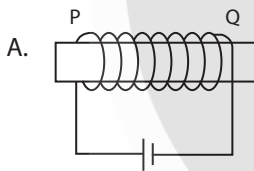
	Transformator P	Transformator Q
A.	Step up karena $N_p > N_s$	Step down karena $V_p < V_s$

B.	Step up karena $N_p > N_s$	Step up karena $N_p > N_s$
C.	Step down karena $V_p < V_s$	Step up karena $N_p > N_s$
D.	Step down karena $V_p < V_s$	Step down karena $N_p < N_s$

17. Perhatikan gambar!



Batang besi AB merupakan magnet yang dihasilkan akibat disentuh oleh batang baja PQ seperti tampak pada gambar, sedangkan batang baja PQ merupakan hasil pembuatan magnet. Jika ujung batang besi A menjadi kutub utara, dan ujung batang B menjadi kutub selatan, gambar pembuatan magnet batang baja PQ yang benar adalah ....



18. Perhatikan tabel berikut!

Zat	Lakmus	
	Merah	Biru
P	biru	biru
Q	merah	biru
R	biru	biru
S	merah	merah

Berdasarkan tabel di atas, zat yang bersifat asam adalah ....

- A. P                                      C. R  
B. Q                                      D. S

19. Perhatikan pernyataan berikut!

- Batang besi yang dipanaskan mengalami peleburan
- Air yang dipanaskan akan menguap
- Alumunium dibentuk menjadi panci dan teko
- Besi mengalami karat

Pernyataan yang tergolong perubahan kimia adalah ....

- A. (1)                                      C. (3)  
B. (2)                                      D. (4)

20. Diantara gas berikut, yang dapat menyebabkan karat pada kaleng adalah ....

- A. hidrogen                              C. nitrogen  
B. oksigen                                D. helium

21. Perhatikan tabel berikut!

No.	Rumus Kimia
1.	$\text{CO}_2$
2.	$\text{N}_2$
3.	$\text{H}_2\text{O}$
4.	Fe

Yang tergolong molekul unsur adalah ....

- A. (1)                                      C. (3)  
B. (2)                                      D. (4)

22. Agar terhindar dari dampak negatif penggunaan psikotropika kita harus menjauhi dan tidak mencoba untuk mengonsumsi zat yang mengandung ....

- A. nikotin
- B. alkohol
- C. kokain
- D. sakarin

23. Perhatikan tabel berikut!

No.	Bahan Pewarna
1.	Karamel
2.	Tartrazine
3.	Kunyit
4.	Indigo carmine

Zat yang termasuk pasangan bahan pewarna sintetis adalah ....

- A. (1) dan (2)
- B. (1) dan (3)
- C. (2) dan (4)
- D. (3) dan (4)

24. Perhatikan gambar di bawah ini!



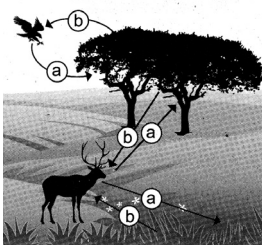
Organisme di atas termasuk kelompok insekta adalah ....

- A. 1 dan 2
- B. 1 dan 4
- C. 2 dan 4
- D. 3 dan 4

25. Manakah di antara kegiatan berikut yang menunjukkan ciri makhluk hidup?

- A. Burung bertengger di dahan.
- B. Manusia mencerna makanan menggunakan enzim.
- C. Ganggang di laut bergerak mengikuti gerakan ombak.
- D. Pohon mangga tumbuh tinggi dan besar.

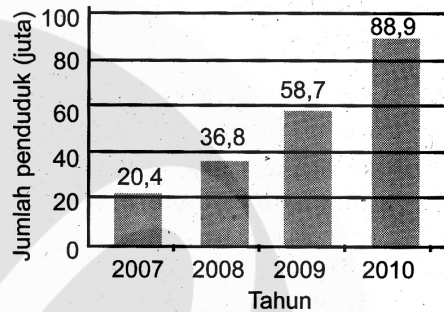
26. Diagram berikut menunjukkan contoh saling ketergantungan antarorganisme. Pada siang hari organisme-organisme tersebut menghirup dan mengeluarkan (a) atau (b) seperti yang ditunjukkan oleh tanda panah.



Manakah di antara pernyataan berikut yang benar?

- A. (a) karbon dioksida dan (b) nitrogen
- B. (a) oksigen dan (b) karbon dioksida
- C. (a) karbon dioksida dan (b) uap air
- D. (a) karbondioksida dan (b) oksigen

27. Perhatikan grafik pertumbuhan penduduk berikut!



Apabila kecenderungan jumlah penduduk terus meningkat, kemungkinan dampaknya terhadap kualitas lingkungan di daerah tersebut adalah ....

- A. menurunnya kualitas air bersih
- B. menurunnya kadar CO<sub>2</sub> di udara
- C. meningkatnya kadar O<sub>2</sub> di udara
- D. menurunnya tingkat pencemaran air

28. Perhatikan gambar kondisi lingkungan di bawah ini!



kegilaanku.wordpress.com

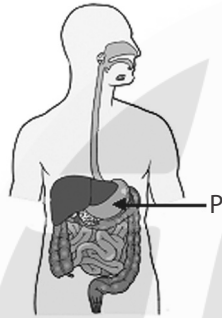
Upaya yang tepat untuk menghindari keadaan lingkungan seperti itu adalah ....

- A. membakar sampah di pekarangan rumah
- B. menimbun sampah organik dalam tanah
- C. melakukan kegiatan *reuse*, *recycle*, dan *reduce*
- D. membuang sampah organik ke sungai

29. Aliran darah pada sistem peredaran darah besar adalah ....

- A. jantung – seluruh tubuh – paru-paru
- B. jantung – seluruh tubuh – jantung
- C. jantung – paru-paru – jantung
- D. jantung – paru-paru – seluruh tubuh

30. Berdasarkan gambar, proses pencernaan yang terjadi di organ P adalah ....



- A. pengubahan protein menjadi pepton
- B. pengubahan amilum menjadi glukosa
- C. mengubah lemak menjadi asam lemak
- D. pengaktifkan provitamin menjadi vitamin

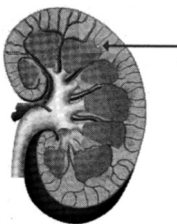
31. Penyakit asma disebabkan oleh penyempitan dan peradangan pada ....

- A. paru-paru
- B. tenggorokan
- C. gelembung paru-paru
- D. saluran pernapasan

32. Contoh gerakan yang disebabkan oleh jenis otot ekstensi adalah ....

- A. meluruskan lutut
- B. mengunyah makanan
- C. menekukkan siku
- D. menengadahkan telapak tangan

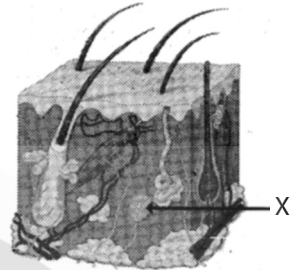
33. Pada penampang melintang ginjal berikut ini, bagian X berfungsi untuk ....



- A. filtrasi darah
- B. menampung urine

- C. augmentasi urin primer
- D. reabsorpsi urin sesungguhnya


34. Perhatikan gambar penampang kulit berikut!



Bagian X peka terhadap ....

- A. dingin
- B. panas
- C. sentuhan
- D. tekanan

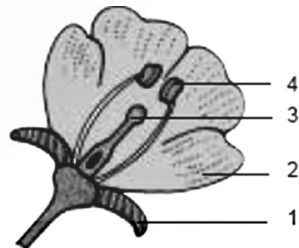
35. Perhatikan gambar percobaan fotosintesis di bawah ini!



Percobaan di atas membuktikan bahwa tumbuhan yang berfotosintesis akan menghasilkan ....

- a. amilum
- b. oksigen
- c. protein
- d. karbon dioksida

36. Perhatikan gambar penampang bunga berikut!



Fungsi nomor 4 adalah ....

- A. merupakan perhiasan bunga
- B. menghasilkan serbuk sari
- C. menghasilkan sel telur
- D. tempat pemuahan

37. Gerak tumbuhan yang merupakan gerak niktinasi adalah ....
- A. daun puteri malu menutup ketika disentuh
  - B. daun leguminosae menutup pada waktu malam hari
  - C. bunga tulip mekar saat musim semi
  - D. sulur tanaman suku Cucurbitaceae membelit kayu penyangga
38. Tanaman bergenotip BbMm disilangkan dengan tanaman bergenotip bbmm akan menghasilkan keturunan dengan perbandingan fenotip ....
- A. 3 : 1
  - B. 1 : 2 : 1
  - C. 1 : 1 : 1 : 1
  - D. 9 : 3 : 3 : 1
39. Dalam pembuatan yoghurt digunakan bakteri *Lactobacillus bulgaricus*. Bakteri ini berperan mengubah glukosa menjadi ....
- A. metanol
  - B. alkohol
  - C. asam asetat
  - D. asam laktat
40. Cara adaptasi fisiologi ikan yang hidup di air tawar seperti ikan mas adalah ....
- A. bergerak dengan siripnya
  - B. permukaan tubuh bersisik dan berlendir
  - C. sedikit minum dan banyak mengeluarkan urine
  - D. banyak minum dan sedikit mengeluarkan urine

# KUNCI JAWABAN

---



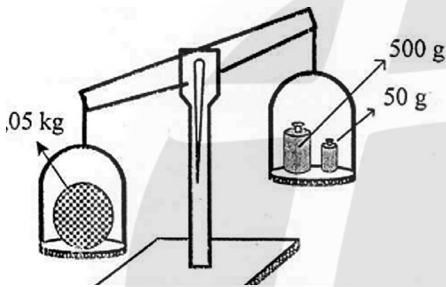
1. B    11. D    21. B    31. D
2. C    12. B    22. A    32. A
3. A    13. B    23. C    33. A
4. D    14. A    24. B    34. D
5. D    15. A    25. D    35. A
6. B    16. C    26. D    36. B
7. B    17. C    27. A    37. A
8. B    18. D    28. C    38. C
9. D    19. D    29. B    39. D
10. C    20. B    30. C    40. C



# ILMU PENGETAHUAN ALAM

## Sekolah Menengah Pertama

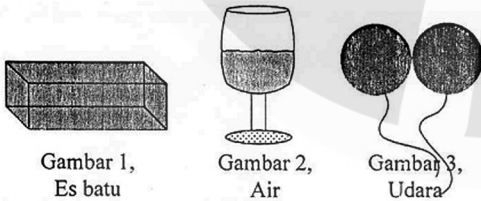
1. Perhatikan gambar!



Supaya neraca menjadi seimbang, piringan di sebelah kanan ditambahkan anak timbangan yang massanya ....

- A. 300 gram                      C. 500 gram  
B. 450 gram                      D. 550 gram

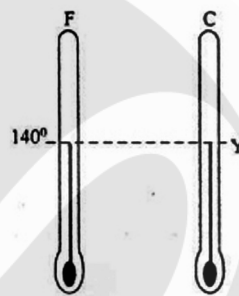
2. Perhatikan gambar wujud zat berikut!



Sifat zat yang benar dari benda-benda pada gambar adalah ....

	Benda 1		Benda 2		Benda 3	
	Volume	Bentuk	Volume	Bentuk	Volume	Bentuk
A.	Tetap	Tetap	Tetap	Berubah	Berubah	Berubah
B.	Tetap	Tetap	Tetap	Berubah	Berubah	Berubah
C.	Tetap	Berubah	Tetap	Berubah	Berubah	Tetap
D.	Tetap	Tetap	Tetap	Berubah	Berubah	Berubah

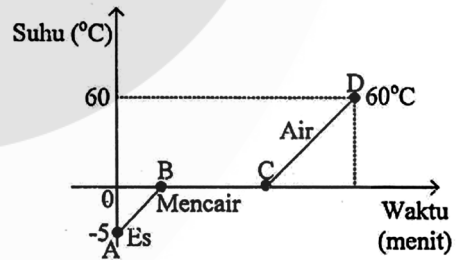
3. Perhatikan gambar termometer berikut!



Besar suhu Y pada skala termometer Celsius adalah ....

- A. 172 °C                      C. 60 °C  
B. 108 °C                      D. 44 °C

4. Perhatikan grafik berikut!

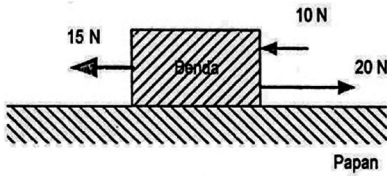


Es yang massanya 50 gram dipanaskan dari -5 °C menjadi air bersuhu 60 °C air.

Jika kalor lebur es = 80 kal/gram, kalor jenis es = 0,5 kal/gram °C, kalor jenis air = 1 kal/gram °C, maka banyaknya kalor yang diperlukan pada saat proses dari C ke D adalah ....

- A. 125 kalori                      C. 4.000 kalori  
B. 3.000 kalori                      D. 7.125 kalori

5. Beberapa gaya bekerja pada benda yang massanya 5 kg seperti gambar.

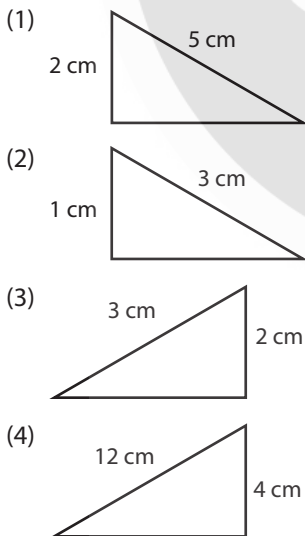


Jika gaya gesekan antara benda dengan papan nol, percepatan yang dialami benda adalah ....

- A.  $1 \text{ m/s}^2$                       C.  $5 \text{ m/s}^2$   
 B.  $4 \text{ m/s}^2$                       D.  $9 \text{ m/s}^2$
6. Mobil A dan mobil B memiliki massa yang sama. Kedua mobil bergerak dengan energi kinetik berbeda. Jika energi kinetik mobil A dibanding energi kinetik mobil B, 4 : 9, kecepatan mobil A dibanding kecepatan mobil B adalah ....

- A. 2 : 3                              C. 4 : 9  
 B. 3 : 2                              D. 9 : 4

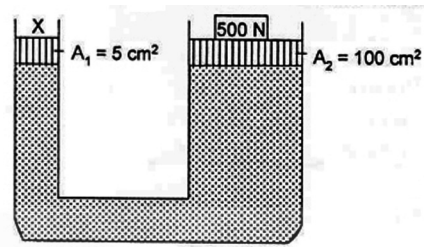
7. Perhatikan gambar di bawah ini!



Dari keempat bidang miring di atas, yang memiliki keuntungan mekanis sama ditunjukkan oleh gambar nomor ....

- A. (1) dan (2)                      C. (2) dan (4)  
 B. (1) dan (3)                      D. (3) dan (4)

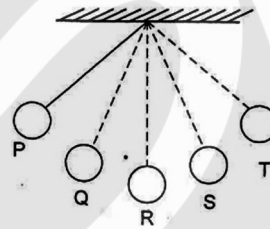
8. Perhatikan gambar alat hidrolik berbentuk U berikut!



Berat balok X pada tabung kecil agar alat hidrolik tetap seimbang adalah ....

- A. 5 N                                  C. 10.000 N  
 B. 25 N                                D. 25.000 N

9. Perhatikan gambar!



Bandul berayun dengan pola  $P \rightarrow Q \rightarrow R \rightarrow S \rightarrow T$ , jumlah getaran adalah ....

- A. getaran                            C. 1 getaran  
 B. getaran                            D. 2 getaran

10. Seseorang membunyikan kentongan di dekat sebuah tebing. Selang waktu 1,2 sekon kemudian terdengarlah bunyi pantulnya. Jika cepat rambat bunyi di udara 340 m/s, jarak tebing dengan pemukul kentongan adalah ....

- A. 170 m                              C. 340 m  
 B. 204 m                              D. 408 m

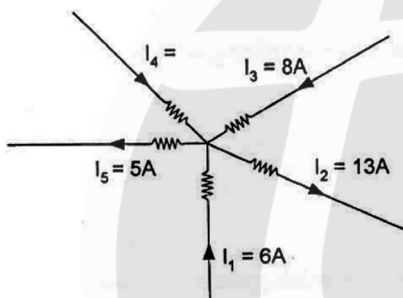
11. Jika seseorang memiliki cacat mata dengan titik dekat 50 cm, ingin membaca pada jarak baca normal (25 cm), orang tersebut harus menggunakan kacamata dengan kekuatan lensa ....

- A.  $\frac{1}{2}$  dioptri                      C.  $1\frac{1}{2}$  dioptri  
 B.  $\frac{3}{4}$  dioptri                      D. 2 dioptri

12. Proses pemuatan listrik statis dapat terjadi pada plastik yang di gosok dengan kain wol. Pernyataan pada tabel yang benar adalah ....

	Kehilangan elektron	Menerima elektron	Muatan listrik	
			Positif	Negatif
A.	Wool	Plastik	Plastik	Wool
B.	Plastik	Wool	Plastik	Wool
C.	Wool	Plastik	Wool	Plastik
D.	Plastik	Wool	Plastik	Wool

13. Perhatikan gambar percabangan arus listrik berikut!



Besar  $I_4$  adalah ....

- A. 14 A  
B. 8 A  
C. 6 A  
D. 4 A
14. Sebuah rumah menggunakan peralatan listrik seperti tercantum pada tabel berikut.

No	Alat listrik	Jumlah	Waktu penggunaan
1	Lampu 10 W	4	10 jam/hari
2	TV 100 W	1	10 jam/hari
3	Setrika 300 W	1	2 jam/hari

Berapa besar energi listrik yang digunakan selama 1 bulan (30 hari)?

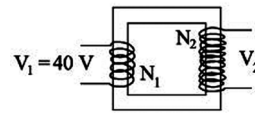
- A. 120 kWh  
B. 60 kWh  
C. 40 kWh  
D. 20 kWh
- 15.

Jika balok AB, CD dan EF terbuat dari besi, yang terjadi ....

- A. E kutub selatan dan C kutub utara  
B. B kutub utara dan C kutub selatan

- C. D kutub selatan dan F kutub selatan  
D. A kutub utara dan E kutub utara

16. Perhatikan bagan transformator berikut!



Apabila jumlah lilitan kumparan  $N_1 = 100$  lilitan dan  $N_2 = 250$  lilitan, tegangan  $V_2$  adalah ....

- A. 100 volt  
B. 150 volt  
C. 200 volt  
D. 250 volt

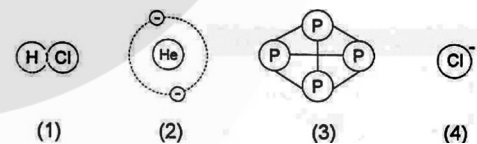
17. Perhatikan pernyataan berikut!

- (1) Adanya gerak semu tahunan matahari.
- (2) Gerak semu harian matahari dari timur ke barat.
- (3) Terjadinya pergantian siang dengan malam.
- (4) Adanya perbedaan waktu di daerah bujur bumi berbeda.
- (5) Terjadinya perbedaan musim.

Yang merupakan akibat rotasi bumi adalah ....

- A. (1), (2), (3)  
B. (2), (3), (4)  
C. (2), (4), (5)  
D. (3), (4), (5)

18. Perhatikan gambar berikut!



Gambar molekul ditandai dengan nomor ....

- A. (1) dan (2)  
B. (1) dan (3)  
C. (2) dan (3)  
D. (3) dan (4)

19. Perhatikan tabel berikut!

No	Larutan	Indikator Lakmus	Perubahan warna
(1)	A	Biru	Biru
(2)	B	Merah	Merah
(3)	C	Merah	Biru
(4)	D	Biru	Merah

Pasangan larutan yang bersifat asam adalah nomor ....

- A. (1) dan (2)  
B. (1) dan (3)  
C. (2) dan (3)  
D. (2) dan (4)

20. Perhatikan tabel berikut!

No	Rumus Zat Kimia
(1)	MgO
(2)	Mg(OH) <sub>2</sub>
(3)	NaOH
(4)	Na <sub>2</sub> SO <sub>4</sub>

Rumus kimia yang benar untuk magnesium hidroksida dan natrium sulfat masing-masing adalah nomor ....

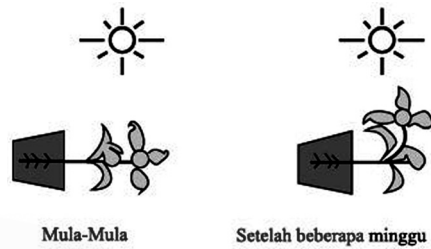
- A. (1) dan (2)                      C. (2) dan (4)  
 B. (1) dan (3)                      D. (3) dan (4)
21. Data hasil percobaan:
- (1) air dipanaskan akan menguap;
  - (2) logam dipanaskan akan membara;
  - (3) besi dibiarkan di tempat terbuka mengalami korosi;
  - (4) garam dibuat dengan mencampurkan asam dan basa.

Berdasarkan data di atas, yang termasuk perubahan kimia adalah pasangan nomor ....

- A. (1) dan (2)                      C. (2) dan (3)  
 B. (1) dan (3)                      D. (3) dan (4)
22. Pengaruh psikis yang dialami pengguna narkoba antara lain ....
- A. berat badan turun drastis
  - B. mata menjadi merah
  - C. mengeluarkan keringat berlebihan
  - D. menjadi sangat sensitif

23. Cara menghindari penggunaan zat adiktif dan psikotropika di kalangan pelajar yang tepat antara lain ....
- A. mengikuti kegiatan pramuka di sekolah
  - B. berteman dengan pengedar narkoba di sekolah
  - C. membantu dalam penjualan narkoba di sekolah
  - D. mencoba meracik dan menggunakan narkoba

24. Perhatikan gambar percobaan berikut!

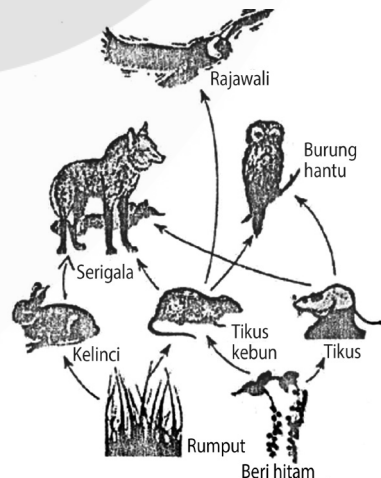


Percobaan tersebut membuktikan bahwa tumbuhan sebagai makhluk hidup memiliki ciri ....

- A. bernapas                              C. tumbuh  
 B. bergerak                              D. berfotosintesis
25. Ditemukan seekor hewan yang memiliki ciri-ciri sebagai berikut.
- (1) Tubuhnya lunak berlendir.
  - (2) Bergerak dengan menggunakan otot perut.
  - (3) Memiliki cangkang yang keras.

Hewan tersebut termasuk dalam kelompok ....

- A. *Porifera*                              C. *Arthropoda*  
 B. *Coelenterata*                      D. *Mollusca*
26. Perhatikan gambar jaring-jaring makanan berikut!



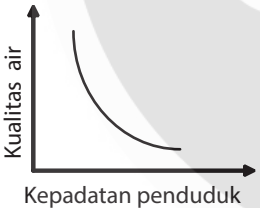
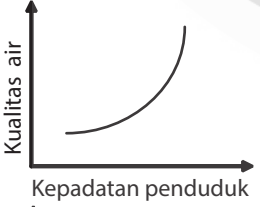
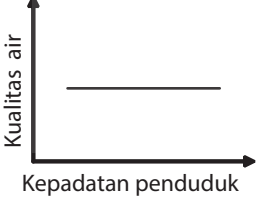
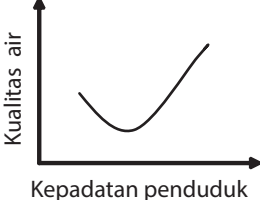
Jika tikus kebun dibasmi, yang akan terjadi adalah ....

- A. populasi burung hantu meningkat
- B. populasi rumput menurun
- C. populasi rajawali menurun
- D. populasi kelinci menurun

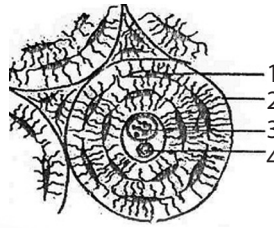
27. Bertambah banyaknya pemukiman di sekitar ibu kota dapat mengakibatkan terjadinya pencemaran tanah oleh sampah plastik. Upaya untuk mengatasi pencemaran tersebut adalah ....

- A. tidak menggunakan plastik untuk kantong belanja
- B. melarang pemakaian plastik untuk membungkus makanan
- C. mengubur sampah plastik di dalam tanah
- D. mendaur ulang limbah plastik menjadi kerajinan tangan

28. Hubungan antara kepadatan penduduk terhadap kualitas air dalam suatu wilayah dapat diprediksikan melalui grafik ....

- A. 
- B. 
- C. 
- D. 

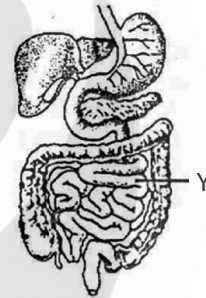
29. Perhatikan gambar jaringan tulang berikut!



Bagian jaringan tulang yang disebut periosteum ditunjuk oleh ....

- A. 1
- B. 2
- C. 3
- D. 4

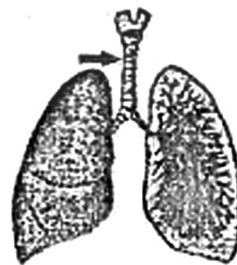
30. Perhatikan gambar organ pencernaan berikut!



Pada bagian (Y) terjadi proses pencernaan ....

- A. amilum menjadi maltosa oleh enzim tripsin
- B. amilum menjadi maltosa oleh enzim amilase
- C. maltosa menjadi glukosa oleh enzim amilase
- D. maltosa menjadi glukosa oleh enzim tripsin

31. Perhatikan gambar organ pernapasan berikut!



Proses yang terjadi pada organ yang ditunjuk adalah ....

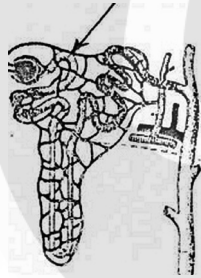
- A. pertukaran gas karbon dioksida dengan oksigen
- B. penolakan benda asing pada udara pernapasan
- C. pengeluaran gas karbon dioksida dan oksigen
- D. penyesuaian suhu dan kelembapan udara pernapasan

32. Perhatikan pernyataan berikut!
- (1) arah aliran keluar dari jantung
  - (2) elastis dan tipis
  - (3) darah bertekanan kuat
  - (4) aliran darah masuk jantung

Ciri-ciri dari pembuluh darah arteri adalah ....

- A. 1 dan 2
- B. 1 dan 3
- C. 2 dan 4
- D. 3 dan 4

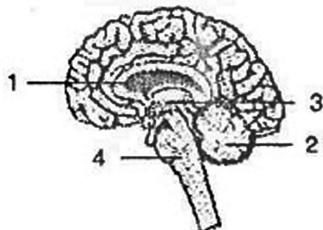
33. Perhatikan gambar penampang ginjal berikut!



Pada bagian yang ditunjuk terjadi proses ....

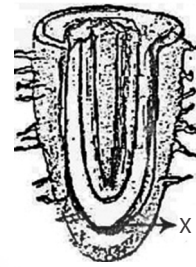
- A. penambahan urea
- B. pengumpulan urin
- C. penyaringan darah
- D. penyerapan kembali

34. Bagian otak yang berfungsi sebagai pusat keseimbangan tubuh ditunjukkan oleh ...



- A. 1
- B. 2
- C. 3
- D. 4

35. Perhatikan gambar struktur akar berikut!



Bagian X berfungsi untuk ....

- A. memperkokoh tegaknya batang sehingga tidak roboh
- B. menyerap air dan garam mineral dari dalam tanah
- C. pembelahan sel sehingga akar dapat tumbuh
- D. mengangkut air menuju bagian batang

36. Bunga tumbuhan pukul empat (*Mirabilis jalapa*) akan mekar hanya pada pukul 4 sore. Gerak mekarnya bunga tumbuhan tersebut termasuk gerak ....

- A. fotonasti
- B. tigmonasti
- C. fototaksis
- D. fototropisme

37. Tanaman *Elodea* sp. dimasukkan dalam kantong plastik transparan yang berisi air dan udara. Kemudian ditempatkan di tempat yang terkena sinar matahari selama 30 menit. Tujuan tanaman dimasukkan ke dalam kantong plastik transparan adalah ....

- A. tanaman tidak langsung kena cahaya matahari
- B. tidak cepat layu bila kena cahaya matahari
- C. proses fotosintesis yang terjadi pada tanaman air dapat diamati
- D. air yang ada di dalam kantong plastik tidak menguap

38. Di Inggris pada zaman Revolusi Industri banyak pabrik-pabrik yang mengeluarkan jelaga. Ini mengakibatkan peningkatan populasi kupu-kupu *Biston bertularia* bersayap gelap, sedangkan yang bersayap cerah jumlahnya menurun. Hal ini disebabkan oleh ....

- A. predator memangsa kupu-kupu berwarna cerah
  - B. berkurangnya sumber makanan
  - C. mutasi gen terjadi pada kupu-kupu berwarna gelap
  - D. meningkatnya kompetisi antara kedua kupu-kupu
39. Persilangan dua varietas tanaman padi menghasilkan kombinasi genotip: KkTt, KKtt, kkTT, kktt.

Jika: - gen K = bulir keras T = tanaman batang tinggi  
k = bulir pulen t = tanaman batang pendek

- sifat bulir pulen dan berbatang pendek lebih disukai masyarakat

Apabila tanaman padi hasil persilangan tersebut disilangkan dengan sesamanya, genotip yang dapat menghasilkan bibit unggul adalah ....

- A. KkTt
- B. KKtt
- C. KKTT
- D. kktt

40. Penerapan bioteknologi untuk meningkatkan produksi pangan dari tumbuhan dapat dilakukan secara cepat dengan cara ....

- A. inseminasi buatan
- B. kultur jaringan
- C. kloning
- D. rekayasa genetika

# KUNCI JAWABAN

.....



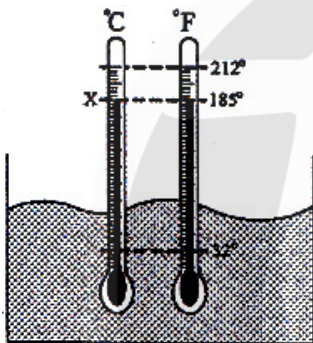
- |       |       |       |       |
|-------|-------|-------|-------|
| 1. C  | 11. D | 21. D | 31. B |
| 2. D  | 12. C | 22. D | 32. B |
| 3. C  | 13. D | 23. A | 33. D |
| 4. B  | 14. B | 24. B | 34. B |
| 5. A  | 15. B | 25. D | 35. C |
| 6. A  | 16. A | 26. C | 36. A |
| 7. D  | 17. B | 27. D | 37. C |
| 8. B  | 18. B | 28. A | 38. A |
| 9. A  | 19. D | 29. B | 39. A |
| 10. D | 20. C | 30. C | 40. B |



# ILMU PENGETAHUAN ALAM

## Sekolah Menengah Pertama

1. Perhatikan gambar termometer Celcius dan Fahrenheit berikut!



Suatu cairan diukur dengan dua termometer termometer, maka besar suhu X yang benar adalah ....

- A. 95°C                                      C. 75°C  
B. 85°C                                      D. 65°C
2. Di bawah ini beberapa sifat zat.
- (1) Gaya tarik menarik partikel yang sangat lemah.
  - (2) Volumennya tetap.
  - (3) Susunan partikel teratur.
  - (4) Bentuknya sesuai wadahnya.
  - (5) Letak partikelnya berjauhan.

Dari sifat-sifat di atas, yang merupakan sifat zat gas ditunjukkan oleh nomor ....

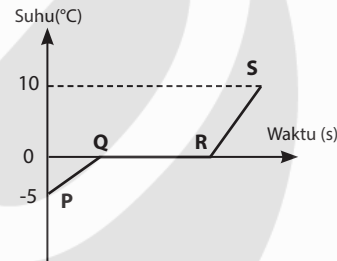
- A. (1), (3), dan (4)                      C. (2), (3), dan (5)  
B. (1), (4), dan (5)                      D. (3), (4), dan (5)
3. Perhatikan tabel berikut!

No	Besaran	Satuan
(1)	Volume	m <sup>3</sup>
(2)	Kuat arus listrik	ampere
(3)	Intensitas cahaya	candela
(4)	Tegangan listrik	volt
(5)	Tekanan	N/m <sup>2</sup>

Berdasarkan tabel tersebut, yang termasuk kelompok besaran turunan dan satuannya dalam Sistem Internasional ditunjukkan oleh nomor ....

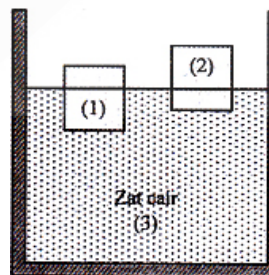
- A. (1), (2), dan (3)                      C. (2), (3), dan (4)  
B. (1), (4), dan (5)                      D. (3), (4), dan (5)

4. Perhatikan grafik pemanasan 1 kg es berikut!



Jika kalor jenis es 2.100 J/kg°C, kalor lebur es 336.000 J/kg dan kalor jenis air adalah 4.200 J/kg°C, kalor yang dibutuhkan dalam proses P-Q-R adalah ....

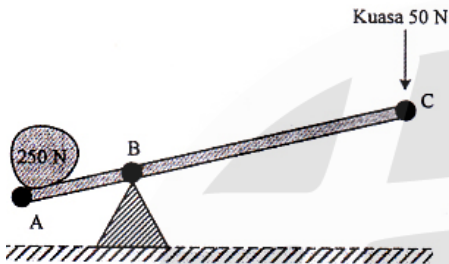
- A. 10.500 J                                      C. 336.000 J  
B. 21.000 J                                      D. 346.500 J
5. Dua buah benda dimasukkan dalam zat cair, beberapa saat kemudian posisinya tampak seperti pada gambar.



Besar massa jenis benda dan zat cair yang memungkinkan adalah ....

	Massa jenis benda ( $\text{kg/m}^3$ )		
	(1)	(2)	(3)
A.	1.000	800	700
B.	800	100	700
C.	100	700	1.000
D.	700	300	1.000

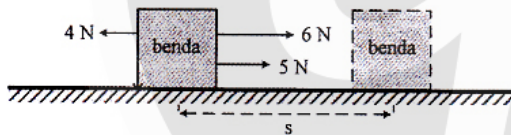
6. Perhatikan gambar berikut!



Jika panjang  $AB = 20 \text{ cm}$ , panjang  $BC$  agar tuas dalam keadaan setimbang adalah ....

- A. 100 cm                      C. 140 cm  
B. 120 cm                      D. 160 cm

7.



Tiga buah gaya bekerja pada sebuah benda seperti pada gambar. Jika usaha yang dilakukan ketiga gaya tersebut 420 joule, perpindahan benda ( $s$ ) adalah ....

- A. 60 m                      C. 110 m  
B. 70 m                      D. 120 m

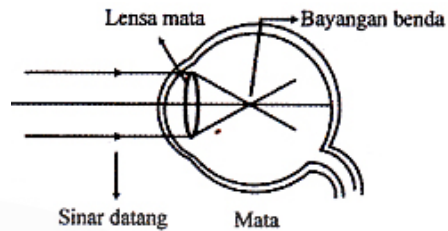
8. Perhatikan kegiatan berikut!

- (1) Benda di lantai licin bergerak lebih cepat.
- (2) Saat direm mendadak, tubuh penumpang terdorong ke belakang.
- (3) Baling-baling kapal laut mendorong air laut ke belakang, maka kapal bergerak ke depan.
- (4) Ketika peluru melesat keluar, senapan terdorong ke belakang.

Kegiatan yang sesuai dengan hukum III Newton ditunjukkan oleh nomor ....

- A. (1) dan (2)                      C. (2) dan (4)  
B. (1) dan (3)                      D. (3) dan (4)

9. Berdasarkan gambar, cacat mata dan lensa kaca mata yang harus digunakan adalah ....



	Cacat mata	Kaca mata
A.	hipermetropi	lensa cembung
B.	presbiopi	lensa cekung
C.	miopi	lensa cekung
D.	astigmatisma	lensa cembung

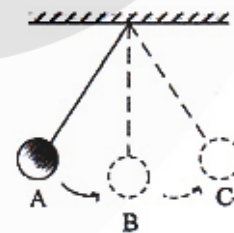
10. Perhatikan pernyataan berikut!

- (1) Mengukur kedalaman laut dengan sonar.
- (2) Menentukan ketinggian gunung.
- (3) Mengukur kedalaman gua.
- (4) Menentukan tinggi rendah nada pada gitar.

Pernyataan yang merupakan manfaat pemantulan bunyi adalah ....

- A. (1) dan (2)                      C. (2) dan (3)  
B. (1) dan (3)                      D. (2) dan (4)

11. Perhatikan gambar percobaan getaran di bawah ini!



Apabila waktu yang digunakan untuk berayun dari  $A - B - C$  adalah 4 sekon dengan jarak 16 cm, frekuensi dan amplitudo ayunan tersebut adalah ....

- A.  $\frac{1}{8} \text{ Hz}$  dan 8 cm                      C. 8 Hz dan 4 cm  
B. 4 Hz dan 8 cm                      D. 16 Hz dan 4 cm

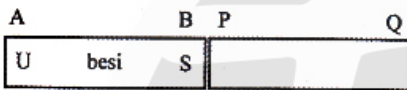
12. Di dalam sebuah ruangan terdapat 3 alat listrik masing-masing digunakan selama waktu tertentu yang ditunjukkan oleh tabel.

Alat	Kuat arus	Waktu
Lampu	0,2 A	4 jam
Kipas	0,4 A	1 jam
TV	0,4 A	2 jam

Ketiga alat listrik dihubungkan pada tegangan listrik 220 volt, maka energi listrik yang digunakan adalah ....

- A. 1.624.000 joule      C. 1.250.000 joule  
 B. 1.584.000 joule      D. 1.185.000 joule

13. Batang besi A-B yang disentuh magnet batang P-Q akan terbentuk kutub magnet seperti pada gambar.

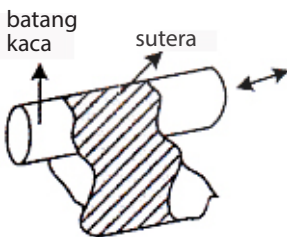


14. Perhatikan tabel berikut!

	Transformator A		Transformator B	
	Primer	Sekunder	Primer	Sekunder
Tegangan (volt)	150	300	75	25
Kuat arus (ampere)	0,5	0,25	1,5	4,5
Daya (watt)	75	75	112,5	112,5

Pernyataan yang tepat mengenai transformator A dan B adalah ....

- A. A adalah transformator *step down* karena arus sekunder < arus primer  
 B. A adalah transformator *step down* karena daya sekunder = daya primer  
 C. B adalah transformator *step down* karena tegangan primer > tegangan sekunder  
 D. B adalah transformator *step up* karena arus sekunder > arus primer
15. Ketika batang kaca digosok dengan kain sutera, proses pemuatan listrik yang terjadi pada peristiwa tersebut adalah ....

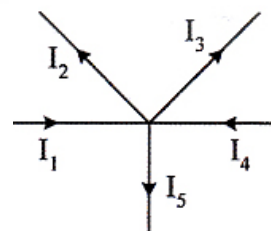


- A. elektron dari kain sutera pindah ke batang kaca  
 B. elektron dari batang kaca pindah ke kain sutera

Cara pembuatan magnet P-Q yang benar ditunjukkan oleh gambar ....

- A.
- B.
- C.
- D.

16. Perhatikan gambar di bawah!



Diketahui kuat arus  $I_2 = 3 \text{ A}$ ,  $I_3 = 5 \text{ A}$ ,  $I_4 = 4 \text{ A}$  dan  $I_5 = 2 \text{ A}$ , maka besar  $I_1$  adalah ....

- A. 14 A                      C. 6 A  
 B. 10 A                      D. 4 A

17. Perhatikan pernyataan berikut!  
 (1) Mengelilingi planet.  
 (2) Terletak di antara Mars dan Yupiter.  
 (3) Memancarkan cahaya sendiri.  
 (4) Massanya lebih kecil dari planet.  
 (5) Mengelilingi matahari bersama planet.

Pernyataan yang benar mengenai ciri-ciri satelit adalah nomor ....

- A. (1), (2), dan (3)            C. (1), (4), dan (5)  
 B. (1), (3), dan (4)            D. (2), (3), dan (5)

18. Metana ( $\text{CH}_4$ ) merupakan komponen gas alam, dalam hal ini metana ( $\text{CH}_4$ ) merupakan ....  
 A. ion                              C. molekul unsur  
 B. atom                             D. molekul senyawa

19. Di antara gas berikut, yang dapat menyebabkan karat pada kaleng adalah ....  
 A. hidrogen                      C. nitrogen  
 B. oksigen                         D. helium

20. Perhatikan pernyataan berikut!  
 (1) Natrium berwarna abu-abu.  
 (2) Natrium dapat diiris.  
 (3) Natrium dapat meledak jika bereaksi dengan air.  
 (4) Natrium berwarna kuning kemerahan jika dibakar.

Pernyataan yang tepat tentang sifat kimia natrium adalah ....

- A. (1) dan (2)                    C. (2) dan (3)  
 B. (1) dan (4)                    D. (3) dan (4)

21. Perhatikan tabel berikut!

No	Zat	Kertas Lakmus	
		Biru	Merah
(1)	A	(+)	(+)
(2)	B	(+)	(-)
(3)	C	(-)	(+)
(4)	D	(+)	(-)

Larutan yang bersifat garam terdapat pada nomor ....


- A. (1)                                C. (3)  
 B. (2)                                D. (4)

22. Zat yang terdapat pada ganja sehingga menimbulkan rasa euforia adalah ....

- A. nikotin  
 B. etanol  
 C. LSD (*Lisergic Acid Diethylamine*)  
 D. THC (*Tetra Hydro Cannabinol*)

23. Bahan kimia yang terdapat pada produk pembersih sabun adalah ....

- A. natrium hipoklorit  
 B. natrium sulfida  
 C. natrium flourida  
 D. natrium hidroksida



Kelompok tumbuhan yang memiliki akar serabut, tulang daun sejajar, dan biji untuk berkembang biak adalah ....

- A. 1, 2, 3                         C. 2, 4, 5  
 B. 1, 3, 4                         D. 3, 4, 5

25. Paus muncul ke permukaan secara periodik untuk mengambil oksigen. Kegiatan ini menunjukkan adanya ciri makhluk hidup pada paus, yaitu ....

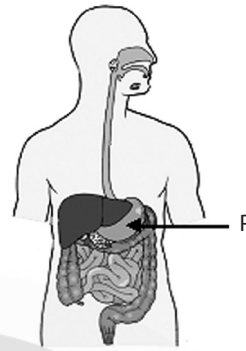
- A. regulasi                         C. reproduksi  
 B. adaptasi                         D. iritabilita

26. Suatu sungai tercemar karena adanya limbah industri yang dibuang ke sungai. Agar sungai tidak tercemari oleh limbah pabrik tersebut, salah satu cara yang paling tepat dilakukan adalah ....

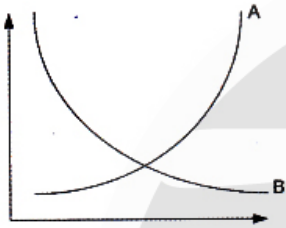
- A. mengolah limbah pabrik sebelum dibuang ke sungai  
 B. melarang pabrik tersebut untuk beroperasi  
 C. memindahkan pabrik ke daerah lain  
 D. gotong royong membersihkan air sungai

27. Tanaman sirih yang didekatkan ke pohon mangga akan melilitkan sulurnya sehingga batang sirih tumbuh melilit batang pohon mangga sehingga kedua tumbuhan tersebut membentuk simbiosis yang disebut ....

- A. parasitisme, tanaman sirih merugikan pohon mangga
- B. komensalisme, pohon mangga tidak dirugikan, tanaman sirih dapat cahaya
- C. mutualisme, kedua tanaman tersebut saling mendapat untung
- D. saprofitisme, tanaman siri mendapat zat sisa dari batang mangga

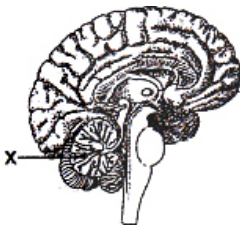


28. Perhatikan grafik di bawah ini!



Berdasarkan grafik di atas, hubungan antara penduduk dengan luas lahan pertanian adalah ....

- A. pertumbuhan penduduk menyebabkan naiknya luas lahan pertanian
  - B. pertumbuhan lahan pertanian menyebabkan menurunnya pertumbuhan penduduk
  - C. pertumbuhan penduduk meningkatkan hasil pertanian
  - D. pertumbuhan penduduk menyebabkan menyempitnya lahan pertanian
29. Perhatikan gambar otak berikut!

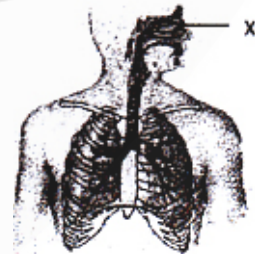


Jika bagian otak bertanda X mengalami kerusakan, gangguan yang dialami adalah ....

- A. keseimbangan tubuh
  - B. pengendalian kesadaran
  - C. kemampuan mendengar
  - D. penurunan daya ingat
30. Perhatikan gambar alat pencernaan berikut!

Enzim yang dihasilkan oleh organ P dan fungsinya adalah ....

- A. pepsinogen, menguraikan protein menjadi asam amino
  - B. amilase, menguraikan tepung menjadi maltosa
  - C. renin, menguraikan vitamin dan mineral
  - D. pepsin, menguraikan protein menjadi pepton
31. Tuba fallopii atau oviduk pada alat reproduksi wanita berfungsi sebagai ....
- A. penghasil sel kelamin wanita
  - B. tempat terjadinya pembuahan
  - C. tempat pertumbuhan embrio
  - D. penghasil hormon kewanitaan
32. Pada saat bernapas, udara dari luar akan masuk melalui organ X. Di dalam organ tersebut kemudian terjadi proses ....

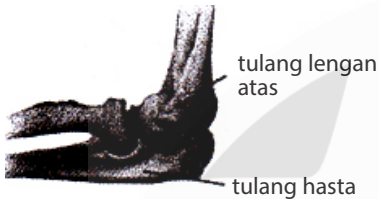


- A. pengikatan oksigen yang terdapat di dalam udara
- B. penguraian uap air yang terdapat dalam udara menjadi oksigen
- C. pertukaran gas oksigen dan karbon dioksida oleh pembuluh darah
- D. penyaringan udara dari benda-benda asing yang turut masuk bersama udara

33. Seseorang mengalami luka tergores sehingga darahnya mengalir keluar, namun pendarahan tersebut sukar dihentikan. Orang tersebut kemungkinan menderita penyakit ....

- A. leukopenia                      C. talasemia  
B. leukimia                         D. hemofilia

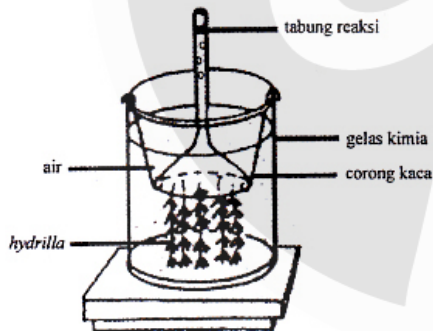
34. Perhatikan bagian sendi pada gambar tulang berikut!



Pada saat tulang hasta digerakkan, maka arah gerakannya adalah ....

- A. ke satu arah                    C. rotasi  
B. ke dua arah                    D. ke segala arah

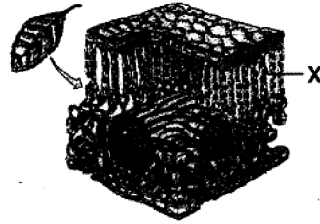
35. Perhatikan gambar percobaan fotosintesis berikut!



Pernyataan yang benar dari percobaan tersebut adalah ....

- A. semakin banyak jumlah *Hydrilla* semakin sedikit  $O_2$  dalam tabung reaksi  
B. semakin banyak jumlah air semakin banyak  $O_2$  dalam tabung reaksi  
C. semakin tinggi intensitas cahaya semakin sedikit jumlah  $O_2$  dalam tabung reaksi  
D. semakin banyak jumlah *Hydrilla* semakin banyak  $O_2$  dalam tabung reaksi

36. Perhatikan gambar struktur anatomis daun berikut!



Proses yang terjadi pada bagian X adalah ....

- A. pembuatan bahan makanan  
B. pengambilan karbon dioksida dari udara  
C. pengeluaran air sisa metabolisme  
D. pengangkutan air dan mineral

37. Tumbuhan keladi merespons keadaan udara yang sangat lembap dengan melakukan proses ....

- A. ekskresi                         C. transpirasi  
B. respirasi                        D. gutasi

38. Tanaman mangga dengan buah besar dan rasa manis (BbMm) disilangkan dengan buah mangga kecil dan rasa manis (bbmm). Berapakah kemungkinan persentase yang akan dihasilkan buah mangga besar dan rasa manis dari persilangan ini?

- A. 25%                                C. 75%  
B. 50%                                D. 100%

39. Pernyataan berikut yang menggambarkan dampak negatif bioteknologi modern adalah ....

- A. penyebaran organisme transgenik yang tak terkendali dapat menyebabkan pencemaran biologis  
B. metode terapi gen dapat digunakan untuk mengatasi semua penyakit  
C. pembuatan bioethanol/biogas dapat menyebabkan pencemaran udara  
D. meningkatnya plasma nutfah alami karena adanya flora/fauna transgenik

40. Cicak melakukan autonomi atau memutuskan ekornya pada saat ....

- A. mencari mangsa  
B. menghindari musuh  
C. berkelahi melawan musuh  
D. menarik pasangannya

# KUNCI JAWABAN

---



- |       |       |       |       |
|-------|-------|-------|-------|
| 1. B  | 11. A | 21. A | 31. B |
| 2. B  | 12. B | 22. D | 32. D |
| 3. B  | 13. A | 23. D | 33. D |
| 4. D  | 14. C | 24. B | 34. A |
| 5. D  | 15. A | 25. B | 35. D |
| 6. A  | 16. C | 26. A | 36. A |
| 7. A  | 17. C | 27. B | 37. D |
| 8. D  | 18. D | 28. D | 38. C |
| 9. A  | 19. B | 29. A | 39. A |
| 10. B | 20. D | 30. D | 40. B |



# ILMU PENGETAHUAN ALAM

## Sekolah Menengah Pertama

1. Perhatikan tabel berikut!

No.	Besaran	Satuan
(1)	Massa	gram
(2)	Suhu	celcius
(3)	Waktu	menit
(4)	Panjang	meter

Besaran pokok dan satuan yang sesuai dengan Sistem Internasional (SI) ditunjukkan oleh nomor ....

- A. (1) dan (2)                      C. (2) dan (3)  
 B. (1) dan (4)                      D. (2) dan (4)

2. Seorang siswa kelas IX menghitung volume benda dengan massa sebesar 2 kg. Apabila benda tersebut berbentuk kubus dan memiliki panjang rusuk 10 cm, massa jenis benda tersebut adalah ....

- A.  $0,5 \text{ g/cm}^3$                       C.  $1,5 \text{ g/cm}^3$   
 B.  $0,75 \text{ g/cm}^3$                       D.  $2 \text{ g/cm}^3$

3. Ira ingin mengetahui volume benda yang berbentuk tak menentu, benda tersebut bermassa 200 gram. Jika massa jenis benda tersebut adalah  $4 \text{ gram/cm}^3$ , volume benda tersebut adalah ....

- A.  $50 \text{ cm}^3$                       C.  $70 \text{ cm}^3$   
 B.  $60 \text{ cm}^3$                       D.  $100 \text{ cm}^3$

4. Kamil merebus air sebanyak 2 kg, suhu sebelum air direbus adalah  $20^\circ\text{C}$ . Kalor yang dibutuhkan hingga air bersuhu  $70^\circ\text{C}$  adalah .... (kalor jenis air =  $4.200 \text{ joule/kg}^\circ\text{C}$ )

- A. 210 kJ                      C. 840 kJ  
 B. 420 kJ                      D. 1.020 kJ

5. Perhatikan tabel berikut!

	Gaya (N)	Luas penampang ( $\text{m}^2$ )
Benda 1	20	0,2
Benda 2	30	0,2
Benda 3	40	0,1
Benda 4	50	0,1

Benda yang memberikan tekanan paling besar terhadap lantai adalah ....

- A. benda 1                      C. benda 3  
 B. benda 2                      D. benda 4

6. Sebuah mobil bermassa 1.000 kg bergerak dengan kecepatan konstan 10 m/s. Energi kinetik dari mobil tersebut adalah ....

- A. 50 kJ                      C. 70 kJ  
 B. 60 kJ                      D. 80 kJ

7. Dua buah motor melaju dengan kecepatan 10 m/s, motor A memiliki massa 200 kg dan motor B bermassa 250 kg. Perbandingan energi kinetik kedua motor adalah ....

- A. 2 : 5                      C. 4 : 5  
 B. 3 : 5                      D. 1 : 3

8. Kamil menjatuhkan kelapa dari ketinggian 10 meter. Jika gravitasi di tempat tersebut adalah  $10 \text{ m/s}^2$  dan kelapa tersebut bermassa 3 kg, energi potensial kelapa adalah ....

- A. 3 J                      C. 300 J  
 B. 30 J                      D. 3.000 J

9. Dua buah kelapa terjatuh dari pohon yang memiliki tinggi 20 meter. Jika masing-masing kelapa bermassa 2 kg dan 4 kg, perbandingan energi potensialnya adalah ....

- A. 1 : 2                      C. 2 : 3  
B. 1 : 3                      D. 2 : 5
10. Jika seorang astronot memukul gendang di bulan, ia tidak dapat mendengar suara tersebut karena ....  
A. gravitasi di bulan sangat kecil  
B. di bulan tidak ada perantara bunyi  
C. angkasa luar terlalu luas, tidak ada pemantul bunyi  
D. suhu sangat dingin, gelombang bunyi membeku
11. Tiga buah resistor disusun secara paralel, masing-masing resistor memiliki hambatan sebesar 6 ohm, rangkaian resistor dihubungkan dengan sumber tegangan sebesar 5 volt, besar arus yang mengalir pada rangkaian tersebut adalah ....  
A. 1 A                      C. 2 A  
B. 1,5 A                      D. 2,5 A
12. Perhatikan pernyataan-pernyataan berikut!  
(i) partikel A menjauhi partikel B  
(ii) partikel B tarik-menarik dengan partikel C  
(iii) partikel C tolak menolak dengan partikel D  
(iv) partikel D tarik menarik dengan partikel E  
Jika muatan partikel A adalah positif, pernyataan yang tepat adalah ....  
A. partikel C bermuatan positif dan partikel E bermuatan negatif  
B. partikel C bermuatan negatif dan partikel E bermuatan negatif  
C. partikel C bermuatan negatif dan partikel E bermuatan positif  
D. partikel C bermuatan positif dan partikel E bermuatan positif
13. Sebuah trafo memiliki 2.000 lilitan primer dan 1.000 lilitan sekunder. Jika tegangan primer trafo tersebut adalah 10 volt, tegangan sekunder dari trafo tersebut adalah ....  
A. 2 volt                      C. 4 volt  
B. 3 volt                      D. 5 volt
14. Perhatikan pernyataan-pernyataan berikut!  
(1) Merupakan planet luar  
(2) Memiliki cincin di sekelilingnya  
(3) Planet terbesar dalam tata surya

(4) Memiliki dua satelit, yaitu Deimos dan Phobos

Dari pernyataan di atas, yang termasuk ciri-ciri planet Saturnus adalah ....

- A. (1) dan (2)                      C. (2) dan (3)  
B. (1) dan (4)                      D. (3) dan (4)

15. Sebatang penggaris digosok menggunakan kain wol. Setelah penggaris digosok dengan kain wol, aliran elektron dan muatan yang terjadi pada penggaris adalah ....

	Aliran elektron	Penggaris plastik bermuatan
A.	dari penggaris plastik ke wol	(-)
B.	dari penggaris plastik ke wol	(+)
C.	dari wol ke penggaris plastik	(+)
D.	dari wol ke penggaris plastik	(-)

16. Di antara zat berikut, yang merupakan molekul senyawa adalah ....

- A.  $H_2SO_4$                       C.  $N_2$   
B.  $O_3$                       D.  $Br_2$

17. Diantara berikut, yang merupakan molekul unsur adalah ....

- A.  $H_2SO_4$                       C.  $N_2$   
B.  $HCl$                       D.  $H$

18. Sebuah benda disimpan dalam suatu tempat. Setelah lama disimpan, benda tersebut diamati dan benda tersebut menjadi busuk, beracun, dan mudah terbakar, benda tersebut memiliki sifat ....

- A. kimia                      C. biologi  
B. fisika                      D. biofisika

19. Perubahan kimia yang tepat adalah .....

- A. kayu menjadi abu  
B. air menjadi es  
C. besi dilebur dan dibentuk pagar  
D. air direbus dan menguap

20. Pada kemasan minuman komposisinya terdiri atas asam sitrat, natrium siklamat, fruit punch, flavor, tartrazin, aspartam, dan natrium benzoat. Dari komposisi tersebut, yang termasuk pengawet adalah ....
- asam sitrat dan natrium benzoat
  - natrium benzoat dan aspartam
  - aspartam dan natrium siklamat
  - aspartam dan tartrazin
21. Seseorang yang mengonsumsi zat penenang akan menunjukkan gejala awal seperti ....
- nafsu makan bertambah
  - memiliki semangat belajar tinggi
  - daya pikir menurun
  - daya tahan tubuh meningkat
22. Upaya untuk menghindari mengonsumsi obat-obatan terlarang dan nikotin adalah ....
- bergaul seluas-luasnya tanpa peduli latar belakang kawan
  - taat beribadah dan tidak mencoba mengonsumsi hal yang dilarang
  - mencoba hal baru tanpa berfikir panjang
  - menerima tawaran teman untuk mencoba minuman baru
23. Berikut adalah ciri-ciri dari salah satu bagian kingdom animalia:
- (1) Tubuhnya beruas-ruas
  - (2) Memiliki rangka luar dari zat kitin
  - (3) Hidup di laut, danau, sungai, dan juga daratan
- Salah satu hewan yang termasuk dalam kingdom di atas adalah ....
- keong sawah
  - gajah
  - burung
  - cacing
24. Perhatikan pernyataan berikut!
- (1) Rumput dimakan belalang dan kambing
  - (2) Belalang dimakan burung pipit
  - (3) Kambing dimakan singa
  - (4) Burung pipit dimakan ular
- Jika singa di tempat tersebut bermigrasi ke tempat lain, populasi yang meningkat drastis adalah ....
- rumput
  - burung pipit
  - ular
  - kambing
25. Di suatu wilayah maju, populasi penduduk terus meningkat secara tajam. Dampak dari peningkatan populasi penduduk salah satunya adalah ....
- meningkatnya kadar oksigen
  - meningkatnya jumlah air bersih
  - kondisi lingkungan yang sehat
  - meningkatnya kadar karbon dioksida
26. Salah satu upaya mengurangi jumlah sampah anorganik yang tersebar di masyarakat adalah ....
- membakar sampah tersebut di pekarangan rumah
  - membuang sampah di sungai
  - mengubur sampah plastik ke tanah
  - melakukan kegiatan daur ulang sampah
27. Salah satu ciri tanaman monokotil adalah ....
- berakar tunggang
  - memiliki kambium di batang pohonnya
  - berakar serabut
  - bentuk daun menjari
28. Sistem peredaran darah kecil yang tepat adalah ....
- jantung – seluruh tubuh – jantung
  - jantung – paru-paru – seluruh tubuh
  - jantung – seluruh tubuh
  - seluruh tubuh – jantung – paru-paru
29. Pengubahan lemak menjadi asam lemak yang dilakukan oleh enzim yang bernama ....
- enzim lipase
  - enzim ptialin
  - enzim pepsin
  - enzim renin
30. pernyataan yang tepat mengenai pleuritis adalah ....
- pembengkakan pada paru-paru karena pembuluh darahnya membengkak
  - penyempitan pembuluh darah
  - penyempitan dan peradangan yang disebabkan oleh alergi seperti debu
  - infeksi pada selaput pembungkus paru-paru (pleura) yang disebabkan oleh bakteri
31. Gerakan tubuh yang termasuk dalam gerakan fleksi pada sistem persendian manusia adalah ....



# KUNCI JAWABAN

---



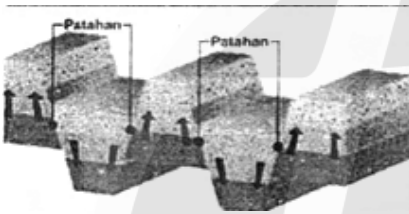
- |       |       |       |       |
|-------|-------|-------|-------|
| 1. B  | 11. D | 21. C | 31. A |
| 2. D  | 12. C | 22. B | 32. B |
| 3. A  | 13. D | 23. A | 33. B |
| 4. B  | 14. A | 24. D | 34. C |
| 5. D  | 15. D | 25. D | 35. C |
| 6. A  | 16. A | 26. D | 36. B |
| 7. C  | 17. C | 27. C | 37. C |
| 8. C  | 18. A | 28. B | 38. D |
| 9. A  | 19. A | 29. A | 39. C |
| 10. B | 20. A | 30. D | 40. C |



# ILMU PENGETAHUAN SOSIAL

## Sekolah Menengah Pertama

1. Perhatikan gambar berikut!



Gambar di atas menunjukkan bentukun muka bumi yang disebut ....

- A. lipatan  
B. patahan  
C. abrasi  
D. erosi
2. Gunung api yang sudah kurang aktif, memiliki tanda-tanda yang disebut gejala post vulkanik. Salah satunya adalah munculnya geysir, yaitu ....
- A. pancaran air panas yang berlangsung secara periodik  
B. gas asam arang yang berbahaya karena dapat menyebabkan kematian  
C. sumber air mineral yang bercampur dengan larutan mineral seperti belerang  
D. sumber air panas yang mengandung zat belerang yang dapat menyembuhkan penyakit kulit
3. Di bawah ini adalah hal-hal yang berkaitan dengan fosil *Meganthropus paleojavanicus*, kecuali ....
- A. ditemukan oleh Von Koeningswald  
B. fosil manusia purba yang paling tua  
C. ditemukan di Trinil, Jawa Timur  
D. fosil tersebut termasuk jenis manusia yang besar dan tinggi
4. Perhatikan data di bawah ini:
- (1) Kepala desa berpidato di depan warganya

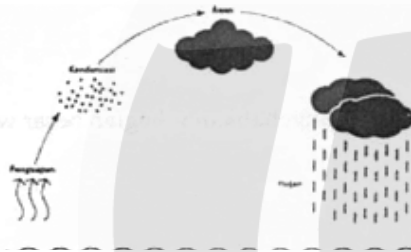
- (2) Seorang wartawan yang sedang mewawancarai seorang menteri  
(3) Guru sedang mengajar murid-muridnya  
(4) Pertandingan sepakbola antarsekolah

Dari data di atas, yang termasuk interaksi antara individu dengan kelompok adalah ....

- A. 1 dan 3  
B. 2 dan 4  
C. 2 dan 3  
D. 3 dan 4
5. Pernyataan berikut sesuai dengan hakikat manusia sebagai makhluk sosial yang bermoral, kecuali ....
- A. orangtua merawat dan mendidik anaknya dari kecil hingga dewasa  
B. seorang pelajar membantu temannya yang mengalami kesulitan dalam belajar  
C. ketika ada orang yang terkena musibah, orang tergugah untuk memberikan bantuan  
D. warga yang memiliki solidaritas yang tinggi untuk mendukung anggota warganya yang memiliki masalah kriminal
6. Pemenuhan kebutuhan manusia dipengaruhi oleh banyak faktor, salah satunya adalah faktor lingkungan. Pernyataan di bawah ini yang terkait dengan hal tersebut adalah ....
- A. wanita memerlukan alat kosmetik untuk merias dirinya  
B. penggunaan *handphone* sudah meluas untuk semua kalangan masyarakat  
C. penduduk di daerah pegunungan sangat membutuhkan baju hangat dalam kesehariannya  
D. mahasiswa memerlukan banyak buku referensi dan literatur untuk menunjang kegiatan belajar

7. Peta yang baik adalah peta yang dapat dibaca dan dimengerti dengan mudah oleh penggunaannya. Salah satu persyaratan peta yang baik harus *conform*, artinya ....
- perbandingan jarak pada peta harus sama dengan jarak sebenarnya
  - peta yang tergambar harus sama bentuk dengan bentuk sebenarnya
  - informasi yang dimuat pada peta harus sesuai dengan keadaan sebenarnya
  - perbandingan luas daerah pada peta harus sama atau sesuai dengan luas sebenarnya

8. Perhatikan gambar siklus hidrologi berikut!



Gambar tersebut menunjukkan siklus ....

- pendek
  - sedang
  - menengah
  - panjang
9. Faktor politik yang mendorong Islam cepat berkembang di Indonesia adalah ....
- syarat masuk Islam tidak rumit
  - jatuhnya kerajaan Majapahit dan Sriwijaya
  - ajaran Islam sederhana dan mudah dimengerti
  - Islam tidak mengenal kasta, sehingga lebih menarik rakyat

10. Perhatikan gambar berikut!



Gambar di atas adalah salah satu pahlawan nasional yang gigih melakukan perlawanan terhadap Belanda, yaitu ....

- Pattimura
- Sultan Agung
- Sultan Hasanudin
- Pangeran Antasari

11. Perhatikan peta di bawah ini!



Arah angin muson (ditunjukkan dengan tanda panah) pada peta di atas menyebabkan sebagian besar wilayah Indonesia mengalami musim ....

- panas
  - dingin
  - penghujan
  - kemarau
12. Faktor-faktor di bawah ini merupakan pendorong kelahiran (*pronatalitas*), *kecuali* ....
- kawin usia muda
  - penundaan usia kawin
  - anak menjadi kebanggaan orang tua
  - anak diharapkan dapat membantu keluarga
13. Salah satu pendorong kegagalan perjuangan bangsa Indonesia sebelum tahun 1908 adalah ....
- pengaruh munculnya paham-paham baru di Indonesia
  - makin luasnya pengaruh Belanda dilingkungan kerajaan
  - perjuangan bangsa Indonesia masih bersifat kedaerahan
  - banyaknya raja-raja yang gugur dalam pertempuran
14. Pelaku kejahatan merupakan komplotan yang secara berkesinambungan melakukan berbagai cara untuk mendapatkan uang atau kekuasaan dengan menghindari hukum. Perilaku menyimpang tersebut merupakan contoh dari hasil sosialisasi ....

- A. tidak sempurna  
 B. kebudayaan modern  
 C. gaya hidup yang modern  
 D. nilai sub kebudayaan menyimpang
15. Barang-barang yang langsung dapat digunakan untuk memenuhi kebutuhan manusia disebut barang ....  
 A. konsumsi                      C. komplementer  
 B. produksi                        D. substitusi
16. Kegiatan pokok yang tidak dilakukan oleh rumah tangga sebagai pelaku ekonomi adalah ....  
 A. membayar pajak kepada pemerintah  
 B. menerima penghasilan dari produsen berupa sewa, upah/gaji, bunga dan laba  
 C. menggunakan faktor-faktor produksi berupa tanah, modal, tenaga kerja dan skill  
 D. membeli barang-barang konsumsi dan jasa yang dihasilkan oleh produsen/pengusaha
17. Peristiwa Rengasdengklok pada tanggal 16 Agustus 1945 dilatarbelakangi oleh ....  
 A. perbedaan pendapat mengenai diselenggarakannya rapat PPKI dalam mempersiapkan kemerdekaan Indonesia  
 B. perbedaan pendapat antara golongan muda dan golongan tua mengenai waktu pelaksanaan proklamasi kemerdekaan Indonesia  
 C. perbedaan pendapat mengenai naskah dan tempat pelaksanaan proklamasi kemerdekaan Indonesia  
 D. perbedaan pendapat mengenai bentuk negara dan dasar negara setelah Indonesia merdeka
18. Perhatikan data berikut!  
 (1) Memilih presiden dan wakil presiden Republik Indonesia.  
 (2) Penetapan dan pengesahan Undang-Undang Dasar 1945 sebagai konstitusi Republik Indonesia.  
 (3) Menetapkan dua belas kementerian yang membantu tugas presiden dalam pemerintahan.  
 (4) Pembentukan Komite Nasional Indonesia.  
 (5) Presiden Republik Indonesia untuk sementara waktu dibantu oleh sebuah komite nasional.
- Dari data tersebut, yang merupakan hasil keputusan sidang PPKI tanggal 18 Agustus 1945 adalah ....  
 A. 1, 2, dan 3                      C. 1, 3, dan 4  
 B. 1, 2, dan 4                      D. 1, 2, dan 5
19. Terjalannya hubungan sosial yang mengarah pada bentuk jalinan sosial yang erat, saling membutuhkan merupakan proses sosial asosiatif. Berikut yang *bukan* bentuk proses asosiatif adalah ....  
 A. akomodasi                      C. asimilasi  
 B. kompetisi                        D. kerja sama
20. Sistem norma atau kaidah yang mengatur tingkah laku individu dalam masyarakat guna memenuhi kebutuhan barang dan jasa, merupakan pengertian dari pranata ....  
 A. agama                            C. politik  
 B. keluarga                        D. ekonomi
21. Penduduk yang sudah memasuki usia kerja, baik sudah bekerja, belum bekerja, atau sedang mencari pekerjaan disebut ....  
 A. angkatan kerja  
 B. usia kerja  
 C. tenaga kerja  
 D. kesempatan kerja

22. Perhatikan tabel berikut!

A	B	C
1. Pajak Penghasilan (PPh)	1. Bea Materai	1. Pajak Penjualan Barang Mewah (PPn-BM)
2. Pajak Pertambahan Nilai (PPN)	2. Pajak Penjualan (PPn)	2. Pajak Bumi Bangunan (PBB)

Berdasarkan tabel tersebut, yang merupakan contoh pajak langsung terdapat pada kolom ....

- A. A1, B2                      C. A2, B1  
B. A1, C2                      D. B2, C1

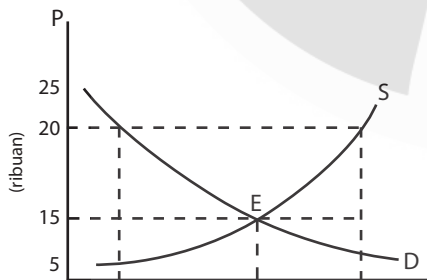
23. Melalui pajak, pemerintah dapat mengelola dan mengendalikan kegiatan konsumsi, distribusi, produksi, ekspor dan impor. Kegiatan pemerintah tersebut terkait dengan fungsi pajak sebagai ....
- A. sumber pendapatan negara  
B. alat stabilitas perekonomian  
C. alat pemerataan pembangunan  
D. pengatur kegiatan perekonomian

24. Perhatikan data di bawah ini!
- (1) Biaya produksi
  - (2) Tingkat teknologi
  - (3) Tujuan perusahaan
  - (4) Selera masyarakat
  - (5) Pendapatan masyarakat

Berdasarkan data di atas, faktor yang memengaruhi penawaran meliputi ....

- A. 1, 2, dan 3                      C. 2, 3, dan 5  
B. 1, 3, dan 4                      D. 3, 4, dan 5

25. Perhatikan gambar di bawah ini!



Berdasarkan gambar tersebut, harga keseimbangan (harga pasar) terjadi pada ....

- A. harga Rp25.000 dan barang yang diminta/ditawarkan 15 unit  
B. harga Rp20.000 dan barang yang diminta/ditawarkan 20 unit  
C. harga Rp15.000 dan barang yang diminta/ditawarkan 150 unit  
D. harga Rp20.000 dan barang yang diminta/ditawarkan 200 unit

26. Perhatikan pernyataan pada tabel di bawah ini!

I	II	III	IV
Pertumbuhan penduduk rendah	Pertumbuhan penduduk tinggi	Sebagian besar penduduk tinggal di pedesaan	Sebagian besar penduduk tinggal di perkotaan
Perdapatan perkapita tinggi	Tingkat pendidikan relatif rendah	Struktur perekonomian bertumpu pada sektor pertanian	Struktur perekonomian bertumpu pada sektor pertanian
Usia harapan hidup tinggi	Struktur perekonomian bertumpu pada sektor non pertanian	Pendapatan perkapita tinggi	Tingkat pendidikan relatif


Berdasarkan tabel di atas, ciri-ciri negara maju ditunjukkan oleh nomor ....

- A. I                                      C. III  
B. II                                      D. IV

27. Serangan Jerman terhadap Kota Danzig merupakan sebab khusus Perang Dunia II di medan ....

- A. Pasifik                              C. Afrika  
B. Eropa                                D. Amerika

28. Perhatikan peta berikut!



Berdasarkan peta di atas, pilihlah pernyataan yang sesuai dengan gambar tersebut!

- A. Gambar merupakan wilayah Indonesia sesuai Perundingan Perundingan Roem-Royen.
- B. Gambar merupakan wilayah Indonesia sesuai Perundingan Konferensi Meja Bundar.
- C. Gambar merupakan wilayah Indonesia sesuai Perundingan Linggarjati.
- D. Gambar merupakan wilayah Indonesia sesuai Perundingan Renville.

29. Indonesia menyatakan kembali ke bentuk negara kesatuan pada tanggal 17 Agustus 1950. Berikut sebab-sebab pemerintah Indonesia kembali dari RIS ke bentuk negara kesatuan, *kecuali* ....

- A. RIS bertentangan dengan cita-cita Proklamasi 17 Agustus 1945
- B. RIS sebagai strategi Belanda untuk menguasai Indonesia
- C. RIS merupakan warisan dari kolonia Belanda
- D. RIS sesuai dengan kehendak rakyat

30. Perubahan gaya hidup (hedonisme) cepat diikuti oleh remaja/anak muda dengan ruang lingkup yang luas, karena pengaruh perkembangan ....

- A. transportasi
- B. komunikasi, iptek
- C. bidang kebudayaan
- D. keyakinan masyarakat

31. Perubahan budaya masyarakat yang tergolong dalam budaya nonmateril dianggap lebih sukar untuk berubah.

Contoh budaya yang dimaksud adalah ....

- A. mode pakaian
- B. bentuk rumah adat
- C. tradisi dalam masyarakat
- D. model perkampungan dalam suatu desa

32. Perhatikan gambar di bawah ini!



Untuk membuat uang Rp50.000 pada gambar tersebut diperlukan bahan seharga Rp30.000, maka nilai intrinsik dari uang tersebut adalah ....

- A. Rp30.000
- B. Rp50.000
- C. Rp80.000
- D. Rp150.000

33. Perhatikan pernyataan berikut!

- (1) Penghimpun dana masyarakat
- (2) Menetapkan dan melaksanakan kebijakan moneter
- (3) Penyalur dana masyarakat
- (4) Mengatur dan mengawasi bank
- (5) Memberikan kredit
- (6) Mengatur dan menjaga kelancaran sistem pembayaran.

Berdasarkan pernyataan di atas, yang termasuk tugas Bank Indonesia adalah ....

- A. 1, 2, dan 3
- B. 1, 3, dan 4
- C. 2, 4, dan 6
- D. 3, 4, dan 5

34. Perhatikan data pada tabel berikut!

I	II
a. Sumber daya alam	a. Perbedaan bahasa
b. Mekanisme pasar	b. Letak geografis
III	IV
a. Adanya spesialisasi	a. Tidak amannya suatu negara
b. Pertentangan politik dan militer	b. Perbedaan harga barang

Berdasarkan data di atas, faktor penyebab terjadinya perdagangan internasional adalah ....

- A. Ia, IIa, IIIa, dan IVa
- B. Ia, IIb, IIIa, dan IVb
- C. Ia, IIb, IIIb, dan IVb
- D. Ib, IIb, IIIb, dan IVb

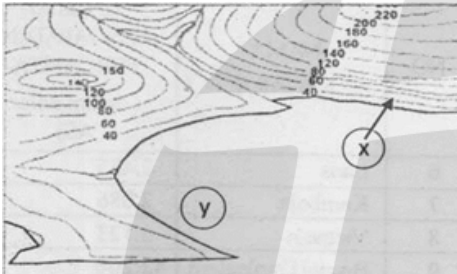
35. Berikut merupakan manfaat perdagangan internasional bagi perekonomian negara Indonesia ....

- A. memperluas kesempatan kerja, memperkuat ketahanan negara
- B. memperbanyak jumlah barang, menambah pendapatan negara
- C. menambah sumber devisa, menimbulkan peralihan teknologi

D. memperoleh barang berkualitas, meningkatkan produktivitas

36. Jenis alat pembayaran luar negeri tertulis di bawah ini, *kecuali* ....
- A. valuta asing
  - B. wesel asing
  - C. tagihan luar negeri
  - D. tagihan dalam negeri

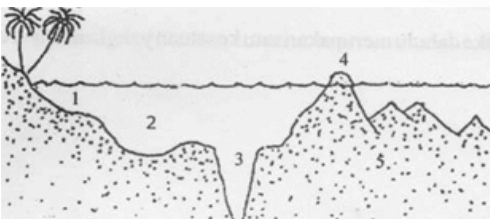
37. Perhatikan peta topografi berikut!



Berdasarkan peta topografi di atas, maka dapat diinterpretasikan bahwa daerah tersebut adalah ....

- A. (x) merupakan daerah datar sedangkan (y) daerah gunung
- B. (x) merupakan daerah gunung sedangkan (y) daerah datar
- C. (x) adalah daerah curam sedangkan daerah (y) daerah landai
- D. (x) adalah daerah landai sedangkan daerah (y) daerah curam

38. Perhatikan gambar berikut!



Berdasarkan gambar di atas, pasangan bentuk relief lubuk dan palung laut ditunjukkan oleh nomor ....

- A. 1 dan 2
- B. 2 dan 3
- C. 3 dan 4
- D. 4 dan 5

39. Negara-negara ASEAN yang wilayahnya menyatu dengan kontinen/benua Asia adalah ....

- A. Thailand, Myanmar, Laos
- B. Laos, Indonesia, Filipina
- C. Vietnam, Filipina, Kamboja
- D. Indonesia, Malaysia, Brunei Darussalam

40. Menurut World Bank tahun 2010, bahwa *Gross Domestic Product* (GDP) per kapita negara-negara ASEAN sebagai berikut.

No	Nama Negara	Tingkat Pendapatan Perkapita (dalam dolar AS)
1	Indonesia	4.380
2	Malaysia	14.603
3	Singapura	57.238
4	Filipina	3.725
5	Thailand	8.643
6	Laos	2.435
7	Kamboja	2.086
8	Vietnam	3.123
9	Brunei Darussalam	42.200
10	Myanmar	1.246

Berdasarkan data di atas, pernyataan yang tepat mengenai perkembangan perekonomian negara-negara ASEAN, *kecuali* ....

- A. Pendapatan perkapita suatu negara dapat menjadi indikator kesejahteraan masyarakatnya.
- B. Dua besar negara ASEAN yang paling makmur yaitu Singapura dan Brunei Darussalam, sementara Indonesia menempati urutan ke-5.
- C. Peningkatan pendapatan perkapita suatu negara menjadikan negara tersebut terbebas dari korupsi, kolusi, dan pejabat negara.
- D. Pendapatan perkapita suatu negara tercermin dari produktivitas dalam bentuk barang dan jasa.

41. Dalam teori tektonik lempeng, benua Amerika dan Afrika dahulu merupakan satu kesatuan yang kemudian terpisah, teori tersebut dikemukakan oleh ....

- A. Alfred Riadle
- B. Alfred Weber
- C. Alfred Wegener
- D. Alfred Kepler

42. Perhatikan peta berikut!



Berdasarkan peta di atas, benua yang terletak/diapit oleh Samudera Hindia dan Samudera Atlantik adalah benua ....

- A. 1-Asia  
B. 2-Eropa  
C. 3-Afrika  
D. 4-Amerika

43. Perhatikan tabel berikut!

I	II
<ul style="list-style-type: none"> <li>• Sebagian besar penduduk berkulit putih</li> <li>• Mempunyai daerah depresi yang luas</li> <li>• Sebagai pelopor penemuan iptek</li> </ul>	<ul style="list-style-type: none"> <li>• Benua terluas di dunia</li> <li>• Penghasil minyak terbesar di dunia</li> <li>• Mempunyai gunung tertinggi di dunia, Mount Everest (8.848 m)</li> </ul>
III	IV
<ul style="list-style-type: none"> <li>• Gunung tertinggi Kilimanjaro (5.895 m)</li> <li>• Mempunyai gurun terluas (Sahara)</li> <li>• Mempunyai sungai terpanjang (Nil) 6.690 m</li> </ul>	<ul style="list-style-type: none"> <li>• Pegunungan Rocky,</li> <li>• Pegunungan Andes</li> <li>• Penduduk aslinya Indian dan Eskimo</li> <li>• Adanya sungai Missisipi, Andes, Colorado</li> </ul>

Berdasarkan data pada tabel di atas, yang merupakan karakteristik benua Asia ditunjukkan oleh ....

- A. 1  
B. II  
C. III  
D. IV

44. Tahap-tahap operasi militer yang direncanakan Komando Mandala pembebasan Irian Barat sebagai berikut.

- (1) Rehabilitasi
- (2) Eksploitasi
- (3) Konsolidasi
- (4) Infiltrasi

Urutan tahapan operasi militer pembebasan Irian Barat yang benar adalah ....

- A. 1, 2, dan 3  
B. 2, 3, dan 4  
C. 3, 2, dan 1  
D. 4, 2, dan 3

45. Pada dasarnya tujuan gerakan G 30 S/PKI 1965 adalah ....

- A. merebut kekuasaan yang sah  
B. menguji kekuatan ABRI  
C. menakut-nakuti rakyat Indonesia  
D. mengadu domba antara rakyat dengan ABRI

46. Perhatikan pernyataan berikut!

- (1) Pemerintah tidak mengambil tindakan yang tegas terhadap PKI yang telah melakukan pengkhianatan terhadap bangsa dan negara.
- (2) Kondisi ekonomi yang memburuk.
- (3) Harga-harga membumbung tinggi.
- (4) Konfrontasi dengan Malaysia.
- (5) Indonesia keluar dari keanggotaan PBB.

Berdasarkan pernyataan di atas, yang melatarbelakangi dikeluarkannya Tritura tercantum pada angka ....

- A. 1, 2, dan 3  
B. 1, 3, dan 5  
C. 2, 4, dan 5  
D. 3, 4, dan 5

47. Penyebab runtuhnya Orde Baru dan lahirnya Orde Reformasi adalah ....

- A. tuntutan mahasiswa supaya Presiden Soeharto mundur dari jabatannya  
B. masalah keamanan yang tidak kondusif  
C. adanya dwifungsi ABRI  
D. adanya krisis moneter pada tahun 1997 dan kondisi ekonomi terus memburuk

48. Arti penting Konferensi Asia Afrika bagi Indonesia adalah mendapat dukungan ....

- A. internasional dalam mengatasi pertikaian dengan Malaysia  
B. dunia internasional dalam menyelesaikan Irian Barat  
C. PBB dalam penyelenggaraan ASEAN Games di Indonesia  
D. dunia internasional dalam menyelesaikan Timor Timur

49. Perhatikan pernyataan berikut!

- (1) Perubahan mengarah ke hal positif.
- (2) Penggunaan teknologi yang canggih.
- (3) Terbuka untuk kerjasama antar bangsa.
- (4) Mengarah ke arah individualisme.
- (5) Selalu menerima kritik yang membangun.
- (6) Berorientasi kepada masa depan.

Berdasarkan pernyataan tersebut di atas, ciri-ciri globalisasi ditunjuk oleh nomor ....

- |                |                |
|----------------|----------------|
| A. 1, 2, dan 3 | C. 3, 4, dan 5 |
| B. 1, 2, dan 6 | D. 4, 5, dan 6 |

50. Perhatikan data berikut!

- (1) PBB
- (2) ASEAN
- (3) IMF
- (4) World Bank
- (5) NATO
- (6) MEE

Berdasarkan data di atas, yang termasuk badan kerja sama internasional di bidang ekonomi adalah nomor ....


- |            |            |
|------------|------------|
| A. 1 dan 2 | C. 3 dan 4 |
| B. 2 dan 4 | D. 5 dan 6 |

# KUNCI JAWABAN

---



- |       |       |       |       |       |
|-------|-------|-------|-------|-------|
| 1. B  | 11. D | 21. A | 31. C | 41. C |
| 2. A  | 12. B | 22. B | 32. A | 42. C |
| 3. C  | 13. C | 23. D | 33. C | 43. B |
| 4. A  | 14. A | 24. A | 34. B | 44. D |
| 5. D  | 15. A | 25. C | 35. B | 45. A |
| 6. C  | 16. C | 26. A | 36. D | 46. A |
| 7. B  | 17. B | 27. B | 37. B | 47. D |
| 8. A  | 18. B | 28. D | 38. B | 48. B |
| 9. B  | 19. B | 29. D | 39. A | 49. A |
| 10. C | 20. D | 30. B | 40. C | 50. C |



# PENDIDIKAN PANCASILA

## Sekolah Menengah Pertama

1. Di bawah ini yang *bukan* termasuk dalam isi UUD 1945 yang pertama adalah ....
  - A. pembukaan
  - B. batang tubuh
  - C. penjelasan
  - D. penutup
2. Hak Asasi Manusia (HAM) adalah hak dasar atau hak pokok yang dimiliki oleh setiap manusia sejak lahir merupakan ....
  - A. peninggalan nenek moyang
  - B. pemberian dari negara
  - C. tumbuh secara alami
  - D. anugerah dari Tuhan Yang Maha Esa
3. Salah satu instrumen HAM di Indonesia adalah ....
  - A. Undang-Undang No. 22 Tahun 1999
  - B. Ketetapan MPR No. III/MPR/2000
  - C. Undang-Undang No. 39 Tahun 1999
  - D. Garis-Garis Besar Haluan Negara
4. Setiap orang memiliki hak untuk memilih pendidikan sesuai dengan minatnya. Pernyataan tersebut merupakan contoh hak asasi manusia dalam bidang ....
  - A. sosial budaya
  - B. politik
  - C. ekonomi
  - D. hukum
5. Contoh bentuk penghormatan terhadap hak asasi orang lain adalah ....
  - A. tidak mengganggu orang yang sedang beribadah
  - B. membantu fakir miskin dan anak-anak terlantar
  - C. memberikan sumbangan korban bencana alam
  - D. membiayai anak yang putus sekolah
6. Maksud kemerdekaan berserikat dan berkumpul yang tertuang dalam pasal 28 UUD 1945, adalah ....
  - A. kebebasan yang sesuai dengan kemauan sendiri
  - B. kebebasan untuk berorganisasi sesuai dengan undang-undang yang berlaku
  - C. adanya kebebasan yang melindungi keinginan pemerintah yang berkuasa
  - D. adanya kebebasan dan perlindungan hukum bagi seluruh rakyat Indonesia
7. Salah satu dampak positif kebebasan mengeluarkan pendapat secara lisan maupun tulisan adalah ....
  - A. membiasakan masyarakat untuk berpikir positif
  - B. menyiapkan para demonstran yang pandai berunjuk rasa
  - C. membiasakan Polri siap dengan berbagai kerusuhan
  - D. memenuhi tuntutan agar Indonesia diterima di forum internasional
8. Di bawah ini adalah bentuk-bentuk penyampaian pendapat di muka umum dengan cara lain seperti ....
  - A. siaran radio, TV, dan media cetak
  - B. mogok makan, mogok bicara, dan mogok kerja
  - C. unjuk rasa, mimbar bebas, siaran TV
  - D. media cetak, media elektronik, pidato
9. Suatu kaidah yang digunakan sebagai standar ukuran dalam berbuat atau bertindak dinamakan ....
  - A. kebiasaan
  - B. norma
  - C. ketentuan
  - D. adat

10. Yang *bukan* merupakan fungsi hukum adalah ....
- menjamin kepastian hukum
  - menjamin keadilan sosial
  - sebagai pengayoman
  - sebagai semboyan saja
11. Contoh penerapan norma dalam lingkungan sekolah adalah ....
- setiap naik kendaraan bermotor harus memakai helm
  - mematuhi dan menaati perintah dari orangtua
  - memakai seragam sekolah sesuai ketentuan
  - membantu meringankan pekerjaan orangtua
12. Proklamasi Kemerdekaan Indonesia mempunyai makna sebagai ....
- jembatan emas dan titik kulminasi perlawanan fisik bangsa Indonesia dalam melawan penjajah
  - awal perjuangan bangsa Indonesia
  - negara yang merdeka
  - negara bekas jajahan bangsa lain
13. Di bawah ini yang *bukan* merupakan hasil sidang Panitia Persiapan Kemerdekaan Indonesia (PPKI) tanggal 18 Agustus 1945 adalah ....
- menetapkan UUD
  - memilih Ir. Soekarno sebagai presiden dibantu oleh Drs. Moh. Hatta menjadi wakil presiden
  - sebelum MPR terbentuk, pekerjaan presiden dibantu oleh Komite Nasional Indonesia Pusat (KNIP)
  - mengangkat para menteri
14. Berikut merupakan contoh sikap positif terhadap makna proklamasi kemerdekaan adalah ....
- menunggu perintah dari negara untuk menyerang negara musuh
  - menjadi pengemis untuk menyambung hidup
  - belajar giat guna memajukan pendidikan bangsa
  - berani menentang kebijakan yang lebih populis
15. Tata urutan peraturan perundang-undangan setingkat lebih rendah dari UUD 1945 dalam sistem pemerintahan Indonesia adalah ....
- Undang-Undang/Perppu
  - Peraturan Pemerintah
  - Peraturan Presiden
  - Peraturan Daerah
16. Lembaga pembuat undang-undang adalah ....
- Presiden bersama MPR
  - DPR bersama MPR
  - Presiden bersama DPR
  - Presiden dan DPD
17. Membayar pajak tepat waktu, memiliki SIM saat mengendarai kendaraan bermotor merupakan contoh penerapan sikap ....
- mematuhi perundangan yang berlaku
  - menghargai diri sendiri
  - melaksanakan kehendak hati
  - mendukung pemerintah
18. Untuk mewujudkan penyelenggaraan negara yang bersih dan bebas korupsi, kolusi, dan nepotisme, presiden selaku kepala negara telah membentuk ....
- Komisi Pemeriksa Kekayaan Pejabat Negara (KPKPN)
  - Komisi Pemilihan Umum (KPU)
  - Komisi Nasional Hak Asasi Manusia (KOMNAS HAM)
  - Komisi Pemberantasan Korupsi (KPK)
19. Contoh perbuatan korupsi seperti berikut, *kecuali* ....
- pemberian dispensasi
  - pemberian upeti
  - pemberian komisi
  - penyuapan
20. Di bawah ini yang *bukan* merupakan keikutsertaan warga negara dalam upaya bela negara adalah ....
- adanya pendidikan kewarganegaraan
  - latihan dasar kemiliteran

- C. pengabdian sesuai profesi  
D. pengabdian ketika diperlukan
21. Bentuk penyelenggaraan keikutsertaan warga negara dalam upaya pembelaan negara bagi para siswa terutama melalui ....
- pendidikan kewarganegaraan
  - latihan dasar kemiliteran
  - pengabdian sebagai TNI secara sukarela atau wajib
  - pengabdian sesuai profesi
22. Contoh partisipasi pelajar dalam bela negara adalah ....
- mengikuti lomba olimpiade sains sebagai duta bangsa Indonesia
  - setiap saat untuk berjuang melawan musuh
  - berjuang melawan penjajah
  - mengasai ilmu kemiliteran
23. Kesatuan masyarakat hukum yang mempunyai batas wilayah tertentu yang berwenang mengatur dan mengurus kepentingan masyarakat setempat menurut prakarsa sendiri dinamakan ....
- daerah administrasi
  - daerah otonom
  - otonomi daerah
  - pemerintahan daerah
24. Pelaksanaan otonomi daerah untuk daerah provinsi dijalankan oleh ....
- bupati bersama-sama dengan DPR Provinsi
  - gubernur bersama-sama dengan DPR kabupaten
  - bupati bersama-sama dengan DPR Kabupaten
  - gubernur bersama-sama dengan DPR Provinsi
25. Berikut yang *bukan* merupakan tujuan pemberian otonomi daerah kepada daerah adalah ....
- peningkatan pelayanan dan kesejahteraan masyarakat yang semakin baik
  - untuk memperbanyak daerah kabupaten dan kota di daerah
  - untuk mengembangkan kehidupan yang demokratis
  - mendorong untuk memberdayakan masyarakat
26. Demokrasi adalah merupakan pemerintahan rakyat. Hal ini termasuk ke dalam ....
- prinsip demokrasi
  - hakikat demokrasi
  - bentuk demokrasi
  - sistem demokrasi
27. Dua prinsip utama dalam demokrasi adalah ....
- kebebasan persamaan
  - adanya kedaulatan rakyat
  - pemerintahan dan pelantikan wakil rakyat terpilih
  - mewujudkan persatuan dan kesatuan bangsa
28. Di bawah ini contoh penerapan budaya demokrasi oleh para pelajar dalam kehidupan bernegara adalah ....
- tidak melakukan korupsi, kolusi, dan nepotisme
  - selalu memperhatikan kehendak dan aspirasi rakyat
  - tidak pernah melakukan kesalahan
  - menaati hukum dan peraturan yang berlaku
29. Pancasila sebagai ideologi negara mengandung arti ....
- Pancasila merupakan seperangkat gagasan tentang cita-cita bangsa yang ingin dicapai
  - Pancasila digunakan sebagai dasar untuk mengatur penyelenggaraan negara
  - Pancasila sudah dikenal sejak dahulu dan digali dari bumi Indonesia
  - Pancasila memberi corak yang khas bagi bangsa Indonesia
30. Berikut yang *bukan* cerminan dari nilai-nilai Pancasila dalam perilaku sosial budaya bangsa Indonesia adalah ....
- menghargai setiap karya orang lain
  - mengakui adanya pengaruh budaya luar
  - mengakui adanya persamaan derajat

- D. menerima setiap perbedaan baik adat istiadat, budaya, atau kebiasaan
31. Contoh sikap positif yang perlu ditunjukkan setiap warga negara terhadap Pancasila dalam kehidupan bernegara adalah ....
- memahami nilai Pancasila menurut persepsi sendiri
  - mengamalkan nilai Pancasila sesuai dengan fungsi dan tujuannya
  - mempelajari nilai Pancasila sebatas ilmu pengetahuan
  - melindungi Pancasila dari berbagai ancaman jika diminta negara
32. Peran serta warga masyarakat dalam upaya mempertahankan Pancasila dapat diwujudkan dalam kehidupan sehari-hari. Perwujudan dalam kehidupan sehari-hari dalam lingkungan masyarakat antara lain ....
- belajar dengan baik untuk meraih prestasi
  - menghormati guru, karyawan, dan sesama teman
  - mengembangkan sikap toleransi antar umat beragama
  - senantiasa untuk berperilaku sederhana
33. Konstitusi pertama yang berlaku di Indonesia adalah ....
- Undang-Undang Dasar 1945
  - Undang-Undang Dasar Republik Indonesia Serikat 1949
  - Undang-Undang Dasar Sementara 1950
  - Piagam Jakarta
34. Bukti penyimpangan terhadap UUD 1945 pada periode 1959-1966 adalah ....
- pemberlakuan UUDS
  - berlakunya sistem parlementer
  - pembubaran konstituante
  - pengangkatan presiden seumur hidup
35. Salah satu hasil perubahan UUD 1945 adalah ...
- kekuasaan presiden di bawah MPR
  - DPR memiliki kekuasaan eksekutif
  - pemilihan presiden secara langsung
  - adanya lembaga DPD yang dipilih oleh DPR
36. Berikut yang *bukan* merupakan sikap positif dalam menyikapi amandemen UUD 1945, yaitu ...
- menjadi masyarakat yang serba tergantung pada pemerintah
  - memenuhi tanggung jawab personal kewarganegaraan dalam berbagai bidang kehidupan
  - menghormati harkat dan martabat kemanusiaan
  - berpartisipasi dalam urusan-urusan kewarganegaraan secara efektif dan bijaksana
37. Makna kedaulatan rakyat adalah ....
- rakyat sebagai pemilik kekuasaan tertinggi
  - adanya kekuasaan untuk menentukan nasibnya sendiri
  - terciptanya kebebasan untuk melakukan berbagai kepentingan
  - terselenggaranya berbagai program tanpa bantuan pihak lain
38. Lembaga negara sebagai pelaksana kedaulatan rakyat yang berperan dalam mengawasi jalannya pelaksanaan perundang-undangan adalah ....
- eksekutif
  - legislatif
  - yudikatif
  - eksaminatif
39. Salah satu pelaksanaan sikap positif rakyat sebagai pemegang kedaulatan dilaksanakan secara langsung melalui ....
- ikut berkampanye dalam pemilu
  - memberikan suara dalam pemilu
  - berkunjung ke pemerintahan desa
  - bertanya kepada anggota DPD bagaimana cara membuat peraturan desa
40. Globalisasi adalah suatu proses tatanan kehidupan masyarakat yang mendunia dan dalam pelaksanaannya ....
- tidak dapat dibatasi oleh siapapun
  - kurang dapat dikontrol kemana arahnya
  - tidak mengenal batas wilayah
  - mengarah pada satu titik tertentu

41. Pentingnya globalisasi bagi kita sebagai bangsa dan negara yang sedang berkembang adalah ....
- menjadi sasaran negara maju
  - mengeksport produk-produk dalam negeri
  - dapat mengambil manfaat dari kemajuan negara maju
  - dapat memanfaatkan hasil-hasil dari negara maju
42. Mengembangkan politik luar negeri bebas aktif yang seiring dengan era globalisasi ialah dengan cara ....
- ikut campur urusan negara lain
  - bebas tidak ikut campur tangan dalam urusan perdamaian
  - ikut membantu menyelesaikan konflik
  - memberikan bantuan senjata terhadap negara yang sedang bertikai
43. Yang *bukan* merupakan dampak globalisasi yang bernilai negatif pada bidang sosial budaya di antaranya ....
- berdandan ala barat
  - bergaya hidup konsumtif
  - munculnya Lembaga Swadaya Masyarakat (LSM)
  - sikap hedonisme
44. Dalam rangka mengantisipasi dampak dari perdagangan bebas maka dilakukan dengan cara ....
- kerja sama dengan negara maju
  - mengganti sistem ekonomi yang baru
  - menumbuhkan jiwa nasionalisme dan patriotisme
  - menjalankan sistem ekonomi berdikari tanpa kerjasama dengan negara maju
45. Salah satu manfaat yang kita peroleh apabila kita menggali dan mengenali potensi diri adalah ....
- dapat mengembangkan potensi yang positif
  - kita akan menjadi orang yang sukses
  - kita akan terhindar dari segala permasalahan
  - akan menjadi orang yang kaya raya
46. Kecerdasan yang berakitan dengan keyakinan dan nilai-nilai ajaran agama yang dianut adalah ....
- kecerdasan intelektual
  - kecerdasan emosional
  - kecerdasan spiritual
  - kecerdasan sosial
47. Prestasi seseorang akan semakin bermakna apabila ....
- dilandasi keimanan yang kuat terhadap Tuhan Yang Maha Esa
  - didukung oleh seluruh anggota keluarga
  - didukung oleh banyak kelompok
  - didukung dana dan fasilitas yang banyak
48. Salah satu cara berprestasi dalam berbagai bidang kehidupan adalah ....
- mengikuti arus mode yang berkembang agar tidak ketinggalan
  - mampu menghadapi dan mengatasi tantangan jaman
  - memiliki semangat kerja untuk mencari kepuasan diri
  - menerima kenyataan yang terjadi dan tidak banyak menuntut
49. Di antara faktor keberhasilan seseorang dapat meraih prestasi secara maksimal adalah ....
- mampu menemukan potensi yang dimiliki
  - mampu mengetahui kelebihan orang lain
  - menemukan kelemahan orang lain
  - bekerja keras dan diiringi dengan doa
50. Jika pengambil kebijakan publik tidak melibatkan masyarakat, maka yang terjadi adalah ....
- perumusan kebijakan publik tidak memenuhi hak-hak rakyat secara menyeluruh
  - perumusan kebijakan publik mendapat pujian dari segenap warga
  - perumusan kebijakan publik patut ditanyakan keabsahannya
  - perumusan kebijakan publik benar-benar didambakan oleh warga masyarakat

# KUNCI JAWABAN

---



- |       |       |       |       |       |
|-------|-------|-------|-------|-------|
| 1. C  | 11. C | 21. A | 31. B | 41. C |
| 2. D  | 12. A | 22. A | 32. C | 42. C |
| 3. C  | 13. D | 23. B | 33. A | 43. C |
| 4. A  | 14. C | 24. D | 34. D | 44. C |
| 5. A  | 15. A | 25. B | 35. C | 45. A |
| 6. B  | 16. C | 26. B | 36. A | 46. C |
| 7. A  | 17. A | 27. A | 37. A | 47. A |
| 8. B  | 18. D | 28. D | 38. B | 48. B |
| 9. B  | 19. A | 29. A | 39. B | 49. D |
| 10. D | 20. D | 30. B | 40. C | 50. A |

